

CG Pre B.ed Question Paper held on 11 June 2026-exam

PART-I

General Mental Ability

सामान्य मानसिक योग्यता

1. It is given that

\times denotes greater than,

ϕ denotes equal to,

$<$ denotes not less than,

\perp denotes not equal to,

Δ denotes less than,

$+$ denotes not greater than.

Choose the correct statement from the following-

If $a \times b \Delta c$ it follows that-

A. $a \phi c \Delta b$

B. $b < a \times c$

C. $a < b + c$

D. $c + b < a$

1. यह दिया गया है कि,

\times 'से बड़ा है' के चिन्ह को निरूपित करता है।

ϕ 'के बराबर' को निरूपित करता है।

$<$ 'से छोटा नहीं' को निरूपित करता है।

\perp 'के बराबर नहीं' को निरूपित करता है।

Δ 'से छोटा' को निरूपित करता है।

$+$ 'से बड़ा नहीं' को निरूपित करता है।

सही विकल्प चुनें-

यदि $a \times b \Delta c$ है, तो-

A. $a \phi c \Delta b$

B. $b < a \times c$

C. $a < b + c$

D. $c + b < a$

2. Direction - For the below Assertion [As] and Reason [R], choose the correct alternative-

Assertion [As] : Moon cannot be used as a satellite for communication.

Reason [R] : Moon does not move in the equatorial plane of the earth.

A. Both [As] and [R] are true, and [R] is the correct explanation of [As].

B. Both [As] and [R] are true, but [R] is not the correct explanation of [As].

C. [As] is true, but [R] is false.

D. [As] is false, but [R] is true.

2. निर्देश - नीचे दिए गए कथन [As] और कारण [R] के लिए सही विकल्प चुनिए-

कथन [As] : चंद्रमा को संचार के लिए उपग्रह के रूप में उपयोग नहीं किया जा सकता है।

कारण [R] : चंद्रमा पृथ्वी के भूमध्य-रेखीय तल में गति नहीं करता है।

A. [As] और [R] दोनों सत्य हैं, और [R], [As] की सही व्याख्या है।

B. [As] और [R] दोनों सत्य हैं, लेकिन [R], [As] की सही व्याख्या नहीं है।

C. [As] सत्य है, लेकिन [R] असत्य है।

D. [As] असत्य है, लेकिन [R] सत्य है।

**Test
Prime**

By Adda247

ALL EXAMS, ONE SUBSCRIPTION



Test. Analyze. Improve. Repeat.



Don't just prepare. Perform.

Test Prime — built only for mock tests.



1,50,000+
Mock Tests



25,000+
Previous Year Papers



800+
Exam Covered



500% Refund
on Selection



5 lakh+
Free Quizzes



Daily
Free PDFs



Job Alerts
Stay Updated

- Multilingual
- Detailed Solution
- Strong and Weak Areas



**All India
Rankings**

Compete with lakhs.
Rank. Improve. Repeat.



← Adda247 test prime

Rating ▾

Editors' choice

New



Adda247 Test Prime
Adda Education • Education
Installed



DOWNLOAD THE APP



3. Arrange the following in a meaningful order-

Doctor, Fever, Medicine, Medical shop

- A. Medicine, Doctor, Medical shop, Fever
- B. Doctor, Medical shop, Medicine, Fever
- C. Fever, Doctor, Medical shop, Medicine
- D. Medical shop, Medicine, Fever, Doctor

3. दिए गए शब्दों को सही क्रम में व्यवस्थित करें-

डॉक्टर, बुखार, दवाई, दवा की दुकान

- A. दवाई, डॉक्टर, दवा की दुकान, बुखार
- B. डॉक्टर, दवा की दुकान, दवाई, बुखार
- C. बुखार, डॉक्टर, दवा की दुकान, दवाई
- D. दवा की दुकान, दवाई, बुखार, डॉक्टर

4. In the following sequence find the odd one out-

- A. Eyes
- B. Nose
- C. Eat
- D. Oats

4. निम्नलिखित श्रेणी में विषम (असंगत) पद की पहचान कीजिए-

- A. आइज़
- B. नोज़
- C. ईट
- D. ओट्स

5. Which is the missing number in the given number sequence?

7, 15, 32, -----, 138, 281

- A. 15
- B. 67
- C. 77
- D. 87

5. दिए गए संख्या शृंखला में कौन-सी संख्या अनुपस्थित है?

7, 15, 32, -----, 138, 281

- A. 15
- B. 67
- C. 77
- D. 87

Space For Rough Work / रफ कार्य के लिये जगह

6. Find the next term in the alpha-numeric series-

Z1A, X2D, V6G, T21J, R88M, P445P, ?

- A. N2676S
- B. N2676T
- C. T2670N
- D. T2676N

6. नीचे दी गई अक्षरांकीय श्रेणी का अगला पद ज्ञात कीजिए-

Z1A, X2D, V6G, T21J, R88M, P445P, ?

- A. N2676S
- B. N2676T
- C. T2670N
- D. T2676N

7. If OVER is coded as QYIW and UP as WS, then STAR is coded as-

- A. UWEV
- B. UWDV
- C. UVBS
- D. UWEW

7. यदि OVER को QYIW और UP को WS के रूप में कूटित/सांकेतिक किया गया है, तो STAR को किस रूप में कूटित/सांकेतिक किया जाएगा?

- A. UWEV
- B. UWDV
- C. UVBS
- D. UWEW

8. Raipur University presently employs three managers – 'a', 'b' and 'c' and five faculty members – 'd', 'e', 'f', 'g', 'h' and is planning to relocate two managers and three faculty members to the new centre. Following information was available to the HR department.

(K) Manager 'a' & 'c' cannot be sent as a team to the new centre.

(L) 'c' & 'e' are excellent performers, though they do not share good rapport and hence should not be sent together.

(M) If 'd' is sent, then 'g' cannot be sent, and vice versa.

(N) 'd' & 'f' should not be together in a team.

Which of the following cannot be a possible working unit?

A. $a \rightarrow b \rightarrow d \rightarrow e \rightarrow h$

B. $a \rightarrow b \rightarrow f \rightarrow g \rightarrow h$

C. $a \rightarrow b \rightarrow e \rightarrow g \rightarrow h$

D. $a \rightarrow b \rightarrow d \rightarrow g \rightarrow h$

8. रायपुर विश्वविद्यालय में वर्तमान में तीन प्रबंधक – 'a', 'b' और 'c' तथा पाँच अध्यापक 'd', 'e', 'f', 'g' और 'h' कार्यरत है, इनमें से दो प्रबंधकों तथा तीन अध्यापकों को नए केंद्र में स्थानांतरित करने का प्रस्ताव है। रायपुर विश्वविद्यालय के मानव संसाधन (HR) विभाग को निम्नलिखित सूचनाएँ प्राप्त है:

(K) प्रबंधक 'a' और 'c' को एक ही टीम में नहीं भेजा जा सकता।

(L) 'c' और 'e' दोनों उत्कृष्ट कार्यकर्ता हैं, किंतु उनके बीच अच्छा तालमेल नहीं है, अतः उन्हें साथ में नहीं भेजा जाना चाहिए।

(M) यदि 'd' को भेजा जाता है तो 'g' को नहीं भेजा जा सकता और इसके विपरीत भी यही लागू होगा।

(N) 'd' और 'f' को एक ही टीम में सम्मिलित नहीं किया जाना चाहिए।

निम्नलिखित में से कौन-सा कार्यदल (टीम) संभव नहीं हो सकता है?

A. $a \rightarrow b \rightarrow d \rightarrow e \rightarrow h$

B. $a \rightarrow b \rightarrow f \rightarrow g \rightarrow h$





C. $a \rightarrow b \rightarrow e \rightarrow g \rightarrow h$

D. $a \rightarrow b \rightarrow d \rightarrow g \rightarrow h$

9. Match the following-

Column-I

Column-II

- (a) Women, Mothers, Widows (I) 
- (b) Authors, Teachers, Men (II) 
- (c) Sparrows, Birds, Mice (III) 
- (d) Tea, Coffee, Beverages (IV) 

Choose the correct answer from the options given below-

- A. a-IV, b-I, c-II, d-III
 B. a-I, b-II, c-III, d-IV
 C. a-IV, b-III, c-II, d-I
 D. a-I, b-IV, c-III, d-II

10. In this question three words are given which are related in some way. The same relationship obtains among the words in one of the four alternatives given under it, find the correct alternative-





Music : Guitar : Performer

- A. Dance : Tune : Instrument
 B. Food : Recipe : Cook
 C. Patient : Medicine : Doctor
 D. Trick : Rope : Acrobat

9. निम्नलिखित को सुमेलित कीजिए-

कॉलम-I

कॉलम-II

- (a) औरतें, माताएँ, विधवाएँ (I) 
- (b) लेखक, शिक्षक, पुरुष (II) 
- (c) गौरिया, पक्षी, चूहे (III) 
- (d) चाय, कॉफी, पेय (IV) 

नीचे दिए गए विकल्पों में से सही उत्तर चुनें-

- A. a-IV, b-I, c-II, d-III
 B. a-I, b-II, c-III, d-IV
 C. a-IV, b-III, c-II, d-I
 D. a-I, b-IV, c-III, d-II

10. इस प्रश्न में तीन शब्द दिए गए हैं जिनके मध्य किसी विशेष प्रकार का संबंध है, वही संबंध नीचे दिए गए चार विकल्पों में से एक में दिए गए शब्दों के मध्य है। सही विकल्प का चयन कीजिए-

संगीत : गिटार : कलाकार

- A. नृत्य : धुन : वाद्य
 B. भोजन : बनाने की विधि : भोजन बनाना
 C. रोगी : दवाई : चिकित्सक
 D. ट्रिक : रस्सी : कलाबाज

11. P, Q, R, S, T, V and W are seven friends who left for seven destinations: Delhi, Chennai, Hyderabad, Bangalore, Kolkata, Chandigarh and Jaipur, each on a different day of the week-

- (K) R left for Jaipur on Monday. On Sunday, one of them left for Bangalore.
- (L) T left the next day of P who left for Chandigarh and on the previous day of W.
- (M) S left for Kolkata on Friday.
- (N) Q did not leave for either Hyderabad or Bangalore and W left for Delhi.

What is the correct sequence of departure of the friends from Monday to Sunday?

- A. R → P → T → W → S → Q → V
- B. R → T → P → W → S → Q → V
- C. R → W → P → T → S → V → Q
- D. R → W → T → P → S → V → Q

12. In the series given below how many 8s are there each of which is exactly divisible by its preceding as well as succeeding numbers?

2, 8, 3, 8, 2, 4, 8, 2, 4, 8, 6, 8, 2, 8, 2, 4, 8, 3, 8, 2, 8, 6

- A. 1
- B. 2
- C. 3
- D. 4

11. P, Q, R, S, T, V और W सात मित्र हैं, जो सात अलग-अलग स्थानों- दिल्ली, चेन्नई, हैदराबाद, बैंगलोर, कोलकाता, चंडीगढ़ और जयपुर के लिए सप्ताह के सात अलग-अलग दिनों में गए-

- (K) R सोमवार को जयपुर के लिए गया। रविवार को उनमें से एक व्यक्ति बैंगलोर के लिए गया।
- (L) T, P के अगले दिन गया, जबकि P चंडीगढ़ के लिए गया था, और W, T के अगले दिन गया।
- (M) S शुक्रवार को कोलकाता के लिए गया।
- (N) Q न तो हैदराबाद और न ही बैंगलोर के लिए गया, तथा W दिल्ली के लिए गया।

सोमवार से रविवार तक मित्रों के प्रस्थान (जाने) का सही क्रम क्या होगा?

- A. R → P → T → W → S → Q → V
- B. R → T → P → W → S → Q → V
- C. R → W → P → T → S → V → Q
- D. R → W → T → P → S → V → Q

12. नीचे दी गई श्रेणी में कितने 8 हैं जिनमें से प्रत्येक अपने आगे आने वाले तथा पहले आने वाले अंक से पूर्णतः विभाजित है?

2, 8, 3, 8, 2, 4, 8, 2, 4, 8, 6, 8, 2, 8, 2, 4, 8, 3, 8, 2, 8, 6

- A. 1
- B. 2
- C. 3
- D. 4

13. Two statements are given followed by four conclusions J, K, L, M taking statements to be true even if they are at variance from the commonly known facts. Decide which conclusion logically follows from the given statement.

Statement: Some bottles are drinks.
All drinks are cups.

- (J) Some bottles are cups
(K) Some cups are drinks
(L) All drinks are bottles
(M) All cups are drinks

Choose the correct option-

- A. Only J and K follow.
B. Only K and L follow.
C. Only K and M follow.
D. Only L and M follow.

14. Direction - For the below Assertion [As] and Reason [R], choose the correct alternative-

Assertion [As] : Mercury is the farthest planet from the Sun.
Reason [R] : Mercury is the smallest planet in the entire solar system.

- A. Both [As] and [R] are true, and [R] is the correct explanation of [As].
B. Both [As] and [R] are true, but [R] is not the correct explanation of [As].
C. [As] is true, but [R] is false.
D. [As] is false, but [R] is true.

13. नीचे दो कथन दिए गए हैं, जिनके बाद J, K, L तथा M निष्कर्ष दिए गए हैं। कथनों को सत्य मानते हुए, भले ही वे सामान्यतः ज्ञात तथ्यों से भिन्न हों, यह निर्धारित कीजिए कि कौन-से निष्कर्ष कथनों से तार्किक रूप से अनुसरण करते हैं।

कथन : कुछ बोतलें पेय हैं।
सभी पेय कप हैं।

- (J) कुछ बोतलें कप हैं।
(K) कुछ कप पेय हैं।
(L) सभी पेय बोतलें हैं।
(M) सभी कप पेय हैं।

सही विकल्प चुनें-

- A. केवल J और K अनुसरण करते हैं।
B. केवल K और L अनुसरण करते हैं।
C. केवल K और M अनुसरण करते हैं।
D. केवल L और M अनुसरण करते हैं।

14. निर्देश - नीचे दिए गए कथन [As] और कारण [R] के लिए सही विकल्प चुनिए-

कथन [As] : बुध ग्रह सूर्य से सबसे दूर है।

कारण [R] : बुध सौर मंडल का सबसे छोटा ग्रह है।

- A. [As] और [R] दोनों सत्य हैं, और [R], [As] की सही व्याख्या है।
B. [As] और [R] दोनों सत्य हैं, लेकिन [R], [As] की सही व्याख्या नहीं है।
C. [As] सत्य है, लेकिन [R] असत्य है।
D. [As] असत्य है, लेकिन [R] सत्य है।

15. If the first and fifth position of the numbers 5, 3, 2, 6, 4, 1, 8, 9 are exchanged and the positions of the second and sixth numbers are also exchanged and so on. Find the sixth number from the right of the rearranged pattern-

- A. 2
- B. 4
- C. 6
- D. 8

15. संख्या (5,3) 2, 6 (4,1), 8, 9 में पहले और पाँचवें अंक का स्थान परस्पर बदला जाता है तथा इसी तरह दूसरे और छठे अंक और उसके बाद भी अंकों का स्थान परस्पर बदला जाता है। पुनर्व्यवस्था के बाद दाएं से छठा अंक निम्नलिखित में से कौन सा है?

- A. 2
- B. 4
- C. 6
- D. 8

16. Direction - For the below Assertion [As] and Reason [R], choose the correct alternative-

Assertion [As] : The Indian Constitution came into force with effect from 26th January 1950.

Reason [R] : 26th January is celebrated as Republic Day.

- A. Both [As] and [R] are true, and [R] is the correct explanation of [As].
- B. Both [As] and [R] are true, but [R] is not the correct explanation of [As].
- C. [As] is true, but [R] is false.
- D. [As] is false, but [R] is true.

16. निर्देश - नीचे दिए गए कथन [As] और कारण [R] के लिए सही विकल्प चुनिए-

कथन [As] : भारतीय संविधान 26 जनवरी, 1950 से प्रभावी हुआ।

कारण [R] : 26 जनवरी को गणतंत्र दिवस के रूप में मनाया जाता है।

- A. [As] और [R] दोनों सत्य हैं, और [R], [As] की सही व्याख्या है।
- B. [As] और [R] दोनों सत्य हैं, लेकिन [R], [As] की सही व्याख्या नहीं है।
- C. [As] सत्य है, लेकिन [R] असत्य है।
- D. [As] असत्य है, लेकिन [R] सत्य है।

17. Direction - For the below Assertion [As] and Reason [R], choose the correct alternative-

Assertion [As] : Carbohydrates provide energy to the body.

Reason [R] : Obesity is caused by excessive intake of carbohydrates.

- A. Both [As] and [R] are true, and [R] is the correct explanation of [As].
- B. Both [As] and [R] are true, but [R] is not the correct explanation of [As].
- C. [As] is true, but [R] is false.
- D. [As] is false, but [R] is true.

17. निर्देश - नीचे दिए गए कथन [As] और कारण [R] के लिए सही विकल्प चुनिए-

कथन [As] : कार्बोहाइड्रेट शरीर को ऊर्जा प्रदान करते हैं।

कारण [R] : कार्बोहाइड्रेट के अत्यधिक सेवन से मोटापा होता है।

- A. [As] और [R] दोनों सत्य हैं, और [R], [As] की सही व्याख्या है।
- B. [As] और [R] दोनों सत्य हैं, लेकिन [R], [As] की सही व्याख्या नहीं है।
- C. [As] सत्य है, लेकिन [R] असत्य है।
- D. [As] असत्य है, लेकिन [R] सत्य है।

18. If all the surfaces of a cube of 15 cm side coloured black and then cut into the cubes of sides 3 cm each then find how many cubes will have only one surface coloured in black?

- A. 18
- B. 24
- C. 36
- D. 54

18. यदि एक 15 सेमी भुजा वाले घन की सभी सतहों को काले रंग से रंग दिया गया हो तथा इसे 3 सेमी भुजा वाले छोटे-छोटे घनों में परिवर्तित करने के लिए काट दिया गया हो, तो ऐसे कितने छोटे घन होंगे जिनकी केवल एक सतह पर काला रंग हो?

- A. 18
- B. 24
- C. 36
- D. 54

19. Match the following-

Column-I

(a, b as given in

Euclidean

Algorithm

$$a = bq + r$$

Column-II

(Values of

q and r)

- (a) $a = -112, b = -7$ (I) $q = -13, r = 1$
 (b) $a = 118, b = -9$ (II) $q = 14, r = 3$
 (c) $a = -109, b = 6$ (III) $q = -19, r = 5$
 (d) $a = 115, b = 8$ (IV) $q = 16, r = 0$

Choose the correct answer from the options given below-

- A. a-III, b-I, c-IV, d-II
 B. a-III, b-II, c-IV, d-I
 C. a-IV, b-I, c-III, d-II
 D. a-IV, b-II, c-III, d-I

19. निम्नलिखित को सुमेलित कीजिए-

कॉलम-I

(a, b जैसा कि

यूक्लिडीय एल्गोरिथ्म

में दिया गया है

$$a = bq + r$$

कॉलम-II

(q और r के मान)

- (a) $a = -112, b = -7$ (I) $q = -13, r = 1$
 (b) $a = 118, b = -9$ (II) $q = 14, r = 3$
 (c) $a = -109, b = 6$ (III) $q = -19, r = 5$
 (d) $a = 115, b = 8$ (IV) $q = 16, r = 0$
 नीचे दिए गए विकल्पों में से सही उत्तर चुनें-

- A. a-III, b-I, c-IV, d-II
 B. a-III, b-II, c-IV, d-I
 C. a-IV, b-I, c-III, d-II
 D. a-IV, b-II, c-III, d-I

20. In the following question there is a certain relationship between the given words on one side of :: and one word is given on another side of :: while another word is to be found from the given alternatives having the same relation with this word as in the pair given; find the correct option-
 Menu : Food :: Catalogue : ?

- A. Rack
 B. Newspaper
 C. Library
 D. Books

20. नीचे दिए गए प्रश्न में दो शब्द :: चिन्ह के पूर्व दिए गए हैं तथा एक शब्द :: चिन्ह के बाद दिया गया है हमें अगला शब्द दिए गए विकल्पों में से चुनना है जिसका संबंध :: चिन्ह के बाद वाले शब्द से वही होगा जो चिन्ह के पूर्व दिए गए जोड़े के मध्य है, सही विकल्प का चयन कीजिए-
 मेनू : भोजन :: सूची : ?

- A. रैक
 B. समाचार पत्र
 C. पुस्तकालय
 D. किताबें

$$\begin{array}{r} -7 \times -13 \\ +91 \\ \hline 114 + 1 = \end{array}$$

21. A, B, C, D, E, F and G are members of a family consisting of four adults & three childrens, two of whom F and G are girls.

- (J) A and D are brothers and A is a doctor.
- (K) E is an engineer married to one of the brothers and has two children.
- (L) B is married to D and G is their child.

Who is C?

- A. A and E's son
- B. B and D's son
- C. A and E's daughter
- D. B and D's daughter

21. A, B, C, D, E, F और G एक परिवार के सदस्य हैं, जिसमें चार वयस्क और तीन बच्चे हैं, इनमें से दो F और G लड़कियाँ हैं।

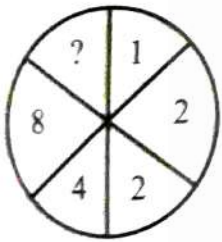
- (J) A और D भाई हैं तथा A एक डॉक्टर है।
- (K) E एक इंजीनियर है, जो इन भाइयों में से एक से विवाहित है और उसके दो बच्चे हैं।
- (L) B की शादी D से हुई है और G उसका बच्चा है।

बताइए, C कौन है?

- A. A और E का पुत्र
- B. B और D का पुत्र
- C. A और E की पुत्री
- D. B और D की पुत्री

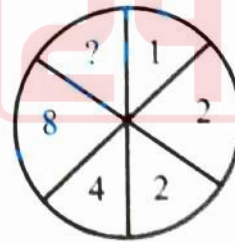
GOLF IG

22. What will be the missing term marked with [?] in the circle?



- A. 10
- B. 15
- C. 32
- D. 12

22. वृत्त में [?] द्वारा दर्शाया गया गायब पद ज्ञात कीजिए-



- A. 10
- B. 15
- C. 32
- D. 12

A -> D MATS

23. Four friends Amrita, Deepa, Smita and Rhea complete their PhD in different number of years.

- (K) The one who took maximum time took eight years to complete her PhD, while the one who took the least time took only three years to complete it.
- (L) Rhea took more time only than Amrita and completed her PhD in five years.
- (M) Smita did not take longer time than Deepa to complete her PhD.
- Arrange the names of the friends in order from the minimum to the maximum number of years taken to complete their PhD.

- A. Amrita → Rhea → Smita → Deepa
 B. Amrita → Rhea → Deepa → Smita
 C. Smita → Amrita → Rhea → Deepa
 D. Smita → Amrita → Deepa → Rhea

24. Read the following information carefully and answer the question from the given options:
 If 'A + B' means 'A' is the son of 'B',
 'A - B' means 'A' is the wife of 'B',
 'A × B' means 'A' is the brother of 'B',
 'A ÷ B' means 'A' is the mother of 'B' and 'A = B' means 'A' is the sister of 'B'.

What does 'P + R - Q' means?

- A. 'Q' is the father of 'P'
 B. 'Q' is the uncle of 'P'
 C. 'Q' is the son of 'P'
 D. 'Q' is the brother of 'P'

23. चार मित्र अमृता, दीपा, स्मिता और रिया ने अपनी पीएच.डी. पूरी करने अलग-अलग समय लिया।

(K) जिस व्यक्ति ने सबसे अधिक समय लिया, उसने अपनी पीएच.डी. पूरी करने में आठ वर्ष लगाए, जबकि जिसने सबसे कम समय लिया, उसने केवल तीन वर्ष में अपनी पीएच.डी. पूरी की।

(L) रिया ने अमृता से अधिक समय लिया और उसने अपनी पीएच.डी. पाँच वर्ष में पूरी की।

(M) स्मिता ने अपनी पीएच.डी. पूरी करने में दीपा से अधिक समय नहीं लिया।

पीएच.डी. पूर्ण करने में लगे न्यूनतम से अधिकतम वर्षों के क्रम में इन मित्रों के नामों को व्यवस्थित कीजिए।

- A. अमृता → रिया → स्मिता → दीपा
 B. अमृता → रिया → दीपा → स्मिता
 C. स्मिता → अमृता → रिया → दीपा
 D. स्मिता → अमृता → दीपा → रिया

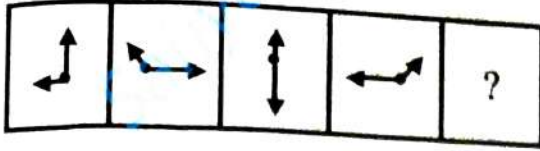
24. नीचे दी गई जानकारी को ध्यानपूर्वक पढ़कर दिए गए प्रश्न के लिए सही विकल्प का चयन करें-

'A + B' अर्थात 'A', 'B' का पुत्र है, 'A - B' अर्थात 'A', 'B' की पत्नी है, 'A × B' अर्थात 'A', 'B' का भाई है, 'A ÷ B' अर्थात 'A', 'B' की माता है, 'A = B' अर्थात 'A', 'B' की बहन है।

बताइए कि 'P + R - Q' का क्या अर्थ है?

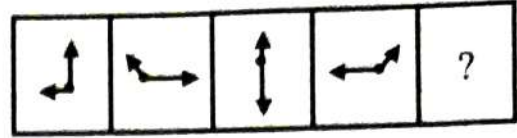
- A. 'Q', 'P' का पिता है
 B. 'Q', 'P' का चाचा है
 C. 'Q', 'P' का पुत्र है
 D. 'Q', 'P' का भाई है

25. Which is the figure pattern that comes next in the following sequence?



- A.
- B.
- C.
- D.

25. निम्नलिखित चित्र श्रेणी में अगला चित्र कौन-सा होगा?



- A.
- B.
- C.
- D.

26. Read the information given below and answer the questions that follow-

- (J) If $P + Q$ means; P is the brother of Q.
- (K) $P \times Q$ means; P is the father of Q; and
- (L) $P - Q$ means; P is the sister of Q.

Then, which of the following represents S is the niece of T?

- A. $T \times M + S - K$
- B. $K - S \times M + T$
- C. $T + M \times S - K$
- D. $T \times S + M - K$

26. नीचे दी गई जानकारी को पढ़िए और उसके बाद दिए गए प्रश्नों के उत्तर दीजिए-

- (J) यदि $P + Q$ का अर्थ है कि P, Q का भाई है;
- (K) $P \times Q$ का अर्थ है कि P, Q का पिता है; तथा
- (L) $P - Q$ का अर्थ है कि P, Q की बहन है,

तो निम्नलिखित में से कौन-सा संबंध दर्शाता है कि S, T की भतीजी है?

- A. $T \times M + S - K$
- B. $K - S \times M + T$
- C. $T + M \times S - K$
- D. $T \times S + M - K$

27. Gyan Prakash left for his college in his car-

(J) He drove 15 km towards the North and then 10 km towards the West.

(K) He then turned South and covered 5 km.

(L) Further, he turned to the East and moved 8 km.

(M) Finally, he turned right and drove 10 km.

How far and in which direction is he from his starting point?

- A. 2 km West
- B. 5 km East
- C. 3 km North
- D. 6 km South

27. ज्ञान प्रकाश अपनी कार से अपने कॉलेज के लिए निकले-

(J) उन्होंने पहले 15 किमी उत्तर दिशा में यात्रा की और फिर 10 किमी पश्चिम दिशा में चले।

(K) इसके बाद वे दक्षिण दिशा की ओर मुड़े और 5 किमी चले।

(L) फिर वे पूर्व दिशा की ओर मुड़े और 8 किमी चले।

(M) अंत में वे दाईं ओर मुड़े और 10 किमी चले। बताइए कि वे अपने प्रारंभिक बिंदु से कितनी दूरी पर और किस दिशा में हैं?

- A. 2 किमी पश्चिम
- B. 5 किमी पूर्व
- C. 3 किमी उत्तर
- D. 6 किमी दक्षिण

28. What will be the next term in the sequence?

$\frac{17}{14}, \frac{18}{13}, \frac{16}{15}, \frac{19}{12}, \frac{?}{?}, \frac{15}{16}$

- A. $\frac{20}{13}$
- B. $\frac{21}{25}$
- C. $\frac{15}{16}$
- D. $\frac{17}{18}$

28. इस श्रेणी में अगला पद क्या होगा?

$\frac{17}{14}, \frac{18}{13}, \frac{16}{15}, \frac{19}{12}, \frac{?}{?}, \frac{15}{16}$

- A. $\frac{20}{13}$
- B. $\frac{21}{25}$
- C. $\frac{15}{16}$
- D. $\frac{17}{18}$

29. Some equations have been solved based on a certain system. From the given options, write the answer of the equation that has not been solved-

$$7 - 4 - 1 = 714$$

$$9 - 2 - 3 = 932$$

$$8 - 0 - 4 = ?$$

- A. 804
- B. 840
- C. 408
- D. 480

29. किसी प्रणाली के आधार पर कुछ समीकरण हल किए गए हैं। विकल्पों में दिए गए उत्तरों में से हल न किए गए समीकरण का उत्तर लिखिए-

$$7 - 4 - 1 = 714$$

$$9 - 2 - 3 = 932$$

$$8 - 0 - 4 = ?$$

- A. 804
- B. 840
- C. 408
- D. 480

714
932
840

30. Six friends are sitting in a circle and playing cards. Ashok is to the left of Dinesh. Raghav is between Sumit and Amit. Ramesh is between Ashok and Sumit. Who is sitting to the right of Raghav?

- A. Ashok
- B. Amit
- C. Dinesh
- D. Sumit

30. छ: मित्र एक घेरे में बैठे है और ताश खेल रहे हैं। अशोक, दिनेश के बाईं ओर है। सुमीत और अमित के बीच में राघव है। अशोक और सुमीत के बीच में रमेश है। राघव के दाईं ओर कौन बैठा है?

- A. अशोक
- B. अमित
- C. दिनेश
- D. सुमीत

L R.
Ashok → Dinesh

PART-II

General Knowledge

सामान्य ज्ञान

31. In terms of chemical composition, arrange the elements found in red and yellow soils in descending order of their percentage-

- (J) Iron
- (K) Magnesium
- (L) Insoluble elements
- (M) Aluminium

Choose the correct option-

- A. $K \rightarrow L \rightarrow M \rightarrow J$
- B. $L \rightarrow J \rightarrow M \rightarrow K$
- C. $J \rightarrow K \rightarrow M \rightarrow L$
- D. $M \rightarrow J \rightarrow L \rightarrow K$

31. रासायनिक संगठन की दृष्टि से, लाल और पीली मिट्टी में पाए जाने वाले तत्वों का प्रतिशत घटते क्रम में व्यवस्थित कीजिए-

- (J) लोहा
- (K) मैग्नीशियम
- (L) अघुलनशील तत्व
- (M) एल्युमिनियम

सही विकल्प चुनें-

- A. $K \rightarrow L \rightarrow M \rightarrow J$
- B. $L \rightarrow J \rightarrow M \rightarrow K$
- C. $J \rightarrow K \rightarrow M \rightarrow L$
- D. $M \rightarrow J \rightarrow L \rightarrow K$

32. Who was the founder of 'Indian Reform Association' in 1870?

- A. Devendranath Tagore
- B. Ishwar Chandra Vidyasagar
- C. Keshab Chandra Sen
- D. Raja Ram Mohan Roy

32. 1870 में 'भारतीय सुधार संघ' के संस्थापक कौन थे?

- A. देवेन्द्रनाथ टैगोर
- B. ईश्वरचंद्र विद्यासागर
- C. केशब चन्द्र सेन
- D. राजा राम मोहन राय

33. Direction - For the below Assertion [As] and Reason [R], choose the correct alternative-
- Assertion [As] : In India, approximately 98% of the total coal production is obtained from the Gondwana coalfields.
- Reason [R] : This coalfield is found extensively distributed across the river valleys of peninsular India.
- A. Both [As] and [R] are true, and [R] is the correct explanation of [As].
- B. Both [As] and [R] are true, but [R] is not the correct explanation of [As].
- C. [As] is true, but [R] is false.
- D. [As] is false, but [R] is true.

33. निर्देश - नीचे दिए गए कथन [As] और कारण [R] के लिए सही विकल्प चुनिए-
- कथन [As] : भारत में, कुल कोयला उत्पादन का लगभग 98% गोंडवाना कोयला क्षेत्रों से प्राप्त होता है।
- कारण [R] : यह कोयला क्षेत्र प्रायद्वीपीय भारत की नदी घाटियों में विस्तृत रूप से पाया जाता है।
- A. [As] और [R] दोनों सत्य हैं, और [R], [As] की सही व्याख्या है।
- B. [As] और [R] दोनों सत्य हैं, लेकिन [R], [As] की सही व्याख्या नहीं है।
- C. [As] सत्य है, लेकिन [R] असत्य है।
- D. [As] असत्य है, लेकिन [R] सत्य है।

34. Select the Social Reformers and the institution formed by them during the Renaissance-
- (J) Theosophical society → Swami Vivekananda
- (K) Ramakrishna Mission → Raja Ram Mohan Roy
- (L) Arya Samaj → Swami Dayanand Saraswati
- (M) Aligarh Movement → Sir Syed Ahmad Khan
- Choose the correct option-
- A. J and K only
- B. L and M only
- C. J, K and M
- D. J, K and L

34. पुनर्जागरण के दौरान समाज सुधारकों एवं उनके गठित संस्थाओं का चयन कीजिए-
- (J) थियोसोफिकल सोसाइटी → स्वामी विवेकानंद
- (K) रामकृष्ण मिशन → राजा राममोहन राय
- (L) आर्य समाज → स्वामी दयानंद सरस्वती
- (M) अलीगढ़ आंदोलन → सर सैयद अहमद खाँ
- सही विकल्प चुनें-
- A. केवल J और K
- B. केवल L और M
- C. J, K और M
- D. J, K और L

35. Who translated the 'Vande Mataram' into English?

- A. Mahatma Gandhi
- B. B. C. Chatterjee
- C. Sri Aurobindo Ghosh
- D. S. C. Bose

35. 'वंदे मातरम' का अंग्रेजी में अनुवाद किसने किया था?

- A. महात्मा गांधी
- B. बी. सी. चटर्जी
- C. श्री अरविन्दो घोष
- D. एस. सी. बोस

36. Dolly the sheep, the first mammal cloned created by scientists-

- A. Team Wilmut and Campbell
- B. Team Campbell and Watson
- C. Team Watson and Crick
- D. Team Wilmut and Watson

36. वैज्ञानिकों जिन्होंने डॉली भेड़ प्रथम स्तनधारी क्लोन को तैयार किया था-

- A. विल्मुट एवं कैम्पबेल की टीम ने
- B. कैम्पबेल एवं वाटसन की टीम ने
- C. वॉटसन एवं क्रिक की टीम ने
- D. विल्मुट एवं वॉटसन की टीम ने

37. At present which of the following are conducted in Chhattisgarh State for primary education?

- (J) FLN – Foundational Literacy and Numeracy
- (K) RTE – Right to Education Act
- (L) OB – Operation Blackboard
- (M) DPEP – District-Primary Education Programme

Choose the correct option-

- A. J and M only
- B. K and M only
- C. J and K only
- D. J, K and L

37. वर्तमान में निम्नलिखित में से कौन-कौन छत्तीसगढ़ राज्य में प्राथमिक शिक्षा के लिए संचालित हैं?

- (J) FLN – बुनियादी साक्षरता एवं संख्या ज्ञान
- (K) RTE – शिक्षा का अधिकार अधिनियम
- (L) OB – ऑपरेशन ब्लैक-बोर्ड

(M) DPEP – जिला प्राथमिक शिक्षा कार्यक्रम
सही विकल्प चुनें-

- A. केवल J और M
- B. केवल K और M
- C. केवल J और K
- D. J, K और L

38. Arrange the order of cities that hosted Asian Games in chronological order-

- (K) Jakarta
- (L) Doha
- (M) Beijing
- (N) Seoul

- A. N → M → L → K
- B. L → K → M → N
- C. M → N → L → K
- D. K → L → M → N

38. एशियन गेम्स को उनके शहर में आयोजन वर्ष के कालानुक्रमिक क्रम में व्यवस्थित करें-

- (K) जकार्ता
- (L) दोहा
- (M) बिजिंग
- (N) सियोल

- A. N → M → L → K
- B. L → K → M → N
- C. M → N → L → K
- D. K → L → M → N

39. Correct sequential steps of Malaria spread-

- (K) Infected female Anopheles bites a healthy human.
- (L) Parasite invades the liver.
- (M) Fever, Shivering and feeling cold.
- (N) Parasite invades the red blood cells.
- (O) New mosquito gets infected by blood of patient.

- A. K → M → L → N → O
- B. K → N → M → L → O
- C. K → L → N → M → O
- D. K → L → M → N → O

39. मलेरिया के फैलने का सही क्रमिक अनुक्रम है-

- (K) संक्रमित मादा एनोफिलिस का स्वस्थ व्यक्ति को काटना
- (L) परजीवी का यकृत में प्रवेश
- (M) बुखार, कंपकंपी, ठंड लगना
- (N) परजीवी का लाल रक्त कोशिकाओं में प्रवेश
- (O) नए मच्छर का रोगी के रक्त से संक्रमित होना

- A. K → M → L → N → O
- B. K → N → M → L → O
- C. K → L → N → M → O
- D. K → L → M → N → O

40. The famous slogan 'Do or Die' was given by which movement?

- A. Khilafat Movement
- B. Non-Cooperation Movement
- C. Civil Disobedience Movement
- D. Quit India Movement

40. 'करो या मरो' का प्रसिद्ध नारा किस आंदोलन के द्वारा दिया गया?

- A. खिलाफत आंदोलन
- B. असहयोग आंदोलन
- C. सविनय अवज्ञा आंदोलन
- D. भारत छोड़ो आंदोलन

K L N M

41. Match the following-

Column-I
(Commission)

Column-II
(Chairman)

- | | |
|-------------------------------------|-------------------------------------|
| (a) Secondary Education Commission | (I) Dr. S. Radhakrishnan |
| (b) University Education Commission | (II) Dr. A. Lakshmanaswami Mudaliar |
| (c) Kothari Commission | (III) Dr. M. E. Sadler |
| (d) Calcutta University Commission | (IV) Daulat Singh Kothari |

Choose the correct answer from the options given below-

- A. a-I, b-II, c-III, d-IV
 B. a-II, b-I, c-IV, d-III
 C. a-I, b-II, c-IV, d-III
 D. a-IV, b-I, c-III, d-II

42. Who is called the "Grand Old Man of India"?

- A. Dadabhai Naoroji
 B. Gopal Krishna Gokhale
 C. A. O. Hume
 D. M. G. Ranade

43. Which city will host the 2026 Commonwealth Games?

- A. London
 B. Glasgow
 C. Birmingham
 D. Edinburgh

41. निम्नलिखित को सुमेलित कीजिए-

कॉलम-I
(आयोग)

कॉलम-II
(अध्यक्ष)

- | | |
|--------------------------------|------------------------------------|
| (a) माध्यमिक शिक्षा आयोग | (I) डॉ. एस. राधाकृष्णन |
| (b) विश्वविद्यालय शिक्षा आयोग | (II) डॉ. ए. लक्ष्मणस्वामी मुदलियार |
| (c) कोठारी आयोग | (III) डॉ. एम. ई. सैडलर |
| (d) कलकत्ता विश्वविद्यालय आयोग | (IV) दौलतसिंह कोठारी |

नीचे दिए गए विकल्पों में से सही उत्तर चुनें-

- A. a-I, b-II, c-III, d-IV
 B. a-II, b-I, c-IV, d-III
 C. a-I, b-II, c-IV, d-III
 D. a-IV, b-I, c-III, d-II

42. "ग्रेण्ड ओल्ड मैन ऑफ इंडिया" किसे कहते हैं?

- A. दादाभाई नौरोजी
 B. गोपाल कृष्ण गोखले
 C. ए. ओ. ह्यूम
 D. एम. जी. रानडे

43. 2026 राष्ट्रमंडल खेलों की मेजबानी कौन सा शहर करेगा?

- A. लंदन
 B. ग्लासगो
 C. बर्मिंघम
 D. एडिनबर्ग

Space For Rough Work / रफ कार्य के लिये जगह

44. Which Article contains clear directives related to the primary education?

“The State shall endeavour to provide within a period of ten years from the commencement of the Constitution for free and compulsory education for all children till the age of fourteen years.

- A. Article 41
- B. Article 42
- C. Article 46
- D. Article 45

44. प्राथमिक शिक्षा के संबंध में किस अनुच्छेद में स्पष्ट निर्देश हैं?

“राज्य, इस संविधान के लागू होने के समय से दस वर्ष के भीतर, 14 वर्ष तक की आयु के बच्चों की अनिवार्य एवं निःशुल्क शिक्षा की व्यवस्था करेगा।

- A. अनुच्छेद 41
- B. अनुच्छेद 42
- ✓ C. अनुच्छेद 46
- D. अनुच्छेद 45

45. Direction - For the below Assertion [As] and Reason [R], choose the correct alternative-

Assertion [As] : A large share of the Chhattisgarh State Budget is allocated to the social sector.

Reason [R] : The state government gives priority to welfare schemes.

- A. Both [As] and [R] are true, and [R] is the correct explanation of [As].
- B. Both [As] and [R] are true, but [R] is not the correct explanation of [As].
- C. [As] is true, but [R] is false.
- D. [As] is false, but [R] is true.

45. निर्देश - नीचे दिए गए कथन [As] और कारण [R] के लिए सही विकल्प चुनिए-

कथन [As] : छत्तीसगढ़ राज्य के बजट में सामाजिक क्षेत्र पर अधिक व्यय किया जाता है।

कारण [R] : राज्य सरकार कल्याणकारी योजनाओं को प्राथमिकता देती है।

- A. [As] और [R] दोनों सत्य हैं, और [R], [As] की सही व्याख्या है।
- ✓ B. [As] और [R] दोनों सत्य हैं, लेकिन [R], [As] की सही व्याख्या नहीं है।
- C. [As] सत्य है, लेकिन [R] असत्य है।
- D. [As] असत्य है, लेकिन [R] सत्य है।

Space For Rough Work / रफ कार्य के लिये जगह

46. Direction - For the below Assertion [As] and Reason [R], choose the correct alternative-
Assertion [As] : The National Council for Teacher Education (NCTE) is a statutory body of the Government of India.
Reason [R] : It was established on 17th August 1995 under the provisions of NCTE Act, 1993.

- A. Both [As] and [R] are true, and [R] is the correct explanation of [As].
- B. Both [As] and [R] are true, but [R] is not the correct explanation of [As].
- C. [As] is true, but [R] is false.
- D. [As] is false, but [R] is true.

46. निर्देश - नीचे दिए गए कथन [As] और कारण [R] के लिए सही विकल्प चुनिए-
कथन [As] : राष्ट्रीय अध्यापक शिक्षा परिषद (एनसीटीई) भारत सरकार की एक वैधानिक संस्था है।
कारण [R] : इसकी स्थापना एनसीटीई अधिनियम 1993 के अंतर्गत 17 अगस्त 1995 को की गई थी।

- A. [As] और [R] दोनों सत्य हैं, और [R], [As] की सही व्याख्या है।
- B. [As] और [R] दोनों सत्य हैं, लेकिन [R], [As] की सही व्याख्या नहीं है।
- C. [As] सत्य है, लेकिन [R] असत्य है।
- D. [As] असत्य है, लेकिन [R] सत्य है।

47. Match the following-

Column-I (Lok Sabha)	Column-II (Speaker)
(a) XI th	(I) Sumitra Mahajan
(b) XIV th	(II) Meera Kumar
(c) XV th	(III) Somnath Chatterjee
(d) XVI th	(IV) P. A. Sangma

Choose the correct answer from the options given below-

- A. a-IV, b-II, c-I, d-III
- B. a-IV, b-III, c-II, d-I
- C. a-III, b-II, c-IV, d-I
- D. a-II, b-I, c-III, d-IV

47. निम्नलिखित को सुमेलित कीजिए-

कॉलम-I (लोकसभा)	कॉलम-II (स्पीकर)
(a) XI ^{वीं}	(I) सुमित्रा महाजन
(b) XIV ^{वीं}	(II) मीरा कुमार
(c) XV ^{वीं}	(III) सोमनाथ चटर्जी
(d) XVI ^{वीं}	(IV) पी. ए. संगमा

नीचे दिए गए विकल्पों में से सही उत्तर चुनें-

- A. a-IV, b-II, c-I, d-III
- B. a-IV, b-III, c-II, d-I
- C. a-III, b-II, c-IV, d-I
- D. a-II, b-I, c-III, d-IV

48. Match the items given in Column-I with the correct pair given in Column-II-

<u>Column-I</u>	<u>Column-II</u>
(a) Economic growth	(I) Increase in GDP
(b) Economic development	(II) Improvement in standard of living
(c) Human capital	(III) Investment in education and health
(d) Poverty	(IV) Lack of minimum consumption
(e) Inequality	(V) Imbalanced income distribution

Choose the correct answer from the options given below-

- A. a-I, b-II, c-III, d-IV, e-V
- B. a-II, b-III, c-IV, d-V, e-I
- C. a-III, b-IV, c-V, d-I, e-II
- D. a-IV, b-V, c-I, d-II, e-III

48. कॉलम-I में दिए गए शब्दों को कॉलम-II में दिए गए उनके सही जोड़ी से मिलाइए-

<u>कॉलम-I</u>	<u>कॉलम-II</u>
(a) आर्थिक वृद्धि	(I) जीडीपी में वृद्धि
(b) आर्थिक विकास	(II) जीवनस्तर में सुधार
(c) मानव पूँजी	(III) शिक्षा एवं स्वास्थ्य में निवेश
(d) गरीबी	(IV) न्यूनतम उपभोग का अभाव
(e) असमानता	(V) आय वितरण में असंतुलन

नीचे दिए गए विकल्पों में से सही उत्तर चुनें-

- A. a-I, b-II, c-III, d-IV, e-V
- B. a-II, b-III, c-IV, d-V, e-I
- C. a-III, b-IV, c-V, d-I, e-II
- D. a-IV, b-V, c-I, d-II, e-III

a-I
b-II
c-III
e-IV

49. Arrange the following Bharat Ratna recipients in chronological order of receiving the award.

(K) Sachin Tendulkar

(L) Amartya Sen

(M) Lata Mangeshkar

(N) Nanaji Deshmukh

(O) Atal Bihari Vajpayee

A. $K \rightarrow L \rightarrow M \rightarrow O \rightarrow N$

B. $L \rightarrow K \rightarrow M \rightarrow N \rightarrow O$

C. $K \rightarrow M \rightarrow O \rightarrow L \rightarrow N$

D. $L \rightarrow M \rightarrow K \rightarrow O \rightarrow N$

49. निम्नलिखित भारत रत्न प्राप्तकर्ताओं को पुरस्कार प्राप्त करने के वर्ष के अनुसार कालानुक्रमिक क्रम में व्यवस्थित कीजिए।

(K) सचिन तेंदुलकर

(L) अमर्त्य सेन

(M) लता मंगेशकर

(N) नानाजी देशमुख

(O) अटल बिहारी वाजपेयी

A. $K \rightarrow L \rightarrow M \rightarrow O \rightarrow N$

B. $L \rightarrow K \rightarrow M \rightarrow N \rightarrow O$

C. $K \rightarrow M \rightarrow O \rightarrow L \rightarrow N$

D. $L \rightarrow M \rightarrow K \rightarrow O \rightarrow N$

50. Who calculates the Gross Domestic Product (GDP) in India?

A. Reserve Bank of India (RBI)

B. Finance Ministry

C. National Statistical Office (NSO)

D. NITI Aayog

50. भारत में सकल घरेलू उत्पाद (जीडीपी) की गणना कौन करता है?

A. रिज़र्व बैंक ऑफ इंडिया (आरबीआय)

B. वित्त मंत्रालय

C. राष्ट्रीय सांख्यिकी कार्यालय (एनएसओ)

D. नीति आयोग

Teaching Aptitude

PART-III

शिक्षण अभिरूचि

51. When a teacher shows positive thinking and supportive behaviour towards children, it reflects which type of attitude?

- A. Neutral attitude
- B. Inconsistent attitude
- C. Negative attitude
- D. Positive attitude

51. जब शिक्षक बच्चों के प्रति सकारात्मक सोच और सहयोगपूर्ण व्यवहार रखते हैं, तो यह किस प्रकार की अभिवृत्ति है?

- A. तटस्थ अभिवृत्ति
- B. असंगत अभिवृत्ति
- C. नकारात्मक अभिवृत्ति
- D. सकारात्मक अभिवृत्ति

52. The term 'kindergarten' means-

- A. Children's Garden
- B. Children's home
- C. Children's school
- D. Children's playground

52. 'किंडरगार्टन' शब्द का अर्थ है-

- A. बच्चों का बगीचा
- B. बच्चों का घर
- C. बच्चों का विद्यालय
- D. बच्चों का खेल-मैदान

53. On what basis does vocational guidance guide an individual toward a specific vocation?

- (J) Capacities
- (K) Attitudes
- (L) Available opportunities
- (M) Personal resources

Choose the correct option-

- A. J and K only
- B. J, K and L only
- C. J, K, L and M
- D. K and M only

53. व्यावसायिक निर्देशन व्यक्ति को किस आधार पर किसी विशेष व्यवसाय के लिए मार्गदर्शन देता है?

- (J) क्षमताएँ
- (K) अभिवृत्तियाँ
- (L) उपलब्ध अवसर
- (M) व्यक्तिगत संसाधन

सही विकल्प चुनें-

- A. केवल J और K
- B. केवल J, K और L
- C. J, K, L और M
- D. केवल K और M

54. Children are given the opportunity to discover and acquire new knowledge on their own without any special guidance.

- A. Project Method
- B. Dalton Method
- C. Heuristic Method
- D. Play way teaching Method

54. बिना किसी विशेष निर्देशन के बच्चों को स्वयं खोजकर नवीन ज्ञान को अर्जित करने का अवसर दिया जाता है।

- A. योजना विधि
- B. डाल्टन प्लान
- C. ह्यूरिस्टिक मेथड
- D. खेल द्वारा शिक्षण विधि

Space For Rough Work / रफ कार्य के लिये जगह

55. Match the following-

<u>Column-I</u>	<u>Column-II</u>
(a) Placement Assessment	(I) Taking a unit test at the end
(b) Formative Assessment	(II) Taking a pre-test before class
(c) Diagnostic Assessment	(III) Asking questions in between the classroom teaching
(d) Summative Assessment	(IV) Identifying issues with a particular skill

Choose the correct answer from the options given below-

- A. a-I, b-III, c-II, d-IV
- B. a-II, b-III, c-IV, d-I
- C. a-III, b-II, c-I, d-IV
- D. a-IV, b-II, c-III, d-I

55. निम्नलिखित को सुमेलित कीजिए-

<u>कॉलम-I</u>	<u>कॉलम-II</u>
(a) स्थापन आकलन	(I) अंत में एक इकाई-परीक्षण लेना
(b) रचनात्मक आकलन	(II) कक्षा से पूर्व एक पूर्व-परीक्षण लेना
(c) नैदानिक आकलन	(III) कक्षा-शिक्षण के बीच में प्रश्न पूछना
(d) समेकित आकलन	(IV) एक विशिष्ट कौशल के साथ मुद्दों की पहचान करना

नीचे दिए गए विकल्पों में से सही उत्तर चुनें-

- A. a-I, b-III, c-II, d-IV
- B. a-II, b-III, c-IV, d-I
- C. a-III, b-II, c-I, d-IV
- D. a-IV, b-II, c-III, d-I

56. Match the following-

<u>Column-I</u> (Strategy)	<u>Column-II</u> (Purpose)
(a) Tactile	(I) Understanding concepts
(b) Verbal description	(II) Alternative to visual material
(c) Group activities	(III) Peer cooperation
(d) Use of real objects	(IV) Experiential learning

Choose the correct answer from the options given below-

- A. a-I, b-II, c-III, d-IV
- B. a-I, b-III, c-II, d-IV
- C. a-IV, b-II, c-III, d-I
- D. a-II, b-I, c-IV, d-III

56. निम्नलिखित को सुमेलित कीजिए-

<u>कॉलम-I</u> (रणनीति)	<u>कॉलम-II</u> (उद्देश्य)
(a) स्पर्श आधारित सामग्री	(I) अवधारणा समझाना
(b) मौखिक वर्णन	(II) दृश्य सामग्री का विकल्प
(c) समूह गतिविधि	(III) सहपाठी सहयोग
(d) वास्तविक वस्तुओं का उपयोग	(IV) अनुभव आधारित अधिगम

नीचे दिए गए विकल्पों में से सही उत्तर चुनें-

- A. a-I, b-II, c-III, d-IV
- B. a-I, b-III, c-II, d-IV
- C. a-IV, b-II, c-III, d-I
- D. a-II, b-I, c-IV, d-III

57. Which of the following statements about teaching aids are correct?

- (J) They help in retaining concepts for a longer duration.
- (K) They help students learn better.
- (L) They make teaching-learning process interesting.
- (M) They enhance rote learning.

Choose the correct option-

- A. J, K and L only
- B. K, L and M only
- C. J, K and M only
- D. J, K, L and M

57. शिक्षण सहायक सामग्री के विषय में निम्नलिखित में से कौन-से कथन सही हैं?

- (J) अवधारणा को लंबे समय तक याद रखने में मदद मिलती है।
- (K) वे छात्रों को बेहतर सीखने में मदद करती हैं।
- (L) वे शिक्षण-अधिगम प्रक्रिया को रोचक बनाते हैं।

(M) रटकर सीखने की क्षमता को बढ़ाना।
सही विकल्प चुनें-

- A. केवल J, K और L
- B. केवल K, L और M
- C. केवल J, K और M
- D. J, K, L और M

Space For Rough Work / रफ कार्य के लिये जगह



58. The process of Developing a Teacher's Positive Attitude Towards Children-
- (K) Developing Trust in Children.
 (L) Gaining Positive Experiences.
 (M) Formation of Values and Beliefs.
 (N) Building Enduring Attitudes.
 (O) Expression in Behavior.
- A. $M \rightarrow O \rightarrow L \rightarrow N \rightarrow K$
 B. $L \rightarrow N \rightarrow O \rightarrow K \rightarrow M$
 C. $K \rightarrow L \rightarrow M \rightarrow N \rightarrow O$
 D. $O \rightarrow M \rightarrow N \rightarrow K \rightarrow L$

58. बच्चों के प्रति शिक्षक की सकारात्मक अभिवृत्ति के विकास की प्रक्रिया-
- (K) बच्चों के प्रति विश्वास विकसित करना
 (L) सकारात्मक अनुभव प्राप्त करना
 (M) मूल्य और विश्वास बनना
 (N) स्थायी अभिवृत्ति का निर्माण
 (O) व्यवहार में अभिव्यक्ति
- A. $M \rightarrow O \rightarrow L \rightarrow N \rightarrow K$
 B. $L \rightarrow N \rightarrow O \rightarrow K \rightarrow M$
 C. $K \rightarrow L \rightarrow M \rightarrow N \rightarrow O$
 D. $O \rightarrow M \rightarrow N \rightarrow K \rightarrow L$

59. A teacher's positive attitude towards children helps in developing-
- (J) Self-confidence
 (K) Motivation to learn
 (L) Classroom participation
 (M) Fear

Choose the correct option-

- A. J, K and L only
 B. L and M only
 C. K and L only
 D. J, K, L and M

59. शिक्षक की सकारात्मक अभिवृत्ति से बच्चों में क्या विकसित होता है?

- (J) आत्मविश्वास
 (K) सीखने की प्रेरणा
 (L) कक्षा सहभागिता
 (M) भय

सही विकल्प चुनें-

- A. केवल J, K और L
 B. केवल L और M
 C. केवल K और L
 D. J, K, L और M

60. How should a teacher behave with students?

- A. General
- B. Like a Father
- C. Like a Friend
- D. Like a Leader

60. शिक्षक को विद्यार्थियों के साथ कैसा बर्ताव करना चाहिए?

- A. सामान्य
- B. पिता की तरह
- C. मित्र की तरह
- D. एक नेता की तरह

61. Which of the following are essential for successful classroom communication?

- (K) Define the purpose.
- (L) Opt for presentations.
- (M) Use un-risky humour.
- (N) Avoid rehearsals.
- (O) Repeat speech-tags.

Choose the correct answer from the options given below-

- A. K, M and O
- B. L, M and N
- C. M, N and O
- D. K, L and N

61. निम्नांकित में से कौन सफल कक्षागत संवाद हेतु आवश्यक है?

- (K) उद्देश्य निर्धारित करना
- (L) आत्म-प्रदर्शन का चयन
- (M) जोखिम रहित हास्य का प्रयोग
- (N) प्रविष्टि से बचना
- (O) वाक्य-उद्धरणों की पुनरावृत्ति

नीचे दिए गए विकल्पों में से सही उत्तर का चयन कीजिए-

- A. K, M और O
- B. L, M और N
- C. M, N और O
- D. K, L और N

62. Match the following-

<u>Column-I</u>	<u>Column-II</u>
(a) Small size class of 2-3 students	(I) Flip chart or whiteboard
(b) Medium size class of 10-15 students	(II) PowerPoint slides
(c) Large size class of 20-25 students	(III) Presentation with display screen
(d) Extra-large size class of more than 30 students	(IV) Writing on paper

Choose the correct answer from the options given below-

- A. a-IV, b-I, c-II, d-III
- B. a-I, b-II, c-III, d-IV
- C. a-II, b-I, c-III, d-IV
- D. a-III, b-IV, c-II, d-I

62. निम्नलिखित को सुमेलित कीजिए-

<u>कॉलम-I</u>	<u>कॉलम-II</u>
(a) 2-3 छात्रों की छोटी कक्षा	(I) फ्लिप चार्ट या व्हाइट बोर्ड
(b) 10-15 छात्रों की मध्यम आकार की कक्षा	(II) पावरपॉइंट स्लाइड्स
(c) 20-25 छात्रों की बड़ी कक्षा	(III) डिस्प्ले स्क्रीन पर प्रस्तुति
(d) 30 से ज्यादा छात्रों की बहुत बड़ी कक्षा	(IV) कागज़ पर लिखना

नीचे दिए गए विकल्पों में से सही उत्तर चुनें-

- A. a-IV, b-I, c-II, d-III
- B. a-I, b-II, c-III, d-IV
- C. a-II, b-I, c-III, d-IV
- D. a-III, b-IV, c-II, d-I

Space For Rough Work / रफ कार्य के लिये जगह

a-IV b-I c-III d-II



63. Arrange the steps for adapting the teaching-learning process in an inclusive classroom in the correct order-

- (K) Using simple and clear explanations.
- (L) Providing examples from real life situations.
- (M) Using visual aids/flash cards.
- (N) Demonstration and activity participation.
- (O) Asking short answer or MCQ questions for assessment.

- A. O → L → N → K → M
- B. L → N → K → M → O
- C. M → O → L → N → K
- D. K → L → M → N → O

64. What is the main purpose of vocational information?

- A. To prepare students only for examinations
- B. To provide information about different occupations
- C. To promote sports activities
- D. To provide financial assistance

63. समावेशी कक्षा में शिक्षण-अधिगम प्रक्रिया के अनुकूलन के चरणों को सही क्रम में व्यवस्थित कीजिए-

- (K) सरल और स्पष्ट स्पष्टीकरणों का उपयोग करना।
- (L) वास्तविक जीवन की स्थितियों से उदाहरण देना।
- (M) दृश्य साधनों/फ्लैश कार्ड का उपयोग करना।
- (N) प्रदर्शन और गतिविधियों में भागीदारी।
- (O) मूल्यांकन के लिए लघु-उत्तरीय या MCQ प्रश्न पूछना।

- A. O → L → N → K → M
- B. L → N → K → M → O
- C. M → O → L → N → K
- D. K → L → M → N → O

64. व्यवसाय सम्बन्धी सूचनाओं का मुख्य उद्देश्य क्या है?

- A. विद्यार्थियों को केवल परीक्षा के लिए तैयार करना
- B. विभिन्न व्यवसायों की जानकारी देना
- C. विद्यार्थियों को खेलों में भाग लेने के लिए प्रेरित करना
- D. केवल आर्थिक सहायता देना

65. Classroom interaction is called:
- Beating or punishing by making them stand or sit in a painful posture.
 - Children learn by doing their own gathering evidence.
 - To improve the teaching and learning processes and materials.
 - Learning through work and interaction with teachers and classmates in the classroom.

65. कक्षागत अंतःक्रिया कहलाती है:
- मारना-पीटना या तकलीफदेह मुद्रा में खड़े या बैठे रहने की सजा देना।
 - बच्चे खुद ही खोज करके एवं प्रमाण जुटा के सीखते हैं।
 - सीखने-सिखाने की प्रक्रियाओं एवं सामग्री का सुधार करना।
 - कक्षा में अध्यापकों व सहपाठियों के साथ कार्य व संपर्क-संवाद के माध्यम से सीखना।

66. The major objective of education is-
- Reforming the society.
 - Making students disciplined.
 - Developing inherent abilities/powers of students.
 - Making students followers of teachers.

66. शिक्षा का मुख्य उद्देश्य है-
- समाज में सुधार।
 - छात्रों को अनुशासित बनाना।
 - छात्रों की अन्तर्निहित क्षमताओं/शक्तियों का विकास।
 - छात्रों को शिक्षकों का अनुयायी बनाना।

67. Select the alternative which consists of positive factors contributing to the effectiveness of teaching:

- Teacher's knowledge of the subject.
- Teacher's socio-economic background.
- Communication skill of the teacher.
- Teacher's competence in managing the classroom transactions.

Choose the correct option-

- J and K only
- J, K and M
- K, L and M
- J, L and M

67. उस विकल्प का चयन कीजिए जिसमें शिक्षण की प्रभावशीलता में योगदान देने वाले सकारात्मक कारक शामिल हों-
- शिक्षक का विषय ज्ञान।
 - शिक्षक की सामाजिक-आर्थिक पृष्ठभूमि।
 - शिक्षक का संचार कौशल।
 - कक्षा के संचालन के प्रबंधन और निगरानी में शिक्षक की क्षमता।

सही विकल्प चुनें-

- केवल J और K
- J, K और M
- K, L और M
- J, L और M

68. Match the following-

<u>Column-I</u>	<u>Column-II</u>
(a) Cognitive component	(I) Thoughts or beliefs about an object
(b) Affective component	(II) Feelings or emotions
(c) Behavioural component	(III) Tendency to act in a particular way
(d) Social influence	(IV) Attitude formed due to influence of others

Choose the correct answer from the options given below-

- A. a-I, b-II, c-III, d-IV
- B. a-I, b-III, c-II, d-IV
- C. a-IV, b-II, c-III, d-I
- D. a-II, b-I, c-IV, d-III

b-II c-III

69. The main aim of education is to develop a person's-

- A. Knowledge
- B. Body
- C. Personality
- D. Intelligence

68. निम्नलिखित को सुमेलित कीजिए-

<u>कॉलम-I</u>	<u>कॉलम-II</u>
(a) संज्ञानात्मक घटक	(I) किसी विषय के बारे में विचार या विश्वास
(b) भावात्मक घटक	(II) भावना या अनुभूति
(c) व्यवहारात्मक घटक	(III) व्यवहार करने की प्रवृत्ति
(d) सामाजिक प्रभाव	(IV) दूसरों से प्रभावित होकर अभिवृत्ति बनना

नीचे दिए गए विकल्पों में से सही उत्तर चुनें-

- A. a-I, b-II, c-III, d-IV
- B. a-I, b-III, c-II, d-IV
- C. a-IV, b-II, c-III, d-I
- D. a-II, b-I, c-IV, d-III

69. शिक्षा का मुख्य उद्देश्य व्यक्ति का विकास करना है-

- A. ज्ञान
- B. शरीर
- C. व्यक्तित्व
- D. बुद्धि

70. Direction - For the below Assertion [As] and Reason [R], choose the correct alternative-

Assertion [As] : A teacher's positive attitude toward children improves the classroom learning environment.

Reason [R] : Attitude influences a person's behaviour and responses.

- A. Both [As] and [R] are true, and [R] is the correct explanation of [As].
- B. Both [As] and [R] are true, but [R] is not the correct explanation of [As].
- C. [As] is true, but [R] is false.
- D. [As] is false, but [R] is true.

71. What does adaptation mean in inclusive education?

- A. Changing only the textbook
- B. Teaching only in special schools
- C. Modifying assessment, materials, curriculum, or classroom environment
- D. Seating students separately in the classroom

70. निर्देश - नीचे दिए गए कथन [As] और कारण [R] के लिए सही विकल्प चुनिए-

कथन [As] : बच्चों के प्रति शिक्षक की सकारात्मक अभिवृत्ति सीखने के वातावरण को बेहतर बनाती है।

कारण [R] : अभिवृत्ति व्यक्ति के व्यवहार और प्रतिक्रियाओं को प्रभावित करती है।

- A. [As] और [R] दोनों सत्य हैं, और [R], [As] की सही व्याख्या है।
- B. [As] और [R] दोनों सत्य हैं, लेकिन [R], [As] की सही व्याख्या नहीं है।
- C. [As] सत्य है, लेकिन [R] असत्य है।
- D. [As] असत्य है, लेकिन [R] सत्य है।

71. समावेशी शिक्षा में अनुकूलन (अडाप्टेशन) का क्या अर्थ है?

- A. केवल पाठ्यपुस्तक बदलना
- B. केवल विशेष विद्यालय में पढ़ाना
- C. मूल्यांकन, सामग्री, पाठ्यक्रम या कक्षा वातावरण में परिवर्तन करना
- D. छात्रों को अलग कक्षा में बैठाना

72. If a teacher has prejudice towards children, what is the likely outcome?

- A. Children's confidence will increase.
- B. Learning speed will increase.
- C. Children's development will be negatively affected.
- D. Classroom discipline will improve.

72. यदि शिक्षक बच्चों के प्रति पूर्वाग्रह (प्रेज्यूडिस) रखता है, तो इसका परिणाम क्या होगा?

- A. बच्चों का आत्मविश्वास बढ़ेगा।
- B. सीखने की गति बढ़ेगी।
- C. बच्चों के विकास पर नकारात्मक प्रभाव पड़ेगा।
- D. कक्षा का अनुशासन बेहतर होगा।

73. What qualities should a teacher have to be a good facilitator?

- (J) Ability to create activities
- (K) Discriminatory behavior towards the child
- (L) Recognizing a child's mental ability
- (M) Adequate knowledge of subject matter

Choose the correct option-

- A. J and L only
- B. K and L only
- C. J, L and M
- D. J, K and L

73. बेहतर सुविधादाता होने के लिए शिक्षक में कौन से गुण होने चाहिए-

- (J) गतिविधियों के निर्माण की क्षमता
 - (K) बच्चे के साथ भेदभावपूर्ण व्यवहार
 - (L) बच्चे की मानसिक क्षमता पहचानना
 - (M) विषयवस्तु का पर्याप्त ज्ञान
- सही विकल्प चुनें-

- A. केवल J और L
- B. केवल K और L
- C. J, L और M
- D. J, K और L

74. The most important challenge before a teacher is-

- A. To maintain discipline in the classroom.
- B. To make students do their homework.
- C. To prepare question papers.
- D. To make teaching-learning process enjoyable.

74. एक शिक्षक के सामने सबसे बड़ी चुनौती है-

- A. कक्षा में अनुशासन बनाए रखना।
- B. छात्रों से उनका गृहकार्य करवाना।
- C. प्रश्न-पत्र तैयार कराना।
- D. शिक्षण-अधिगम प्रक्रिया को आनंददायक बनाना।

75. Which of the following is an example of a Cognitive Skill?

- A. Emotional control
- B. Problem-solving ability
- C. Time management
- D. Physical health

75. निम्नलिखित में से कौन-सा संज्ञानात्मक (कॉग्निटिव) कौशल का उदाहरण है?

- A. भावनात्मक नियंत्रण
- B. समस्या समाधान की क्षमता
- C. समय प्रबंधन
- D. शारीरिक स्वास्थ्य

76. Arrange the steps of the process of developing an interest in business in the correct order-

- (K) Self-awareness of interests and abilities.
- (L) Exploration of career opportunities.
- (M) Matching skills with careers.
- (N) Planning for education/training.
- (O) Career decision making.

A. $O \rightarrow L \rightarrow N \rightarrow K \rightarrow M$

B. $L \rightarrow N \rightarrow K \rightarrow M \rightarrow O$

C. $M \rightarrow O \rightarrow L \rightarrow N \rightarrow K$

D. $K \rightarrow L \rightarrow M \rightarrow N \rightarrow O$

76. व्यवसाय में रुचि विकसित करने की प्रक्रिया के चरणों को सही क्रम में व्यवस्थित कीजिए-

- (K) रुचियों और क्षमताओं के प्रति आत्म-जागरूकता।
- (L) करियर के अवसरों की खोज।
- (M) कौशलों का करियर से मिलाना।
- (N) शिक्षा/प्रशिक्षण की योजना बनाना।
- (O) करियर संबंधी निर्णय लेना।

A. $O \rightarrow L \rightarrow N \rightarrow K \rightarrow M$

B. $L \rightarrow N \rightarrow K \rightarrow M \rightarrow O$

C. $M \rightarrow O \rightarrow L \rightarrow N \rightarrow K$

D. $K \rightarrow L \rightarrow M \rightarrow N \rightarrow O$

77. SWAYAM is initiated by Govt. of India with an objective to-
- (K) Ensure best quality content produced and delivered.
 - (L) Provide quality materials with nominal cost.
 - (M) Assess students continuously and grant degrees.
 - (N) Teach all classes from class IX to PG.
 - (O) Accessed by anyone, anywhere at any time.

Choose the correct option-

- A. K, N and O
- B. K, L and O
- C. K, M and N
- D. M, N and O

78. Vocational interest mainly develops during which stage?

- A. Childhood
- B. Adolescence
- C. Old age
- D. Infancy

77. SWAYAM की शुरुआत भारत सरकार द्वारा इस उद्देश्य से की गई है-

- (K) सर्वोत्तम गुणवत्ता वाली सामग्री का उत्पादन और वितरण सुनिश्चित करना।
- (L) न्यूनतम लागत पर गुणवत्तापूर्ण सामग्री उपलब्ध कराना।
- (M) छात्रों का निरंतर मूल्यांकन करना और डिग्री प्रदान करना।
- (N) कक्षा 9 से स्नातकोत्तर तक सभी कक्षाओं को पढ़ाना।
- (O) किसी के द्वारा भी, कहीं भी, कभी भी उपयोग किया जा सके।

सही विकल्प चुनें-

- A. K, N और O
- B. K, L और O
- C. K, M और N
- D. M, N और O

78. व्यवसायिक रुचि का विकास मुख्यतः किस अवस्था में होता है?

- A. बाल्यावस्था
- B. किशोरावस्था
- C. वृद्धावस्था
- D. शैशवावस्था

79. Why is adaptation necessary in inclusive classrooms?

- (J) To consider different learning styles.
- (K) To ensure participation of all students.
- (L) To provide equal learning opportunities.
- (M) To improve only examination results.

Choose the correct option:

- A. J and K only
- B. J, L and M
- C. K and M only
- D. J, K and L

79. समावेशी कक्षा में अनुकूलन की आवश्यकता क्यों होती है?

(J) विभिन्न सीखने की शैलियों को ध्यान में रखने के लिए।

(K) सभी छात्रों की भागीदारी सुनिश्चित करने के लिए।

(L) सीखने के अवसरों को समान बनाने के लिए।

(M) केवल परीक्षा परिणाम सुधारने के लिए।

सही विकल्प चुनें-

A. केवल J और K

B. J, L और M

C. केवल K और M

D. J, K और L

80. Which of the following should a teacher focus on in the classroom?

- (K) One-way communication.
- (L) Intercultural harmony.
- (M) Feedback from students.
- (N) Creating a flexible atmosphere.
- (O) Avoiding giving advice.

Choose the correct option-

- A. K, L and M
- B. L, M and N
- C. K, N and O
- D. M, N and O

80. कक्षा में शिक्षक को निम्नलिखित में से किन पर ध्यान केंद्रित करना चाहिए?

- ~~(K)~~ एक-तरफा संवाद
- (L) अंतर-सांस्कृतिक सौहार्द
- ~~(M)~~ विद्यार्थियों की प्रतिपुष्टि
- (N) सुनम्य वातावरण का निर्माण
- ~~(O)~~ परामर्श देने से परहेज करना।

सही विकल्प चुनें-

- A. K, L और M
- B. L, M और N
- C. K, N और O
- D. M, N और O

PART-IV

General Hindi

सामान्य हिन्दी

81. कारक विश्लेषण तालिका के अनुसार कारकों के क्रम को व्यवस्थित करें-

(K) अधिकरण

(L) करण

(M) संप्रदान

(N) अपादान

(O) संबंध

A. L → O → M → N → K

B. L → M → N → O → K

C. L → O → N → M → K

D. L → N → O → M → K

82. प्रयोग के आधार पर एवं अर्थ की दृष्टि से सर्वनाम के कितने भेद हैं?

A. छह

B. पाँच

C. सात

D. आठ

83. प्लुत स्वर के संबंध में सही कथन चुनिए-

(J) इसका कोई चिह्न नहीं होता।

(K) हिन्दी में सामान्यतः इसका प्रयोग नहीं होता।

(L) वैदिक भाषा में इसका प्रयोग अधिक हुआ।

(M) इसे 'एकमात्रिक' स्वर भी कहते हैं।

सही विकल्प चुनें-

A. केवल J और K

B. केवल J और L

C. J, K और M

D. J, K और L

84. 'घोड़ा' शब्द के लिए सही तत्सम शब्द चुनिए-

A. अश्व

B. घोटक

C. बाजि

D. सैंधव

85. निम्नलिखित को सुमेलित कीजिए-

कॉलम-I (सामासिक शब्द)	कॉलम-II (समास)
(a) प्रत्येक	(I) तत्पुरुष समास
(b) हथकड़ी	(II) द्वंद्व समास
(c) मुनिवर	(III) अव्ययीभाव समास
(d) हरिहर	(IV) कर्मधारय समास

नीचे दिए गए विकल्पों में से सही उत्तर चुनें-

- A. a-I, b-II, c-III, d-IV a-11
B. a-III, b-II, c-I, d-IV
C. a-III, b-I, c-IV, d-II
D. a-IV, b-III, c-II, d-I

86. निर्देश - नीचे दिए गए कथन [As] और कारण [R] के लिए सही विकल्प चुनिए-
कथन [As] : द्विगुण व्यंजनों का प्रयोग शब्दों की शुरुआत में नहीं होता।
कारण [R] : इनका प्रयोग शब्दों के बीच में या अंत में होता है।

- A. [As] और [R] दोनों सत्य हैं, और [R], [As] की सही व्याख्या है।
B. [As] और [R] दोनों सत्य हैं, लेकिन [R], [As] की सही व्याख्या नहीं है।
C. [As] सत्य है, लेकिन [R] असत्य है।
D. [As] असत्य है, लेकिन [R] सत्य है।

87. 'अनु' उपसर्ग से निर्मित शब्द नहीं है-

- A. अन्वेषण B. अनुपम
C. अनुचर D. अनुराग

88. 'शोषी घेड की धोवी धाड़ की लोभकरीकल का कहर' अर्थ चुनें-

- A. शरीर कावे से कष्ट उठाना पड़ना है।
B. सामर्थ्यवान के लिए कोई उपाय नहीं।
C. अजीब शौक (फैशन) करना।
D. कुछ न होने पर भी बड़ापन दिखाना।

89. निम्नलिखित में से 'चिन्मय' शब्द में कौन-सी संधि है?

- A. स्वर संधि
B. व्यंजन संधि
C. विसर्ग संधि
D. इनमें से कोई नहीं

90. 'जलज' शब्द का अनेकार्थी शब्द चुनें-

- (J) कमल
(K) मछली
(L) बादल
(M) मोती

सही विकल्प चुनें-

- A. केवल J और K
B. केवल J और L
C. J, K और M
D. J, K और L

PART-V

सामान्य अंग्रेजी

General English

91. **Direction** - For the below Assertion [As] and Reason [R], choose the correct alternative-
- Assertion [As]** : It was not possible to "linger on the expedition".
- Reason [R]** : Once the tide turned, it came in rapidly and could cut off the return path.
- A. Both [As] and [R] are true, and [R] is the correct explanation of [As].
- B. Both [As] and [R] are true, but [R] is not the correct explanation of [As].
- C. [As] is true, but [R] is false.
- D. [As] is false, but [R] is true.

92. Choose the correct answer from the options given below the sentence:
When the principal entered the class, a student ----- on the blackboard.

- A. wrote
- B. was writing
- C. writes
- D. is writing

93. Fill in the blanks with suitable preposition:
"The dog is lying ----- the floor."

- A. at
- B. above
- C. on
- D. upon

94. Choose the correct answer from the options given below the sentence:
He always ----- to prove that the earth revolves around the sun.

- A. tried
- B. tries
- C. was trying
- D. is trying

95. Below is given sentence in active/passive voice. Out of the four alternative suggested, select one which best expresses the same sentence in passive/active voice:
The waiter filled the glasses with water.

- A. The glasses filled with water by the waiter.
- B. The glasses were filled with water by the waiter.
- C. The waiter was filled the glasses with water.
- D. The water were filled in the glasses by water.

96. Change the following sentence from the active voice to the passive voice-
"The peon opened the gate".

- A. The gate is opened by the peon.
- B. The gate were opened by the peon.
- C. The gate has opened by the peon.
- D. The gate was opened by the peon.

Test

Prime

By Adda247

Previous Year Papers PDF

PRACTICE MORE, SCORE HIGHER!



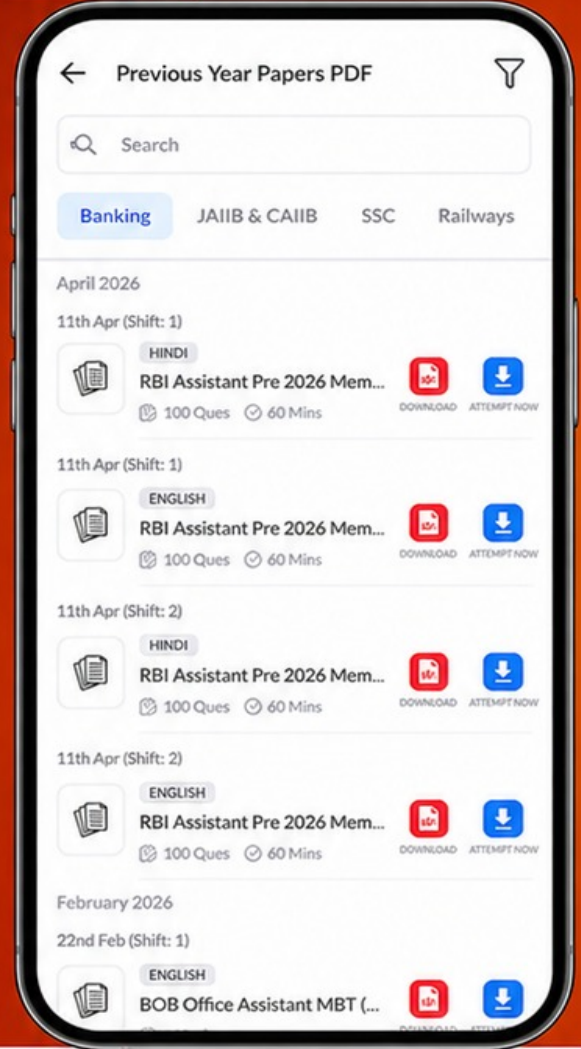
Free
25,000+
PDF's

High-Quality | Exam-Wise | Updated Regularly

ATTEMPT AS
MOCK



Turn PDFs into real exam experience.
Analyze. Improve. Succeed.



Topic-wise & Exam-wise PDFs



Download & Study Offline



Attempt as Mock & Track Score



Smart Analysis & Performance

AVAILABLE IN



Banking



SSC



Railway



Teaching



UGC



Agriculture



Nursing



Bihar



UP



Punjab



WB



Odisha



TN



AP & Telangana



Haryana



DOWNLOAD THE APP



98. Arrange the following major ideas from the passage in the most logical order for writing a coherent paragraph.
- (K) Disarmament assumes overriding importance despite continued arms competition.
 - (L) The nuclear age presents humanity with only two alternatives, annihilation or peaceful co-existence.
 - (M) Achieving peace requires cultivating tolerance and reshaping policies.
 - (N) Immediate and serious action is necessary as delay is dangerous.
 - (O) The United Nations bears the primary responsibility for ensuring progress toward disarmament.

- A. L → K → M → N → O
- B. K → L → M → N → O
- C. K → M → L → N → O
- D. L → K → M → O → N

98. Choose the prefix for the word

'Possible' to make it opposite:

- A. Un
- B. Im
- C. Ill
- D. In

99. Arrange the following statements in the correct logical sequence to explain why he found the bay "treacherous and unlettered".

- (K) The bay was difficult and risky to access.
- (L) Very few people turned to explore it.
- (M) At high tide, the sea was completely covered the bay.
- (N) The returning tide regularly washed away human tracks.
- (O) As a result, the bay remained clean and untouched.

- A. K → L → M → N → O
- B. L → M → K → N → O
- C. K → M → N → L → O
- D. M → N → K → L → O

100. Choose the correct complex sentence from the options given below:

My brother gave me a watch and I have lost it.

- A. I have lost the watch which my brother gave me.
- B. My brother gave me a watch, but I have lost it.
- C. Having given me a watch, my brother lost it.
- D. I lost a watch and my brother gave it to me.