

## UP TGT Social Science Question Paper Held on 3 June 2026 S1

## भाग - I / Part - I

1(I) भारत के संविधान के किस अनुच्छेद के अंतर्गत राष्ट्रपति आर्थिक स्थिरता को खतरा होने पर वित्तीय आपातकाल की घोषणा कर सकते हैं ?

(A) अनुच्छेद 356

(C) अनुच्छेद 352

Under which Article of the Constitution of India can the President declare a state of financial emergency if economic stability is threatened ?

(A) Article 356

(C) Article 352

1(II) पृथ्वी के वास्तविक ज्यामितीय आकार को क्या कहा जाता है ?

(A) लघ्वक्ष गोलार्ध

(B) खोखला खोल

(C) परिपूर्ण वृत्त

(D) परिपूर्ण घन

Earth's actual geometric form is described as :

(A) Oblate spheroid

(B) Hollow shell

(C) Perfect sphere

(D) Perfect cube

1(III) हल-नेखाओं के दो समूह एक-दूसरे को समकोण पर काटते हुए जुते हुए खेत, जो बहु-फसली खेती का संकेत देते हैं, किस हड़प्पा स्थल पर मिले हैं ?

(A) हड़प्पा

(C) कालीबंगन

(B) लोथल

(D) मोहनजो-दड़ो

Evidence of a ploughed field with two sets of furrows at right angles to each other, indicating multiple cropping, has been found at which Harappan site ?

(A) Harappa

(C) Kalibangan

(B) Lothal

(D) Mohenjo-daro

1(IV) निम्नलिखित में से किसको सकल घरेलू उत्पाद (GDP) से घटाकर शुद्ध घरेलू उत्पाद (NDP) की गणना की जाती है ?

(A) सब्सिडी

(C) मूल्यहास

(B) अप्रत्यक्ष कर

(D) विदेश से शुद्ध कारक आय

Which of the following is subtracted from Gross Domestic Product (GDP) to calculate Net Domestic Product (NDP) ?

(A) Subsidies

(C) Depreciation

(B) Indirect taxes

(D) Net factor income from abroad

**Test  
Prime**

By Adda247

# ALL EXAMS, ONE SUBSCRIPTION



Test. Analyze. Improve. Repeat.



**Don't just *prepare*. Perform.**

Test Prime — built only for mock tests.



**1,50,000+**  
Mock Tests



**25,000+**  
Previous Year Papers



**800+**  
Exam Covered



**500% Refund**  
on Selection



**5 lakh+**  
Free Quizzes



**Daily**  
Free PDFs



**Job Alerts**  
Stay Updated

- Multilingual
- Detailed Solution
- Strong and Weak Areas



**All India  
Rankings**

Compete with lakhs.  
Rank. Improve. Repeat.



← Adda247 test prime

Rating ▾

Editors' choice

New



Adda247 Test Prime  
Adda Education • Education  
Installed



**DOWNLOAD THE APP**



भाग - II / Part - II  
 निर्देश : इस भाग में 4 खण्ड, खण्ड - I / Section - I, खण्ड - II / Section - II, खण्ड - III / Section - III, खण्ड - IV /  
 Section - IV हैं। अवधि इन चार खण्डों में से किसी दो खण्डों के ही उत्तर करें।  
 खण्ड - I / Section - I  
 भूगोल / Geography

2. पेट्रोलियम के लिए प्रसिद्ध 'खानाकिन तेल क्षेत्र' किस देश में स्थित है ?  
 (A) कुवैत (B) संयुक्त अरब अमीरात  
 (C) सऊदी अरब (D) ईराक  
 In which country is the 'Khanaqin oil field', famous for petroleum, located ?  
 (A) Kuwait (B) United Arab Emirates  
 (C) Saudi Arabia (D) Iraq
3. उत्तरी गोलार्ध में ध्रुवीय पवनों की दिशा होती है :  
 (A) उत्तर-पश्चिम से दक्षिण-पूर्व (B) दक्षिण-पूर्व से उत्तर-पश्चिम  
 (C) उत्तर-पूर्व से दक्षिण-पश्चिम (D) दक्षिण-पश्चिम से उत्तर-पूर्व  
 The direction of polar winds in the Northern Hemisphere is :  
 (A) North-West to South-East (B) South-East to North-West  
 (C) North-East to South-West (D) South-West to North-East
4. दो पारिस्थितिकी तंत्रों के मध्य का संक्रमण क्षेत्र कहलाता है :  
 (A) बायोटोप (B) बायोम  
 (C) इकोटोन (D) कीमोसिंथेसिस  
 The transition zone between two ecosystems is called :  
 (A) Biotope (B) Biome  
 (C) Ecotone (D) Chemosynthesis
5. ऑस्ट्रेलिया में कौन-सा शहर क्वींसलैंड (Queensland) का औद्योगिक केंद्र है और इप्सविच (Ipswich) कोयला क्षेत्र के पास स्थित है ?  
 (A) मेलबर्न (B) ब्रिस्बेन  
 (C) एडिलेड (D) पर्थ  
 In Australia, which city serves as the industrial hub of Queensland and is located near the Ipswich coalfield ?  
 (A) Melbourne (B) Brisbane  
 (C) Adelaide (D) Perth
6. निम्नलिखित में से कौन 'छत्रक शिला' (Mushroom Rock) का दूसरा नाम है ?  
 (A) कत्तारा (B) इन्सेलबर्ग  
 (C) पीठिका शैल (पेडेस्टल रॉक) (D) डेमोइसेल  
 Which of the following is another name for a 'Mushroom Rock' ?  
 (A) Qattara (B) Inselberg  
 (C) Pedestal Rock (D) Demoiselle

7. वर्ष के किन दो दिनों में सूर्य भूमध्य रेखा (Equator) पर लंबवत (vertically overhead) होता है ?  
 (A) 21 जून और 22 दिसंबर  
 (B) 21 मार्च और 21 जून  
 (C) 21 मार्च और 23 सितंबर  
 (D) 23 सितंबर और 22 दिसंबर

On which two days of the year is the sun vertically overhead at the Equator ?  
 (A) June 21 and December 22  
 (B) March 21 and June 21  
 (C) March 21 and September 23  
 (D) September 23 and December 22

8. निम्नलिखित में से कौन-सा एक सुमेलित नहीं है ?  
 जनजाति

- |            |                |
|------------|----------------|
| (A) मसाई   | निवास क्षेत्र  |
| (B) बन्टू  | पूर्वी अफ्रीका |
| (C) सेमांग | सहारा          |
| (D) नुबा   | मलेशिया        |
|            | सूडान          |

Which one of the following is **not** correctly matched ?

- |              |                |
|--------------|----------------|
| <b>Tribe</b> | <b>Habitat</b> |
| (A) Masai    | Eastern Africa |
| (B) Bantu    | Sahara         |
| (C) Semang   | Malaysia       |
| (D) Nuba     | Sudan          |

9. निम्नलिखित में से किस स्थान पर "उच्च श्रेणी" (high-grade) के बॉक्साइट भंडार पाए जाते हैं ?

- |           |           |             |             |
|-----------|-----------|-------------|-------------|
| (A) कोरबा | (B) रांची | (C) लोहरदगा | (D) संबलपुर |
|-----------|-----------|-------------|-------------|

Which of the following has "high-grade" bauxite deposits ?

- |           |            |               |               |
|-----------|------------|---------------|---------------|
| (A) Korba | (B) Ranchi | (C) Lohardaga | (D) Sambalpur |
|-----------|------------|---------------|---------------|

10. हमद और नेफुद मरुस्थलीय क्षेत्र में कौन-सी जनजाति निवास करती है ?

- |            |          |            |           |
|------------|----------|------------|-----------|
| (A) बेदुइन | (B) मसाई | (C) पापुआन | (D) तातार |
|------------|----------|------------|-----------|

Which tribe lives in the Hamad and Nefud desert region ?

- |             |           |            |           |
|-------------|-----------|------------|-----------|
| (A) Bedouin | (B) Masai | (C) Papuan | (D) Tatar |
|-------------|-----------|------------|-----------|

11. निम्नलिखित में से कौन-सा युग्म सुमेलित नहीं है ?

- |                            |                          |
|----------------------------|--------------------------|
| (A) पम्पास - अर्जेंटीना    | (B) प्रेयरी - कनाडा      |
| (C) लानोस - दक्षिण अफ्रीका | (D) डाउन्स - ऑस्ट्रेलिया |

Which of the following pairs is **not** correctly matched ?

- |                           |                       |
|---------------------------|-----------------------|
| (A) Pampas - Argentina    | (B) Prairies - Canada |
| (C) Llanos - South Africa | (D) Downs - Australia |

12. 'वालरस' किस क्षेत्र का प्रमुख प्राणी है ?

- |             |                  |
|-------------|------------------|
| (A) ओरिएंटल | (B) नियोट्रोपिकल |
| (C) ध्रुवीय | (D) अफ्रोट्रोपिक |

The 'Walrus' is the main animal of which region ?

- |              |                 |
|--------------|-----------------|
| (A) Oriental | (B) Neotropical |
| (C) Polar    | (D) Afrotropic  |

13. सूची I को सूची II से सुमेलित कीजिए।

- सूची I  
 (पर्वत/ज्वालामुखी)  
 a. फुजियामा  
 b. वोसज  
 c. ब्लैक फॉरेस्ट  
 d. सेंट हेलेन्स

कूट :  
 (A) a-iii, b-iv, c-ii, d-i  
 (C) a-iv, b-ii, c-i, d-iii  
 Match List I with List II

List I  
 (Mountain/Volcano)

- a. Fujiyama  
 b. Vosges  
 c. Black Forest  
 d. Saint Helens

Codes :  
 (A) a-iii, b-iv, c-ii, d-i  
 (C) a-iv, b-ii, c-i, d-iii

14. 0-6 वर्ष के आयु वर्ग के जनसांख्यिकीय संकेतक

- (A) प्रभावी साक्षरता दर  
 (C) कुल नामांकन अनुपात  
 Which demograph children in the 0-6

(A) Effective Literacy Rate  
 (C) Total Enrolment Ratio

15. महासागरीय तल की प्रशांत महासागर में

- (A) अंतःसागरीय तल  
 (C) महासागरीय तल  
 Which ocean ? the Pacific Ocean

(A) Submarine Trench  
 (C) Oceanic Trench

13. सूची I को सूची II से सुमेलित कीजिए तथा सूचियों के नीचे दिए गए कूट का उपयोग कर सही उत्तर चुनिए :

## सूची I

(पर्वत/ज्वालामुखी)

- a. फ्यूजीयामा  
b. वॉसजेस  
c. ब्लैक फॉरेस्ट  
d. सेंट हेलेन्स

कूट :

- (A) a-iii, b-iv, c-ii, d-i  
(C) a-iv, b-ii, c-i, d-iii

## सूची II

(देश)

- i. फ्रांस  
ii. जापान  
iii. सं.रा. अमेरिका  
iv. जर्मनी

(B) a-ii, b-i, c-iv, d-iii

(D) a-ii, b-iv, c-i, d-iii

Match List I with List II and choose the correct answer using the codes given below the lists :

## List I

(Mountain/Volcano)

- a. Fujiyama  
b. Vosges  
c. Black Forest  
d. Saint Helens

Codes :

- (A) a-iii, b-iv, c-ii, d-i  
(C) a-iv, b-ii, c-i, d-iii

## List II

(Country)

- i. France  
ii. Japan  
iii. USA  
iv. Germany

(B) a-ii, b-i, c-iv, d-iii

(D) a-ii, b-iv, c-i, d-iii

14. 0-6 वर्ष के आयु वर्ग के बच्चों को छोड़कर 7 वर्ष और उससे अधिक आयु की जनसंख्या के साक्षरता स्तर को मापने वाला जनसांख्यिकीय संकेतक कौन-सा है ?

(A) प्रभावी साक्षरता दर

(B) अशोधित साक्षरता दर

(C) कुल नामांकन अनुपात

(D) अशोधित साक्षरता सूचकांक

Which demographic indicator measures the literacy level of the population aged 7 and above by excluding children in the 0-6 age group ?

(A) Effective Literacy Rate

(B) Crude Literacy Rate

(C) Total Enrolment Ratio

(D) Crude Literacy Index

15. महासागरीय तल की कौन-सी विशेषता स्थलमंडलीय (लिथोस्फेरिक) प्लेट विवर्तनिकी के विश्लेषण के लिए सबसे महत्वपूर्ण है और प्रशांत महासागर में इनके मिलने की संख्या सर्वाधिक है ?

(A) अंतःसागरीय कैन्यन (Submarine Canyons)

(B) मध्य-महासागरीय कटक (Mid-Oceanic Ridges)

(C) महासागरीय गर्त (Oceanic Trenches)

(D) समुद्री पर्वत (Seamounts)

Which ocean floor feature is critical for analyzing lithospheric plate tectonics and occurs most frequently in the Pacific Ocean ?

(A) Submarine Canyons

(B) Mid-Oceanic Ridges

(C) Oceanic Trenches

(D) Seamounts

16. 84.0 के शीर्ष सूचकांक और चौड़े सिर वाले व्यक्ति को किस श्रेणी में वर्गीकृत किया जाएगा ?  
 (A) डोलिकोसेफेलिक (B) मेसोसेफेलिक  
 (C) ब्रेकीसेफेलिक (D) लेप्टोराइन  
 A person with a head index of 84.0 and a broad head would be classified into which category ?  
 (A) Dolichocephalic (B) Mesocephalic  
 (C) Brachycephalic (D) Leptorrhine
17. आधुनिक भूगोल के 19वीं सदी के किस संस्थापक ने अपनी कृति 'एर्डकुंडे' में भौतिक पृथ्वी और उसके निवासियों के बीच संबंध का अध्ययन करने के लिए 'आगमनात्मक दृष्टिकोण' का उपयोग किया ?  
 (A) कार्ल रिटर (B) फ्रेडरिख रैटज़ेल  
 (C) अलेक्जेंडर वॉन हम्बोल्ट (D) इमैनुएल कंट  
 Which 19<sup>th</sup> century founder of modern geography utilized an 'inductive approach' to study the relationship between the physical Earth and its inhabitants in his work 'Erdkunde' ?  
 (A) Carl Ritter (B) Friedrich Ratzel  
 (C) Alexander von Humboldt (D) Immanuel Kant
18. निम्नलिखित शहरों में से कौन-सा शहर मिशिगन झील के तट पर स्थित नहीं है ?  
 (A) शिकागो (B) गैरी (C) बफेलो (D) मिल्वॉकी  
 Which one of the following cities is *not* located on the shores of Lake Michigan ?  
 (A) Chicago (B) Gary (C) Buffalo (D) Milwaukee
19. पश्चिमी घाट में स्थित इंदिरा गांधी राष्ट्रीय उद्यान का विशिष्ट वनस्पति स्वरूप क्या है ?  
 (A) अल्पाइन टुंड्रा और झाड़ियाँ (B) निरंतर शुष्क पर्णपाती वन  
 (C) शोला और घास के मैदानों का मोज़ेक (D) समान उष्णकटिबंधीय वर्षावन  
 Which vegetation pattern is characteristic of the Indira Gandhi National Park in the Western Ghats ?  
 (A) Alpine tundra and scrub (B) Continuous dry deciduous forest  
 (C) Mosaic of sholas and grasslands (D) Uniform tropical rainforest
20. निम्नलिखित दक्षिण-पूर्व एशिया के देशों को उनकी जनसंख्या के अवरोही क्रम में व्यवस्थित कीजिए :  
 I. वियतनाम  
 II. थाईलैंड  
 III. फिलीपींस  
 IV. म्यांमार  
 विकल्प :  
 (A) II, I, III, IV (B) I, II, III, IV (C) III, I, II, IV (D) III, II, I, IV  
 Arrange the following South-East Asian countries in descending order of their population :  
 I. Vietnam  
 II. Thailand  
 III. Philippines  
 IV. Myanmar  
 Options :  
 (A) II, I, III, IV (B) I, II, III, IV (C) III, I, II, IV (D) III, II, I, IV

21. Steady state theory (Steady State Theory) के संबंध में, निम्नलिखित में से सही/सही वाले चुनें।  
 (A) ब्रह्मांड का विस्तार (expansion) और संकुचन (contraction) के बीच संतुलन बनाए रखता है।  
 (B) ब्रह्मांड में नया पदार्थ लगातार उत्पन्न होता है, जो ब्रह्मांड के विस्तार को स्थिर रखता है।  
 (C) ब्रह्मांड का न तो कोई आरंभ है और न ही कोई अंत।  
 (D) आकाशगंगाएँ स्थिर रहती हैं, लेकिन उनके बीच का खाली स्थान धीरे-धीरे बढ़ता है।  
 In the context of the Steady State Theory, which of the following is a fundamental postulate?  
 (A) The universe oscillates between expansion and contraction.  
 (B) The Cosmic Microwave Background Radiation (CMBR) serves as the primary evidence for its stability.  
 (C) The universe has no beginning or end.  
 (D) Galaxies recede, but the physical space between them remains fixed over time.

22. निम्नलिखित में से सही-सही जलवायु परिवर्तन विशेषताओं के क्रमिक विकास का सही प्रतिनिधित्व करता है।  
 (A) बरत आयतन → कुदरत (गिर) → अवनतिका → घाटी  
 (B) अवनतिका → बरत आयतन → घाटी → कुदरत (गिर)  
 (C) घाटी → अवनतिका → कुदरत (गिर) → बरत आयतन  
 (D) कुदरत (गिर) → बरत आयतन → अवनतिका → घाटी  
 Which of the following correctly represents the progressive development of fluvial erosion features?  
 (A) Sheet erosion → Rill → Gully → Valley  
 (B) Gully → Sheet erosion → Valley → Rill  
 (C) Valley → Gully → Rill → Sheet erosion  
 (D) Rill → Sheet erosion → Gully → Valley

23. हिमोत्क (Freezing point) के संबंध में निम्नलिखित में से सही-सही कथन चुनें।  
 (A) कोहरा (Fog) (B) ओस (Dew) (C) बालू (Frost) (D) धुंध (Mist)  
 Which of the following does not belong to the same category, based on its formation, relative to the freezing point?  
 (A) Fog (B) Dew (C) Frost (D) Mist

24. मैटल (शंख) के आयतन और द्रव्यमान के संबंध में निम्नलिखित में से सही-सही कथन चुनें।  
 (A) यह पृथ्वी के आयतन के 16% और उसके द्रव्यमान के 32% का प्रतिनिधित्व करता है।  
 (B) इसमें पृथ्वी के कुल आयतन का 68% और इसके कुल द्रव्यमान का 83% हिस्सा है।  
 (C) इसमें पृथ्वी के कुल आयतन का 83% और इसके कुल द्रव्यमान का 68% हिस्सा है।  
 (D) यह पृथ्वी के आयतन के 53% और उसके द्रव्यमान के 83% का प्रतिनिधित्व करता है।  
 Which of the following statements regarding the Mantle's volume and mass is correct?  
 (A) It represents 16% of the Earth's volume and 32% of its mass.  
 (B) It contains 68% of the Earth's total volume and 83% of its total mass.  
 (C) It contains 83% of the Earth's total volume and 68% of its total mass.  
 (D) It represents 53% of the Earth's volume and 83% of its mass.

25. विश्व को 24 मानक समय क्षेत्रों (time zones) में विभाजित किया गया है। प्रत्येक समय क्षेत्र कितने डिग्री देशांतर (longitude) को कवर करता है ?  
(A) 10° (B) 30° (C) 15° (D) 45°  
The world is divided into 24 standard time zones. Each time zone covers how many degrees of longitude ?  
(A) 10° (B) 30° (C) 15° (D) 45°
26. निम्नलिखित में से कौन-सा सिद्धांत महासागरीय ज्वारों से संबंधित नहीं है ?  
(A) संतुलन सिद्धांत (B) अग्रानी तरंग सिद्धांत  
(C) भू-तरंग सिद्धांत (D) प्रगामी तरंग सिद्धांत  
Which of the following theories is *not* related to ocean tides ?  
(A) Equilibrium theory (B) Stationary wave theory  
(C) Geo-wave theory (D) Progressive wave theory
27. निम्नलिखित देशों पर विचार कीजिए :  
I. मोज़ाम्बिक  
II. एस्वातीनी (स्वाज़ीलैण्ड)  
III. जिम्बाब्वे  
IV. बोत्सवाना  
उपर्युक्त में से कौन-सा/से देश मकर रेखा पर स्थित है/हैं ?  
(A) केवल I, II और III (B) केवल IV (C) केवल I (D) केवल I और IV  
Consider the following countries :  
I. Mozambique  
II. Eswatini (Swaziland)  
III. Zimbabwe  
IV. Botswana  
Which of the above countries is/are located on the Tropic of Capricorn ?  
(A) Only I, II and III (B) Only IV (C) Only I (D) Only I and IV
28. निम्नलिखित में से कौन-सा एक वृक्ष अन्य तीन से भिन्न है ?  
(A) आयरनवुड (B) आबनूस  
(C) रोजवुड (D) रेडवुड  
Which one of the following trees is different from the other three ?  
(A) Ironwood (B) Ebony  
(C) Rosewood (D) Redwood
29. भूकंप के अधिकेंद्र से 145° से परे, भूकंपलेखी स्टेशनों में कौन-सी भूकंपीय तरंगें दर्ज की जाती हैं ?  
(A) केवल S-तरंगें (B) न तो P-तरंगें और न ही S-तरंगें  
(C) P-तरंगें और S-तरंगें दोनों (D) केवल P-तरंगें  
Beyond 145° from the earthquake epicentre, which seismic waves are recorded at seismograph stations ?  
(A) S-waves only (B) Neither P-waves nor S-waves  
(C) Both P-waves and S-waves (D) P-waves only

कितने डिग्री देशांत (longitude) को

- (D) 45°
- many degrees of longitude ?
- (D) 45°

30. निम्नलिखित में से कौन-सा विकल्प एक ठंडी धारा (cold current) और उसके प्रवाह की दिशा की सही पहचान करेगा ?

- (A) हम्बोल्ट (पेरू) धारा, जो उत्तर अक्षांशों से दक्षिण रेखा की ओर टंटा पानी ले जाती है।
- (B) ब्राजीलियाई धारा, जो अंटार्कटिक से दक्षिण अटलांटिक चक्रवात (gyre) की ओर टंटा पानी ले जाती है।
- (C) गल्फ स्ट्रीम, जो उत्तरी अटलांटिक से कैरेबियन की ओर एक ठंडे प्रति-प्रवाह के रूप में कार्य करती है।
- (D) क्यूरोशियो धारा, जो ठंडे उप-ध्रुवीय जल को दक्षिण की ओर उष्णकटिबंधीय प्रशांत महासागर में ले जाती है।

Which of the following correctly identifies a cold current and its characteristic direction of flow ?

- (A) The Humboldt (Peru) Current, which carries cold water from the high latitudes toward the equator.
- (B) The Brazilian Current, which moves cold water from the Antarctic toward the South Atlantic gyre.
- (C) The Gulf Stream, which acts as a cold return flow from the North Atlantic toward the Caribbean.
- (D) The Kuroshio Current, which transports cold sub-polar waters southward toward the tropical Pacific.

31. निम्नलिखित पर विचार कीजिए :

- I. तापमान - 15°C से 25°C
- II. वर्षा - 50 से 75 सेमी
- III. मृदा - जलोढ़
- IV. अन्य - कम से कम 100 फालत-रहित दिन

उपर्युक्त भौगोलिक दशाएँ किस फसल की कृषि के लिए सबसे उपयुक्त हैं ?

- (A) चाय
- (B) चावल
- (C) कपास
- (D) गेहूँ

Consider the following :

- I. Temperature - 15°C to 25°C
- II. Rainfall - 50 to 75 cm
- III. Soil - Alluvial
- IV. Other - At least 100 frost-free days

The above-mentioned geographical conditions are most ideal for the cultivation of which crop ?

- (A) Tea
- (B) Rice
- (C) Cotton
- (D) Wheat

32. 'रुको और जाओ निश्चयवाद' (Stop-and-Go Determinism) का दर्शन क्या सुझाव देता है ?

- (A) मनुष्य विकास की गति को बदल सकता है लेकिन प्रकृति द्वारा निर्धारित दिशा को नहीं।
- (B) एक बार जब मनुष्य की तकनीक अत्यधिक विकसित हो जाती है, तो प्रकृति का कोई प्रभाव नहीं रह जाता है।
- (C) मनुष्य के पास प्रकृति के विकास की दिशा बदलने की पूर्ण स्वतंत्रता है।
- (D) सामाजिक विकल्प भौतिक पर्यावरण से पूरी तरह स्वतंत्र होते हैं।

The philosophy of 'Stop-and-Go Determinism' suggests that :

- (A) Man can alter the pace of development but not the direction set by nature.
- (B) Nature has no influence once man's techniques are highly developed.
- (C) Man has absolute freedom to change the direction of nature's development.
- (D) Social choices are entirely independent of the physical environment.

33. ब्राजील के मेटलर्जिकल सेंटर के रूप में किस शहर की पहचान की गई है, जिसे मिनास जेरैस के समृद्ध खनिज संसाधनों के कारण जाना जाता है?


- (A) रिओ डी जनेरौ
- (C) साओ पाउलो

Which city is identified as the metallurgical centre of Brazil, benefiting from the rich mineral resources of Minas Gerais?


- (A) Rio de Janeiro
- (C) Sao Paulo

- (B) बेलो ओरिजोंटे
- (D) पोर्टो अलेग्रे
- (B) Belo Horizonte
- (D) Porto Alegre

34. निम्नलिखित प्रतीक चिह्नों में से किसका प्रयोग भारत के मौसम मानचित्र पर मान-समुद्र को दर्शाने के लिए किया जाता है?



(C) S



Which of the following symbols is used to show calm wind on the weather map of India?



(C) S



35. निम्नलिखित परतों में से कौन-सी परत 300 मीटर से 1000 मीटर की गहराई वाले क्षेत्र में महासागरीय जल के घनत्व में तीव्र परिवर्तन को इंगित करती है?

- (A) पाइक्नोक्लाइन
- (C) हैलोकलाइन



- (B) इकोक्लाइन
- (D) थर्मोक्लाइन

Which of the following layers indicates a rapid change in the density of ocean water in the depth zone from 300 metres to 1000 metres?

- (A) Pycnocline
- (C) Halocline

- (B) Ecocline
- (D) Thermocline

36. भारत-चीन सीमा का 'मध्य क्षेत्र' किन दो नदी प्रणालियों के बीच के जल-विभाजक द्वारा सीमांकित है?

- (A) स्प्रीति और पारे चू
- (C) सतलुज और गंगा

- (B) ब्रह्मपुत्र और यांग्त्सी
- (D) सिंधु और सांगपो

The "Middle Sector" of the India-China boundary is demarcated by the watershed between which two river systems?

- (A) The Spiti and the Pare Chu
- (C) The Satluj and the Ganga

- (B) The Brahmaputra and the Yangtze
- (D) The Indus and the Tsangpo

37. सॉल्ट सेंट मैरी रेपिड्स पर स्थित जल-विद्युत केंद्र किस झील के निकास द्वार (outlet) पर अवस्थित है?

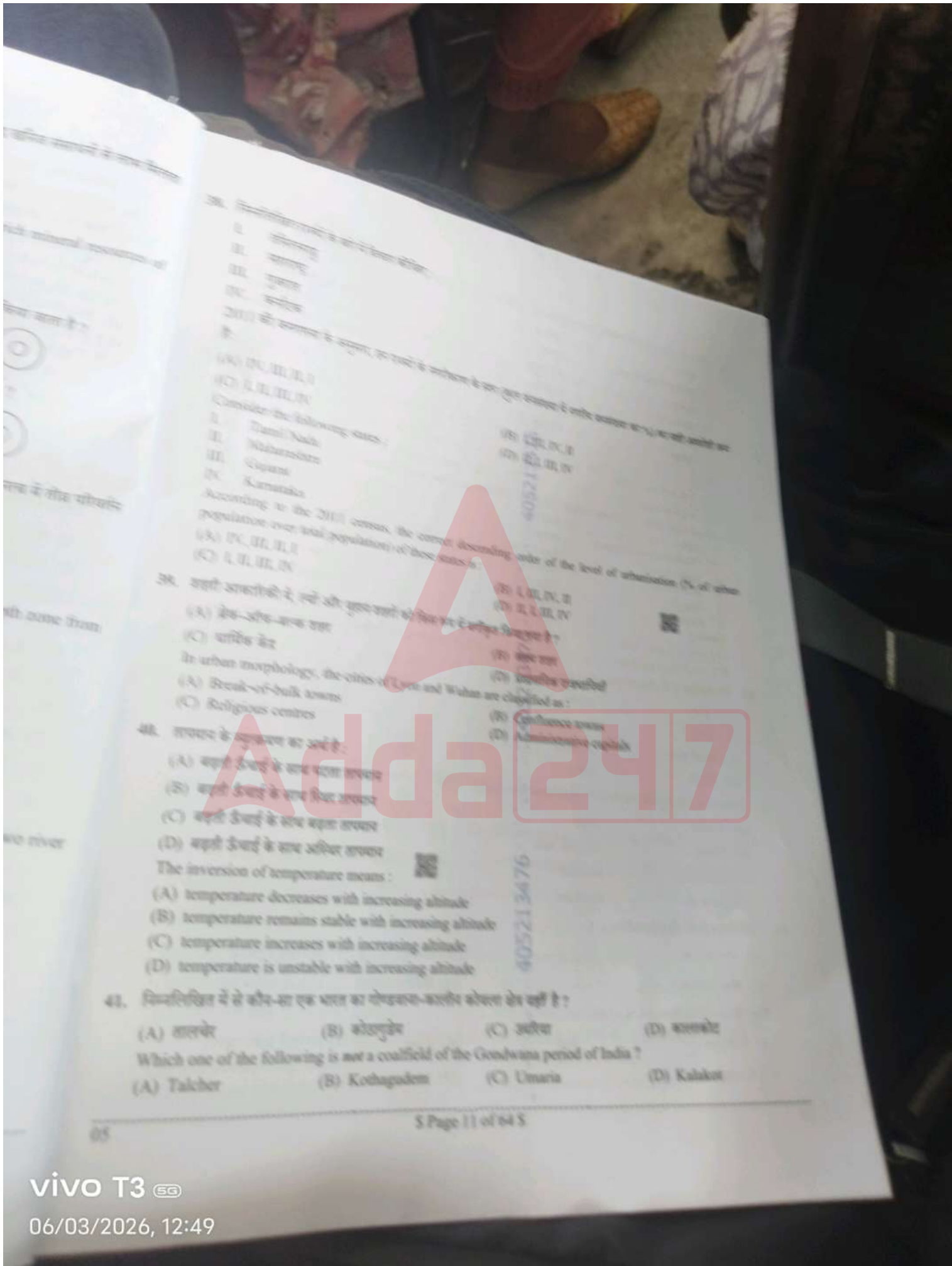
- (A) ओंटारियो झील
- (C) सुपीरियर झील

- (B) ईरी झील
- (D) ह्यूरोन झील

The hydro-power stations at the Sault Saint Marie Rapids are located at the outlet of which lake?

- (A) Lake Ontario
- (C) Lake Superior

- (B) Lake Erie
- (D) Lake Huron



28. निम्नलिखित राज्यों के जनसंख्या घनत्व को आरोहण क्रम में व्यवस्थित करें।  
 I. उत्तराखण्ड  
 II. उत्तर प्रदेश  
 III. गुजरात  
 IV. बिहार

29. निम्नलिखित राज्यों के जनसंख्या घनत्व को आरोहण क्रम में व्यवस्थित करें।  
 (A) IV, III, II, I  
 (B) I, II, III, IV  
 (C) I, II, III, IV  
 (D) II, III, IV, I

30. Consider the following states:  
 I. Tamil Nadu  
 II. Maharashtra  
 III. Gujarat  
 IV. Karnataka

31. According to the 2011 census, the correct ascending order of the level of urbanisation (% of urban population over total population) of these states is:  
 (A) IV, III, II, I  
 (B) I, II, III, IV  
 (C) I, II, III, IV  
 (D) II, III, IV, I

32. In urban morphology, the cities of Lucknow and Wahan are classified as:  
 (A) Break-of-bulk towns  
 (B) Religious centres  
 (C) Confluence towns  
 (D) Administrative capitals

33. The inversion of temperature means:  
 (A) temperature decreases with increasing altitude  
 (B) temperature remains stable with increasing altitude  
 (C) temperature increases with increasing altitude  
 (D) temperature is unstable with increasing altitude

34. निम्नलिखित में से कौन-सा एक भारत का गोंडवाना-कालीन कोयला क्षेत्र नहीं है?  
 (A) तालचेर (B) कोटगुडम (C) उमरिया (D) कालकोट

35. Which one of the following is not a coalfield of the Gondwana period of India?  
 (A) Talcher (B) Kothagudem (C) Umari (D) Kakot

42. सूची I को सूची II से सुमेलित कीजिए तथा सूची I के नीचे दिए गए सूत्र का उपयोग कर सही उत्तर चुनिए :

- |                                    |                    |
|------------------------------------|--------------------|
| सूची I<br>(बहुउद्देशीय परियोजनाएँ) | सूची II<br>(राज्य) |
| a. कालिबंद                         | i. तमिलनाडु        |
| b. भवानीसागर                       | ii. तेलंगाना       |
| c. घांगुहार                        | iii. गुजरात        |
| d. कल्पसुर                         | iv. महाराष्ट्र     |

- सूत्र :  
 (A) a-ii, b-i, c-iv, d-iii  
 (B) a-i, b-ii, c-iv, d-iii  
 (C) a-i, b-ii, c-iii, d-iv  
 (D) a-ii, b-i, c-iii, d-iv
- Match List I with List II and choose the correct answer using the codes given below the lists :

- |                                         |                           |
|-----------------------------------------|---------------------------|
| <b>List I</b><br>(Multipurpose Project) | <b>List II</b><br>(State) |
| a. Kaleshwaram                          | i. Tamil Nadu             |
| b. Bhavnagar                            | ii. Telangana             |
| c. Ghughar                              | iii. Gujarat              |
| d. Kalpasar                             | iv. Maharashtra           |
- Codes :  
 (A) a-ii, b-i, c-iv, d-iii  
 (B) a-i, b-ii, c-iv, d-iii  
 (C) a-i, b-ii, c-iii, d-iv  
 (D) a-ii, b-i, c-iii, d-iv

43. निम्नलिखित में से कौन-सा युग्म सही सुमेलित नहीं है ?

- |                |   |            |
|----------------|---|------------|
| (A) फॉन        | - | आल्प्स     |
| (B) बुरान      | - | मध्य एशिया |
| (C) सान्ता एना | - | आइसलैंड    |
| (D) चिनूक      | - | रॉकीज      |

Which of the following pairs is not correctly matched ?

- |               |   |              |
|---------------|---|--------------|
| (A) Foehn     | - | Alps         |
| (B) Buran     | - | Central Asia |
| (C) Santa Ana | - | Iceland      |
| (D) Chinook   | - | Rockies      |

44. 'वर्मिलियन रेंज' किससे संबंधित है ?

- |                 |                   |
|-----------------|-------------------|
| (A) लौह अयस्क   | (B) कोयला         |
| (C) ताँबा अयस्क | (D) मैंगनीज अयस्क |
- The 'Vermilion Range' is related to :
- |                |                   |
|----------------|-------------------|
| (A) Iron ore   | (B) Coal          |
| (C) Copper ore | (D) Manganese ore |

45. कोपेन जलवायु वर्गीकरण के अनुसार, आर्जेन्टीना में किस प्रकार का जलवायु है ?  
 (A) दक्षिण चीन  
 (C) दक्षिण-पश्चिम अफ्रीका  
 According to the Köppen climate classification, what is the climate type in Argentina?  
 (A) South China  
 (C) South-West Africa

46. दक्षिणी गोलार्ध में किस प्रकार का जलवायु है ?  
 (A) भूमध्यरेखीय  
 (C) भूमध्यसागरीय  
 The climatic region in the Southern Hemisphere is  
 (A) Equatorial  
 (C) Mediterranean

47. निम्नलिखित प्रकार के तत्वों में से कौन-से तत्वों को समुद्री तत्व माना जाता है ?  
 I. मैग्नीशियम  
 II. कैल्शियम  
 III. मैग्नीशियम  
 IV. पोटैशियम  
 उपर्युक्त को समुद्री तत्व माना जाता है ?  
 (A) I, III, II, IV  
 Consider the following elements :  
 I. Magnesium  
 II. Calcium  
 III. Magnesium  
 IV. Potassium  
 Arrange the above elements as sea elements.  
 (A) I, III, II, IV

48. यदि समोच्च रेखा को भ्रंश रेखा कहा जाता है, तो भ्रंश रेखा किसे कहा जाता है ?  
 (A) भ्रंश रेखा  
 If the horizon is called a fault line, then the fault line is called  
 (A) Fault line

49. सान (San) जलवायु का कौन-सा क्षेत्र है ?  
 (A) डेक्कन  
 (C) महान भ्रंश रेखा  
 Which geographical region has the San climate?  
 (A) The Deccan  
 (C) The Great Rift Valley

45. कोपेन जलवायु वर्गीकरण के अनुसार निम्नलिखित में से किस क्षेत्र में भूमध्यसागरीय जलवायु नहीं पायी जाती है ?  
 (A) दक्षिण चीन (B) मध्य कैलिफोर्निया  
 (C) दक्षिण-पश्चिम ऑस्ट्रेलिया (D) मध्य चिली  
 According to the Koeppen climatic classification, which of the following regions does not have a Mediterranean climate ?  
 (A) South China (B) Central California  
 (C) South-West Australia (D) Central Chile
46. दक्षिणी गोलार्द्ध में जिस जलवायु क्षेत्र का लगभग अभाव पाया जाता है, वह है :  
 (A) भूमध्यरेखीय (B) मानसूनी  
 (C) भूमध्यसागरीय (D) टैगा  
 The climatic region which is almost absent in the Southern Hemisphere is :  
 (A) Equatorial (B) Monsoonal  
 (C) Mediterranean (D) Taiga
47. निम्नलिखित प्रकार के लवणों पर विचार कीजिए :  
 I. मैग्नीशियम क्लोराइड  
 II. कैल्शियम सल्फेट  
 III. मैग्नीशियम सल्फेट  
 IV. पोटैशियम सल्फेट  
 उपर्युक्त को समुद्री जल में विद्यमान लवणों के प्रतिशत मूल्य के आधार पर अवरोही क्रम में व्यवस्थित कीजिए।  
 (A) I, III, II, IV (B) IV, III, II, I (C) I, III, IV, II (D) IV, II, III, I  
 Consider the following types of salts :  
 I. Magnesium Chloride  
 II. Calcium Sulphate  
 III. Magnesium Sulphate  
 IV. Potassium Sulphate  
 Arrange the above in descending order of percentage values of salts present in sea water.  
 (A) I, III, II, IV (B) IV, III, II, I (C) I, III, IV, II (D) IV, II, III, I
48. यदि समोच्च रेखाओं (contour lines) के बीच क्षैतिज तुल्यक (horizontal equivalent - HE) अधिक है, तो वह दर्शाता है :  
 (A) भ्रंश रेखा (B) मंद ढाल (C) बहुत तीव्र ढाल (D) ऊर्ध्वाधर चट्टान  
 If the horizontal equivalent (HE) between contour lines is large, it indicates :  
 (A) Fault line (B) Gentle slope (C) Very steep slope (D) Vertical cliff
49. सान (San) जनजाति द्वारा बसाए गए क्षेत्र का मध्य भाग किस भौगोलिक लक्षण के अंतर्गत आता है ?  
 (A) ड्रेकेंसबर्ग पर्वत (The Drakensberg Mountains) (B) सहारा मरुस्थल (The Sahara Desert)  
 (C) महान भ्रंश घाटी (The Great Rift Valley) (D) कालाहारी मरुस्थल (The Kalahari Desert)  
 Which geographic feature covers the central part of the area inhabited by the San tribe ?  
 (A) The Drakensberg Mountains (B) The Sahara Desert  
 (C) The Great Rift Valley (D) The Kalahari Desert

50. जापान के निम्नलिखित औद्योगिक प्रदेशों का पश्चिम से पूर्व की ओर सही अनुक्रम है :

- I. नागासाकी-मोजी प्रदेश
- II. कोबे-ओसाका प्रदेश
- III. टोक्यो-योकोहामा प्रदेश
- IV. नागोया प्रदेश

कोड :

- (A) I, II, IV, III
- (C) III, IV, II, I

The following is the correct sequence of industrial regions of Japan from West to East :

- I. Nagasaki-Moji region
- II. Kobe-Osaka region
- III. Tokyo-Yokohama region
- IV. Nagoya region

Codes :

- (A) I, II, IV, III
- (C) III, IV, II, I

- (B) I, III, II, IV
- (D) I, II, III, IV

51. एक नगर समुद्र तल से 825 मीटर की ऊँचाई पर है और वहाँ जून का औसत तापमान 20°C है। यदि यह नगर समुद्र तल पर होता तो तापमान का परिसर कितना होता ?

- (A) 30°C - 31°C
- (B) 25°C - 26°C
- (C) 20°C - 21°C
- (D) 15°C - 16°C

A city is 825 metres above sea level and the average June temperature is 20°C. What would the temperature range be if the city were at sea level ?

- (A) 30°C - 31°C
- (B) 25°C - 26°C
- (C) 20°C - 21°C
- (D) 15°C - 16°C

52. ग्रहों के विकास की प्रारंभिक अवस्थाओं में संसंजन की प्रक्रिया के दौरान बड़ी संख्या में बनने वाले छोटे-छोटे पिंडों का वर्णन करने के लिए कौन-सा पद प्रयुक्त होता है ?

- (A) ग्रहाणु
- (B) जोवियन ग्रह
- (C) एकाकी परमाणु
- (D) सौर नीहारिका

What term is used to describe the large number of smaller bodies that formed through the process of cohesion during the early stages of planetary development ?

- (A) Planetesimals
- (B) Jovian planets
- (C) Singular atoms
- (D) Solar nebula

53. फ्लोन (Flohn) द्वारा प्रस्तावित गतिक संकल्पना (Dynamic Concept) के अनुसार मानसून का मूल कारण क्या है ?

- (A) स्थल और समुद्र की सतहों का विभेदी तापन और शीतलन
- (B) जेट स्ट्रीम और तिब्बत के पठार का प्रभाव
- (C) समुद्री वायुराशि की नमी की मात्रा में भिन्नता
- (D) तापीय रूप से उत्पन्न वायुदाब पेटियों का मौसमी प्रवास (स्थानांतरण)

What is the fundamental cause of monsoons according to the Dynamic Concept proposed by Flohn ?

- (A) The differential heating and cooling of land and sea surfaces
- (B) The influence of the Jet Stream and the Tibetan Plateau
- (C) Variations in the moisture content of the maritime air mass
- (D) The seasonal migration of thermally produced pressure belts

64. निम्नलिखित में से भारतीय उपमहाद्वीप के किन-किन हिस्सों को किन-किन हिस्सों के साथ सीमा मिलती है ?  
 Which of the following parts of Indian subcontinent are bounded by neighboring countries and other countries?  
 (A) हिमाचल प्रदेश और उत्तरांचल  
 (B) पंजाब और हरियाणा  
 (C) मध्य प्रदेश और छत्तीसगढ़  
 (D) गुजरात और कर्नाटक

65. भौगोलिक दृष्टि से, युकातान (Yucatan) पठार कहाँ स्थित है ?  
 Geographically, where are the Yucatan people located?  
 (A) ओस्ट्रेलियाई आस्ट्रेलिया (Australian continent) के उत्तरी हिस्से में  
 (B) कैस्पियन सागर के दक्षिण किनारे  
 (C) वर्कहोयान्स्क (Verkhoyansk) और स्टानोवोई (Stanovoi) पर्वतों के बीच  
 (D) स्टानोवोई (Stanovoi) पर्वतों के उत्तरी हिस्से में

66. निम्नलिखित में से कौन-सा कारण उष्णकटिबंधीय समशीतोष्ण क्षेत्रों में अधिकतम वृष्टि (maximum rainfall) का कारण बनता है ?  
 Which of the following explains why subtropical forest receive maximum rainfall?  
 (A) उच्च अल्बेडो  
 (B) कम बादल कवरेज  
 (C) महासागरों से अधिक दूरी  
 (D) महासागरों से निकटता

67. निम्नलिखित क्षेत्रों/राज्यों में दक्षिण-पश्चिम मानसून से सम्बन्धित आगमन का सही क्रमोत्प्रेक्षित रूप पहचानिए।  
 Identify the correct chronological order of the normal onset of the South-west Monsoon in the following regions/cities:  
 (A) केरल → अंडमान द्वीपसमूह → मुंबई → दिल्ली  
 (B) केरल → मुंबई → दिल्ली → अंडमान द्वीपसमूह  
 (C) अंडमान द्वीपसमूह → मुंबई → केरल → दिल्ली  
 (D) अंडमान द्वीपसमूह → केरल → मुंबई → दिल्ली

पुत्र तल पर होता तो  
 16°C  
 e temperature  
 5°C  
 वर्णन करने के  
 process of



58. हॉर्मुज जलडमरूमध्य किसके मध्य स्थित है ?

- (A) ओमान की खाड़ी और अदन की खाड़ी
- (C) अदन की खाड़ी और अकाबा की खाड़ी

The Strait of Hormuz is located between :

- (A) the Gulf of Oman and the Gulf of Aden
- (C) the Gulf of Aden and the Gulf of Aqaba

- (B) फारस की खाड़ी और अरबका की खाड़ी
- (D) फारस की खाड़ी और ओमान की खाड़ी

59. "अपक्षय प्रावार" की गहराई का किसके लिए एक कारक के रूप में उल्लेख किया जाता है ?

- (A) क्षेत्रीय जीवोम और जैव विविधता
- (C) अग्नि वलय में ज्वालामुखी आवृत्ति

The depth of the "weathering mantle" is cited as a factor in :

- (A) Regional biomes and biodiversity
- (C) Volcanic frequency at the Ring of Fire

- (B) the Persian Gulf and the Gulf of Aden
- (D) the Persian Gulf and the Gulf of Oman

- (B) पृथ्वी की घूर्णन गति
- (D) छाया क्षेत्र में P-तरंग की दिशा

60. दुनिया के सबसे ऊँचे जल-प्रपातों में से एक जोग फॉल्स किस नदी से बनता है ?

- (A) शरावती नदी
- (B) कृष्णा नदी

The Jog Falls, one of the highest in the world, is formed by which river ?

- (A) River Sharavati
- (B) River Krishna
- (C) River Gayatri
- (D) River Narmada

61. निम्नलिखित में से कौन-सा हॉटस्पॉट अपने भौगोलिक क्षेत्र के साथ गलत रूप से युग्मित है ?

- (A) ऊपरी गिनी वन — पूर्वी अफ्रीका
- (B) सिंहराजा वन — श्रीलंका
- (C) क्वींसलैंड — ऑस्ट्रेलिया
- (D) पश्चिमी घाट — भारत

Which of the following hotspots is *incorrectly* paired with its geographic region ?

- (A) Upper Guinean Forest — East Africa
- (B) Sinharaja Forest — Sri Lanka
- (C) Queensland — Australia
- (D) Western Ghats — India

62. यदि मुख्य भूमि और समुद्रपार क्षेत्रों दोनों पर विचार किया जाए, तो निम्नलिखित में से किस देश में समय क्षेत्रों की संख्या सबसे अधिक है ?

- (A) फ्रांस
- (B) संयुक्त राज्य अमेरिका
- (C) रूस
- (D) यूनाइटेड किंगडम

Which of the following countries has the highest number of time zones when both mainland and overseas territories are considered ?

- (A) France
- (B) United States
- (C) Russia
- (D) United Kingdom

63. किन अक्षांशों में महासागरीय जल में लवणता सर्वाधिक पाई जाती है ?

- (A) 40° - 60°
- (B) 20° - 40°
- (C) 10° - 20°
- (D) 0° - 10°

In which latitudes is the salinity of ocean water highest ?

- (A) 40° - 60°
- (B) 20° - 40°
- (C) 10° - 20°
- (D) 0° - 10°

- भाग - II / Section - II  
इतिहास / History
- 1337/11
3. Mahabharat aur Dipavansh ke anusar, निम्नलिखित में से किसके द्वारा अशोक को जीव धर्म में रूपांतरित किया गया ?  
According to the Mahavamsa and Dipavamsa, by whom among the following was Ashoka converted into Buddhism?  
(A) Mahinda (B) Moggaliputta Tissa (C) Bhadracharya (D) Yagyavalka
  4. किसकी स्पष्ट और प्रयोजक गज़लों ने उन्हें अलाउद्दीन खिलजी के शासनकाल में "हिंदुस्तान का सादी" की उपाधि हासिल की ?  
Whose lucid and charming ghazals earned him the title of the "Saadi of Hindustan" during the reign of Alauddin Khalji?  
(A) Khwaja Najm-ud-din Hasan (B) Minhaj-us-Siraj (C) Amir Khusrau (D) Ziauddin Barani
  5. मिर्जा गुलाम अहमद द्वारा लिखी गई वह कौन-सी पुस्तक थी जिसमें उनके धार्मिक सिद्धांतों का वर्णन किया गया था ?  
Which book written by Mirza Ghulam Ahmad expounded his religious doctrine?  
(A) Barahin-i-Ahmadiyya (B) Kitab-ul-Hind (C) Al-Hilal (D) Tahzib-ul-Akhlaq
  6. दक्षिण भारतीय राज्यों की प्रशासनिक संरचना में (विशेष रूप से चोल युग के दौरान), उन क्षेत्रों में जहाँ ब्रह्मण्य (भूस्वामी) आदम नहीं थे, ग्राम सभा के लिए विशिष्ट नाम क्या था ?  
Within the administrative structure of South Indian states (particularly during the Chola period), what was the specific name for the village assembly found in regions where the landholders were not Brahmins?  
(A) Nagaram (B) Nadu (C) Ur (D) Sabha
  7. जवाहरलाल नेहरू ने संविधान सभा में स्वतंत्र राष्ट्र के आदर्शों की रूपरेखा प्रस्तुत करते हुए "उद्देश्य प्रस्ताव" किस तिथि को पेश किया था ?  
On what specific date did Jawaharlal Nehru introduce the 'Objectives Resolution' in the Constituent Assembly, outlining the ideals of the independent nation?  
(A) 15 अगस्त, 1947 (B) 13 दिसंबर, 1946  
(C) 26 जनवरी, 1950 (D) 9 दिसंबर, 1946

7. कौन-सा हड़प्पा साइट विशाल स्नानघर संरचना और विशाल अनागर अवशेषों के लिए प्रसिद्ध है ?  
 (A) कालीकटर  
 (C) लोथल  
 (B) मोहनजोदड़ो  
 (D) लोथल
- Which Harappan site is famous for the Great Bath structure and large granary remains ?  
 (A) Kalibangan  
 (C) Lothal  
 (B) Mohenjodaro  
 (D) Lothal
8. अशोक के शिलालेखों के वितरण के अनुसार, अफगानिस्तान क्षेत्र में स्थित शिलालेखों के लिए कौन-सी दो विशिष्ट लिपियाँ प्रयुक्त की गईं ?  
 (A) ब्राह्मी और अरामाईक  
 (B) अरामाईक और ग्रीक  
 (C) ब्राह्मी और खरोष्ठी  
 (D) प्रकृत और पालि
- According to the distribution of Ashokan inscriptions, which two specific scripts were utilized for the edicts located in the region of Afghanistan ?  
 (A) Sanskrit and Aramaic  
 (B) Brahmi and Kharosthi  
 (C) Aramaic and Greek  
 (D) Prakrit and Pali
9. ऋग्वेद में उषा के संकाय में निम्नलिखित कवनों पर विचार कीजिए :  
 I. उषा को भोर की देवी माना जाता है।  
 II. ऋग्वेद में उनका 104 बार उल्लेख है और 20 स्तुतियाँ उनकी स्तुति में समर्पित हैं।  
 नीचे दिए गए विकल्पों में से सही उत्तर चुनिए :  
 (A) कथन I सही है, लेकिन कथन II गलत है।  
 (B) कथन I गलत है, लेकिन कथन II सही है।  
 (C) कथन I और कथन II दोनों गलत हैं।  
 (D) कथन I और कथन II दोनों सही हैं।
- Consider the following statements regarding Usha in the Rig Veda :  
 I. Usha is regarded as the Goddess of the Dawn.  
 II. She is mentioned 100 times in the Rig Veda and 20 hymns are addressed to her in praise.  
 Choose the correct answer from the options given below :  
 (A) Statement I is correct, but Statement II is incorrect.  
 (B) Statement I is incorrect, but Statement II is correct.  
 (C) Both Statement I and Statement II are incorrect.  
 (D) Both Statement I and Statement II are correct.
10. कौन-सा शैव संप्रदाय सर्वप्रथम यौगिक प्रथाओं से जुड़ा था और ऐसे तपस्वियों के रूप में वर्णित किया गया था जो अपने शरीर पर राख मलते थे ?  
 (A) कापालिक (B) कालामुख (C) लिंगायत (D) पाशुपत
- Which Shaiva sect was first associated with yogic practices and described as ascetics who smeared ashes on their bodies ?  
 (A) Kapalika (B) Kalamukha (C) Lingayat (D) Pashupata

11. राजगढ़, मगध की प्राचीन राजधानी, का प्राकृत में प्राचीन अर्थ क्या है ?  
 (A) नदी का तट (B) लोहे की भूमि  
 Rajagaha, the initial capital of Magadha, literally translates from Prakrit as which phrase ?  
 (A) City of the river (B) Land of iron (C) House of the king (D) City of elephants
12. अशोक के अधिकांश शिलालेख किस भाषा में थे ?  
 (A) ग्रीक (B) प्राकृत  
 Most Ashokan inscriptions were in which language?  
 (A) Greek (B) Prakrit (C) Aramaic (D) Sanskrit
13. पाणिनोक्त, जो सिद्धांतों के लिए 227 और नियुक्तियों के लिए 311 मठवाली-नियम निर्धारित करता है, किस बौद्ध ग्रंथ का हिस्सा है ?  
 (A) सुत्त विंग्य (B) खंधक (C) महावग्ग (D) चुल्लवग्ग  
 The Patimokkha, which lays down 227 monastic rules for monks and 311 rules for nuns, forms a part of which Buddhist text ?  
 (A) Sutta Vibhanga (B) Khandaka (C) Mahavagga (D) Chullavagga
14. महात्मा गांधी ने लंदन में द्वितीय गोलमेब सम्मेलन में किस वर्ष भाग लिया था ?  
 (A) 1930 (B) 1933 (C) 1932 (D) 1931  
 In which year did Mahatma Gandhi attend the Second Round Table Conference in London ?  
 (A) 1930 (B) 1933 (C) 1932 (D) 1931
15. वह नाम जिससे अशोक ने अपने शिलालेखों में स्वयं का उल्लेख किया, जिसका अर्थ 'देवताओं का प्रिय, सौम्य मुख वाला' है, वह है :  
 (A) प्रियदर्शी राजा (B) धर्मराज अशोक  
 (C) चक्रवर्ती सम्राट (D) देवानाम्पिय प्रियदर्सी  
 The name by which Ashoka referred to himself in his inscriptions, meaning 'Beloved of the Gods, of Kindly Countenance' is :  
 (A) Priyadarshi Raja (B) Dharmaraj Ashoka  
 (C) Chakravartin Samrat (D) Devanampiya Piyadassi
16. मुंडिगाक, दक्षिण-पूर्व अफगानिस्तान में अर्घंदब नदी की एक सूखी सहायक नदी पर स्थित एक महत्वपूर्ण पुरातात्विक स्थल, का उत्खनन 1950 और 1960 के दशकों में \_\_\_\_\_ द्वारा किया गया था।  
 (A) जे.एम. कासल (B) मॉर्टिमर व्हीलर  
 (C) अलेक्जेंडर कनिंघम (D) एच.डी. सांकलिया  
 Mundigak, an important archaeological site located on a dry tributary of the Arghandab River in south-east Afghanistan, was excavated in the 1950s and 1960s by \_\_\_\_\_  
 (A) J.M. Casal (B) Mortimer Wheeler  
 (C) Alexander Cunningham (D) H.D. Sankalia

17. 1947 में भारत और पाकिस्तान के बीच अंतर्राष्ट्रीय सीमाओं को निर्धारित करने के लिए नियुक्त सीमा आयोग की अध्यक्षता किसने की ?  
 (A) क्लेमेंट रेडक्लिफ (B) स्टाफोर्ड रेडक्लिफ (C) थॉमस रेडक्लिफ (D) सिरिल रेडक्लिफ  
 Who chaired the Boundary Commissions appointed in 1947 to demarcate the international borders between India and Pakistan ?  
 (A) Clement Radcliffe (B) Stafford Radcliffe (C) Thomas Radcliffe (D) Cyril Radcliffe

18. किस हड़प्पा स्थल पर सोने, चांदी, काले, सफ़ेद, लाल, पीले, 36 लंबे कार्नेलियन मणिकों और चांदी के स्पॉकर मणिकों का एक छोटा बड़ा बरतन मिला था ?  
 (A) मुन्दिगाक (B) राखीगढ़ी (C) लोथल (D) अल्लहाददीनी  
 At which Harappan site was a small terracotta jar containing ornaments of gold, silver, bronze, agate, 36 long carnelian beads and bronze spacer beads discovered ?  
 (A) Mundigak (B) Rakhigorhi (C) Lothal (D) Allahdino

19. निम्नलिखित घटनाओं को सही कालानुक्रमिक क्रम में व्यवस्थित कीजिए :

- I. चौरी-चौरा घटना 1932
- II. जलियांवाला बाग हत्याकांड 1919
- III. लाहौर कांग्रेस अधिवेशन 1929
- IV. असहयोग आंदोलन का शुभारंभ 1920

विकल्प :

- (A) IV, II, I, III
- (B)  II, IV, I, III
- (C) II, I, IV, III
- (D) I, II, IV, III

Arrange the following events in the correct chronological order :

- I. Chauri Chaura incident
- II. Jallianwala Bagh Massacre
- III. Lahore Congress Session
- IV. Launch of Non-Cooperation Movement

Options :

- (A) IV, II, I, III
- (B) II, IV, I, III
- (C) II, I, IV, III
- (D) I, II, IV, III

20. प्रागैतिहासिक संस्कृतियों और भूवैज्ञानिक युगों के संबंध में निम्नलिखित कथनों पर विचार कीजिए :

- I. मानक क्रांिकरण के अनुसार, पुराशाषण संस्कृतियाँ प्लीस्टोसीन भूवैज्ञानिक युग से संबंधित हैं।
- II. मध्यशाषण और नवशाषण संस्कृतियाँ होलोसीन युग से संबंधित हैं।

- (A) केवल I
- (B) केवल II
- (C)  I और II दोनों
- (D) न तो I न ही II

Consider the following statements regarding prehistoric cultures and geological eras :

- I. According to the standard classification, Palaeolithic cultures belong to the Pleistocene geological era.
- II. Mesolithic and Neolithic cultures belong to the Holocene era.

Which of the above statements is/are correct ?

- (A) Only I
- (B) Only II
- (C)  Both I and II
- (D) Neither I nor II

21. बुद्ध का पहला उपदेश दिया गया था :  
 (A) लुम्बिनी में (B) बोधगया में  
 The first sermon of the Buddha was delivered at :  
 (A) Lumbini (B) Bodhi Gaya
22. किसने तुर्की में एक दीवान और मुवायिन नामक मसलखिरी का एक संग्रह किया, जो मुस्लिम कानून का संग्रह है?  
 (A) बाबर (B) अकबर  
 Who wrote a Diwan in Turki and a collection of Manavis called Mahayin, which is a treatise on Muslim law?  
 (A) Babur (B) Akbar
23. फरवरी 1922 में किस विशिष्ट स्थान पर हुई हिंसक घटना के कारण महात्मा गाँधी की अग्रज अशफाक अली को अदालत में पेश किया गया?  
 (A) चौरी चौरा (B) चंपारण (C) खेड़ा (D) वाटवडी  
 At which specific location did a violent incident in February 1922 lead Mahatma Gandhi to arrest off the Non-Cooperation Movement?  
 (A) Chauri Chaura (B) Champaran (C) Kheda (D) Bardoli
24. नेवासा में स्तरीकृत संदर्भ में मध्य पुरापाषाणकालीन शिल्पकृतियों की खोज करने वाले किसने इसे "नेवासा उद्योग" नाम प्रचलित हुआ?  
 (A) एच.डी. सांकलिया (B) जॉर्ज कुसुम्बी (C) एलेक्जेंडर क्युमिंगहम (D) डी.डी. कसामी  
 Who first discovered Middle Palaeolithic artifacts in a stratified context at Nevasa, leading to the term "Nevasan Industry"?  
 (A) H.D. Sankalia (B) Alexander Cunningham (C) George Kusumbi (D) D.D. Kosambi
25. 1578 में, गोवा के पुर्तगाली वायसरॉय द्वारा अकबर के दरबार में पोर्चुगल के अम्बेसेडर को भेजा गया था?  
 (A) अफोंसो दे अल्बुकर्क (B) वसको डी गामा (C) दुआर्ते बार्बोसा (D) अंतोनियो कैब्रल  
 In 1578, who was sent by the Portuguese Viceroy of Goa as an ambassador to Akbar's court?  
 (A) Afonso de Albuquerque (B) Vasco de Gama (C) Duarte Barbosa (D) Antonio Cabral
26. प्राचीन जैन शास्त्रों का स्वरूप निर्धारित करने के लिए और धर्म की उच्च महत्वा को अवगत कराने के लिए कहा गया था?  
 (A) श्रवणबेलगोला (B) उज्जैन (C) पटलिपुत्र (D) मथुरा  
 Where was the first Jain Mahasabha held to determine the form of the ancient Jain scriptures?  
 (A) Shravanabelagola (B) Ujjain (C) Pataliputra (D) Mathura

27. किस बौद्ध ग्रंथ में बुद्ध ने एक स्वप्न का वर्णन किया है, जिसमें चार विभिन्न वर्णों (प्रकारों, रंगों) के पक्षी चारों दिशाओं से आकर उनके पैरों के पास बैठ गए ?

- (A) विनय पिटक (B) अंगुलर निकाय (C) मज्झिम निकाय (D) दीर्घ निकाय

In which Buddhist text does the Buddha describe a dream in which four birds of different varnas (kinds, colours) came from the four directions and sat at his feet ?

- (A) Vinaya Pitaka (B) Anguttara Nikaya (C) Majjhima Nikaya (D) Digha Nikaya

28. 1859 के किस प्रकाशन ने मानव उत्पत्ति को सृष्टि का एक कृत्य मानने वाले पारंपरिक विश्वास को चुनौती दी और पशुओं से मानव विकास के पक्ष में तर्क प्रस्तुत किया ?

- (A) द एविडेंस फॉर इवोल्यूशन (B) ऑन द ओरिजिन ऑफ स्पेशीज  
(C) सैपियन्स : ए ब्रीफ हिस्ट्री ऑफ ह्यूमनकाइंड (D) ए ब्रीफ हिस्ट्री ऑफ टाइम

Which 1859 publication challenged the traditional belief of human origin as an act of Creation and put forward the argument in support of human evolution from animals ?

- (A) The Evidence for Evolution (B) On the Origin of Species  
(C) Sapiens : A Brief History of Humankind (D) A Brief History of Time

29. वह उदारवादी नेता कौन थे जिन्हें महात्मा गाँधी ने भारत आगमन पर अपना 'राजनीतिक गुरु' स्वीकार किया था ?

- (A) डब्ल्यू.सी. बनर्जी (B) फिरोजशाह मेहता  
(C) गोपाल कृष्ण गोखले (D) दादाभाई नौरोजी

Who was the moderate leader whom Mahatma Gandhi acknowledged as his 'political mentor' (Guru) upon his arrival in India ?

- (A) W.C. Bonnerjee (B) Pherozeshah Mehta  
(C) Gopal Krishna Gokhale (D) Dadabhai Naoroji

30. मलिकपुर में, कुतुब से लगभग तीन मील दूर, सुल्तान गढ़ी स्थित है, जिसे 1231 - 32 ईस्वी में सुल्तान के सबसे बड़े पुत्र, नासिरुद्दीन महमूद के मकबरे के रूप में बनाया गया था। इस स्मारक का निर्माण किसने किया ?

- (A) अलाउद्दीन खिलजी (B) बलबन  
(C) कुतुबुद्दीन ऐबक (D) इल्तुतमिश

At Malikpur, about three miles from the Qutub, stands the Sultan Garhi, built in 1231 - 32 AD as the mausoleum of the Sultan's eldest son, Nasir-ud-din Mahmud. Who built this monument ?

- (A) Alauddin Khalji (B) Balban  
(C) Qutb-ud-din Aibak (D) Iltutmish

31. हड़प्पाई मुहर, जिसे सभ्यता की सबसे विशिष्ट पुरावस्तु माना जाता है, के निर्माण में किस विशेष सामग्री का उपयोग किया गया था ?

- (A) सेलखड़ी (B) ताँबा (C) फ़र्रॉन्स (D) टेराकोटा

Which specific material was used to manufacture the Harappan seal, which is considered the most distinctive artefact of the civilization ?

- (A) Steatite (B) Copper (C) Faience (D) Terracotta

32. बौद्ध परंपरा के अनुसार,

- (A) संस्कृत  
(A) Sanskrit

33. कुतुबुद्दीन ऐबक को ?

- (A) सुल्तान-ए-जलाल  
(C) लाखबख्श  
Which title was given to Qutub-ud-din Aibak ?  
(A) Sultan-e-Jalal  
(C) Lakhibaksh

34. सूची I को सूची II से मिलाएँ।

- सूची I  
(कृति)  
a. मिफ्ताह-अल-क़ादिर  
b. आशिक  
c. नूह सिफ़ा  
d. किरान-ए-अरब

कूट :  
(A) a-iii, b-ii, c-i, d-iv  
(C) a-i, b-ii, c-iii, d-iv  
Match List I with List II.

- List II  
(Works)  
a. Miftah-ul-Qadir  
b. Ashik  
c. Nuh Sifa  
d. Qiran-e-Arab

Codes :  
(A) a-i, b-ii, c-iii, d-iv  
(C) a-i, b-ii, c-iii, d-iv

35. अशोक के शिलालेखों में 'अशोक' शब्द का प्रयोग किस स्थान पर किया गया है ?

- (A) मौर्य  
(C) सैल्युस  
According to the inscriptions of Ashoka, the word 'Ashoka' is used at which place ?  
(A) Maurya  
(C) Seleucus

32. बौद्ध धर्म के अनुसार, बुद्ध की शैथिलिक शिक्षाएँ किस भाषा में संकलित की गई थी ?  
 (A) संस्कृत (B) प्रकृत (C) अर्धमगधी (D) पालि  
 According to Buddhist tradition, in which language were the earliest teachings of the Buddha compiled?  
 (A) Sanskrit (B) Prakrit (C) Ardhamagadhi (D) Pali

33. कुतुबुद्दीन ऐबक को उनकी उदारता के लिए कौन-सी उपाधि दी गई थी ?  
 (A) सुल्तान-ए-आदिब (B) खिलजी (C) लखनवा (D) मलिक-उल-हिंद  
 Which title was given to Qutb-ud-din Aibak for his generosity?  
 (A) Sulthan-e-Adil (B) Khilji (C) Lakhnaw (D) Malik-ul-Hind

34. सूची I को सूची II से सुमेलित कीजिए तथा सूचियों के नीचे दिए गए कूट का उपयोग कर सही उत्तर चुनिए :  
 सूची I (वर्ष)  
 a. मिर्जाह-उल-फतूह  
 b. अशिका  
 c. नुह सिपिह  
 d. किरान-उस-सादैन  
 सूची II (वर्ष)  
 i. 1291  
 ii. 1316  
 iii. 1318  
 iv. 1289  
 कूट :  
 (A) a-iii, b-ii, c-iv, d-i  
 (B) a-ii, b-iii, c-i, d-iv  
 (C) a-i, b-ii, c-iii, d-iv  
 (D) a-iv, b-i, c-ii, d-iii

Match List I with List II and choose the correct answer using the codes given below the lists :

List I (Work)  
 a. Miftah-ul-Futuh  
 b. Ashiqa  
 c. Nuh Sipih  
 d. Qiran-us-Sadain  
 List II (Year)  
 i. 1291  
 ii. 1316  
 iii. 1318  
 iv. 1289

Codes :  
 (A) a-iii, b-ii, c-iv, d-i  
 (B) a-ii, b-iii, c-i, d-iv  
 (C) a-i, b-ii, c-iii, d-iv  
 (D) a-iv, b-i, c-ii, d-iii

35. अशोक के शिलालेखों के अनुसार, इत्थिजक्क-महामत्त के लिए उत्तरदायी थे।  
 (A) महिला कल्याण (B) न्यायिक प्रशासन  
 (C) सैन्य प्रशासन (D) कर संग्रह  
 According to Ashokan inscriptions, the Itthihakka-mahamattas were responsible for \_\_\_\_\_  
 (A) Welfare of women (B) Judicial administration  
 (C) Military administration (D) Collection of taxes

36. किस मुगल सम्राट ने चित्रकारों उस्ताद मंसूर और अबुल हसन को 'नादिर-उल-अस्र' और 'नादिर-उल-जमान' की उपाधियाँ प्रदान कीं ?

- (A) बाबर (B) शाहजहाँ (C) जहाँगीर (D) अकबर

Which Mughal emperor bestowed the titles 'Nadir-ul-Asr' and 'Nadir-ul-Zaman' on the painters Ustad Mansur and Abul Hasan ?

- (A) Babur (B) Shah Jahan (C) Jahangir (D) Akbar

37. किस प्रमुख व्यक्तित्व को 'इंडिया: ए नेशन' और 'हाउ इंडिया रॉट फॉर फ्रीडम' नामक राजनीतिक कृतियों का श्रेय दिया जाता है ?

- (A) सरोजिनी नायडू (B) मैडम कामा (C) अरुणा आसफ अली (D) एनी बेसेंट

Which prominent personality is credited with the political works - "India : A Nation" and "How India Wrought for Freedom" ?

- (A) Sarojini Naidu (B) Madame Cama (C) Aruna Asaf Ali (D) Annie Besant

38. सूची I को सूची II के साथ सुमेलित कीजिए तथा सूचियों के नीचे दिए कूट से सही उत्तर चुनिए :

सूची I

(मध्यपाषाणकालीन स्थल)

- a. आदमगढ़  
b. तिलवाड़ा  
c. लंघनाज  
d. चोपानी मांडो

कूट :

- (A) a-iii, b-iv, c-i, d-ii  
(C) a-ii, b-i, c-iv, d-iii

सूची II

(स्थान)

- i. उत्तर गुजरात  
ii. उत्तर प्रदेश  
iii. मध्य प्रदेश  
iv. बाइमेर

(B) a-iv, b-iii, c-ii, d-i

(D) a-i, b-ii, c-iii, d-iv

Match List I with List II and select the correct answer from the codes given below the lists :

List I

(Mesolithic Site)

- a. Adamgarh  
b. Tilwara  
c. Langhnaj  
d. Chopani Mando

Codes :

- (A) a-iii, b-iv, c-i, d-ii  
(C) a-ii, b-i, c-iv, d-iii

List II

(Place)

- i. North Gujarat  
ii. Uttar Pradesh  
iii. Madhya Pradesh  
iv. Barmer

(B) a-iv, b-iii, c-ii, d-i

(D) a-i, b-ii, c-iii, d-iv

39. बुद्ध की मुख्य शिक्षाओं में अनित्य, अनत्ता और दुःख की अवधारणाएँ शामिल हैं। अनत्ता का क्या अर्थ है ?

- (A) आत्महीन (B) त्याग (C) कर्म (D) दुःख

The core teachings of Buddha include the concepts of anicca, anatta, and dukkha. What does anatta mean ?

- (A) Soulless (B) Sacrifice (C) Karma (D) Sorrow

40. ...  
I. ...  
II. ...  
(A) ...  
(B) ...  
(C) ...  
(D) ...

Consider the following statements  
I. The rock paintings of ...  
II. Blombekka was ...  
Choose the correct answer ...  
(A) Both Statement I and II  
(B) Statement I is correct, II  
(C) Statement I is incorrect, II  
(D) Both Statement I and II

41. किसने मिर्जा अस्करी को जयपुर सलाहकार भी नियुक्त किया ?  
(A) हुमायूँ  
Who appointed Mirza Asaf appointed the veteran Humayun  
(A) Humayun

42. नौशारो से प्राप्त एक असाधारण सामग्री से बनी थी ?  
(A) ताँबा  
An unusual figurine of an infant, was made of which  
(A) Copper

43. संविधान सभा के वे कम्युनिस्ट यह एक ब्रिटिश रचना थी ?  
(A) एन.जी. रंगा  
Who was the communist actually being manipulated  
(A) N.G. Ranga

40. ...  
 (D) Akbar  
 ...  
 (D) Annie Besant

40. भीमबेटका चैतन्यी के बारे में निम्नलिखित कथनों का विचार कीजिए :  
 I. भीमबेटका चैतन्यी का अन्वेषण पी.एम. वाकणकर, यशोधर माथपाल और एरविन न्युमार्जर ने किया था।  
 II. भीमबेटका को 2003 में यूनेस्को द्वारा विश्व धरोहर स्थल घोषित किया गया था।  
 (A) कथन I और कथन II दोनों सत्य हैं।  
 (B) कथन I सत्य है, लेकिन कथन II सत्य नहीं है।  
 (C) कथन I सत्य है, लेकिन कथन II सत्य नहीं है।  
 (D) कथन I और कथन II दोनों सत्य हैं।

Consider the following statements about the rock paintings of Bhimbetka :  
 I. The rock paintings of Bhimbetka were studied by V.S. Wakankar, Yashodhar Mathpal, and Erwin Neumayer.  
 II. Bhimbetka was declared a World Heritage Site by UNESCO in 2003.  
 Choose the correct answer from the options given below :  
 (A) Both Statement I and Statement II are incorrect.  
 (B) Statement I is correct, but Statement II is incorrect.  
 (C) Statement I is incorrect, but Statement II is correct.  
 (D) Both Statement I and Statement II are correct.

41. किसने मिर्जा अस्करी को अहमदाबाद में मुख्यालय के साथ गुजरात का वायसराय नियुक्त किया और अनुभवी हिंदू बेग को उनका सलाहकार भी नियुक्त किया ?  
 (A) हुमायूँ (B) बाबर (C) अकबर (D) शेरशाह सूरी  
 Who appointed Mirza Askari as the Viceroy of Gujarat with his headquarters at Ahmedabad, and also appointed the veteran Hindu Beg as his advisor ?  
 (A) Humayun (B) Babur (C) Akbar (D) Sher Shah Suri

42. नाशरों से प्राप्त एक असामान्य मूर्ति, जिसमें स्त्रियौचित शिरोभूषण पहने एक पुरुष को एक शिशु को पकड़े हुए दर्शाया गया है, किस सामग्री से बनी थी ?  
 (A) तांबा (B) सिलवडी (स्टिप्टाइट) (C) कांस्य (D) टेराकोटा  
 An unusual figurine discovered at Nausharo, depicting a male with a feminine head-dress holding an infant, was made of which material ?  
 (A) Copper (B) Steatite (C) Bronze (D) Terracotta

43. संविधान सभा के वे कम्युनिस्ट सदस्य कौन थे जिन्होंने चेतावनी दी थी कि सभा वास्तव में ब्रिटिशों द्वारा नियंत्रित की जा रही थी और यह एक ब्रिटिश रचना थी ?  
 (A) एन.जी. रंगा (B) सोमनाथ लाहिड़ी (C) जयपाल सिंह (D) जे.बी. कृपालानी  
 Who was the communist member of the Constituent Assembly who cautioned that the Assembly was actually being manipulated by the British and was a British creation ?  
 (A) N.G. Ranga (B) Somnath Lahiri (C) Jaipal Singh (D) J.B. Kripalani

44. अलाउद्दीन खिलजी के शासनकाल में दक्षिण भारत का राजस्थानी राज्यों में विभाजित था। निम्नलिखित राज्यों का नाम राजधानियों के साथ मिलाएँ :

- |           |            |
|-----------|------------|
| राज्य     |            |
| a. यादव   | i. देवगिरी |
| b. काकतीय | ii. वांगी  |
| c. होयसल  | iii. चामरा |
| d. पांड्य | iv. मदन    |

- कूट :  
 (A) a-ii, b-iv, c-iii, d-i  
 (C) a-i, b-iii, c-ii, d-iv

During the reign of Alauddin Khilji, South India was divided into four powerful kingdoms. Match the following Kingdoms with their Capitals :

- |             |              |
|-------------|--------------|
| Kingdom     |              |
| a. Yadava   | i. Devagiri  |
| b. Kakatiya | ii. Wangi    |
| c. Hoysala  | iii. Chamara |
| d. Pandya   | iv. Madan    |

- Codes :  
 (A) a-ii, b-iv, c-iii, d-i  
 (C) a-i, b-iii, c-ii, d-iv

45. होमो वर्स के वर्गीकरण में, किस प्रजाति को विशेष रूप से "होमो हेइडोलेनसिस" के रूप में वर्गीकृत किया गया है ?

- (A) होमो हेइडोलेनसिस  
 (C) होमो हेबिलिस

In the classification of the genus Homo, which species is specifically designated as the "tool maker" ?

- (A) Homo heidelbergensis  
 (C) Homo habilis

46. पंजाब और सिंध के बाहर किस क्षेत्र में पुरातत्त्वविदों द्वारा हड़प्पा सभ्यता के अवशेष पाए जा चुके हैं ?

- (A) शोर्तगैह  
 (B) चोलिस्तान  
 (C) नगेश्वर  
 (D) धोलवीरा

In which region outside Punjab and Sindh were traces of Harappan culture discovered ?

- (A) Shortughai  
 (B) Cholistan  
 (C) Nagashwar  
 (D) Dholavira

47. फ्रांसीसी चिकित्सक ने किस मुगल राजकुमार के चिकित्सक के रूप में सेवा की ?

- (A) शाहजहाँ  
 (B) जहाँगीर  
 (C) दारा शिकोह  
 (D) औरंगजेब

François Bernier served as physician to which Mughal prince ?

- (A) Shah Jahan  
 (B) Jahangir  
 (C) Dara Shikoh  
 (D) Aurangzeb

48. शिलालेखों में 'परम भागवत' की उपाधि धारण करने वाला पहला गुप्त शासक कौन था ?  
 (A) समुद्रगुप्त (B) चंद्रगुप्त प्रथम (C) चंद्रगुप्त द्वितीय (D) कुमारगुप्त प्रथम  
 Which Gupta ruler was first associated with the title "Param Bhagavata" in inscriptions?  
 (A) Samudragupta (B) Chandragupta I (C) Chandragupta II (D) Kumaragupta I

49. सूची I को सूची II से सुमेलित कीजिए तथा सूचियों के नीचे दिए गए कूट का उपयोग कर सही उत्तर चुनिए :

सूची I (अधिकारी)	सूची II (कार्य)
a. दीवान-ए-तन	i. आय और व्यय का निरीक्षक
b. मुस्तौफी	ii. संपत्तियों और वेतन का प्रबंधक
c. वाकिया-ए-नवीस	iii. कार्यालय प्रबंधक एवं रिकार्ड्स का पर्यवेक्षक
d. मुशरिफ़	iv. घटनाओं और शाही आदेशों का संरक्षक

कूट :

- (A) a-iv, b-i, c-ii, d-iii (B) a-i, b-ii, c-iii, d-iv  
 (C) a-ii, b-i, c-iv, d-iii (D) a-ii, b-iii, c-i, d-iv

Match List I with List II and choose the correct answer using the codes given below the lists :

List I (Officer)	List II (Function)
a. Diwan-i-Tan	i. Inspector of income and expenditure
b. Mustawfi	ii. Manager of estates and salaries
c. Waqia-i-Navis	iii. Office manager and supervisor of records
d. Mushrif	iv. Keeper of records of events and royal orders

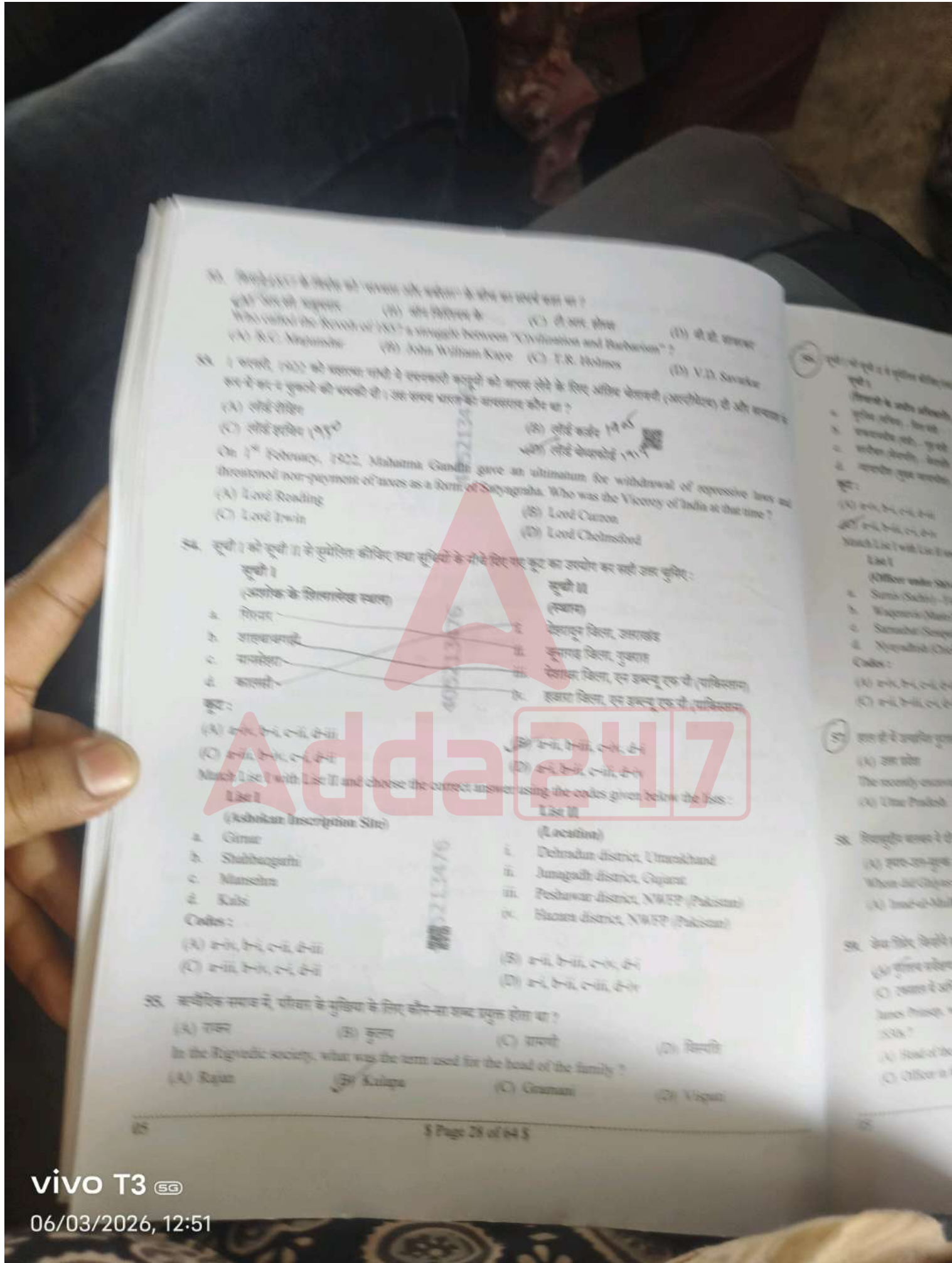
Codes :

- (A) a-iv, b-i, c-ii, d-iii (B) a-i, b-ii, c-iii, d-iv  
 (C) a-ii, b-i, c-iv, d-iii (D) a-ii, b-iii, c-i, d-iv

50. मोती मस्जिद को "अपनी श्रेणी की सबसे विशुद्ध और सबसे सुसज्जित इमारतों में से एक, जैसी दुनिया में कहीं और मिलना कठिन है" के रूप में किसने वर्णित किया ?  
 (A) विंसेंट स्मिथ (B) अबुल फजल (C) जेम्स फर्ग्यूसन (D) जॉन मार्शल

Who described the Moti Masjid as "one of the purest and most elegant buildings of its class to be found anywhere" ?  
 (A) Vincent Smith (B) Abul Fazl (C) James Fergusson (D) John Marshall

51. निम्नलिखित में से कौन-सा ऋग्वेद में उल्लिखित सात प्रकार के यज्ञ पुरोहितों (सप्तहोतृ) में से एक नहीं था ?  
 (A) उद्गातृ (B) अध्वर्यु (C) मित्रावरुण (D) होतृ  
 Which of the following was *not* one of the seven types of sacrificial priests (Sapta-hotri) mentioned in the Rig Veda ?  
 (A) Udgatri (B) Adhvaryu (C) Maitravaruna (D) Hotri



4075213476

4075213476

- 1. Which of the following is a correct statement about the book 'The Untouchables' by B.R. Ambedkar? (a) It is a collection of essays. (b) It is a collection of speeches. (c) It is a collection of letters. (d) It is a collection of articles.
- 2. The book 'The Untouchables' is a study of the caste system in India. Who is the author of this book? (a) B.R. Ambedkar (b) J.B. Humberstone (c) T.R. Srinivasan (d) V.D. Savarkar
- 3. On 14 February, 1942, Mahatma Gandhi gave an ultimatum to the British government to withdraw all repressive laws. What was the name of this ultimatum? (a) Poona Resolution (b) Poona Manifesto (c) Poona Declaration (d) Poona Statement
- 4. The Poona Resolution was passed by the Congress Working Committee. Who was the Vice-Chairman of the Committee? (a) Lala Lajpat Rai (b) Lala Hansa Lal (c) Lala Bhanu Prasad (d) Lala Gopal Prasad



- 5. The Poona Resolution was passed by the Congress Working Committee. Who was the Vice-Chairman of the Committee? (a) Lala Lajpat Rai (b) Lala Hansa Lal (c) Lala Bhanu Prasad (d) Lala Gopal Prasad
- 6. The Poona Resolution was passed by the Congress Working Committee. Who was the Vice-Chairman of the Committee? (a) Lala Lajpat Rai (b) Lala Hansa Lal (c) Lala Bhanu Prasad (d) Lala Gopal Prasad
- 7. The Poona Resolution was passed by the Congress Working Committee. Who was the Vice-Chairman of the Committee? (a) Lala Lajpat Rai (b) Lala Hansa Lal (c) Lala Bhanu Prasad (d) Lala Gopal Prasad
- 8. The Poona Resolution was passed by the Congress Working Committee. Who was the Vice-Chairman of the Committee? (a) Lala Lajpat Rai (b) Lala Hansa Lal (c) Lala Bhanu Prasad (d) Lala Gopal Prasad

56. सूची I को सूची II में सुमेलित कीजिए तथा सूची I के नीचे दिए गए कूट का उपयोग कर सही उत्तर चुनिए।  
**सूची I**  
 (शिवराजी के अर्थात् अधिकारी)  
 a. सूरुतिस (सचिव) - वित्त मंत्री  
 b. वाक्यावलीस (मंत्री) - गृह मंत्री  
 c. सारनाउबत (सेनापति) - सेनापति  
 d. न्यायाधीश (मुख्य न्यायाधीश)

**सूची II**  
 (अधिकारी)  
 i. अन्नपति  
 ii. दत्तात्रय त्रिभक्त  
 iii. हम्बिरराव मोहिते  
 iv. राजा बिराज

कूट :  
 (A) a-iv, b-i, c-ii, d-iii  
 (B) a-ii, b-iii, c-i, d-iv

(C) a-ii, b-i, c-iv, d-iii  
 (D) a-i, b-ii, c-iii, d-iv

Match List I with List II and choose the correct answer using the codes given below the lists.

**List I**  
 (Officer under Shivaji)  
 a. Surutis (Sachiv) - Finance Minister  
 b. Waqenavis (Mantri) - Home Minister  
 c. Sarnaubat (Senapati) - Commander in Chief  
 d. Nyayadhish (Chief Judge)

**List II**  
 (Official)  
 i. Annapati  
 ii. Dattaji Trimbak  
 iii. Hambirrao Mohite  
 iv. Raja Biraj

Codes :  
 (A) a-iv, b-i, c-ii, d-iii  
 (C) a-ii, b-iii, c-i, d-iv

(B) a-ii, b-i, c-iv, d-iii  
 (D) a-i, b-ii, c-iii, d-iv

57. हाल ही में उत्खनित पुरातात्विक स्थल बिहिरास किस भारतीय राज्य में स्थित है ?

- (A) उत्तर प्रदेश
- (B) राजस्थान
- (C) पंजाब
- (D) हरियाणा

The recently excavated archaeological site Bhirsara is located in which Indian state ?

- (A) Uttar Pradesh
- (B) Rajasthan
- (C) Punjab
- (D) Haryana

58. गिद्यासूरीन बलबल ने शिवाजी-ए-असल के पद पर किसे नियुक्त किया ?

- (A) इमद-उल-मुल्क
- (B) बिराम खान
- (C) मालिक काफूर
- (D) इमाम-उल-मुल्क

Whom did Ghiyas-ud-din Balban appoint to the post of Dewan-i-Arz ?

- (A) Imad-ul-Mulk
- (B) Bairam Khan
- (C) Malik Kafur
- (D) Imam-ul-Mulk

59. जेम्स प्रिसेप, ब्रिहमी और खरोष्ठी लिपियों का अर्थ निकालने के 1830 के दशक में भारत में खोज-का पद संभाले का ?

- (A) पुरातात्विक सर्वेक्षण का प्रमुख
- (B) गवर्नर जनरल का सचिव
- (C) टिक्काल में अधिकारी
- (D) सचिव जनरल

James Prinsep, who deciphered the Brahmi and the Kharosthi scripts, held which position in India in the 1830s ?

- (A) Head of the Archaeological Survey
- (B) Governor General's Secretary
- (C) Officer in the mint
- (D) Surveyor General

60. सूची I को सूची II के साथ सुसंगत कीजिए, तथा सूची I के नीचे दिए कूट से सही उत्तर चुनिए।  
 सूची I  
 (उत्तर हड़प्पा स्थल)  
 a. माहोराना  
 b. दौलतपुर  
 c. कान्मर  
 d. ओरियो टिम्बो  
 कूट :  
 (A) a-iv, b-iii, c-i, d-ii  
 (C) a-i, b-iv, c-ii, d-iii

सूची II  
 (स्थान)  
 i. भावनगर जिला, गुजरात  
 ii. कुरुक्षेत्र जिला, हरियाणा  
 iii. संगरूर जिला, पंजाब  
 iv. काच जिला, गुजरात

Match List I with List II and select the correct answer from the codes given below the line.  
 List I  
 (Late Harappan Site)  
 a. Mahorana  
 b. Daulatpur  
 c. Kanmer  
 d. Oriyo Timbo  
 Codes :  
 (A) a-iv, b-iii, c-i, d-ii  
 (C) a-i, b-iv, c-ii, d-iii

List II  
 (Locations)  
 i. Bhavnagar district, Gujarat  
 ii. Kurukshetra district, Haryana  
 iii. Sangrur district, Punjab  
 iv. Kach district, Gujarat  
 (B) a-ii, b-i, c-iii, d-iv  
 (D) a-iii, b-ii, c-iv, d-i

61. इब्न बतूता ने किस दिल्ली सुल्तान के अधीन काजी के रूप में सेवा की ?  
 (A) फिरोज़ शाह तुगलक  
 (C) अलाउद्दीन खिलजी  
 Ibn Battuta served as Qazi under which Delhi Sultan ?  
 (A) Firoz Shah Tughlaq  
 (C) Alauddin Khilji

62. 1279 में, गियासुद्दीन बलबान ने लखनौ (बंगाल) में तुगलक के विद्रोह को दबाने के लिए भेजे गए कौनसे व्यक्ति को ?  
 (A) बैरम खान  
 (C) अमीन खान  
 In 1279, whom did Ghias-ud-din Balban first send to suppress Tughlaq's revolt in Lakhnau (Bengal) ?  
 (A) Bairam Khan  
 (C) Amin Khan

63. निम्नलिखित में से ऋग्वेद के किस मंडल में सोम की स्तुति के लिए वृत्त मिलते हैं ?  
 (A) दसवें मंडल में  
 (B) तृतीय मंडल में  
 (C) नवम मंडल में  
 (D) प्रथम मंडल में  
 In which of the following mandalas of the Rig Veda are the hymns for the praise of Soma found ?  
 (A) Tenth Mandala (B) Third Mandala (C) Ninth Mandala (D) First Mandala



6. निम्नलिखित में से कौन-सा माँग वक्र के बाएँ से दाएँ नीचे की ओर चलाने का वैध कारण नहीं है ?  
 (A) सीमान्त उपयोगिता में ह्रास का प्रभाव (B) प्रतिस्थापन प्रभाव  
 (C) गिफेन का विरोधाभास (D) आय प्रभाव
- Which of the following is *not* a valid reason for the demand curve to slope downward from left to right ?  
 (A) Diminishing marginal utility effect (B) Substitution effect  
 (C) Giffen's paradox (D) Income effect

7. निम्नलिखित में से कौन-सा विभिन्न क्षेत्रों में प्रक्रियाओं की गति और परिवर्तन की प्रगति का अध्ययन करता है ?  
 (A) व्यष्टि गतिक विश्लेषण (B) समष्टि स्थैतिक विश्लेषण  
 (C) समष्टि गतिक विश्लेषण (D) व्यष्टि स्थैतिक विश्लेषण
- Which of the following studies the movement in procedures and the pace of change across various sectors ?  
 (A) Micro dynamic analysis (B) Macro static analysis  
 (C) Macro dynamic analysis (D) Micro static analysis

8. व्यष्टि-अर्थशास्त्र में, किसी वस्तु की एक अतिरिक्त इकाई प्राप्त करने के लिए दूसरी वस्तु का जो त्याग करना पड़ता है, उसे क्या कहा जाता है ?

- (A) अवसर लागत (B) सामाजिक लागत  
 (C) सीमान्त लागत (D) औसत लागत

In micro-economics, the cost of having one more unit of a good in terms of the other good that must be given up is called what ?

- (A) Opportunity cost (B) Social cost  
 (C) Marginal cost (D) Average cost

9. आर्थिक सर्वेक्षण 2025 - 26 के अनुसार, 2022 - 23 में भारत की सकल स्थिर पूंजी निर्माण दर क्या थी ?

- (A) 31.2 (B) 33.1  
 (C) 29.1 (D) 30.2

As per the Economic Survey 2025 - 26, what was India's Gross Fixed Capital Formation (GFCF) rate in 2022 - 23 ?

- (A) 31.2 (B) 33.1  
 (C) 29.1 (D) 30.2

10. क्रैवे-क्रैवे किसी वस्तु की क्रमागत इकाइयों \_\_\_\_\_, कुल उपयोगिता बढ़ती है लेकिन सीमांत उपयोगिता \_\_\_\_\_।

- (A) बढ़ती है; अपरिवर्तित रहती है (B) अपरिवर्तित रहती हैं; घटती है  
 (C) बढ़ती है; घटती है (D) घटती हैं; बढ़ती है

As the successive units of a commodity \_\_\_\_\_, total utility increases but marginal utility \_\_\_\_\_.

- (A) increase; remains unchanged (B) remain unchanged; decreases  
 (C) increase; decreases (D) decrease; increases

11. उच्च न्यायालय में सम्बन्धित साबरन द्वारा नियुक्त किया किन्तु उसे वापस करने  
 (A) 3 (B) 1 (C) 5 (D) 2  
 A Labour Court shall consist of \_\_\_\_\_ person(s) to be appointed by the appropriate Government.
12. फ्रैंक हाइमैन नाइट के लाभ सिद्धांत के संबंध में निम्नलिखित कथनों पर विचार कीजिए :  
 I. जोखिमों को बीमा-योग्य जोखिमों और नै-बीमा-योग्य जोखिमों में वर्गीकृत किया जाता है।  
 II. केवल नै-बीमा-योग्य जोखिम ही लाभ उत्पन्न करते हैं।  
 III. बीमा-योग्य जोखिम भी लाभ उत्पन्न करते हैं।  
 उपर्युक्त में से कौन-सा/से कथन सही है/हैं ?  
 (A) केवल I और II (B) केवल I और III (C) I, II और III (D) 2

Consider the following statements regarding Frank Hyman Knight's theory of risks:  
 I. Risks are classified into insurable risks and non-insurable risks.  
 II. Only non-insurable risks generate profits.  
 III. Insurable risks also generate profits.  
 Which of the above statements is/are correct?  
 (A) I and II only (B) I and III only (C) I, II and III (D) Only I

13. ह्यू डाल्टन द्वारा विकसित जनसंख्या असंतुलन सूत्र  $M = (A - O)/O$  में, यदि 'M' का मान धनात्मक हो तो इसका क्या अर्थ है ?  
 (A) जनसंख्या स्थिर है (B) इष्टतम जनसंख्या  
 (C) अल्प जनसंख्या (D) अत्यधिक जनसंख्या

In the population maladjustment formula  $M = (A - O)/O$  developed by Hugh Dalton, what does it signify if the value of 'M' is positive?  
 (A) Population is stable (B) Optimum population  
 (C) Under population (D) Over population

14. नवीन औद्योगिक नीति, 1991 के संबंध में निम्नलिखित कथनों पर विचार कीजिए :  
 I. 18 उद्योगों को छोड़कर सभी उद्योगों के लिए लाइसेंसिंग समाप्त कर दी गई।  
 II. उच्च-प्राथमिकता वाले उद्योगों में 49% विदेशी इक्विटी तक प्रत्यक्ष विदेशी निवेश (एफडीआई) की अनुमति दी गई थी।  
 III. यदि संपूर्ण उत्पादन निर्यात किया जाता था तो 100% विदेशी इक्विटी की अनुमति थी।  
 उपर्युक्त में से कौन-से कथन सही हैं ?  
 (A) केवल I और III (B) केवल I और II (C) केवल II और III (D) I, II और III

Consider the following statements regarding the New Industrial Policy, 1991:  
 I. Licensing was abolished for all industries except 18 industries.  
 II. Foreign Direct Investment (FDI) up to 49% foreign equity was permitted in high-priority industries.  
 III. 100% foreign equity was allowed if the entire production was exported.  
 Which of the above statements are correct?  
 (A) I and III only (B) I and II only (C) II and III only (D) I, II and III

15. प्रधानमंत्री स्ट्रीट वेंडर आयुर्ध्वर निधि (Pradhan Mantri Street Vendor's Aid Scheme) was launched in \_\_\_\_\_
- (A) अक्टूबर, 2022 (B) अक्टूबर, 2015  
(C) अक्टूबर, 2018 (D) अक्टूबर, 2020
- The PM Street Vendor's Aid Scheme (PM SVShakti) Scheme, was launched in \_\_\_\_\_
- (A) June, 2022 (B) June, 2015  
(C) June, 2018 (D) June, 2020
16. वह बाजार संरचना जिसमें एक ही वस्तु के बीच एकल विक्रेता, क्रेता हैं, उसे कहता है ?
- (A) एकाधिकारवादी प्रतिस्पर्धा (B) अल्पविक्रेता  
(C) एकाधिकार (D) पूर्ण प्रतिस्पर्धा
- The market structure in which there is interdependence among firms is known as \_\_\_\_\_
- (A) Monopolistic competition (B) Oligopoly  
(C) Monopoly (D) Perfect competition
17. क्रय शक्ति समता में \_\_\_\_\_ को शामिल नहीं किया जाता है।
- (A) मूल्य स्तर (B) पूंजी प्रवाह (C) जीविकपान की लागत (D) मुद्रास्फीति दर
- Purchasing Power Parity does not factor in the \_\_\_\_\_
- (A) Price levels (B) Capital flows (C) Cost of living (D) Inflation rate
18. वे सब्सिडी जिन्हें संपन्न सामाजिक कल्याण में दीर्घकालिक \_\_\_\_\_ के आधार पर प्रोत्साहित किया जा सकता है, क्या कहानी है ?
- (A) उच्च मूल्य की सब्सिडी (B) प्रभावी सब्सिडी  
(C) सर्वसम्पन्न सब्सिडी (D) बेरिड सब्सिडी
- Subsidies which can be justified on the grounds of a long-term approach to aggregate social welfare are known as \_\_\_\_\_
- (A) High-value subsidies (B) Effective subsidies  
(C) Rational subsidies (D) Merit subsidies
19. "हस्तशिल्प क्षेत्र" के लिए, नीति "हस्तशिल्प विकास केंद्र" स्थापित करने की प्रोत्साहित करती है। यह केंद्र विकसित करने में से \_\_\_\_\_ को-सी सुविधा प्रदान नहीं करते हैं ?
- (A) कच्चे माल की आपूर्ति (B) डिजाइन और तकनीकी मार्गदर्शन  
(C) विपणन सहायता (D) संबंधित सामग्री का एकीकृत और क्षेत्र-आधारित तरीके से निर्माण
- For the "handicrafts sector", the policy envisages setting up of "Craft Development Centres". These centres do not offer which of the following facilities?
- (A) Supply of raw materials (B) Design and technical guidance  
(C) Marketing support (D) Producing related inputs in an integrated and area-based manner

20. \_\_\_\_\_
- (A) a-ii, b-i, c-iii, d-iv  
(B) a-i, b-ii, c-iii, d-iv
- Match the Examples of protectionism with answer using the codes given below.
- List I  
(Protectionism Examples)
- a. European Union Agricultural Subsidies  
b. Tariffs of the Trading Agreement  
c. Anti-Dumping Tariffs  
d. Argentine Tariffs on Food
- Codes :  
(A) a-iii, b-i, c-ii, d-iv  
(C) a-i, b-ii, c-iii, d-iv
21. \_\_\_\_\_ के साथ-साथ \_\_\_\_\_
- (A) जनसंख्या, आय, अर्थ  
(C) जनसंख्या, मूल्य, अर्थ
- The theory of optimum population establishes a relationship between \_\_\_\_\_
- (A) Population, literacy, cost  
(C) Population, demand, cost

20. सूची I में संरक्षणवाद के उदाहरणों को सूची II में उनके उदाहरणों के साथ मिलाएँ और सही कोड चुनें।

- सूची I**  
(संरक्षणवाद के उदाहरण)
- a. यूरोपीय संघ का कृषि संरक्षणवाद
  - b. ट्रम्प प्रशासन के प्रशुल्क (टैरिफ)
  - c. भारत-चीन (एडी-डीपिंग) प्रशुल्क (टैरिफ)
  - d. खाद्य पदार्थों पर आर्जेंटीना के प्रशुल्क (टैरिफ)

- सूची II**  
(उदाहरण)
- i. आयात शुल्कों को बढ़ाकर अंतरराष्ट्रीय बाजार में स्थानीय किसानों को सुरक्षा प्रदान करना
  - ii. चीन से आयातित रेफ्रिजरेटर, धोने की मशीनें और कपड़े पर उच्च प्रशुल्क
  - iii. किसानों की आय बढ़ाने और स्थानीय किसानों को सुरक्षा प्रदान करने के लिए WTO द्वारा किए गए प्रयास
  - iv. WTO द्वारा किए गए प्रयास, क्योंकि सस्ता आयात स्थानीय किसानों को बचाने में मदद करता है

- कोड :**
- (A) a-iii, b-i, c-ii, d-iv
  - (C) a-i, b-ii, c-iii, d-iv

Match the Examples of Protectionism in List I with their Explanations in List II and choose the correct answer using the codes given below the lists :

- List I**  
(Protectionism Example)
- a. European Union Agricultural Protectionism
  - b. Tariffs of the Trump Administration
  - c. Anti-Dumping Tariffs
  - d. Argentina Tariffs on Food

- (B) a-iii, b-ii, c-iv, d-i
- (D) a-i, b-iii, c-iv, d-ii

- List II**  
(Explanation)
- i. Import duties increased under Mercosur Common External Tariff
  - ii. Higher tariffs on refrigerators, washing machines, and clothes from China
  - iii. Increase the farmer's income and protect the local farmers
  - iv. Justified by the WTO because cheap imports make the survival of domestic firms difficult

- Codes :**
- (A) a-iii, b-i, c-ii, d-iv
  - (C) a-i, b-ii, c-iii, d-iv

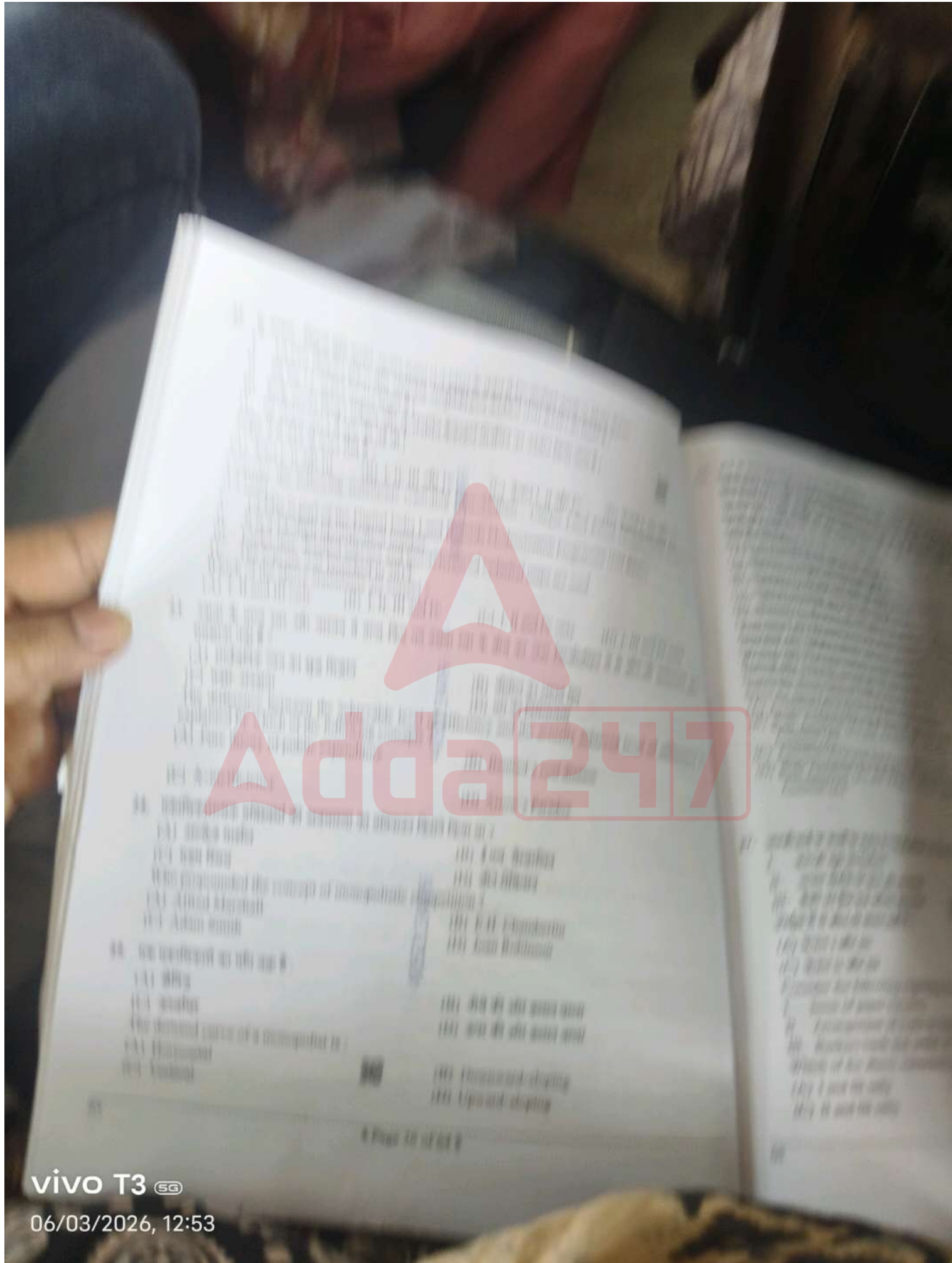
- (B) a-iii, b-ii, c-iv, d-i
- (D) a-i, b-iii, c-iv, d-ii

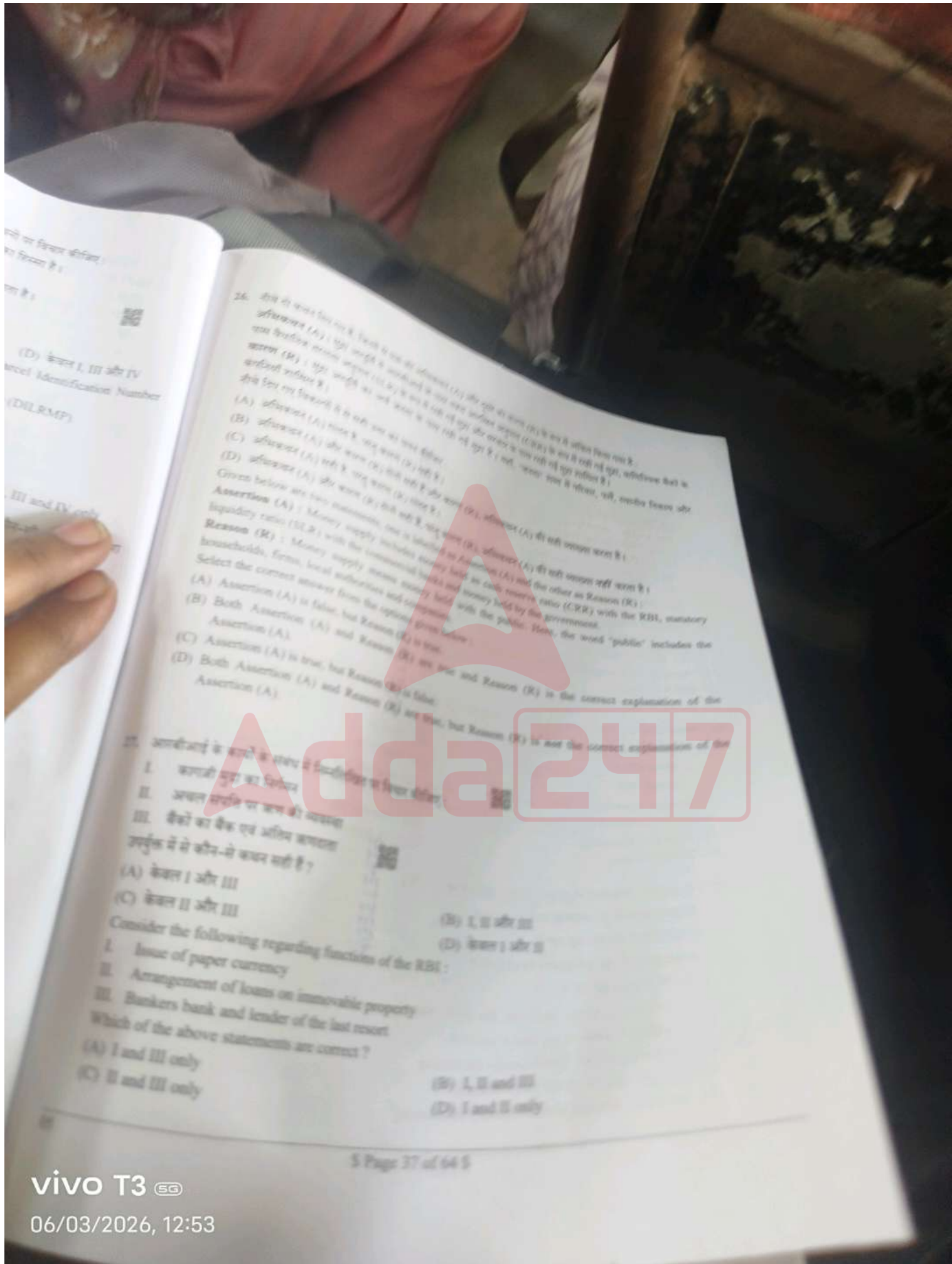
21. इष्टतम जनसंख्या का सिद्धांत माल्थसियन सिद्धांत की तुलना में प्रासंगिक और आवश्यक है क्योंकि वह \_\_\_\_\_ और \_\_\_\_\_ के साथ-साथ \_\_\_\_\_ के बीच संबंध स्थापित करता है।

- (A) जनसंख्या, साक्षरता, उत्पादन
- (B) जनसंख्या, उत्पादकता, आय
- (C) जनसंख्या, माँग, आपूर्ति
- (D) जनसंख्या, भ्रम, पूँजी

The theory of optimum population is relevant and idealistic as compared to the Malthusian theory as it establishes a relationship between \_\_\_\_\_ and \_\_\_\_\_ as well as \_\_\_\_\_.

- (A) Population, literacy, output
- (B) Population, productivity, income
- (C) Population, demand, supply
- (D) Population, labour, capital





...  
(D) केवल I, III और IV  
...  
...  
(DILRMP)

...  
III and IV only  
...

26. दीए गए कथन और कारण के आधार पर निम्नलिखित (A) और (B) में से सही उत्तर चुनें।  
 कथन (A) : RBI ने हाल में 'डिजिटल रुपैया' (Digital Rupee) का प्रयोग शुरू किया है।  
 कारण (R) : डिजिटल रुपैया का प्रयोग शुरू करने से बैंक और वित्तीय संस्थानों को अधिक लाभ मिलेगा।  
 (A) कथन (A) सही है, लेकिन कारण (R) गलत है।  
 (B) कथन (A) गलत है, लेकिन कारण (R) सही है।  
 (C) कथन (A) और कारण (R) दोनों सही हैं।  
 (D) कथन (A) और कारण (R) दोनों गलत हैं।

Given below are two statements, one is Assertion (A) and the other is Reason (R).  
 Assertion (A) : Money supply includes currency held by the public and the other as Reason (R) :  
 liquidity ratio (SLR) with the commercial banks and money held by the government.  
 Reason (R) : Money supply means money held by the public. Here, the word 'public' includes the  
 households, firms, local authorities and companies.  
 Select the correct answer from the options given below :  
 (A) Assertion (A) is false, but Reason (R) is true.  
 (B) Both Assertion (A) and Reason (R) are true.  
 (C) Assertion (A) is true, but Reason (R) is false.  
 (D) Both Assertion (A) and Reason (R) are false.

27. भारतीय रिजर्व बैंक के कार्य के संबंध में निम्नलिखित कथन पढ़िए :  
 I. कागजी मुद्रा का प्रसार  
 II. अचल संपत्ति पर ऋण की व्यवस्था  
 III. बैंकों का बैंक एवं अल्पकालीन ऋणों के संबंध में से कौन-से कथन सही हैं ?  
 (A) केवल I और III  
 (B) I, II और III  
 (C) केवल II और III  
 (D) केवल I और II

Consider the following regarding functions of the RBI :  
 I. Issue of paper currency  
 II. Arrangement of loans on immovable property  
 III. Bankers bank and lender of the last resort  
 Which of the above statements are correct ?  
 (A) I and III only  
 (B) I, II and III  
 (C) II and III only  
 (D) I and II only

28. पूर्ण प्रतिस्पर्धा के अंतर्गत किसी उद्योग के अर्थव्यवस्था संतुलन की शर्तों के संदर्भ में निम्नलिखित में से सही-सही कथन चुनें।  
 (A) उद्योग में माँग और पूर्ण प्रदाय होनी चाहिए  
 (B) सभी पूर्ण संतुलन में होनी चाहिए  
 (C)  $P = LMR$   
 (D) निर्यात प्रवेश और निष्कास
- Which of the following statements is not true regarding conditions for the long-run equilibrium of an industry under perfect competition?  
 (A) Demand and supply should be equal in the industry  
 (B) All firms must be in equilibrium  
 (C)  $P = LMR$   
 (D) Free entry and exit
29. "अवैच्छिक बेरोजगारी अवस्था की विशेष पहचान है।" यह कथन किसके द्वारा कहा गया था?  
 (A) ए.जे. कोल्बोर्न  
 (B) मिल्टन फ्रीडमैन  
 (C) जॉन मेनार्ड कीन्स  
 (D) इरविंग फिशर
- "Involuntary unemployment is the hall-mark of deflation" was said by:  
 (A) A.J. Coulborn  
 (B) Milton Friedman  
 (C) John Maynard Keynes  
 (D) Irving Fisher
30. "जब संसाधनों का आवंटन इस प्रकार से हो कि किसी भी व्यक्ति को किसी अन्य व्यक्ति की स्थिति को खराब किए बिना बेहतर स्थिति में न लाया जा सके, तो यह कहा जाता है कि आर्थिक दक्षता प्राप्त कर ली गई है।" यह अवधारणा किसके द्वारा दी गई है?  
 (A) प्रोफेसर बौलडिंग  
 (B) अमर्त्य सेन  
 (C) विल्फ्रेडो पैरेटो  
 (D) जे.एन. कीन्स
- "When the allocation of resources is such that no one can be made better off without making anyone else worse off, economic efficiency is said to have been achieved." This concept was given by:  
 (A) Professor Boulding  
 (B) Amartya Sen  
 (C) Vilfredo Pareto  
 (D) J.N. Keynes
31. कीन्स के अनुसार, अल्पकाल में समग्र पूर्ति वक्र क्षैतिज होता है, यदि:  
 (A) उपलब्ध संसाधनों का अपर्याप्त उपयोग हो रहा है  
 (B) सामान्य कीमतें लगातार बढ़ रही हैं  
 (C) उपलब्ध संसाधनों का पूर्ण उपयोग किया जाता है  
 (D) समग्र माँग लगातार घट रही है
- According to Keynes, in the short run, the aggregate supply curve is horizontal, if:  
 (A) The available resources are under-utilised  
 (B) The general prices are continuously increasing  
 (C) The available resources are fully utilised  
 (D) The aggregate demand is continuously decreasing

32. अंतर्राष्ट्रीय भुगतानों में, आर्बिट्राज का अर्थ है :
- (A) सस्ते बाजारों से मुद्रा खरीदना और महंगे बाजारों में बेचना
  - (B) भुगतान संतुलन घाटे की स्थिति में विदेशी मुद्राओं में सट्टेबाजी के माध्यम से लाभ अर्जित करना
  - (C) विदेशी ग्राहकों की ओर से किसी देश की मुद्रा की खरीद और बिक्री
  - (D) केंद्रीय बैंकों द्वारा भुगतानों का निपटारा
- In international payments, arbitrage means :
- (A) Buying currency from cheaper markets and selling it in more expensive markets
  - (B) Earning profit through speculation in foreign currencies in case of a balance of payments deficit
  - (C) Buying and selling a country's currency on behalf of foreign clients
  - (D) Settlement of payments by central banks

33. परिवर्तनशील अनुपातों के नियम के अनुसार, जब औसत उत्पाद अपने अधिकतम पर होता है, तो सीमांत उत्पाद, औसत उत्पाद होता है।
- (A) से अधिक
  - (B) से कम
  - (C) के साथ गैर-रेखिक
  - (D) के बराबर

As per the Law of Variable Proportions, when average product is at its maximum, marginal product is \_\_\_\_\_ average product.

- (A) greater than
- (B) less than
- (C) non-linear with
- (D) equal to

34. विलियम जे. बॉमोल के अनुसार, इन्वेंटरी दृष्टिकोण में मुद्रा की लेन-देन माँग को किस प्रकार दर्शाया जाता है ?

(A)  $M_d = f(Y_p, r_b, r_e, r_g, u)$

(B)  $M_t = \sqrt{\frac{2by}{r}}$

(C)  $MV = PT$

(D)  $M_d = kPY$

According to William J. Baumol, the inventory approach to the transaction demand for money is represented by :

(A)  $M_d = f(Y_p, r_b, r_e, r_g, u)$

(B)  $M_t = \sqrt{\frac{2by}{r}}$

(C)  $MV = PT$

(D)  $M_d = kPY$

35. यदि माँग की बिंदु कीमत लोच वक्र के प्रत्येक बिंदु पर एक के बराबर हो, तो वक्र का आकार होगा :

(A) गैर-रेखीय

(B) किन्ड

(C) रेखीय

(D) आयताकार अतिपरवलय

If the point price elasticity of demand is equal to one throughout the demand curve, the curve will be in the shape of a :

(A) Non-linear

(B) Kinked

(C) Linear

(D) Rectangular hyperbola

36. कृषि जनगणना 2015 - 16 के अनुसार, सीमांत और लघु किसान वे हैं जिनकी भूमि का आकार क्रमशः फिलहाल होता है ?  
 (A) 4 हेक्टेयर से कम; 4 हेक्टेयर से 10 हेक्टेयर तक  
 (B) 2 हेक्टेयर से कम; 2 हेक्टेयर से 4 हेक्टेयर तक  
 (C) 1 हेक्टेयर से कम; 1 हेक्टेयर से 2 हेक्टेयर तक  
 (D) 0.5 हेक्टेयर से कम; 0.5 हेक्टेयर से 1.0 हेक्टेयर तक  
 As per the Agriculture Census 2015 - 16, marginal and small farmers are those who have landholdings of what size respectively ?  
 (A) Below 4 hectares; 4 hectares to 10 hectares  
 (B) Below 2 hectares; 2 hectares to 4 hectares  
 (C) Below 1 hectare; 1 hectare to 2 hectares  
 (D) Below 0.5 hectares; 0.5 hectares to 1.0 hectare
37. भारतीय रिजर्व बैंक के संदर्भ में WMA का पूर्ण रूप क्या है ?  
 (A) होलसेल मीन्स एवरेज  
 (B) वेज एंड मीन्स एडवांस  
 (C) वेटेड एवरेज मैथ्योरिटी  
 (D) वर्ल्ड मनी असेसमेंट  
 What is the full form of WMA in the context of the RBI ?  
 (A) Wholesale Means Average  
 (B) Ways and Means Advances  
 (C) Weighted Average Maturity  
 (D) World Money Assessment
38. अल्पकाल में पूर्ण प्रतिस्पर्धा के अंतर्गत, यदि संतुलन बिंदु पर औसत संप्राप्ति उत्पाद (ARP) औसत मजदूरी (AW) से अधिक हो तो फर्म निम्नलिखित में से किस स्थिति में होगी ?  
 (A) फर्म असामान्य लाभ अर्जित कर रही है  
 (B) फर्म सामान्य लाभ अर्जित कर रही है  
 (C) फर्म को हानि हो रही है  
 (D) फर्म सम-विच्छेद बिंदु पर है  
 Under perfect competition in the short-run, if the Average Revenue Product (ARP) is greater than the Average Wage (AW) at the point of equilibrium, the firm will be in which of the following situations ?  
 (A) The firm is earning abnormal profit  
 (B) The firm is earning normal profit  
 (C) The firm is incurring losses  
 (D) The firm is at the break-even point
39. यदि किसी उत्पाद की कीमत ₹ 30 प्रति इकाई के बराबर है और इसकी सीमांत लागत ₹ 20 है, तो एकाधिकार शक्ति के सूचकांक का मान होगा :  
 (A)  $\frac{1}{3}$   
 (B)  $\frac{3}{2}$   
 (C)  $\frac{2}{3}$   
 (D)  $\frac{1}{2}$   
 If the price of a product is equal to ₹ 30 per unit and its marginal cost is ₹ 20, then the value of the index of monopoly power will be :  
 (A)  $\frac{1}{3}$   
 (B)  $\frac{3}{2}$   
 (C)  $\frac{2}{3}$   
 (D)  $\frac{1}{2}$
40. भारत सरकार द्वारा "10,000 किसान उत्पादक संगठनों (FPOs) का गठन और संवर्धन" योजना किस वर्ष शुरू की गई थी ?  
 (A) 2020  
 (B) 2021  
 (C) 2019  
 (D) 2024  
 In which year was the scheme for "Formation and Promotion of 10,000 Farmer Producer Organizations (FPOs)" launched by the Government of India ?  
 (A) 2020  
 (B) 2021  
 (C) 2019  
 (D) 2024

41. कौन से वर्षों में भारत सरकार की योजनात्मक शक्ति का अंत हुआ ?  
 (A) 1974 - 1977 (B) 1978 - 1980  
 (C) 1966 - 1969 (D) 1962 - 1965
42. कौन से वर्षों में भारत सरकार की योजनात्मक शक्ति का अंत हुआ ?  
 (A) 1974 - 1977 (B) 1978 - 1980  
 (C) 1966 - 1969 (D) 1962 - 1965
43. कौन से वर्षों में भारत सरकार की योजनात्मक शक्ति का अंत हुआ ?  
 (A) 1974 - 1977 (B) 1978 - 1980  
 (C) 1966 - 1969 (D) 1962 - 1965
44. कौन से वर्षों में भारत सरकार की योजनात्मक शक्ति का अंत हुआ ?  
 (A) 1974 - 1977 (B) 1978 - 1980  
 (C) 1966 - 1969 (D) 1962 - 1965
45. कौन से वर्षों में भारत सरकार की योजनात्मक शक्ति का अंत हुआ ?  
 (A) 1974 - 1977 (B) 1978 - 1980  
 (C) 1966 - 1969 (D) 1962 - 1965
46. कौन से वर्षों में भारत सरकार की योजनात्मक शक्ति का अंत हुआ ?  
 (A) 1974 - 1977 (B) 1978 - 1980  
 (C) 1966 - 1969 (D) 1962 - 1965
47. कौन से वर्षों में भारत सरकार की योजनात्मक शक्ति का अंत हुआ ?  
 (A) 1974 - 1977 (B) 1978 - 1980  
 (C) 1966 - 1969 (D) 1962 - 1965
48. कौन से वर्षों में भारत सरकार की योजनात्मक शक्ति का अंत हुआ ?  
 (A) 1974 - 1977 (B) 1978 - 1980  
 (C) 1966 - 1969 (D) 1962 - 1965
49. कौन से वर्षों में भारत सरकार की योजनात्मक शक्ति का अंत हुआ ?  
 (A) 1974 - 1977 (B) 1978 - 1980  
 (C) 1966 - 1969 (D) 1962 - 1965
50. कौन से वर्षों में भारत सरकार की योजनात्मक शक्ति का अंत हुआ ?  
 (A) 1974 - 1977 (B) 1978 - 1980  
 (C) 1966 - 1969 (D) 1962 - 1965

VIVO T3 5G  
06/03/2026, 12:54

46. निम्नलिखित में से तीन-तीन भारतीय अर्थव्यवस्था की विशेषता नहीं है ?  
 (A) महिला श्रमजल की कम भागीदारी  
 (B) एक बड़ी कार्यशील जनसंख्या की उपस्थिति  
 (C) कृषि पर पूर्ण निर्भरता  
 (D) कम प्रति व्यक्ति आय
- Which one of the following is *not* a feature of the Indian economy?  
 (A) Low female labour force participation  
 (B) A large working-age population  
 (C) Complete dependence on agriculture  
 (D) Low per capita income
47. किसी देश के भूगतान संतुलन में असंतुलन को सुधारने के नीतिगत उपायों में क्या शामिल नहीं है ?  
 (A) व्यय-परिवर्तनकारी नीति  
 (B) विविध पूंजीकरण के माध्यम से वसादीकरण  
 (C) न्यायिक सुधार  
 (D) प्रत्यक्ष नियंत्रण
- Policy Measures for correcting disequilibrium in a country's Balance of Payments (BoP) does not include:  
 (A) Expenditure-switching policy  
 (B) Adjustment through exchange depreciation  
 (C) Judicial reforms  
 (D) Direct controls

48. पूर्ण प्रतिस्पर्धा के अंतर्गत सीमांत संप्राप्ति-सीमांत लागत अवधारणा का उपयोग करते हुए किसी बर्त के संतुलन के संदर्भ में निम्नलिखित कथनों पर विचार कीजिए :
- I. सीमांत संप्राप्ति (MR) सीमांत लागत (MC) के बराबर होनी चाहिए।
  - II. संतुलन बिंदु पर सीमांत लागत वक्र बढ़ती हुई होना चाहिए।
  - III. सीमांत संप्राप्ति और सीमांत लागत वक्र समांतर होने चाहिए।
- उपर्युक्त में से कौन-से कथन सही हैं ?  
 (A) I, II और III  
 (B) केवल II और III  
 (C) केवल I और III  
 (D) केवल I और II

In the context of a firm's equilibrium under perfect competition using the marginal revenue-marginal cost approach, consider the following statements :

- I. Marginal Revenue (MR) must be equal to Marginal Cost (MC).
- II. The Marginal Cost curve should be rising at the point of equilibrium.
- III. Marginal Revenue and Marginal Cost curves should be parallel.

Which of the above statements are correct ?  
 (A) I, II and III  
 (B) II and III only  
 (C) I and III only  
 (D) I and II only

49. AK मॉडल में, उत्पादन फलन को  $SY = AKS$  के रूप में दर्शाया गया है। इस संदर्भ में स्थिरांक 'A' क्या दर्शाता है ?  
 (A) भौतिक पूँजी की मूल्यहास दर  
 (B) पूँजी का एक स्थिर सीमांत उत्पाद  
 (C) केवल श्रम उत्पादकता का स्तर  
 (D) पूँजी पर हासमान प्रतिकूल
- In the AK model, the production function is represented as  $SY = AKS$ . What does the constant 'A' represent in this context?  
 (A) The depreciation rate of physical capital  
 (B) A constant marginal product of capital  
 (C) The level of labor productivity only  
 (D) Diminishing returns to capital

बेरोजगार व्यक्तियों की संख्या  
15 वर्ष और उससे अधिक आयु की कुल जनसंख्या \* 1000  
बह सूत्र किसके लिए है ?

- (A) श्रमिक जनसंख्या अनुपात  
(C) बेरोजगारी दर

$$\frac{\text{No. of unemployed persons}}{\text{Total population aged 15 +}} \times 1000$$
  
is the formula for :

- (A) Worker Population Ratio  
(C) Unemployment Rate

- (B) बेरोजगारी का अनुपात  
(D) श्रमबल भागीदारी दर

51. AICCTU का पूर्ण रूप बताइए।

- (A) ऑल इंडिया सेंट्रलाइज्ड कमीशन ऑफ ट्रेड यूनियंस  
(B) ऑल इंडिया कॉन्ट्रैक्टुअल काउंसिल ऑफ ट्रेड यूनियंस  
(C) ऑल इंडिया सेंट्रल काउंसिल ऑफ ट्रेड यूनियंस  
(D) ऑल इंडिया सेंट्रल कमीशन ऑफ ट्रेड यूनियंस

State the full form of AICCTU.

- (A) All India Centralised Commission of Trade Unions  
(B) All India Contractual Council for Trade Unions  
(C) All India Central Council of Trade Unions  
(D) All India Central Commission for Trade Unions

52. अधिकतम सामाजिक लाभ के सिद्धांत के अनुसार, अधिकतम सामाजिक कल्याण तब संभव है जब :

- (A) सीमांत सामाजिक लाभ, सीमांत सामाजिक लागत से अधिक हो  
(B) सीमांत सामाजिक लाभ, सीमांत सामाजिक लागत से कम हो  
(C) सीमांत सामाजिक लाभ, सीमांत सामाजिक लागत के बराबर हो  
(D) सीमांत सामाजिक लाभ और लागत एक-दूसरे के लिए अप्रसंगिक हों

According to the Principle of Maximum Social Advantage, maximum social welfare is possible when :

- (A) Marginal social benefit is more than the marginal social cost  
(B) Marginal social benefit is less than the marginal social cost  
(C) Marginal social benefit is equal to marginal social cost  
(D) Marginal social benefit and cost are irrelevant to each other

53. व्यापार संतुलन के स्वचालित नियमन के सिद्धांत का प्रतिपादन किसने किया ?

- (A) गॉटफ्रीड हैबरलर (B) डेविड ह्यूम (C) एफ.डब्ल्यू. बेनहम (D) डेविड रिकार्डो

Who propounded the theory of automatic regulation of the balance of trade ?

- (A) Gottfried Haberler (B) David Hume (C) F.W. Benham (D) David Ricardo

84. निम्नलिखित में से तीन-तीन उपयोगिताएँ विपणन गतिविधियों के माध्यम से उत्पन्न होती हैं :

- I. स्थान उपयोगिता
- II. रूप उपयोगिता
- III. सीमांत उपयोगिता
- IV. प्रमोशन उपयोगिता

विकल्प :

- (A) II और III
- (B) केवल IV
- (C) II, III और IV
- (D) केवल I

Which of the following are utilities created through marketing activities ?

- I. Place Utility
- II. Form Utility
- III. Marginal Utility
- IV. Promotion Utility

Options :

- (A) II and III
- (B) Only IV
- (C) II, III and IV
- (D) Only I

85. सूची I की सूची II से सुमेलित कीजिए तथा सूचियों के नीचे दिए गए कूट का उपयोग कर सही उत्तर चुनिए :

सूची I

(मुद्रा कोड)

- a. CAD
- b. CNY
- c. AED
- d. SGD

सूची II

(देश)

- i. सिंगापुर
- ii. कनाडा
- iii. चीन
- iv. यू.ए.ई

कूट :

- (A) a-ii, b-iii, c-iv, d-i
- (B) a-i, b-ii, c-iii, d-iv
- (C) a-iv, b-ii, c-i, d-iii
- (D) a-iii, b-ii, c-iv, d-i

Match List I with List II and choose the correct answer using the codes given below the lists :

List I

(Currency Code)

- a. CAD
- b. CNY
- c. AED
- d. SGD

List II

(Countries)

- i. Singapore
- ii. Canada
- iii. China
- iv. UAE

Codes :

- (A) a-ii, b-iii, c-iv, d-i
- (B) a-i, b-ii, c-iii, d-iv
- (C) a-iv, b-ii, c-i, d-iii
- (D) a-iii, b-ii, c-iv, d-i

56. वर्तमान अवधि में, निर्यात का मूल्य सूचकांक बढ़कर 180 हो गया है और आयात का मूल्य सूचकांक बढ़कर 120 हो गया है। शुद्ध वस्तु-विविध व्यापार शर्तों के अनुसार, वर्तमान अवधि में व्यापार शर्तों का मान क्या होगा ?  
 (A) 1 : 1.2  
 (B) 1.5 : 1  
 (C) 1.8 : 1  
 (D) 1.2 : 1

In the current period, the price index number of exports has risen to 180 and the price index number of imports has risen to 120. According to the net barter terms of trade, the value of the terms of trade in the current period will be :  
 (A) 1 : 1.2  
 (B) 1.5 : 1  
 (C) 1.8 : 1  
 (D) 1.2 : 1

57. सूची I में दिए गए अर्थशास्त्रियों के नाम को सूची II में उनकी कृतियों से सुमेलित कीजिए, तथा सूचियों के नीचे दिए गए कूट का उपयोग कर सही उत्तर चुनिए :  
**सूची I**  
 (अर्थशास्त्री)  
 a. एडम स्मिथ  
 b. डेविड रिकार्डो  
 c. जॉन स्टुअर्ट मिल  
**कूट :**  
 (A) a-ii, b-iii, c-i  
 (B) a-i, b-ii, c-iii  
 (C) a-iii, b-i, c-ii  
 (D) a-i, b-iii, c-ii

Match the Names of the Economists in List I with their Works in List II and choose the correct answer using the codes given below the lists :  
**List I**  
 (Economists)  
 a. Adam Smith  
 b. David Ricardo  
 c. John Stuart Mill  
**List II**  
 (Works)  
 i. Wealth of Nations, 1776  
 ii. Principles of Political Economy, 1817  
 iii. Principles of Political Economy, 1848  
**Codes :**  
 (A) a-ii, b-iii, c-i  
 (B) a-i, b-ii, c-iii  
 (C) a-iii, b-i, c-ii  
 (D) a-i, b-iii, c-ii

58. पहली पंचवर्षीय योजना \_\_\_\_\_ मॉडल पर आधारित थी।  
 (A) सोलो  
 (B) महलनोबिस  
 (C) काल्डोर  
 (D) हैरोड-डोमर  
 The First Five-Year Plan was based on the \_\_\_\_\_ model.  
 (A) Solow  
 (B) Mahalanobis  
 (C) Kaldor  
 (D) Harrod-Domar

59. यदि आरक्षित अनुपात 10% है, तो साख (मुद्रा) गुणक होगा :  
 (A) 10  
 (B) 1  
 (C) 110  
 (D) 9  
 If the reserve ratio is 10%, then the credit (money) multiplier will be :  
 (A) 10  
 (B) 1  
 (C) 110  
 (D) 9

06/03/2026, 12:54

VIVO T3

60. प्रसिद्ध पुस्तक "एन एसेस ऑन द प्रिंसिपल ऑफ पॉपुलेशन (जनसंख्या के सिद्धांत पर निबंध)" किसने लिखी ?  
(A) जॉन बेट्स क्लार्क (B) थॉमस रॉबर्ट माल्थस  
(C) पीटर बेन केनेन (D) केनेथ इवार्ट बोल्टिंग
- Who wrote the famous book "An Essay on the Principle of Population" ?  
(A) John Bates Clark (B) Thomas Robert Malthus  
(C) Peter Bain Kenen (D) Kenneth Ewart Boulding
61. गिफेन वस्तुओं के मामले में, मूल्य उपभोग वक्र का आकार है :  
(A) नीचे की ओर ढलान वाला (B) ऊपर की ओर ढलान वाला  
(C) क्षैतिज (D) पीछे की ओर ढलान वाला
- In the case of Giffen goods, the shape of the price consumption curve is :  
(A) Downward-sloping (B) Upward-sloping  
(C) Horizontal (D) Backward-sloping
62. पीएम विश्वकर्मा योजना का उद्देश्य विश्वकर्मा (शिल्पकारों और कारीगरों) के उत्पादों और सेवाओं की गुणवत्ता और पहुँच में सुधार करना तथा उन्हें घरेलू और वैश्विक मूल्य श्रृंखलाओं से जोड़ना है। यह योजना किस वर्ष शुरू की गई थी ?  
(A) 2023 (B) 2022  
(C) 2024 (D) 2021
- The PM Vishwakarma Scheme aims to improve the quality and reach of products and services of Vishwakarmas (artisans and craftspeople) and to integrate them with domestic and global value chains. In which year was this scheme launched ?  
(A) 2023 (B) 2022  
(C) 2024 (D) 2021
63. अंतर्राष्ट्रीय व्यापार के तुलनात्मक लागत सिद्धांत के संबंध में निम्नलिखित कथनों पर विचार कीजिए :  
I. रिकार्डो दो राष्ट्रों और दो उत्पादों को मान लेता है।  
II. यह दो देशों के बीच उत्पादन कारकों की गतिहीनता को मानता है।  
III. अंतर्राष्ट्रीय व्यापार स्वतंत्र और प्रतिस्पर्धी है।  
उपर्युक्त में से कौन-से कथन सही हैं ?  
(A) केवल I और II (B) केवल II और III  
(C) केवल I और III (D) I, II और III
- Consider the following statements regarding the Comparative Cost Theory of International Trade :  
I. Ricardo assumes two nations and two products.  
II. It assumes immobility of factors of production between two countries.  
III. International trade is independent and competitive.  
Which of the above statements are correct ?  
(A) I and II only (B) II and III only  
(C) I and III only (D) I, II and III

VIVO T3  
06/03/2026, 12:54

खण्ड - IV / Section - IV  
वार्ताक शब्द / Clives

2. निम्नलिखित विचारकों में से किसने यह तर्क दिया कि एक निश्चित भू-भाग राज्य का एक अविभाज्य भाग नहीं है?  
(A) अरिस्तु  
(B) जॉन सेवली  
(C) वुड्रो विल्सन  
(D) गार्नेर

3. 1957 में नियुक्त किस समिति ने भारत में त्रि-स्तरीय लोकतांत्रिक विकेंद्रीकरण प्रणाली की स्थापना की सिफारिश की थी?  
(A) अशोक मेहता समिति  
(B) जी.वी.के. राव समिति  
(C) बलवंत राय मेहता समिति  
(D) एल.एम. सिंघवी समिति

4. राजनीतिक स्वतंत्रता में शामिल है :  
(A) कानून को समाप्त करने का अधिकार  
(B) G.V.K. Rao Committee  
(C) मतदान करने और चुनाव लड़ने का अधिकार  
(D) L.M. Singhvi's Committee

5. बेंथम का 'सुखवादी कलन' (Felicific Calculus) संबंधित है :  
(A) आनंद और पीड़ा के मात्रात्मक मापन से  
(B) नैतिक अंतर्ज्ञान से  
(C) प्राकृतिक अधिकारों से  
(D) सामाजिक अनुबंध से

Bentham's 'Felicific Calculus' is concerned with :  
(A) Quantitative measurement of pleasure and pain  
(B) Moral intuition  
(C) Natural rights  
(D) Social contract

6. भारत में लोकपाल संस्था किससे संबंधित है ?  
(A) स्थानीय स्वशासन  
(B) न्यायिक नियुक्तियाँ  
(C) चुनाव सुधार  
(D) भ्रष्टाचार की रोकथाम

The institution of Lokpal in India is related to :  
(A) Local self-government  
(B) Judicial appointments  
(C) Election reforms  
(D) Prevention of corruption

VIVO T3 5G  
06/03/2026, 12:54

7. राज्य को 'निश्चित भू-भाग के भीतर कानून के लिए संगठित लोगों' के रूप में किसने परिभाषित किया ?  
(A) जिन बोडिन  
(C) वुड्रो विल्सन

Who defined the state as "a people organised for law within a definite territory" ?  
(A) Jean Bodin  
(C) Woodrow Wilson

- (B) अरस्तू  
 (D) हेरोल्ड लास्की  
(B) Aristotle  
(D) Harold Laski

8. अनुच्छेद 72 के तहत क्षमादान शक्ति (Pardoning Power) के संबंध में निम्नलिखित कथनों पर विचार कीजिए :  
I. इस शक्ति का प्रयोग करते समय राष्ट्रपति अपील विद्यालय (court of appeal) के रूप में कार्य करते हैं।  
II. याचिकाकर्ता को राष्ट्रपति के समक्ष मौखिक सुनवाई (oral hearing) का अधिकार है।  
III. राष्ट्रपति साक्ष्यों की नए सिरे से जाँच कर सकते हैं और अदालत से अलग दृष्टिकोण अपना सकते हैं।  
ऊपर दिए गए कथनों में से कौन-सा/से सही है/हैं ?

- (A) केवल III  
(C) I, II और III  
(B) केवल I और III  
(D) केवल II और III

Consider the following statements regarding the Pardoning Power under Article 72 :

- I. The President acts as a court of appeal while exercising this power.  
II. The petitioner has a right to an oral hearing before the President.  
III. The President can examine evidence afresh and take a view different from the court.

Which of the statements given above is/are correct ?  
(A) III only  
(C) I, II and III  
(B) I and III only  
(D) II and III only

9. निम्नलिखित में से कौन-सा कार्य भारत के चुनाव आयोग द्वारा नहीं किया जाता है ?

- (A) मतदान केंद्र स्थापित करना  
(C) चुनावों के लिए उम्मीदवारों का नामांकन करना  
(B) मतदाता सूचियाँ तैयार करना  
(D) आवर्श आधार-संहिता लागू करना  
Which of the following functions is **not** carried out by the Election Commission of India ?  
(A) Setting up polling stations  
(B) Preparing electoral rolls  
(C) Nominating candidates for elections  
(D) Enforcing the Model Code of Conduct

10. भारत आधिकारिक रूप से संयुक्त राष्ट्र के संस्थापक सदस्यों में से एक के रूप में किस वर्ष शामिल हुआ ?

- (A) 1947  
(C) 1945  
(B) 1952  
(D) 1950  
In which year did India officially join the United Nations as one of its founding members ?  
(A) 1947  
(B) 1952  
(C) 1945  
(D) 1950

11. संविधान का कौन-सा अनुच्छेद अदालतों को चुनाव के बीच में हस्तक्षेप करने से रोकता है ?

- (A) अनुच्छेद 370  
(C) अनुच्छेद 19  
(B) अनुच्छेद 14  
(D) अनुच्छेद 329

Which Article of the Constitution stops courts from interfering in the middle of an election?

- (A) Article 370  
(C) Article 19  
(B) Article 14  
(D) Article 329

12. भारत के संविधान के अनुसार, संसद द्वारा कौन-सा कानून बनाया जा सकता है ?  
(A) अनुच्छेद 40  
(B) अनुच्छेद 41  
(C) अनुच्छेद 42  
(D) अनुच्छेद 43  
Which Article of the Constitution empowers the Parliament to make laws to remove the President from office?  
(A) Article 40  
(B) Article 41  
(C) Article 42  
(D) Article 43

13. गांधी जी के 'व्यक्तिगत' विचारधारा का अर्थ क्या है ?  
(A) व्यक्तिगत विचारधारा का अर्थ है कि प्रत्येक व्यक्ति को अपने-अपने धर्म और आचारों का पालन करना चाहिए।  
(B) व्यक्तिगत विचारधारा का अर्थ है कि प्रत्येक व्यक्ति को अपने-अपने धर्म और आचारों का पालन करना चाहिए।  
(C) व्यक्तिगत विचारधारा का अर्थ है कि प्रत्येक व्यक्ति को अपने-अपने धर्म और आचारों का पालन करना चाहिए।  
(D) व्यक्तिगत विचारधारा का अर्थ है कि प्रत्येक व्यक्ति को अपने-अपने धर्म और आचारों का पालन करना चाहिए।  
(A) Pragmatic consideration  
(B) Religious doctrines  
(C) Ethical principles  
(D) Legal frameworks

14. विधायक द्वारा लोक सभा में कौन-सा अधिकार प्रयोग किया जा सकता है ?  
(A) मूक शब्दाधिकार  
(B) न्यायिक शक्ति  
(C) रिट शब्दाधिकार  
(D) न्यायिक पुनरावलोकन  
What is the term for the legislature or an individual member of the legislature to exercise the power of judicial review?  
(A) Original Jurisdiction  
(B) Judicial Activism  
(C) Writ Jurisdiction  
(D) Judicial Review

15. भारत में लोकसभा के निर्वाचन के लिए कौन-सा सिद्धांत लागू है ?  
(A) सूची प्रणाली  
(B) प्रत्यक्ष प्रणाली  
(C) प्रत्यक्ष प्रणाली  
(D) प्रत्यक्ष प्रणाली  
What is the system of election ahead of other members of the Lok Sabha?  
(A) List System  
(B) Direct System  
(C) Proportional System  
(D) Plural System



VIVO T3 5G  
06/03/2026, 12:54

18. भारतीय संविधान की एक शक्ति सूची में एक शक्ति को अंतर्भूत नहीं किया गया है, उसे कौन सा शक्ति है ?
- (A) संसदीय शक्ति  
(B) प्रत्यक्ष शक्ति  
(C) संघीय शक्ति  
(D) प्रत्यक्ष शक्ति
19. Which is the power not explicitly mentioned in any of the three lists of the Indian Constitution, which ranks with the Union Government ?
- (A) Concurrent power  
(B) State power  
(C) Delegated power  
(D) Residuary power
20. भारतीय संविधान के अंकन को लेकर संसद की कुल संख्या को 3 प्रतिशत तक सीमित करने के लिए कौन-सा संवैधानिक संशोधन लागू किया गया है ?
- (A) 61<sup>वाँ</sup> संशोधन अधिनियम  
(B) 103<sup>वाँ</sup> संशोधन अधिनियम  
(C) 61<sup>वाँ</sup> संशोधन अधिनियम  
(D) 103<sup>वाँ</sup> संशोधन अधिनियम
21. Which constitutional amendment was enacted to limit the size of the Council of Ministers to 15 percent of the total membership of the lower house ?
- (A) 61<sup>st</sup> Amendment Act  
(B) 61<sup>st</sup> Amendment Act  
(C) 103<sup>rd</sup> Amendment Act  
(D) 103<sup>rd</sup> Amendment Act

22. निम्नलिखित अवधारणाओं को उनके विवरणों से मिलान कीजिए।
- सूची I  
(अवधारणा)
- a. राज्य  
b. सरकार  
c. शक्ति  
d. प्रभुत्व
- सूची II  
(विवरण)
- i. संस्थाओं का वह समूह जिसके माध्यम से राज्य की सत्ता का प्रयोग किया जाता है  
ii. संप्रभुता को भूत रूप देने वाली स्थायी राजनीतिक इकाई  
iii. आज्ञापालन का आदेश देने की वैध और सामाजिक रूप से मान्यता प्राप्त क्षमता  
iv. वैधता की परवाह किए बिना व्यवहार को प्रभावित करने की क्षमता
- (A) a-i, b-ii, c-iii, d-iv  
(B) a-ii, b-iii, c-i, d-iv  
(C) a-iii, b-i, c-ii, d-iv  
(D) a-ii, b-i, c-iii, d-iv

- Match the following concepts with their descriptions :
- |                            |                                                                             |
|----------------------------|-----------------------------------------------------------------------------|
| <b>List I</b><br>(Concept) | <b>List II</b><br>(Description)                                             |
| a. State                   | i. Temporary set of institutions through which state authority is exercised |
| b. Government              | ii. Continuing political entity embodying sovereignty                       |
| c. Authority               | iii. Legitimate and socially recognized capacity to command obedience       |
| d. Power                   | iv. Ability to influence behaviour irrespective of legitimacy               |
- Codes :
- (A) a-i, b-ii, c-iii, d-iv  
(B) a-ii, b-iii, c-i, d-iv  
(C) a-iii, b-i, c-ii, d-iv  
(D) a-ii, b-i, c-iii, d-iv

VIVO T3  
06/03/2026 12:54

19. विनियोजित में से कौन-सा संयोजन लोकतंत्र के मॉडलों को उन्हें परिभाषित करने वाली विशेषताओं से सही ढंग से सुमेलित करता है ?
- (A) शासकीय लोकतंत्र - प्रतिनिधि मतदान; संसद्गात्मक लोकतंत्र - राज्य की सर्वोच्चता; विकासात्मक लोकतंत्र - अधिजात वर्ग का नियंत्रण; विचार-विमर्शात्मक लोकतंत्र - चुनावी वर्षस
- (B) शासकीय लोकतंत्र - प्रत्यक्ष भागीदारी; संसद्गात्मक लोकतंत्र - अधिकारों की सुरक्षा; विकासात्मक लोकतंत्र - भागीदारी के माध्यम से व्यक्तिगत विकास; विचार-विमर्शात्मक लोकतंत्र - तर्कपूर्ण सार्वजनिक चर्चा
- (C) शासकीय लोकतंत्र - संस्थागत शासन; संसद्गात्मक लोकतंत्र - आर्थिक समानता; विकासात्मक लोकतंत्र - औपचारिक भागीदारी; विचार-विमर्शात्मक लोकतंत्र - बहुमत आधारित सुनुदान
- (D) शासकीय लोकतंत्र - अप्रत्यक्ष शासन; संसद्गात्मक लोकतंत्र - दमनकारी सत्ता; विकासात्मक लोकतंत्र - राज्य का नियंत्रण; विचार-विमर्शात्मक लोकतंत्र - कानूनी प्रवर्तन
- Which one of the following combinations correctly matches models of democracy with their defining characteristics ?
- (A) Classical democracy - Representative voting; Protective democracy - State supremacy; Developmental democracy - Elite control; Deliberative democracy - Electoral dominance
- (B) Classical democracy - Direct participation; Protective democracy - Rights protection; Developmental democracy - Individual growth through participation; Deliberative democracy - Reasoned public discussion
- (C) Classical democracy - Institutional governance; Protective democracy - Economic equality; Developmental democracy - Ritual participation; Deliberative democracy - Majoritarian voting
- (D) Classical democracy - Indirect rule; Protective democracy - Coercive authority; Developmental democracy - State control; Deliberative democracy - Legal enforcement

20. राज्य सभा चुनाव में किस प्रकार की मतदान प्रणाली अपनाई जाती है ?

- (A) एकल हस्तांतरणीय मत प्रणाली (B) चतुर्-हस्तांतरणीय मत प्रणाली
- (C) प्रत्यक्ष प्रतिनिधित्व प्रणाली (D) द्वि-हस्तांतरणीय मत प्रणाली

What type of voting system is followed in the Rajya Sabha elections ?

- (A) Single Transferable Vote system (B) Quad Transferable Vote system
- (C) Direct Representation system (D) Double Transferable Vote system

21. केंद्र और राज्य सरकारों के बीच शक्तियों और ज़िम्मेदारियों के कार्यात्मक संतुलन की जाँच करने के लिए 1983 में भारत सरकार द्वारा कौन-सा आयोग नियुक्त किया गया था ?

- (A) सरकारिया आयोग
- (B) पुंछी आयोग
- (C) ठक्कर आयोग
- (D) कोठारी आयोग

Which commission was appointed by the Government of India in 1983 to examine the functional balance of power and responsibilities between the Centre and State governments ?

- (A) Sarkaria Commission
- (B) Punchhi Commission
- (C) Thakkar Commission
- (D) Kothari Commission

VIVO T3  
06/03/2026, 12:55

22. यदि उच्च न्यायालय के किसी न्यायाधीश को हटाने का प्रस्ताव राज्यसभा में पेश किया जाता है, तो उस पर कितने सदस्यों के हस्ताक्षर होने चाहिए ?  
 (A) उपस्थित और मतदान करने वाले सदस्यों का दो-तिहाई  
 (B) 100 सदस्य  
 (C) कुल सदस्य संख्या का दसवां हिस्सा  
 (D) 50 सदस्य

A removal motion for a High Court judge shall be signed by how many members if it is introduced in the Rajya Sabha ?  
 (A) Two-thirds of the members present and voting  
 (B) 100 members  
 (C) One-tenth of the total membership  
 (D) 50 members

23. निम्नलिखित में से कौन-सा सिद्धांत शास्त्रीय यूरोपीय फासीवाद से असंगत है ?  
 (A) व्यक्तिगत हितों को सामूहिक राष्ट्रीय उद्देश्य के अधीन रखना  
 (B) गारंटीकृत नागरिक स्वतंत्रताओं के माध्यम से राज्य की सत्ता को सीमित करना  
 (C) एक केंद्रीकृत नेतृत्व संरचना में सत्ता का संकेन्द्रण  
 (D) मिथक, प्रतीकवाद और भावनात्मक एकता के माध्यम से राजनीतिक लामबंदी

Which of the following principles is inconsistent with Classical European Fascism ?  
 (A) Subordination of individual interests to collective national purpose  
 (B) Limitation of state authority through guaranteed civil liberties  
 (C) Concentration of authority in a centralized leadership structure  
 (D) Political mobilization through myth, symbolism, and emotional unity

24. निम्नलिखित में से कौन-सा कथन "शून्य काल" (Zero Hour) का सही वर्णन करता है ?  
 (A) इसका उल्लेख मूल रूप से सदन की प्रक्रिया के नियमों में है।  
 (B) यह विशेष रूप से राष्ट्रीय बजट पर चर्चा के लिए आरक्षित समय है।  
 (C) यह दिन की कार्यसूची तय करने के लिए 'प्रश्न काल' से पहले शुरू होता है।  
 (D) यह संसदीय प्रक्रियाओं में एक भारतीय नवाचार है, जो 1962 से उपयोग में है।

Which of the following statements correctly describes "Zero Hour"?  
 (A) It is originally mentioned in the Rules of Procedure of the House.  
 (B) It is the time specifically reserved for discussing the national budget.  
 (C) It starts before the 'Question Hour' to set the agenda for the day.  
 (D) It is an Indian innovation in parliamentary procedures, in use since 1962.

25. रूसो के अनुसार, मनुष्य होते हैं :  
 (A) राजाओं द्वारा नियंत्रित  
 (B) प्राकृतिक रूप से अच्छे लेकिन समाज द्वारा भ्रष्ट  
 (C) केवल स्वाभाविक रूप से स्वार्थी  
 (D) स्वाभाविक रूप से दुष्ट

According to Rousseau, human beings are :  
 (A) Controlled by kings  
 (B) Naturally good, but corrupted by society  
 (C) Only naturally selfish  
 (D) Naturally evil

26. किस विधिगत परिस्थिति में भारत के राष्ट्रपति को उच्च न्यायालय (Supreme Court) में जाकर अपील करने की शक्ति होती है ?  
 (A) जब न्यायालय का एक न्यायाधीश अपने वरिष्ठ न्यायाधीशों के साथ मिलकर अपील को खारिज करता है।  
 (B) जब कोई संवैधानिक अपील अपील की शक्ति के बिना ही खारिज हो जाती है।  
 (C) जब भारत के उच्च न्यायालय (CJ) का एक न्यायाधीश को खारिज कर दिया जाता है।  
 (D) जब संसद एक वर्ष के लिए न्यायालय की संरचना को बदलने का फैसला करती है।

Under what specific circumstance does the President of India approach the Supreme Court ?  
 (A) When there is a lack of quorum of permanent judges to hold a session of the Court.  
 (B) When a retired judge refuses to return for a temporary session.  
 (C) When the office of the Chief Justice of India (CJI) is temporarily vacant.  
 (D) When the Parliament passes a resolution to increase the strength of the Court.

27. राज्य नीति के निर्देशक सिद्धांतों के अंतर्गत कौन-सा अनुच्छेद राज्य नीति के तंत्र में शामिल है ?  
 (A) अनुच्छेद 40  
 (B) अनुच्छेद 44  
 (C) अनुच्छेद 44  
 (D) अनुच्छेद 50

Which Article under the Directive Principles of State Policy directs the Code for the citizens throughout the territory of India ?  
 (A) Article 40  
 (B) Article 44  
 (C) Article 44  
 (D) Article 50

28. भारतीय संविधान की विशेषताओं के संबंध में निम्नलिखित कथनों पर विचार करें :  
 I. मतदान की आयु को 1989 के 51वें संविधान संशोधन अधिनियम द्वारा 18 से 21 तक घटाया गया था।  
 II. मूल 1950 के संविधान में दोहरी राजस्वभक्त (केन्द्र और राज्य) का प्रारंभिक त्रि-स्तरीय विवरण दिया गया था।  
 ऊपर दिए गए कथनों में से कौन-सा सही है ?  
 (A) केवल II  
 (B) न तो I और न ही II  
 (C) I और II दोनों  
 (D) केवल I

Consider the following statements regarding the features of the Indian Constitution:  
 I. The voting age was reduced from 21 to 18 years by the 51st Amendment in 1989.  
 II. The original 1950 Constitution provided for a dual tax system (Centre and State) and a three-tier structure of Panchayats.  
 Which of the statements given above is/are correct?  
 (A) Only II  
 (B) Neither I nor II  
 (C) Both I and II  
 (D) Only I

निम्न सूची के सदस्य

is introduced in the

व द्वारा प्र

ed by society

26. निम्न निम्नलिखित परिस्थितियों में भारत के राष्ट्रीय न्यायालय (Supreme Court) में एक नया न्यायाधीश (Additional Judge) को नियुक्ति कब होती है ?

- (A) जब न्यायालय का एक अस्थायी न्यायाधीश को नियुक्त करने के लिए न्यायाधीशों की संख्या (Strength) कम हो जाती है।
- (B) जब कोई न्यायाधीश न्यायाधीशों की संख्या में अंतर (Difference) का कारण बनता है।
- (C) जब न्यायाधीश (CJ) का वह अवकाश बनने से ठीक से पहले होता है।
- (D) Under what specific circumstance does the President of India appoint an 'Additional Judge' to the Supreme Court ?

- (A) When there is a lack of quorum of permanent judges to hold a session of the Court.
- (B) When a retired judge refuses to return for a temporary period.
- (C) When the office of the Chief Justice of India (CJI) is temporarily vacant.
- (D) When the Parliament passes a resolution to increase the strength of the Court for one year.

27. राज्य नीति के दिशानिर्देशों के अंतर्गत कौन-सा अनुच्छेद संघ में न्यायाधीशों की संख्या को एक समान रखने के लिए प्रावधान करता है ?

- (A) अनुच्छेद 41
- (B) अनुच्छेद 42
- (C) अनुच्छेद 43
- (D) अनुच्छेद 44

Which Article under the Directive Principles of State Policy directs the State to secure a Uniform Civil Code for the citizens throughout the territory of India ?

- (A) Article 40
- (B) Article 41
- (C) Article 44
- (D) Article 50

28. भारतीय संविधान की विशेषताओं में संसद ने निम्नलिखित कथनों का प्रचार किया है :

- I. मतदान की आयु को 1969 के 51वें संविधान संशोधन अधिनियम द्वारा 21 वर्ष से घटाकर 18 वर्ष का रखा गया था।
- II. मूल 1950 के संविधान में देशी राजस्व (Local Tax) का प्रावधान था, जो कि अपने स्वयं के राजस्वों की वि.संघों को दे.संघों को देना था।
- III. का भी स्पष्ट विचार दिया गया था।
- IV. इस विषय पर कबनों में के बीच मतभेद नहीं है।

- (A) केवल II
- (B) न तो I और न ही II
- (C) I और II दोनों
- (D) केवल I

Consider the following statements regarding the features of the Indian Constitution :

- I. The voting age was reduced from 21 to 18 years by the 51st Constitutional Amendment Act of 1988.
- II. The original 1950 Constitution provided for a dual polity (Centre and States) but also explicitly detailed the three-tier structure of Panchayats.

Which of the statements given above is/are correct ?

- (A) Only II
- (B) Neither I nor II
- (C) Both I and II
- (D) Only I

29. विन्तलिखित में से कौन-सा कथन भारत में भाषाई दबाव समूहों को संदर्भित करता है ?
- (A) वे राजनीतिक लापवासी की भूमिका के बिना सांस्कृतिक विकास के रूप में कार्य करते हैं।
  - (B) वे राज्य शासन द्वारा के बीच एकात्मिक विकास के रूप में कार्य करते हैं।
  - (C) वे चुनाव लड़ने और सरकार बनाने के लिए गठित राजनीतिक दल हैं।
  - (D) वे सक्रिय रूप से राजनीतिक प्रक्रियाओं और राज्य पुनर्गठन की मांगों को प्रभावित करते हैं।

Which one of the following statements refers to linguistic pressure groups in India ?

- (A) They function as cultural bodies without a political mobilisation role.
- (B) They operate as administrative bodies within the state governance system.
- (C) They are political parties formed to contest elections and form governments.
- (D) They actively influence political processes and state reorganisation demands.

30. किसी विधेयक को राष्ट्रपति के विचारार्थ आरक्षित करने की राज्यपाल की शक्तियों के विषय में विन्तलिखित में से कौन-से कथन सही हैं ?

- I. यह अनुच्छेद 200 में विधेयक है।
- II. यह राज्यपाल की विवेकाधीन शक्ति नहीं है।
- III. यदि विधेयक उच्च न्यायालय की स्थिति को खतरे में डालता है तो यह अनिवार्य है।

- (A) I और III
- (B) I, II और III
- (C) II और III
- (D) केवल III

Which of the following statements are correct regarding the powers of a Governor to reserve a Bill for the consideration of the President ?

- I. It is laid down in Article 200.
- II. It is not a discretionary power of the Governor.
- III. It is compulsory, if the Bill endangers the position of High Court.

- (A) I and III
- (B) I, II and III
- (C) II and III
- (D) Only III

31. भारत ने संयुक्त राष्ट्र सुरक्षा परिषद की स्थायी सदस्यता के संबंध में किस विशिष्ट सुधार का लगातार समर्थन किया है ?

- (A) सभी स्थायी सदस्यों के लिए वीटो शक्ति समाप्त करना
- (B) स्थायी सदस्यता को यूरोपीय और उत्तरी अमेरिकी राष्ट्रों तक सीमित करना
- (C) प्रत्येक दो वर्षों में सभी सदस्य देशों के बीच स्थायी सीटों का चक्राणुक्रम
- (D) सदस्यता की स्थायी और अस्थायी दोनों श्रेणियों का विस्तार

India has consistently supported which specific reform regarding the permanent membership of the UN Security Council ?

- (A) Abolition of the veto power for all permanent members
- (B) Restriction of permanent membership to European and North American nations
- (C) Rotation of permanent seats among all member states every two years
- (D) Expansion of both the permanent and non-permanent categories of membership

32. गोबले ने किस ऐतिहासिक दस्तावेज़ को जिन दस शायब को विचार करने पर मजबूर किया? (Gobale considered which historical document to consider a key to the solution of the problem?)
- (A) 1917 की अगस्त घोषणा (B) भारतीय स्वतंत्रता अधिनियम (C) भारतीय स्वतंत्रता अधिनियम (D) 1917 की अगस्त घोषणा
- Which historical document did Gobale consider a key to the solution of the problem?
- (A) The August Declaration of 1917 (B) Indian Independence Act (C) Indian Independence Act (D) The August Declaration of 1917
33. संसदीय विशेषाधिकार विमललिखित में से किस व्यक्ति को प्राप्त नहीं है, जो संसदीय सभा का एक अंग है? (Parliamentary Privileges do not extend to which of the following individuals, who is a member of the Parliament?)
- (A) भारत के राष्ट्रपति (B) संसद के मनोनीत सदस्य (C) भारत के राष्ट्रपति (D) संसद के मनोनीत सदस्य
- Parliamentary Privileges do not extend to which of the following individuals, who is a member of the Parliament?
- (A) The President of India (B) Nominated Members of Parliament (C) The President of India (D) Nominated Members of Parliament
34. विमललिखित में से कौन-सा कथन निजी संपत्ति पर प्लेटो के दृष्टिकोण का सुझाव देता है? (Which of the following statements contradicts Plato's view on private property?)
- (A) निजी संपत्ति शासकों में विद्या के विभाजन का कारण बन सकती है। (B) शासकों के नैतिक शासन के लिए निजी संपत्ति आवश्यक है। (C) सामुदायिक जीवन संरक्षकों के बीच एकता सुनिश्चित करता है। (D) संरक्षकों को निजी संपत्ति नहीं रखनी चाहिए।
- Which of the following statements contradicts Plato's view on private property?
- (A) Private property may lead to divided loyalties in rulers. (B) Private property is essential for ethical governance of rulers. (C) Communal living ensures unity among guardians. (D) Guardians should not possess private property.
35. कौटिल्य के अनुसार, अर्थशास्त्र में कितनी विद्याओं (sciences) को मान्यता प्राप्त है? (According to Kautilya, how many sciences are recognized in the Arthashastra?)
- (A) एक (B) तीन (C) चार (D) पांच
- According to Kautilya, how many sciences are recognized in the Arthashastra?
- (A) One (B) Three (C) Four (D) Five
36. थॉमस हॉब्स के अनुसार, व्यक्ति शांति और सुरक्षा सुनिश्चित करने के लिए अपने अधिकारों का एक भाग को सौंपना स्वीकार करते हैं। इस व्यवस्था से निम्नलिखित में से क्या निष्कर्ष निकलता है? (According to Thomas Hobbes, individuals establish a sovereign authority by surrendering their rights in order to secure peace and protection. Which of the following follows from this arrangement?)
- (A) इस व्यवस्था के परिणामस्वरूप लोकतांत्रिक भागीदारी पर आधारित प्रणाली का निर्माण होता है। (B) व्यक्ति राजनीतिक निर्णय-प्रक्रिया में भाग लेने का समान अधिकार बनाए रखते हैं। (C) यदि सत्ता न्याय और व्यवस्था सुनिश्चित करने में विफल रहती है तो उसे खत्म किया जा सकता है। (D) स्थापित सत्ता निरंकुश है और राजनीतिक प्रतिरोध के अधीन नहीं है।
- According to Thomas Hobbes, individuals establish a sovereign authority by surrendering their rights in order to secure peace and protection. Which of the following follows from this arrangement?
- (A) The arrangement results in a system based on democratic participation. (B) Individuals retain equal rights to participate in political decision-making. (C) The authority may be overthrown if it fails to ensure justice and order. (D) The authority established is absolute and not subject to political resistance.

VIVO T3  
06/03/2026, 12:55

37. निम्नलिखित में से कौन-सा/से कथन अरस्तू के राज्य संबंधी दृष्टिकोण का सही वर्णन करता है/करते हैं ?
- राज्य का अस्तित्व नैतिक जीवन को बढ़ावा देने के लिए है।
  - राज्य मात्र एक सुरक्षा व्यवस्था है।
  - राज्य का उद्देश्य मानव उत्कर्ष है।

सही उत्तर चुनिए :

- (A) I, II और III  
 (C) केवल I और III



- (B) केवल II और III  
 (D) केवल I

Which of the following statements correctly pertain(s) to Aristotle's view of the state ?

- The state exists for promoting ethical life.
- The state is merely a security arrangement.
- The state aims at humans flourishing.

Select the correct answer :

- (A) I, II and III  
 (C) I and III only

- (B) II and III only  
 (D) Only I

38. जब राष्ट्रपति किसी सदन का 'सत्रावसान' करते हैं, तो निम्नलिखित में से क्या नहीं होता है ?

- (A) लंबित नोटिस (विधेयकों को छोड़कर) समाप्त हो जाते हैं।  
 (B) सदन में लंबित सभी विधेयक तत्काल समाप्त हो जाते हैं।  
 (C) 'अवकाश' (recess) की अवधि शुरू होती है।  
 (D) सदन का सत्र समाप्त हो जाता है।

Which of the following does *not* happen when the President "prorogues" a House ?

- (A) Pending notices (other than for Bills) lapse.  
 (B) All pending Bills in the House lapse immediately.  
 (C) The period of "recess" begins.  
 (D) The session of the House comes to an end.

39. किसने राजनीति को "कौन क्या, कब और कैसे प्राप्त करता है" के रूप में परिभाषित किया ?

- (A) अरस्तू  
 (C) डेविड ईस्टन  
 (B) प्लेटो  
 (D) हैरोल्ड लास्वेल

Who defined politics as "Who gets what, when and how" ?

- (A) Aristotle  
 (B) Plato  
 (C) David Easton  
 (D) Harold Lasswell

40. भारत के संविधान का कौन-सा अनुच्छेद औपचारिक रूप से अस्पृश्यता की प्रथा को समाप्त करता है ?

- (A) अनुच्छेद 15  
 (C) अनुच्छेद 17  
 (B) अनुच्छेद 14  
 (D) अनुच्छेद 16

Which Article of the Constitution of India formally abolishes the practice of untouchability ?

- (A) Article 15  
 (B) Article 14  
 (C) Article 17  
 (D) Article 16

41. मार्क्स ने अपने किस सिद्धांत के माध्यम से श्रम के शोषण की व्याख्या की ?

- (A) अलगाव  
(C) ऐतिहासिक आदर्शवाद

Marx explained the exploitation of labour through his theory of:

- (A) Alienation  
(B) Historical Idealism

- (C) द्वैतवादी भौतिकवाद  
(D) अतिरिक्त मूल्य

42. विभिन्न भाषाई समुदायों के बीच शक्ति-साझाकरण (सत्ता की साझेदारी) व्यवस्था का उदाहरण कौन-या देश है ?

- (A) इटली  
(C) श्रीलंका

- (B) Dialectical Materialism  
(D) Surplus Value

Which country is an example of power-sharing arrangements among different linguistic communities ?

- (A) Italy  
(C) Sri Lanka

- (B) बेल्जियम  
(D) म्यांमार

43. भारत छोड़ो आंदोलन किस वर्ष शुरू किया गया था ?

- (A) 1942  
(C) 1920

- (B) Belgium  
(D) Myanmar

In which year was the Quit India Movement launched ?

- (A) 1942  
(C) 1920

- (B) 1919  
(D) 1939

44. नीचे दो कथन दिए गए हैं, जिनमें से एक को अभिकथन (A) और दूसरे को कारण (R) के रूप में अंकित किया गया है :  
अभिकथन (A) : लोकतंत्र में सार्थक भागीदारी के लिए केवल राजनीतिक अधिकार ही पर्याप्त हैं।  
कारण (R) : आर्थिक परिस्थितियाँ राजनीतिक अधिकारों के प्रयोग को प्रभावित करती हैं।

नीचे दिए गए विकल्पों में से सही उत्तर का चयन कीजिए :

(A) अभिकथन (A) सही है, परंतु कारण (R) गलत है।

(B) अभिकथन (A) गलत है, परंतु कारण (R) सही है।

(C) अभिकथन (A) और कारण (R) दोनों सही हैं और कारण (R), अभिकथन (A) की सही व्याख्या करता है।

(D) अभिकथन (A) और कारण (R) दोनों सही हैं, परंतु कारण (R), अभिकथन (A) की सही व्याख्या नहीं करता है।

Given below are two statements, one is labelled as Assertion (A) and the other as Reason (R) :  
**Assertion (A) :** Political rights alone are sufficient for meaningful participation in democracy.  
**Reason (R) :** Economic conditions influence the exercise of political rights.

Select the correct answer from the options given below :

(A) Assertion (A) is true, but Reason (R) is false.

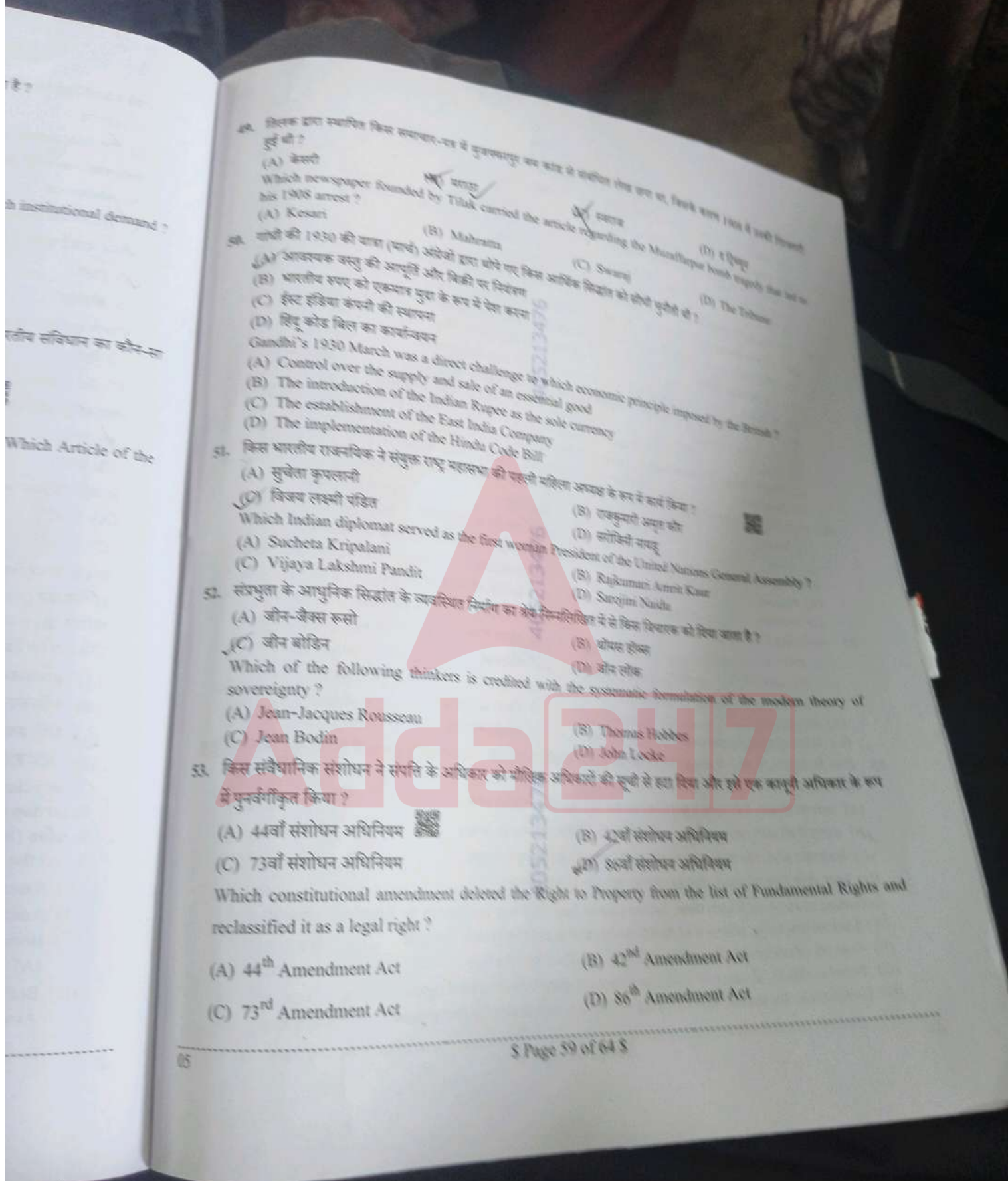
(B) Assertion (A) is false, but Reason (R) is true.

(C) Both Assertion (A) and Reason (R) are true and Reason (R) is the correct explanation of the Assertion (A).

(D) Both Assertion (A) and Reason (R) are true, but Reason (R) is *not* the correct explanation of the Assertion (A).

45. भारतीय राजनीति में क्षेत्रवाद का अभ्यास मुख्य रूप से किस संस्थागत माँग के माध्यम से प्रकट होता है ?  
 (A) राज्य-स्तरीय विधान सभाओं का उन्मूलन (अंत)  
 (B) सभी कर संग्रहण शक्तियों का केंद्र सरकार के पास केंद्रीकरण  
 (C) शिक्षा के लिए एक एकल राष्ट्रीय पाठ्यक्रम का निर्माण  
 (D) अधिक स्वायत्तता की माँग या छोटे राज्यों का निर्माण
- The practice of regionalism in Indian politics is primarily manifested through which institutional demand ?  
 (A) The abolition of state-level legislative assemblies  
 (B) The centralization of all tax collection powers with the Union Government  
 (C) The creation of a single national curriculum for education  
 (D) The demand for greater autonomy or the creation of smaller states
46. किसी अपराध के आरोपी व्यक्ति को अपने विरुद्ध गवाह बनने के लिए बाध्य नहीं किया जा सकता। भारतीय संविधान का कौन-सा अनुच्छेद इसके लिए प्रावधान करता है ?  
 (A) अनुच्छेद 22  
 (B) अनुच्छेद 20  
 (C) अनुच्छेद 74  
 (D) अनुच्छेद 21
- A person accused of an offence cannot be compelled to be a witness against himself. Which Article of the Indian Constitution provides for this ?  
 (A) Article 22  
 (B) Article 20  
 (C) Article 74  
 (D) Article 21
47. मनुस्मृति के किस अध्याय में राजधर्म का वर्णन है ?  
 (A) सातवाँ  
 (B) पाँचवाँ  
 (C) चौथा  
 (D) छठा
- Which chapter of *Manusmriti* describes Rajadharma ?  
 (A) Seventh  
 (B) Fifth  
 (C) Fourth  
 (D) Sixth
48. निम्नलिखित कथनों पर विचार कीजिए :  
 I. ओडिशा ने 1970 में लोकायुक्त अधिनियम पारित किया।  
 II. राजस्थान 1971 में इस पद (कार्यालय) का सृजन और कार्यान्वयन करने वाला पहला राज्य था।  
 उपर्युक्त कथनों में से कौन-सा/से सही है/हैं ?  
 (A) न तो I और न ही II  
 (B) I और II दोनों  
 (C) केवल I  
 (D) केवल II
- Consider the following statements :  
 I. Odisha passed the Lokayukta Act in 1970.  
 II. Rajasthan was the first to create and implement the office in 1971.  
 Which of the above statements is/are correct ?  
 (A) Neither I nor II  
 (B) Both I and II  
 (C) Only I  
 (D) Only II

49. ...  
 (A) ...  
 (B) ...  
 (C) ...  
 (D) ...
50. ...  
 (A) ...  
 (B) ...  
 (C) ...  
 (D) ...
51. ...  
 (A) ...  
 (B) ...  
 (C) ...  
 (D) ...
52. ...  
 (A) ...  
 (B) ...  
 (C) ...  
 (D) ...
53. ...  
 (A) ...  
 (B) ...  
 (C) ...  
 (D) ...



79. किसके द्वारा स्थापित किया गया था - यह है मुद्रास्वतंत्रता का कार्य से संबंधित लेख था, जिसका वर्ष 1906 में प्रकाशित किया गया था ?

- (A) केशरी
- (B) महाराष्ट्र
- (C) स्वराज
- (D) दृष्टि

Which newspaper founded by Tilak carried the article regarding the Muzaffarpur bomb tragedy that led to his 1906 arrest ?

- (A) Kesari
- (B) Maharashtra
- (C) Swraj
- (D) The Tribune

80. गांधी जी 1930 की यात्रा (मार्च) अर्थशास्त्रियों द्वारा की गई थी कि जिस आर्थिक सिद्धांत को लोचनी चुनौती दी ?

- (A) आवश्यक वस्तु की आपूर्ति और बिक्री पर नियंत्रण
- (B) भारतीय रुपए को एकमात्र मुद्रा के रूप में स्वीकार करना
- (C) ईस्ट इंडिया कंपनी की स्थापना
- (D) हिंदू कोड बिल का कार्यान्वयन

Gandhi's 1930 March was a direct challenge to which economic principle imposed by the British ?

- (A) Control over the supply and sale of an essential good
- (B) The introduction of the Indian Rupee as the sole currency
- (C) The establishment of the East India Company
- (D) The implementation of the Hindu Code Bill

81. किस भारतीय राजनयिक ने संयुक्त राष्ट्र महासभा की पहली महिला अध्यक्ष के रूप में कार्य किया ?

- (A) सुचेता कृपलानी
- (B) राजकुमारी अमृत कौर
- (C) विजया लक्ष्मी पंडित
- (D) सरोजिनी नायडू

Which Indian diplomat served as the first woman President of the United Nations General Assembly ?

- (A) Sucheta Kripalani
- (B) Rajkumari Amrit Kaur
- (C) Vijaya Lakshmi Pandit
- (D) Sarojini Naidu

82. संप्रभुता के आधुनिक सिद्धांत के व्यवस्थित निर्माण का श्रेय किस विचारक को दिया जाता है ?

- (A) जॉन-जैक्स रुसो
- (B) थॉमस होब्स
- (C) जॉन बोडिन
- (D) जॉन लॉक

Which of the following thinkers is credited with the systematic formulation of the modern theory of sovereignty ?

- (A) Jean-Jacques Rousseau
- (B) Thomas Hobbes
- (C) Jean Bodin
- (D) John Locke

83. किस संवैधानिक संशोधन ने संपत्ति के अधिकार को मौलिक अधिकारों की श्रेणी से हटा दिया और इसे एक कानूनी अधिकार के रूप में पुनर्जागरित किया ?

- (A) 44वाँ संशोधन अधिनियम
- (B) 42वाँ संशोधन अधिनियम
- (C) 73वाँ संशोधन अधिनियम
- (D) 86वाँ संशोधन अधिनियम

Which constitutional amendment deleted the Right to Property from the list of Fundamental Rights and reclassified it as a legal right ?

- (A) 44<sup>th</sup> Amendment Act
- (B) 42<sup>nd</sup> Amendment Act
- (C) 73<sup>rd</sup> Amendment Act
- (D) 86<sup>th</sup> Amendment Act

54. पंचायती राज मंत्रालय किस वर्ष स्थापित किया गया था ?  
 (A) 2004  
 (B) 1992  
 In which year was the Ministry of Panchayati Raj established ?  
 (A) 2004  
 (B) 2010  
 (C) 1992  
 (D) 2001
55. जीन-जैक्स रूसो ने राजनीतिक दर्शन पर कौन-सी प्रसिद्ध पुस्तक लिखी ?  
 (A) द सोशल कॉन्ट्रैक्ट  
 (B) पॉलिटिक्स  
 (C) दू ट्रीटीज ऑफ गवर्नमेंट  
 (D) लेवियाथन  
 Which famous book did Jean-Jacques Rousseau write on political philosophy ?  
 (A) The Social Contract  
 (B) Politics  
 (C) Two Treatises of Government  
 (D) Leviathan
56. बनारस हिंदू विश्वविद्यालय में अपने भाषण में महात्मा गांधी ने समाज के किस वर्ग की आलोचना की ?  
 (A) किसान  
 (B) छात्र  
 (C) मजदूर  
 (D) भारतीय अभिजात वर्ग  
 In his speech at Banaras Hindu University, Mahatma Gandhi criticized which class of society ?  
 (A) Peasants  
 (B) Students  
 (C) Workers  
 (D) Indian elite class
57. निम्नलिखित में से कौन 'डी सिवे' (De Cive) नामक कृति से संबंधित है ?  
 (A) जॉन लॉक  
 (B) थॉमस हॉब्स  
 (C) जीन-जैक्स रूसो  
 (D) मॉन्टेस्क्यू  
 Who among the following is associated with the work 'De Cive' ?  
 (A) John Locke  
 (B) Thomas Hobbes  
 (C) Jean-Jacques Rousseau  
 (D) Montesquieu
58. हॉब्स के अनुसार, वे कौन-से तीन कारक थे जिनके कारण 'प्राकृतिक अवस्था' (State of Nature) में निरंतर युद्ध और भय न रहता था ?  
 (A) भाषा का अभाव, पारिवारिक इकाइयों का अभाव और असमान शारीरिक शक्ति  
 (B) संसाधनों की कमी, जन्म-आधारित असमानता और धार्मिक व्यवस्था का अभाव  
 (C) जनजातीय संघर्ष, व्यापार का अभाव और भूमि अधिकारों का असमान वितरण  
 (D) संसाधनों के लिए प्रतिस्पर्धा, पीछे रह जाने का भय और पहचान की चाह  
 According to Hobbes, which three factors caused perpetual war and fear in the State of Nature ?  
 (A) Lack of language, absence of family units, and unequal physical strength  
 (B) Scarcity of resources, inequality of birth, and absence of religious order  
 (C) Tribal conflicts, absence of trade, and unequal distribution of land rights  
 (D) Competition for means, fear of being surpassed, and desire for recognition

Test

Prime

By Adda247

# Previous Year Papers PDF

PRACTICE MORE, SCORE HIGHER!



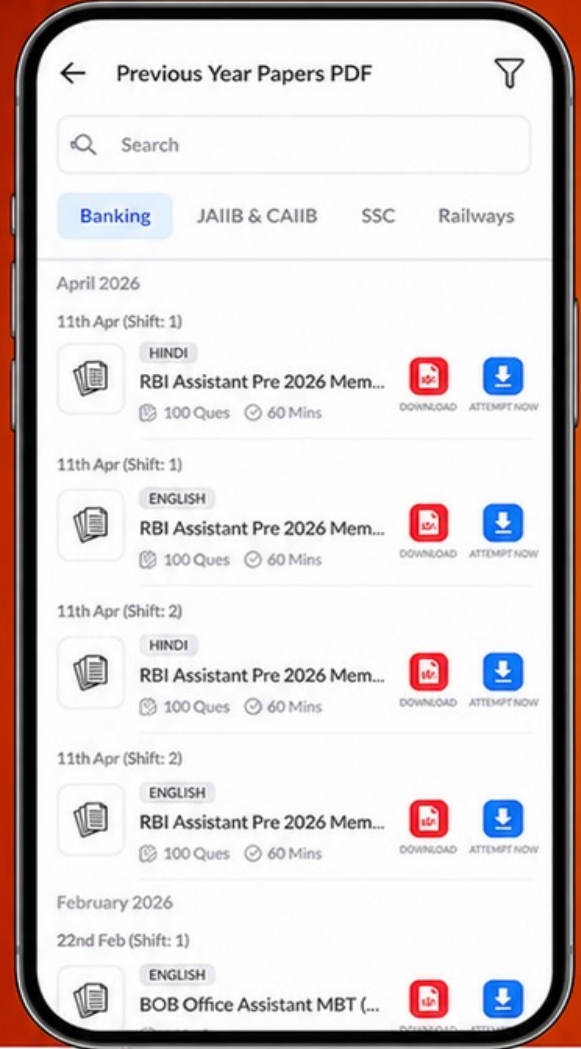
Free  
**25,000+**  
PDF's

High-Quality | Exam-Wise | Updated Regularly

ATTEMPT AS  
**MOCK**



Turn PDFs into real exam experience.  
Analyze. Improve. Succeed.



Topic-wise &  
Exam-wise PDFs



Download &  
Study Offline



Attempt as Mock  
& Track Score



Smart Analysis  
& Performance

AVAILABLE IN



Banking



SSC



Railway



Teaching



UGC



Agriculture



Nursing



Bihar



UP



Punjab



WB



Odisha



TN



AP & Telangana



Haryana



DOWNLOAD THE APP



59. निम्नलिखित में से किसे "सकारात्मक और नकारात्मक स्वतंत्रता" की अवधारणा दी ?  
 (A) लस्की  
 (C) वे.एस. मिल

Who among the following gave the concept of "Positive and Negative Liberty" ?  
 (A) Laski  
 (C) J.S. Mill

60. मुक्ति की अवधारणा, शासकीय उदारवादी स्वतंत्रता से इस मामले में भिन्न है कि वह :  
 (A) व्यक्तिगत अधिकारों और स्वतंत्रताओं के दायरे को अस्वीकार करती है  
 (B) राजनीतिक प्रक्रियाओं में प्राणीदारी के सभी रूपों का विरोध करती है  
 (C) केंद्रीय राज्य द्वारा समाज पर पूर्ण नियंत्रण का समर्थन करती है  
 (D) क्रमिक सुधार के बजाय व्यवस्थित परिवर्तन पर केंद्रित होती है

The concept of liberation differs from classical liberal freedom in that it :  
 (A) Rejects the framework of individual rights and liberties  
 (B) Opposes all forms of participation within political processes  
 (C) Advocates complete control of society by the central state  
 (D) Focuses on systemic transformation rather than gradual reform

61. "स्वतंत्रता" (Liberty) शब्द का अर्थ है :

(A) केवल आर्थिक समानता  
 (C) राज्य द्वारा पूर्ण नियंत्रण  
 (B) प्रतिबंधों का अभाव  
 (D) बहुमत का शासन

The term "Liberty" means :

(A) Economic equality only  
 (C) Complete control by the state  
 (B) Absence of restraints  
 (D) Rule of the majority

62. राज्य के उदारवादी सिद्धांत के अनुसार, राज्य की उत्पत्ति का आधार है :

(A) शासकों की प्रदत्त दैवीय शक्ति  
 (C) शासक वर्गों का आर्थिक प्रभुत्व  
 (B) व्यक्तियों के बीच स्वीच्छिक समझौता  
 (D) सैन्य विजय एवं विस्तार

According to the liberal theory of the state, the origin of the state is based on :

(A) Divine authority granted to rulers  
 (C) Economic dominance of ruling classes  
 (B) Voluntary agreement among individuals  
 (D) Military conquest and expansion

63. भारतीय संविधान के भाग IV में निहित राज्य नीति के निर्देशक तत्व किस देश के संविधान से लिए गए थे ?

(A) ऑस्ट्रेलिया  
 (B) आयरलैंड  
 (C) सोवियत संघ  
 (D) संयुक्त राज्य अमेरिका

The Directive Principles of State Policy contained in Part IV of the Indian Constitution were borrowed from the constitution of which country ?

(A) Australia  
 (B) Ireland  
 (C) Soviet Union  
 (D) States of America