

1. ग्रेटर नोएडा में आयोजित इंडियास्किल्स राष्ट्रीय प्रतियोगिता 2025-26 के संबंध में निम्नलिखित कथनों पर विचार करें और सही विकल्प चुनें :

कथन A : प्रतियोगिता 73 कौशल श्रेणियों में आयोजित की गई थी, जिनमें से 43 कौशलों का आयोजन ऑनसाइट किया गया, जबकि 30 कौशलों का मूल्यांकन ऑफसाइट प्रारूपों के माध्यम से किया गया।

कथन B : राष्ट्रीय प्रतियोगिता के विजेताओं को वर्ल्डस्किल्स प्रतियोगिता शंघाई 2026 में भारत का प्रतिनिधित्व करने का अवसर मिलेगा।

- (1) कथन A और B दोनों असत्य हैं।
- (2) कथन A सत्य है, लेकिन कथन B असत्य है।
- (3) कथन B सत्य है, लेकिन कथन A असत्य है।
- (4) कथन A और B दोनों सत्य हैं।
- (5) अनुत्तरित प्रश्न

2. राजस्थान एयरोस्पेस एण्ड डिफेंस पॉलिसी-2026 के अनुसार एयरोस्पेस एवं रक्षा विनिर्माण उद्यमों के लिए पात्रता मानदंड के संबंध में निम्नलिखित कथनों पर विचार करें और सही विकल्प चुनें :

कथन A : आवश्यक न्यूनतम निवेश ₹ 100 करोड़ होगा।

कथन B : भारत सरकार के साथ पंजीकृत एमएसएमई (MSME) के लिए, इस पैकेज के तहत प्रोत्साहन प्राप्त करने के लिए आवश्यक न्यूनतम निवेश ₹ 60 करोड़ होगा।

- (1) कथन A और B दोनों असत्य हैं।
- (2) कथन A सत्य है, लेकिन कथन B असत्य है।
- (3) कथन B सत्य है, लेकिन कथन A असत्य है।
- (4) कथन A और B दोनों सत्य हैं।
- (5) अनुत्तरित प्रश्न

1. Consider the following statements regarding the IndiaSkills National Competition 2025-26 held in Greater Noida and choose the correct option :
Statement A : The competition was held in 73 skill categories, out of which 43 skills were being conducted onsite, while 30 skills were evaluated through offsite formats.

Statement B : The winners of the national competition will earn the opportunity to represent India at WorldSkills Competition Shanghai 2026.

- (1) Both the statements A and B are false.
- (2) Statement A is true, but Statement B is false.
- (3) Statement B is true, but Statement A is false.
- (4) Both the statements A and B are true.
- (5) Question not attempted

2. Consider the following statements regarding the eligibility criteria for Aerospace and Defence Manufacturing Enterprises as per Rajasthan Aerospace & Defence Policy-2026 and choose the correct option :

Statement A : The minimum investment required will be ₹ 100 crore.

Statement B : For MSMEs registered with Government of India, the minimum investment required to avail incentives under this package shall be ₹ 60 crore.

- (1) Both the statements A and B are false.
- (2) Statement A is true, but Statement B is false.
- (3) Statement B is true, but Statement A is false.
- (4) Both the statements A and B are true.
- (5) Question not attempted



ALL EXAMS, ONE SUBSCRIPTION

 **Test. Analyze. Improve. Repeat.**



Don't just *prepare*. *Perform.*

Test Prime — built only for mock tests.



1,50,000+
Mock Tests



25,000+
Previous Year Papers



800+
Exam Covered



500% Refund
on Selection



5 lakh+
Free Quizzes



Daily
Free PDFs



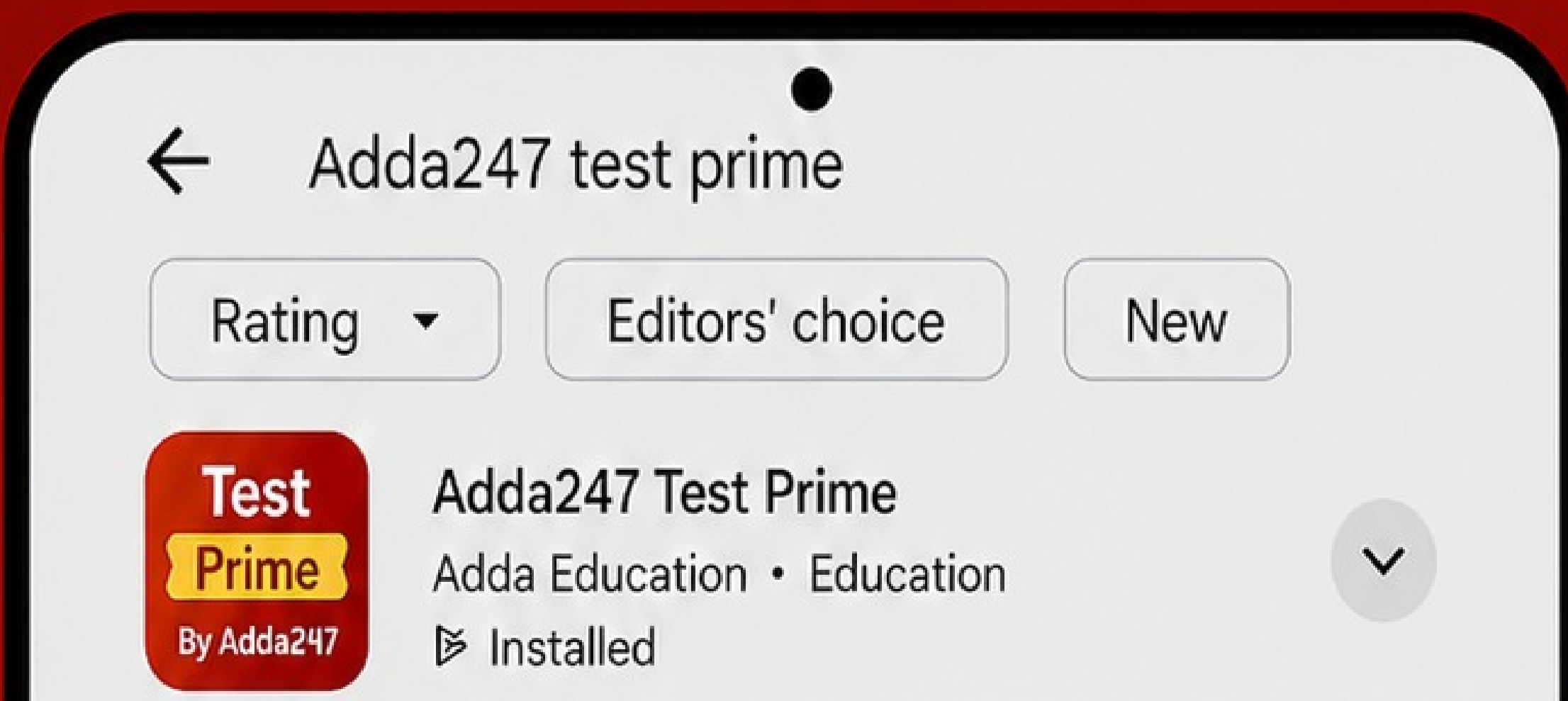
Job Alerts
Stay Updated

- Multilingual
- Detailed Solution
- Strong and Weak Areas



All India Rankings

Compete with lakhs.
Rank. Improve. Repeat.



DOWNLOAD THE APP



3. राजस्थान दुकान और वाणिज्यिक अधिष्ठान (संशोधन) विधेयक 2026 के लिए निम्नलिखित कथनों पर विचार करिए एवं सही विकल्प चुनिए :

कथन A : किसी भी अधिष्ठान में, किसी भी कर्मचारी से, किसी भी दिन, दस घंटे से अधिक और किसी भी सप्ताह में साठ घंटे से अधिक कार्य करने की न तो अपेक्षा की जाएगी ना ही उसे ऐसा करने दिया जायेगा।

कथन B : चौदह से सोलह वर्ष के बीच की आयु के किसी भी बालक को किसी भी नियोजन में एक दिन में पाँच घंटे से अधिक कार्य नहीं करने दिया जाएगा।

- 1081
60
- (1) कथन A और B दोनों असत्य हैं।
 - (2) कथन A सत्य है, लेकिन कथन B असत्य है।
 - (3) कथन B सत्य है, लेकिन कथन A असत्य है।
 - (4) कथन A और B दोनों सत्य हैं।
 - (5) अनुत्तरित प्रश्न

4. मार्च 2026 में एसोसिएशन ऑफ इंडियन यूनिवर्सिटीज (एआईयू) वेस्ट जोन वाईस चांसलर मीट 2025-26 का आयोजन किया गया :

- (1) मोहन लाल सुखाड़िया विश्वविद्यालय, उदयपुर में X
- (2) राजस्थान विश्वविद्यालय, जयपुर में X
- (3) पूर्णिमा विश्वविद्यालय, जयपुर में X
- (4) जनार्दन राय नागर राजस्थान विद्यापीठ (डबोक), उदयपुर में
- (5) अनुत्तरित प्रश्न

3. Consider the following statements for The Rajasthan Shops and Commercial Establishments (Amendment) Bill 2026 and choose the correct option :

Statement A : No employee in any establishment shall be required or allowed to work for more than ten hours in any day and sixty hours in a week.

Statement B : No child between the ages of fourteen and sixteen shall be allowed to work in any employment for more than five hours in a day.

- (1) Both the statements A and B are false.
- (2) Statement A is true, but Statement B is false.
- (3) Statement B is true, but Statement A is false.
- (4) Both the statements A and B are true.
- (5) Question not attempted

4. The Association of Indian Universities (AIU) West Zone Vice Chancellors' Meet 2025-26 was held in March 2026 at :

- (1) Mohan Lal Sukhadia University, Udaipur
- (2) Rajasthan University, Jaipur
- (3) Poornima University, Jaipur
- (4) Janardan Rai Nagar Rajasthan Vidyapeeth (Dabok), Udaipur
- (5) Question not attempted

5. मार्च 2026 में बैंकॉक में हुए एशिया कप वर्ल्ड रैंकिंग टूर्नामेंट स्टेज 1 में राजस्थान के तीरंदाज रजत चौहान ने कितने पदक जीते ?

- (1) एक स्वर्ण, एक रजत तथा एक कांस्य
(2) एक स्वर्ण तथा दो कांस्य
(3) एक रजत तथा दो कांस्य
(4) एक स्वर्ण तथा दो रजत
(5) अनुत्तरित प्रश्न



6. नई दिल्ली स्थित राष्ट्रपति भवन में 13 मार्च, 2026 को 'पर्पल फेस्ट' का आयोजन किया गया था, जिसमें निम्नलिखित में से किसकी प्रतिभा, उपलब्धियों और आकांक्षाओं का जश्न मनाया गया था ?

- (1) सैन्यकर्मियों की ✕
(2) जनजातीय महिलाओं की
(3) पारंपरिक शिल्पकारों की
(4) दिव्यांगजनों की ✕
(5) अनुत्तरित प्रश्न

7. मार्च 2026 में, राजस्थान सरकार के संयुक्त उपक्रम राजस्थान स्टेट गैस लिमिटेड (आर एस जी एल) को स्मार्ट गैस वितरण के क्षेत्र में आई ओ टी आधारित तकनीक के प्रभावी उपयोग और नवाचार के लिए राष्ट्रीय स्तर पर किस अवार्ड से सम्मानित किया गया ?

- (1) डायमण्ड अवार्ड से
(2) गोल्डन अवार्ड से
(3) सैफायर अवार्ड से
(4) प्लैटिनम अवार्ड से
(5) अनुत्तरित प्रश्न

5. How many medals were won by Archer, Rajat Chauhan of Rajasthan in the Asia Cup World Ranking Tournament Stage 1 held at Bangkok in March 2026 ?

- (1) One gold, one silver and one bronze
(2) One gold and two bronze
(3) One silver and two bronze
(4) One gold and two silver
(5) Question not attempted

6. Rashtrapati Bhavan, New Delhi hosted, 'Purple Fest' on March 13, 2026 to celebrate the talent, achievements and aspirations of which one of the following ?

- (1) Military persons
(2) Tribal women
(3) Traditional craftsmen
(4) Divyangjan
(5) Question not attempted

7. In March 2026, Rajasthan State Gas Limited (RSGL), a joint venture of the Rajasthan government, was honoured with which award at national level for its innovation and effective use of IoT-based technology in the field of smart gas distribution ?

- (1) Diamond Award
(2) Golden Award
(3) Sapphire Award
(4) Platinum Award
(5) Question not attempted

8. ईरान के साथ अमरीका-इजरायल के बीच चल रहे संघर्ष से उत्पन्न व्यवधानों से निपटने के लिए मार्च 2026 में ईंधन में राशन व्यवस्था लागू करने वाला पहला यूरोपीय संघ देश है

- (1) स्लोवेनिया (2) ऑस्ट्रिया
(3) फिनलैण्ड (4) पोलैण्ड
(5) अनुत्तरित प्रश्न

9. मार्च 2026 में घोषित साहित्य अकादमी पुरस्कार 2025 के संबंध में निम्नलिखित कथनों पर विचार करें और सही विकल्प चुनें :

कथन A : 24 भारतीय भाषाओं में 8 काव्य संग्रह, 6 उपन्यास, 4 लघु कथा संग्रह, 2 निबंध, 1 साहित्यिक आलोचना, 1 आत्मकथा और 4 संस्मरणों ने साहित्य अकादमी पुरस्कार 2025 जीता। ✓

कथन B : राजस्थानी भाषा में लिखी गई कविता "भरखमा" को पुरस्कार मिला।

- (1) कथन A और B दोनों असत्य हैं।
(2) कथन A सत्य है, लेकिन कथन B असत्य है।
(3) कथन B सत्य है, लेकिन कथन A असत्य है।
(4) कथन A और B दोनों सत्य हैं।
(5) अनुत्तरित प्रश्न

10. वह फिल्म जिसने सर्वश्रेष्ठ डॉक्यूमेन्टरी के लिए ऑस्कर अवार्ड 2026 जीता, के शीर्षक में निम्नलिखित देशों में से किसके राष्ट्रपति का नाम निहित है ?

- ✓ (1) फ्रांस
(2) चीन ✗
(3) संयुक्त राज्य अमेरिका ✗
(4) रूस ✗
(5) अनुत्तरित प्रश्न



8. The first European Union Country to implement fuel rationing to tackle disruption caused by the US-Israel conflict with Iran in March 2026 is :

- (1) Slovenia (2) Austria
(3) Finland (4) Poland
(5) Question not attempted

9. Consider the following statements regarding the Sahitya Akademi Award 2025 announced in March 2026 and choose the correct option :

Statement A : 8 books of poetry, 6 novels, 4 books of short stories, 2 essays, 1 literary criticism, 1 autobiography and 4 memoirs from 24 Indian languages had won the Sahitya Akademi Award 2025.

Statement B : Poetry in Rajasthani language "Bharkhama" won an award.

- (1) Both the statements A and B are false.
(2) Statement A is true, but Statement B is false.
(3) Statement B is true, but Statement A is false.
(4) Both the statements A and B are true.
(5) Question not attempted

10. The title of the film that won the Oscar Award 2026 for the best documentary contains the name of the President of which of the following countries ?

- (1) France
(2) China
(3) United States
(4) Russia
(5) Question not attempted

11. न्यूरॉनों के संबंध में निम्नलिखित कथनों पर विचार करें और सही विकल्प चुनें :

कथन A : एक न्यूरॉन में केंद्रक और कोशिका-द्रव्य सहित कोशिकाकाय होता है ।

कथन B : प्रायः प्रत्येक न्यूरॉन में एक लंबा प्रवर्ध होता है, जिसे एक्सॉन कहते हैं और बहुत सारे छोटी शाखा वाले प्रवर्ध होते हैं जिन्हें डेंडराइट्स कहते हैं ।

(1) कथन A और B दोनों असत्य हैं ।

(2) कथन A सत्य है, लेकिन कथन B असत्य है ।

(3) कथन B सत्य है, लेकिन कथन A असत्य है ।

(4) कथन A और B दोनों सत्य हैं ।

(5) अनुत्तरित प्रश्न

12. व्हेल, चमगादड़, चीता और मानव अग्रपाद की अस्थियों के पैटर्न में समानता दर्शाते हैं । इस तरह के विकास को कहा जाता है

(1) अभिसारी विकास (2) समांतर विकास

(3) सह-विकास (4) अपसारी विकास

(5) अनुत्तरित प्रश्न

13. बेंजीन (C_6H_6) के एक अणु में मौजूद एकल और द्वि बंधों की संख्या क्रमशः है :

(1) 9 और 6 (2) 6 और 9

(3) 9 और 3 (4) 3 और 9

(5) अनुत्तरित प्रश्न

14. एक कार्बन प्रतिरोधक पर चार समाक्ष रंगीन वलयों का एक समूह है । अगर अंतिम बैंड (चौथे) का रंग सुनहरा है, तो प्रतिरोधक की सहायता (प्रतिशत में) है

(1) 10 (2) 15

(3) 20 (4) 5

(5) अनुत्तरित प्रश्न

11. Consider the following statements regarding neurons and choose the correct option :

Statement A : A neuron consists of a cell body with a nucleus and cytoplasm.

Statement B : Usually each neuron has a single long part, called the axon and many short, branched parts called dendrites.

(1) Both the statements A and B are false.

(2) Statement A is true, but Statement B is false.

(3) Statement B is true, but Statement A is false.

(4) Both the statements A and B are true.

(5) Question not attempted

12. The whales, bats, cheetah and humans show similarities in the pattern of bones of the forelimbs. This type of evolution is called :

(1) Convergent evolution

(2) Parallel evolution

(3) Co-evolution

(4) Divergent evolution

(5) Question not attempted

13. The number of single and double bonds present in a molecule of benzene (C_6H_6) are respectively :

(1) 9 and 6 (2) 6 and 9

(3) 9 and 3 (4) 3 and 9

(5) Question not attempted

14. A carbon resistor has a set of four co-axial coloured rings on it. If the colour of the last band (4th) is Gold, then the tolerance of the resistor is (in percentage) :

(1) 10 (2) 15

(3) 20 (4) 5

(5) Question not attempted

15. राष्ट्रपति-निर्वाचन, 2022 में संसद के प्रत्येक निर्वाचित सदस्य का मत-मूल्य क्या था ?

- (1) 700 (2) 776
(3) 803 (4) 653
(5) अनुत्तरित प्रश्न

16. निम्नांकित में से कौन सा भारत के उच्चतम न्यायालय द्वारा दिये गये विभिन्न निर्णयों में, भारत के संविधान के मूल ढाँचे की विशेषता के रूप में रेखांकित नहीं किया गया है ?

- (1) आपात उपबंध
(2) न्याय तक प्रभावी पहुँच
(3) युक्तियुक्तता
(4) विधि का शासन
(5) अनुत्तरित प्रश्न

17. आयुर्वेद के अनुसार त्रिदोष (वात, पित्त, कफ) पर स्वाद (रस) के प्रभाव के संबंध में निम्नलिखित कथनों पर विचार करें और सही विकल्प चुनें :

कथन A : मीठा स्वाद (मधुर रस) कफ, पित्त और वात तीनों को बढ़ाता है।

कथन B : कड़वा स्वाद (तिक्त रस) कफ, पित्त और वात तीनों को घटाता है।

- (1) कथन A और B दोनों असत्य हैं।
(2) कथन A सत्य है, लेकिन कथन B असत्य है।
(3) कथन B सत्य है, लेकिन कथन A असत्य है।
(4) कथन A और B दोनों सत्य हैं।
(5) अनुत्तरित प्रश्न

18. भारतीय संविधान के निर्माण के उद्देश्य प्रस्ताव में निम्नलिखित में से कौन सा एक सम्मिलित नहीं था ?

- (1) व्यवसाय की स्वतंत्रता
(2) अन्य पिछड़ा वर्ग के लिए सुरक्षा उपाय
(3) अवशिष्ट शक्तियों के साथ स्वायत्तशासी इकाई
(4) लोकतांत्रिक संघ
(5) अनुत्तरित प्रश्न

15. What was the value of vote of each elected member of Parliament at the Presidential Election, 2022 ?

- (1) 700 (2) 776
(3) 803 (4) 653
(5) Question not attempted

16. Which of the following is not underlined as a feature of Basic Structure of India's Constitution by the Supreme Court of India, in its various decisions ?

- (1) Emergency Provisions
(2) Effective access to Justice
(3) Reasonableness
(4) Rule of law
(5) Question not attempted

17. Consider the following statements regarding the effect of taste (rasa) on tridosa (vata, pitta, kapha) according to Ayurveda and choose the correct option :

Statement A : The sweet taste (madhura rasa) increases all three Kapha, Pitta and Vata.

Statement B : Bitter taste (tikta rasa) decreases all three Kapha, Pitta and Vata.

- (1) Both the statements A and B are false.
(2) Statement A is true, but Statement B is false.
(3) Statement B is true, but Statement A is false.
(4) Both the statements A and B are true.
(5) Question not attempted

18. Which one of the following was not included in the objective resolution of the framing of Indian Constitution ?

- (1) Freedom of Vocation
(2) Safeguards for other backward classes
(3) Autonomous Units with residuary powers
(4) Democratic Federation
(5) Question not attempted

19. पंचायत उपबंध (अनुसूचित क्षेत्रों पर विस्तार) अधिनियम, 1996 के संबंध में निम्नांकित कथनों पर विचार कीजिए :

- (I) यह पंचायती राज व्यवस्था का जनजाति-बहुल छठी अनुसूची क्षेत्रों तक विस्तार करता है।
 - (II) वर्तमान में यह 10 राज्यों में क्रियाशील है।
- (1) केवल (II) सही है।
 - (2) (I) व (II) दोनों सही हैं।
 - (3) न तो (I), न ही (II) सही है।
 - (4) केवल (I) सही है।
 - (5) अनुत्तरित प्रश्न

20. भारत की संसद के निम्नलिखित पदाधिकारियों पर विचार कीजिए :

- (I) लोकसभा अध्यक्ष ✓
- (II) लोकसभा का नेता प्रतिपक्ष ✓
- (III) राज्यसभा का नेता प्रतिपक्ष ✓
- (IV) राज्यसभा का उपसभापति ✗

उपर्युक्त पदाधिकारियों का सही समूह खोजिए, जो राष्ट्रीय मानवाधिकार आयोग के अध्यक्ष तथा अन्य सदस्यों की नियुक्ति के लिए गठित समिति के सदस्य होते हैं।

- (1) केवल (I), (II) तथा (III) ✓
- (2) केवल (II) तथा (III) ✓
- (3) (I), (II), (III) तथा (IV) सभी
- (4) केवल (I) तथा (II) ✗
- (5) अनुत्तरित प्रश्न

19. Consider the following statements regarding The Provisions of the Panchayats (Extension to Scheduled Areas) Act, 1996 :

- (I) It extends the Panchayati Raj system to the tribal dominated Sixth Schedule Areas.
 - (II) At present it is operative in 10 states.
- (1) Only (II) is correct.
 - (2) Both (I) and (II) are correct.
 - (3) Neither (I), nor (II) is correct.
 - (4) Only (I) is correct.
 - (5) Question not attempted

20. Consider the following office-bearers of the Parliament of India :

- (I) Speaker of the House of the People
- (II) Leader of the opposition in the House of the People
- (III) Leader of the opposition in the Council of States
- (IV) Deputy Chairman of the Council of States

Find out the correct group of the above office-bearers who are the members of the committee constituted for appointment of chairperson and other members of National Human Rights Commission.

- (1) Only (I), (II) and (III)
- (2) Only (II) and (III)
- (3) (I), (II), (III) and (IV) – all
- (4) Only (I) and (II)
- (5) Question not attempted

21. निम्नलिखित पर विचार कीजिए :
- (A) अनास ✓ (B) वाकल
(C) हथमती (D) सेई
- उपर्युक्त में से कितनी साबरमती नदी की सहायक नदी/नदियाँ है/हैं ?
- (1) केवल दो (2) केवल तीन ✓
(3) सभी चार (4) केवल एक
(5) अनुत्तरित प्रश्न

22. कृषि विभाग, राजस्थान के अनुसार उदयपुर तथा कोटा में अधिकांशतः निम्नलिखित में से किस प्रकार की मृदा पाई जाती है ?
- (1) नवीन भूरी मृदा ✓
(2) लाल लोम
(3) पर्वतीय मृदा ✓
(4) गहरी मध्यम काली मृदा ✓
(5) अनुत्तरित प्रश्न

23. राजस्थान के संदर्भ में निम्नलिखित कथनों पर विचार कीजिए :
- (A) सबसे पूर्वी देशांतर - $78^{\circ} 17'$ पू.
(B) पूर्व-पश्चिम चौड़ाई - 896 कि.मी. ✗
(C) सबसे उत्तरी अक्षांश - $30^{\circ} 12'$ उ. ✓
(D) इसकी अंतर्राष्ट्रीय सीमा 1078 कि.मी. लम्बी है।
- उपर्युक्त में से कितने सही कथन है/हैं ?
- (1) केवल दो (2) केवल तीन ✓
(3) सभी चार (4) केवल एक
(5) अनुत्तरित प्रश्न

24. लसाड़िया का विच्छेदित व कटा-फटा पठार निम्न में से किस झील के पूर्व में अवस्थित है ?
- (1) नवल सागर झील ✗
(2) गैब सागर झील ✗
(3) जयसमन्द झील ✓
(4) नक्की झील ✗
(5) अनुत्तरित प्रश्न

21. Consider the following :
- (A) Anas (B) Wakal
(C) Hathmati (D) Sei
- How many of the above is/are tributary/tributaries of river Sabarmati ?
- (1) Only two (2) Only three
(3) All four (4) Only one
(5) Question not attempted

22. As per Agriculture Department, Rajasthan which type of soil is largely found in Udaipur and Kota ?
- (1) Brown Soil of recent origin
(2) Red Loam
(3) Hilly Soil
(4) Deep Medium Black Soil
(5) Question not attempted

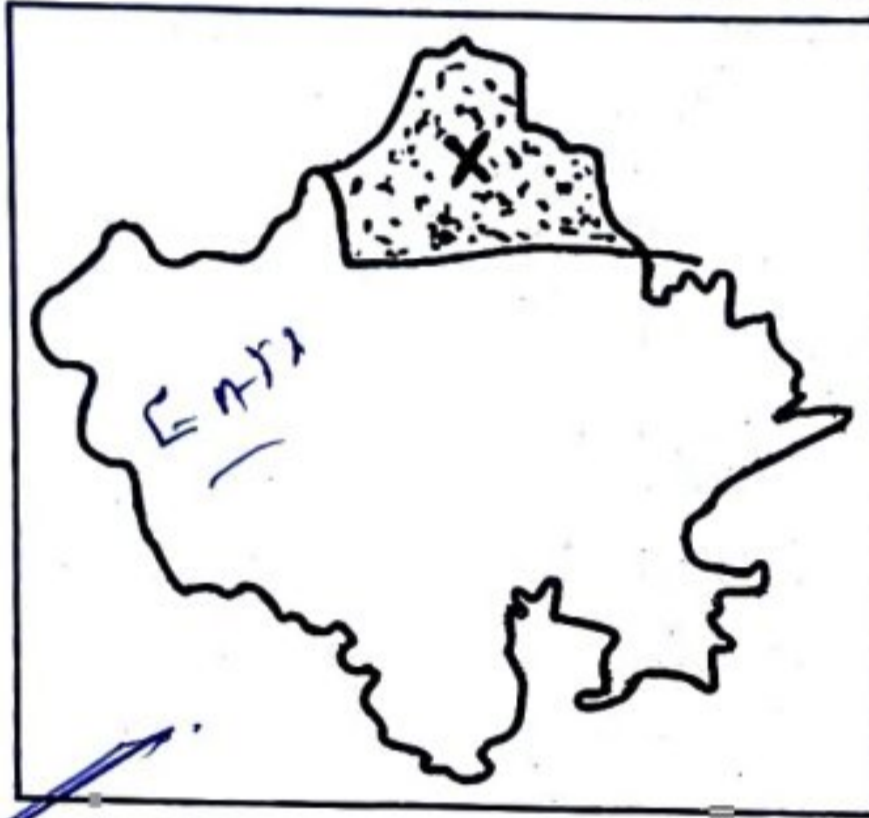
23. Consider the following statements regarding Rajasthan -
- (A) Easternmost longitude - $78^{\circ} 17' E$
(B) East-West width - 896 km
(C) Northernmost latitude - $30^{\circ} 12' N$
(D) Its international boundary is 1078 km long.
- How many of the above is/are correct statement / statements ?
- (1) Only two (2) Only three
(3) All four (4) Only one
(5) Question not attempted

24. The dissected and fragmented plateau of Lasadia is located to the east of which of the following lakes ?
- (1) Naval sagar lake
(2) Gaib sagar lake
(3) Jaisamand lake
(4) Nakki lake
(5) Question not attempted

25. जनगणना 2011 के अनुसार राजस्थान के किस जिले में 2011 में अनुसूचित जाति का लिंगानुपात सर्वाधिक है ?

- (1) गंगानगर (2) राजसमन्द
(3) बाँसवाड़ा (4) डूंगरपुर
(5) अनुत्तरित प्रश्न

26. नीचे दिए गए राजस्थान के रूपरेखा मानचित्र में 'X' छायांकित भाग थॉर्नथ्वेट के जलवायु वर्गीकरण के अनुसार किस जलवायु को प्रदर्शित करता है ?



- (1) DA'w (2) DB'w
(3) EA'd (4) CA'w
(5) अनुत्तरित प्रश्न

27. सूची-I को सूची-II से सुमेलित कीजिये और सही उत्तर का चयन नीचे दिये कूट से कीजिए :

सूची-I (खनिज)	सूची-II (भण्डार/उत्पादन क्षेत्र)
A. पन्ना	i. कपूरड़ी-जालिपा
B. लिग्नाइट	ii. राम कामून्ना
C. रॉक फॉस्फेट	iii. जहीर का खेड़ा
D. बेराइट्स	iv. गम गुरहा

कूट :

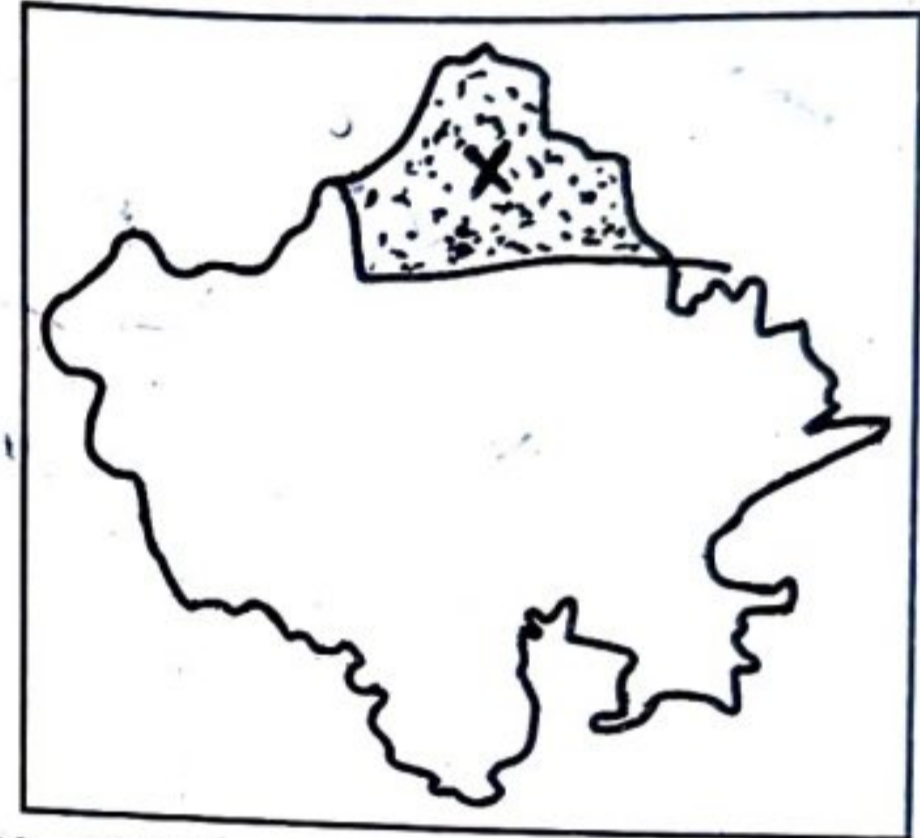
	A	B	C	D
(1)	iv	ii	i	iii
(2)	iv	i	ii	iii
(3)	i	iv	iii	ii
(4)	ii	iv	iii	i

- (5) अनुत्तरित प्रश्न

25. According to Census 2011, which district of Rajasthan has highest sex-ratio of Scheduled Caste in 2011 ?

- (1) Ganganagar (2) Rajsamand
(3) Banswara (4) Dungarpur
(5) Question not attempted

26. In the given outline map of Rajasthan, the shaded area marked 'X' represents which of the following type of climate as per Thornthwait classification ?



- (1) DA'w (2) DB'w
(3) EA'd (4) CA'w
(5) Question not attempted

27. Match List-I with List-II and select the correct answer using codes given below :

List-I (Mineral)	List-II (Deposit/Production Area)
A. Emerald	i. Kapurdi - Jalipa
B. Lignite	ii. Ram Kamunna
C. Rock Phosphate	iii. Zahir ka Khera
D. Barytes	iv. Gam Gurha

Codes :

	A	B	C	D
(1)	iv	ii	i	iii
(2)	iv	i	ii	iii
(3)	i	iv	iii	ii
(4)	ii	iv	iii	i

- (5) Question not attempted

28. निम्नलिखित में से कौन सा जिलों का सही समूह है, जिन्हें दिल्ली-वड़ोदरा ग्रीनफील्ड एक्सप्रेस-वे से फ़ायदा होगा ?

- (1) पाली, नागौर, अजमेर, जालौर
- (2) अजमेर, जालौर, ब्यावर, बूँदी
- (3) चुरू, जयपुर, सीकर, अजमेर
- (4) भरतपुर, दौसा, कोटा, झालावाड़
- (5) अनुत्तरित प्रश्न

29. पियाजे के नैतिक विकास सिद्धांत के अनुसार, जब बच्चे यह समझ जाते हैं कि लोग नियम बनाते हैं और लोग उन्हें बदल सकते हैं, तो नैतिक विकास की यह अवस्था जानी जाती है :

- (1) नैतिक यथार्थवाद
- (2) नैतिक दुविधा
- (3) नैतिक तर्क
- (4) सहयोग की नैतिकता
- (5) अनुत्तरित प्रश्न

30. राजस्थान में वर्ष 2022-23 में चावल का सर्वाधिक उत्पादक जिला था :

- (1) हनुमानगढ़
- (2) बूँदी
- (3) कोटा
- (4) गंगानगर
- (5) अनुत्तरित प्रश्न

31. बीकानेर-नागौर पेट्रोलिफेरस बेसिन में निम्नलिखित में से कौन सा जिला सम्मिलित नहीं है ?

- (1) हनुमानगढ़
- (2) गंगानगर
- (3) चुरू
- (4) सीकर
- (5) अनुत्तरित प्रश्न

28. Which of the following is the correct group of districts that will benefit from the Delhi-Vadodara Green Field Expressway ?

- (1) Pali, Nagaur, Ajmer, Jalore
- (2) Ajmer, Jalore, Beawar, Bundi
- (3) Churu, Jaipur, Sikar, Ajmer
- (4) Bharatpur, Dausa, Kota, Jhalawar
- (5) Question not attempted

29. According to Piaget's Moral development theory, when children realize that people make rules and people can change them, this stage of moral development is known as :

- (1) Moral realism
- (2) Moral dilemmas
- (3) Moral reasoning
- (4) Morality of cooperation
- (5) Question not attempted

30. The highest Rice producer district in year 2022-23 in Rajasthan was :

- (1) Hanumangarh
- (2) Bundi
- (3) Kota
- (4) Ganganagar
- (5) Question not attempted

31. Which among the following district is not included in the Bikaner-Nagaur petroliferous basin ?

- (1) Hanumangarh
- (2) Ganganagar
- (3) Churu
- (4) Sikar
- (5) Question not attempted

32. पियाजे के अधिगम के संज्ञानात्मक उपागम के अनुसार, संज्ञानात्मक प्रक्रियाओं से संबंधित निम्नलिखित शब्दों को उनके अर्थ से सुमेलित कीजिए :

संज्ञानात्मक प्रक्रियाओं से संबंधित शब्द	अर्थ
A. संगठन	i. नई जानकारी को मौजूदा स्कीमा में ढालना
B. आत्मसात्करण	ii. संज्ञानात्मक स्कीमा और परिवेश से प्राप्त जानकारी के बीच मानसिक साम्यता की खोज करना
C. समायोजीकरण	iii. सूचनाओं और अनुभवों को मानसिक प्रणालियों में व्यवस्थित करने की सतत प्रक्रिया
D. संतुलनीकरण	iv. मौजूदा स्कीमा में बदलाव करना या नई जानकारी के आधार पर नया स्कीमा बनाना

सही कूट का चयन कीजिए :

	A	B	C	D
(1)	iv	i	iii	ii
(2)	ii	iii	i	iv
(3)	iii	i	iv	ii
(4)	i	iv	ii	iii

(5) अनुत्तरित प्रश्न

32. According to Piaget's Cognitive approach to learning, match the following terms related to cognitive processes with its meaning :

Terms related to cognitive processes	Meaning
A. Organization	i. Fitting new information into existing schema
B. Assimilation	ii. Search for mental balance between cognitive schema and information from the environment
C. Accommodation	iii. Ongoing process of arranging information and experience into mental systems
D. Equilibration	iv. Altering existing schema or creating new ones in response to new information

Choose the correct codes :

	A	B	C	D
(1)	iv	i	iii	ii
(2)	ii	iii	i	iv
(3)	iii	i	iv	ii
(4)	i	iv	ii	iii

(5) Question not attempted

33. विद्यालय का प्रधान अध्यापक एक प्रबंधक के रूप में कुछ गतिविधियाँ करता है, जैसे कि, उद्देश्यों को प्राप्त करने हेतु योजना बनाना, निष्पादित की जाने वाली क्रियाओं की पहचान करना, समूह में गतिविधियाँ आयोजित करना आदि, किन्तु प्रारंभ से ही एक महत्वपूर्ण गतिविधि छूट जाती है।

निम्न में से उक्त गतिविधि की पहचान कीजिए :

- (1) उपलब्ध संसाधनों के उपयोग हेतु उद्देश्य निर्धारित करना।
- (2) शिक्षकों को प्रोत्साहन प्रदान करना।
- (3) उद्देश्यों की उपलब्धि के मापन हेतु नियंत्रण निर्धारित करना।
- (4) किए जाने वाले कार्य के समूह बनाना।
- (5) अनुत्तरित प्रश्न

34. थॉर्नडाइक के संक्षेपित प्रभाव नियम के अनुसार निम्नलिखित में से कौन सा कथन सत्य है ?

- (1) पुरस्कार से उद्दीपन-अनुक्रिया का संबंध मजबूत होता है, परन्तु दंड से कमजोर हो जाता है।
- (2) पुरस्कार से उद्दीपन-अनुक्रिया का सम्बन्ध कमजोर होता है, परन्तु दंड से कमजोर नहीं होता।
- (3) न तो पुरस्कार का और न ही दंड का उद्दीपन-अनुक्रिया के बीच के सम्बन्ध पर कोई प्रभाव पड़ता है।
- (4) पुरस्कार से उद्दीपन-अनुक्रिया का संबंध मजबूत होता है, परन्तु दंड से कमजोर नहीं होता।
- (5) अनुत्तरित प्रश्न

35. शिक्षण-अधिगम में चिंतन, संवेग और व्यवहार को समावेशित करने के परिणामस्वरूप अधिगमकर्ता, आत्म-जागरूकता, स्वयं तथा अन्य के संवेगों व व्यवहार को प्रबंधित करने और सकारात्मक संबंधों का निर्माण करने की योग्यता विकसित करते हैं, यह कहलाता है :

- (1) अबलोकनात्मक अधिगम
- (2) सामाजिक-संवेगात्मक अधिगम
- (3) संज्ञानात्मक अधिगम
- (4) संकेत अधिगम
- (5) अनुत्तरित प्रश्न

33. The head teacher of the school do certain activities as a manager, such as : formulating plan for achieving objectives, identifying activities to be performed, organise activities into group etc., but miss out a very important activity from the beginning. Identify that activity from the below :

- (1) Set objectives for using available resources.
- (2) Supply incentives to the teacher.
- (3) Set up control to measure the achievement of objectives.
- (4) Group the task to be done
- (5) Question not attempted

34. According to Thorndike's truncated law of effect, which of the following statement is true ?

- (1) The stimulus-response relationship is strengthened by reward but weakened by punishment.
- (2) The stimulus-response relationship is weakened by reward, but not weakened by punishment.
- (3) Neither reward nor punishment has any effect on the relationship between stimulus and response.
- (4) The stimulus-response relationship is strengthened by reward but not weakened by punishment.
- (5) Question not attempted

35. The process of integrating thinking, emotion and behaviour into teaching-learning as a result of which, learners develop skills of self-awareness, learn to manage their own and others' emotions and behaviour and build positive relationship is called

- (1) Observational learning
- (2) Socio-emotional learning
- (3) Cognitive learning
- (4) Sign learning
- (5) Question not attempted

36. शैक्षिक संस्थानों के निम्नलिखित घटकों को सम्पूर्ण गुणवत्ता प्रबन्धन के आधारों के साथ सुमेलित कीजिए :

TQM

शैक्षिक संस्थाओं के घटक	संपूर्ण गुणवत्ता प्रबंधन के आधार
A. अंतर्व्यक्तिक संबंध	i. भौतिक
B. पाठ्यक्रम	ii. बौद्धिक
C. कार्मिक	iii. संवेगात्मक
D. नवाचार	iv. आध्यात्मिक

सही कूट का चयन कीजिए :

- | | A | B | C | D |
|-----|------------------|-----|-----|-----|
| (1) | iv | i | ii | iii |
| (2) | iii | ii | i | iv |
| (3) | ii | iv | iii | i |
| (4) | i | iii | iv | ii |
| (5) | अनुत्तरित प्रश्न | | | |

37. माध्यमिक शिक्षा बोर्ड, राजस्थान की संगठनात्मक संरचना के संबंध में निम्नलिखित में से कौन सा कथन सही नहीं है ?

- (1) कुछ सदस्यों को विधानसभा अध्यक्ष द्वारा मनोनीत किया जाता है। ✓
- (2) कुछ सदस्यों को राज्य सरकार द्वारा मनोनीत किया जाता है। ✓
- (3) बोर्ड के सचिव की नियुक्ति अध्यक्ष द्वारा की जाती है। ✓
- (4) बोर्ड के अध्यक्ष को राज्य सरकार द्वारा मनोनीत किया जाता है।
- (5) अनुत्तरित प्रश्न

36. Match the following elements of educational institutions with the basis of total quality management :

Elements of Educational Institutions	Basis of Total Quality Management
A. Inter-Personal Relationship	i. Physical
B. Curriculum	ii. Intellectual
C. Personnel	iii. Emotional
D. Innovations	iv. Spiritual

Choose the correct codes :

- | | A | B | C | D |
|-----|------------------------|-----|-----|-----|
| (1) | iv | i | ii | iii |
| (2) | iii | ii | i | iv |
| (3) | ii | iv | iii | i |
| (4) | i | iii | iv | ii |
| (5) | Question not attempted | | | |

37. Which of the following statement is not correct about the organisational setup of Board of Secondary Education, Rajasthan ?

- (1) Some members are nominated by the Speaker of Legislative Assembly.
- (2) Some members are nominated by the State Government.
- (3) Secretary of the board is appointed by the Chairman.
- (4) The Chairman of board is nominated by the State Government.
- (5) Question not attempted

38. निम्नलिखित में से कौन सा कथन आर.टी.ई. अधिनियम, 2009 के अंतर्गत कक्षा 6 से 8 के लिए प्रतिमान एवं मानकों के संबंध में असत्य है ?
- (1) प्रत्येक विद्यालय में एक पुस्तकालय और एक विज्ञान प्रयोगशाला होना अनिवार्य है। ✓
 - (2) प्रत्येक 35 बच्चों पर कम से कम एक शिक्षक हो। ✓
 - (3) प्रति सप्ताह शिक्षक के लिए न्यूनतम 45 कार्य घण्टे (तैयारी सहित) हों। ✓
 - (4) एक शैक्षणिक वर्ष में न्यूनतम 1000 शिक्षण घण्टे हों। ✓
 - (5) अनुत्तरित प्रश्न
39. आर.एस.सी.ई.आर.टी. के आंकलन प्रकोष्ठ (असेसमेंट सेल) के संबंध में निम्नलिखित में से कौन सा उसके उद्देश्य से संबंधित नहीं है ?
- (1) आंकलन पर प्रशासकों की क्षमता बढ़ाना।
 - (2) गुणवत्तापूर्ण मानकीकृत आंकलन में गेम चेंजर के रूप में कार्य करना।
 - (3) गुणवत्ता सुधारने में नियमित डेटा प्रदान करने में सहायता करना।
 - (4) कक्षा-कक्ष अनुदेशन में सुधार करना। ✓
 - (5) अनुत्तरित प्रश्न
40. एन.ई.पी.-2020 के अनुसार सामाजिक-आर्थिक रूप से वंचित छात्रों की अधिक संख्या वाले क्षेत्रों के विद्यालयों में छात्र-शिक्षक अनुपात (पी.टी.आर.) कितना सुनिश्चित किया गया है ?
- (1) 25:1 से कम (2) 30:1 से कम ✓
 - (3) 35:1 से कम (4) 20:1 से कम
 - (5) अनुत्तरित प्रश्न
38. Which of the following statement is incorrect about the norms and standards for classes 6 to 8, under the RTE Act, 2009 ?
- (1) Every school must have a library and a science laboratory.
 - (2) At least one teacher for every 35 children.
 - (3) Minimum 45 working hours (including preparation) per week for the teacher.
 - (4) Minimum 1000 teaching hours in an academic year.
 - (5) Question not attempted
39. Regarding Assessment Cell in RSCERT, which one of the following is not related to its purpose ?
- (1) Build capacity of administrators on assessment.
 - (2) Act as a game changer in offering quality standardised assessment.
 - (3) Aid in providing regular data for improving quality.
 - (4) To improve classroom instruction.
 - (5) Question not attempted
40. As per NEP-2020, what Pupil-Teacher Ratio (PTR) is ensured in schools in areas having large number of socio-economically disadvantaged students ?
- (1) Under 25:1 (2) Under 30:1 ✓
 - (3) Under 35:1 (4) Under 20:1
 - (5) Question not attempted

41. निम्नलिखित में से कौन सा/से कथन सही है/हैं ?

A. विनायक दामोदर सावरकर ने लंदन में 'अभिनव भारत' की स्थापना की थी।

B. भगत सिंह एवं बटुकेश्वर दत्त ने अप्रैल 1929 को केन्द्रीय विधान सभा में बम फेंका था। ✓

C. 23 दिसम्बर, 1912 को भारत के गवर्नर जनरल लॉर्ड हार्डिंग के जुलूस पर बम फेंकने की योजना चन्द्रशेखर आजाद ने बनाई थी।

कूट :

(1) A और B

(2) A और C ✗

(3) A, B और C ✗

(4) केवल B ✓

(5) अनुत्तरित प्रश्न

42. 1857 के विद्रोह के दौरान ईस्ट इंडिया कंपनी के राजनैतिक एजेंट साइमन फ्रेजर की हत्या विद्रोही सैनिकों द्वारा कर दी गई, उस समय वे राजनैतिक एजेंट के रूप में किस स्थान पर तैनात थे ?

(1) दिल्ली

(2) कानपुर

(3) बरेली

(4) मेरठ ✓

(5) अनुत्तरित प्रश्न

43. कांग्रेस की कार्यकारिणी समिति ने फरवरी 1922 में किस स्थान पर असहयोग आंदोलन को वापिस लिया ?

(1) चौरी चौरा ✗

(2) वर्धा ✗

(3) बारदोली ✓

(4) कलकत्ता ✗

(5) अनुत्तरित प्रश्न

41. Which of the following statement(s) is/are correct ?

A. "Abhinav Bharat" was founded in London by Vinayak Damodar Savarkar.

B. Bhagat Singh and Batukeshwar Dutt threw a bomb in the Central Legislative Assembly in April 1929.

C. Chandrashekar Azad planned to throw a bomb at the procession of Lord Hardinge, the Governor General of India, on 23rd December, 1912.

Codes :

(1) A and B

(2) A and C

(3) A, B and C

(4) Only B

(5) Question not attempted

42. During the Revolt of 1857, the East India Company's political agent Simon Fraser was assassinated by rebel soldiers, was posted at which place as a political agent ?

(1) Delhi

(2) Kanpur

(3) Bareilly

(4) Meerut

(5) Question not attempted

43. At which place Congress Working Committee called off the Non-Cooperation Movement in February 1922 ?

(1) Chauri Chaura

(2) Vardha

(3) Bardoli

(4) Calcutta

(5) Question not attempted

44. निम्नलिखित कथनों में से कौन सा/से कथन सही है/हैं ?

- A. मौलाना आजाद की अध्यक्षता में 1919 में दिल्ली में अखिल भारतीय खिलाफत सम्मेलन हुआ था।
- B. महात्मा गांधी ने मई 1942 में हरिजन समाचार-पत्र में लिखा कि "भारत को भगवान के भरोसे छोड़ दो"। ✓
- C. वल्लभभाई पटेल 1939 में कांग्रेस द्वारा नियोजित राष्ट्रीय योजना समिति के अध्यक्ष थे।
- D. 1936 में फैजपुर कांग्रेस अधिवेशन की जवाहरलाल नेहरू ने अध्यक्षता की थी।

कूट :

- (1) A और B ✓ (2) B और D
(3) B, C और D (4) केवल A
(5) अनुत्तरित प्रश्न

45. निम्नलिखित समाचार-पत्रों पर विचार कीजिए :

- A. पंजाबी
B. वन्देमातरम्
C. दी पीपल ✓

इनमें से कौन से समाचार-पत्र लाला लाजपत राय द्वारा आरम्भ किए गए ?

- (1) केवल A और C
(2) A, B और C
✓ (3) केवल B और C
(4) केवल A और B
(5) अनुत्तरित प्रश्न



44. Which of the following statement(s) is/are correct ?

- A. The All India Khilafat Conference was held in Delhi in 1919 under the Chairmanship of Maulana Azad.
- B. Mahatma Gandhi wrote in the Harijan Newspaper in May 1942 that "Leave India for God's sake".
- C. Vallabhbhai Patel was the Chairman of the National Planning Committee appointed by the Congress in 1939.
- D. Jawaharlal Nehru presided over the Faizpur Congress Session in 1936.

Codes :

- (1) A and B (2) B and D
(3) B, C and D (4) Only A
(5) Question not attempted

45. Consider the following newspapers :

- A. Punjabi
B. Vandemataram
C. The People

Which of the above newspapers were started by Lala Lajpat Rai ?

- (1) Only A and C
(2) A, B and C
(3) Only B and C
(4) Only A and B
(5) Question not attempted

46. उत्तराधिकार युद्ध के दौरान किस मुगल शहजादे ने मेवाड़ के राणा राजसिंह से सहायता माँगी थी ?
A. औरंगजेब B. दारा शिकोह
C. शुजा D. मुराद
सही विकल्प का चुनाव कीजिए :
(1) A और D (2) B और C
(3) A और C (4) A और B
(5) अनुत्तरित प्रश्न

47. चन्द्रसेन ने मुगलों से निम्नलिखित में से कौन सी लड़ाई/लड़ाइयाँ लड़ी थी/थीं ?
A. कंसारों की पोल
B. रामपोल
C. दत्ताणी
कूट :
(1) B और C (2) A और B
(3) A, B और C (4) केवल B
(5) अनुत्तरित प्रश्न

48. निम्न पुरातात्विक स्थलों को वहाँ उत्खनन में प्राप्त संरचना/सामग्री से सुमेलित कीजिए :

स्थल	संरचना/सामग्री
A. आहड़	i. गोलमंदिर
B. कालीबंगा	ii. मछली पकड़ने का काँटा
C. बैराठ	iii. त्रिशूल खुदी हुई मुद्रा
D. गणेश्वर	iv. छह छिद्रों वाली खोपड़ी

(1) A B C D
(2) iii iv i ii
(3) ii i iii iv
(4) i ii iv iii
(5) iv iii ii i

49. ग्वालियर प्रशस्ति में किस राजा की 'नारायण' की उपाधि मलेच्छों का दमन करने की द्योतक मानी गई ?
(1) रज्जिल (2) नागभट्ट
(3) नरभट्ट (4) वत्सराज
(5) अनुत्तरित प्रश्न

46. During the war of succession which Mughal prince sought help from Rana Rajsingh of Mewar ?
A. Aurangzeb B. Dara Shikoh
C. Shuja D. Murad
Choose the correct code :
(1) A and D (2) B and C
(3) A and C (4) A and B
(5) Question not attempted

47. Which of the following battle/s Chandrasen fought against the Mughals ?
A. Kansaro ki Pol
B. Rampol
C. Dattani
Codes :
(1) B and C (2) A and B
(3) A, B and C (4) Only B
(5) Question not attempted

48. Match the following archaeological sites with the structure/object found there in excavation :

Site	Structure/Object
A. Ahar	i. Golmandir
B. Kalibangan	ii. Fishing hook
C. Bairath	iii. Coin with a trident engraved
D. Ganeshwar	iv. A skull with six holes

(1) A B C D
(2) iii iv i ii
(3) ii i iii iv
(4) i ii iv iii
(5) iv iii ii i

49. In the Gwalior inscription, which king was given the title of 'Narayana' signifying his role in suppressing the Malechhas ?
(1) Rajjil (2) Nagbhatt
(3) Narbhatt (4) Vats
(5) Question not attempted

50. असहयोग आंदोलन के राजनीतिक प्रभाव से 1921 में शेखावटी में किस संगठन ने जनसंघर्ष का आरंभ किया ?

- (1) चिड़ावा सेवा समिति
 (2) अखिल भारतीय जाट महासभा
 (3) सीकर सार्वजनिक समिति
 (4) अखिल भारतीय मारवाड़ी व्यापारी संघ
 (5) अनुत्तरित प्रश्न



51. रामस्नेही सम्प्रदाय के बारे में निम्न में से कौन सा/से कथन सही है/हैं ?

- A. 'अणभै-वाणी' इस सम्प्रदाय का प्रमुख ग्रंथ है।
 B. 'खेड़ापा शाखा' के प्रवर्तक संत दरियावजी थे।
 C. इस सम्प्रदाय में 'फूलडोल महोत्सव' का आयोजन किया जाता है।

कूट :

- (1) A और B
 (2) A और C
 (3) A, B और C
 (4) केवल A
 (5) अनुत्तरित प्रश्न

52. 1857 के विद्रोह के प्रारंभ में पाली और अजमेर-ब्यावर के मध्य संचार साधनों को खुला रखने में किस शासक की महत्वपूर्ण भूमिका रही ?

- (1) स्वरूप सिंह
 (2) डूंगरसिंह
 (3) रामसिंह II
 (4) तखत सिंह
 (5) अनुत्तरित प्रश्न

53. 'राजपूताना मध्य भारत सभा' के नागपुर अधिवेशन में कौन सा/सी समाचार-पत्र/पत्रिका प्रकाशित किया गया/की गई ?

- (1) तरुण राजस्थान
 (2) राजस्थान केसरी
 (3) राजस्थान गजट
 (4) राजस्थान समाचार
 (5) अनुत्तरित प्रश्न

50. In 1921 which organization initiated a mass struggle in Shekhawati under the political influence of the Non-Cooperation Movement ?

- (1) Chirawa Sewa Samiti
 (2) All India Jat Mahasabha
 (3) Sikar Sarvajanik Samiti
 (4) All India Marwari Traders Association
 (5) Question not attempted

51. Which of the following statement(s) is/are correct about the Ramsnehi Sect ?

- A. The Anbhai-vani is the main text of this sect.
 B. 'The Khedapa branch' was founded by Saint Dariyavji.
 C. 'Phooldol festival' is organized in this sect.

Codes :

- (1) A and B
 (2) A and C
 (3) A, B and C
 (4) Only A
 (5) Question not attempted

52. Which ruler played a key role in keeping communication lines open between Pali and Ajmer - Beawar at the beginning of the Revolt of 1857 ?

- (1) Swaroop Singh
 (2) Dungar Singh
 (3) Ram Singh-II
 (4) Takhat Singh
 (5) Question not attempted

53. Which Newspaper/paper was published in Nagpur Session of the 'Rajputana Madhya Bharat Sabha' ?

- (1) Tarun Rajasthan
 (2) Rajasthan Kesari
 (3) Rajasthan Gazette
 (4) Rajasthan Samachar
 (5) Question not attempted

54. श्रेणी का अगला पद है
57, 69, 87, 93, 111, ?

- (1) 123 (2) 127
(3) 129 (4) 121
(5) अनुत्तरित प्रश्न

55. सूची-I (चित्रकला शैली) को सूची-II (संबंधित चित्रकार/कलाकार) से सुमेलित कीजिए और सही कूट का चयन कीजिए :

सूची-I (चित्रकला शैली) सूची-II (संबंधित चित्रकार/कलाकार)

- | | |
|------------|--------------|
| i. किशनगढ़ | a. श्री किशन |
| ii. बूंदी | b. लक्ष्मण |
| iii. जयपुर | c. लालडीदास |
| iv. अलवर | d. जगमोहन |

कूट :

- | | | | | |
|-----|---|----|-----|----|
| | i | ii | iii | iv |
| (1) | c | a | b | d |
| (2) | b | c | d | a |
| (3) | c | d | b | a |
| (4) | a | b | c | d |

(5) अनुत्तरित प्रश्न

56. लोक नृत्य के सम्बन्ध में कौन सा/से कथन सही है/हैं ?

- A. अग्नि नृत्य जसनाथी संप्रदाय का प्रमुख नृत्य है। ✓
B. 'राई नृत्य' भीलों का नृत्य है। ✓
C. वालर नृत्य में 'मादल' एवं 'थाली' की ताल पर गरासिया लोग नृत्य करते हैं।

कूट :

- (1) A और B (2) A और C
(3) A, B और C (4) केवल A
(5) अनुत्तरित प्रश्न

54. The next term of the series is -
57, 69, 87, 93, 111, ?

- (1) 123 (2) 127
(3) 129 (4) 121
(5) Question not attempted

55. Match List-I (Painting Style) with List-II (Associated Painter/Artist) and select the correct code :

List-I (Painting Style) List-II (Associated Painter/Artist)

- | | |
|---------------|----------------|
| i. Kishangarh | a. Shri Kishan |
| ii. Bundi | b. Laxman |
| iii. Jaipur | c. Laldidas |
| iv. Alwar | d. Jagmohan |

Codes :

- | | | | | |
|-----|---|----|-----|----|
| | i | ii | iii | iv |
| (1) | c | a | b | d |
| (2) | b | c | d | a |
| (3) | c | d | b | a |
| (4) | a | b | c | d |

(5) Question not attempted

56. Which statement(s) is/are correct regarding folk dance ?

- A. Agni dance is the main dance of Jasnathi sect.
B. 'Rai dance' is a dance of the Bhils.
C. In Walar dance, Garasia people dance to the rhythm of 'Madal' and 'Thali'.

Codes :

- (1) A and B (2) A and C
(3) A, B and C (4) Only A
(5) Question not attempted

57. निम्न बंटन का बहुलक है :

वर्ग अन्तराल	आवृत्ति
200-201	12
201-202	26
202-203	20
203-204	9
204-205	2
205-206	1

- (1) 201.70 (2) 201.85
 (3) 201.50 (4) 201.35
 (5) अनुत्तरित प्रश्न

58. 8, 15 और 24 से विभाजित होने वाली न्यूनतम पूर्ण वर्ग संख्या है

- (1) 1600 (2) 2400
 (3) 3600 (4) 4800
 (5) अनुत्तरित प्रश्न

59. एक निश्चित कूट भाषा में 'UNIVERSE' को 'UHMTFTSF' तथा 'SECLUDED' को 'KBDREFEV' लिखा जाता है, तो CONFUSED को उसी कूट भाषा में लिखा जायेगा

- (1) EMNBEFTV (2) ENMEBFTV
 (3) ENMBFTEV (4) EMNBFETV
 (5) अनुत्तरित प्रश्न

60. एक कक्षा में लड़कियों का औसत भार 54 किग्रा है तथा उसी कक्षा में लड़कों का औसत भार 64 किग्रा है। यदि कक्षा के सभी विद्यार्थियों का औसत भार 57 किग्रा हो तो कक्षा में लड़कियों का प्रतिशत है :

- (1) 40% (2) 70%
 (3) 80% (4) 30%
 (5) अनुत्तरित प्रश्न

57. The mode of the following distribution is :

Class interval	Frequency
200-201	12
201-202	26
202-203	20
203-204	9
204-205	2
205-206	1

- (1) 201.70 (2) 201.85
 (3) 201.50 (4) 201.35
 (5) Question not attempted

58. The least perfect square number, which is divisible by 8, 15 and 24, is

- (1) 1600 (2) 2400
 (3) 3600 (4) 4800
 (5) Question not attempted

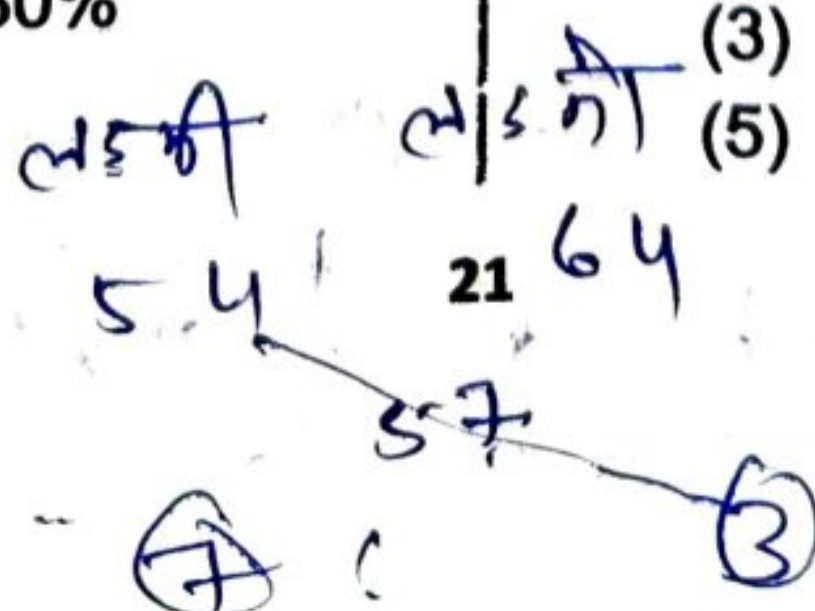
59. In a certain code 'UNIVERSE' is written as 'UHMTFTSF' and 'SECLUDED' written as 'KBDREFEV'. Then 'CONFUSED' will be written in the same code as

- (1) EMNBEFTV (2) ENMEBFTV
 (3) ENMBFTEV (4) EMNBFETV
 (5) Question not attempted

60. The average weight of girls in a class is 54 kg and the average weight of the boys in the same class is 64 kg. If the average weight of all the students of the class is 57 kg, then percentage of girls in the class is :

- (1) 40% (2) 70%
 (3) 80% (4) 30%
 (5) Question not attempted

OB



Handwritten calculation for question 60:

$$\frac{7}{10} \times 100$$



$3 \times 1 \times 3$
 $3 \times 1 + 1 \times 1 + 3 \times 1$

69

61. तीन समान घनों को एक के बाद एक जोड़कर एक घनाभ बनाया जाता है। इस प्रकार बने घनाभ व एक घन के पृष्ठीय क्षेत्रफलों का अनुपात है

- (1) 7 : 3 (2) 9 : 1
(3) 9 : 7 (4) 3 : 1
(5) अनुत्तरित प्रश्न

6×1
 $6 =$
 $6 : 9$

62. यदि एक ठोस गोले का पृष्ठीय क्षेत्रफल 44% से बढ़ाया जाता है, तो उसके आयतन में प्रतिशत वृद्धि होगी

- (1) 66% (2) 72.8%
(3) 78.2% (4) 44%
(5) अनुत्तरित प्रश्न

3×2

63. एक बेलनाकार तम्बू का ऊपरी शीर्ष शंकु के आकार का है। यदि तम्बू का आयतन, उसके ऊपरी शीर्ष वाले शंकु के आयतन का तीन गुना है, तो शंकु व बेलन की ऊँचाइयों का अनुपात है

- (1) 2 : 3 (2) 3 : 2
(3) 3 : 5 (4) 1 : 1
(5) अनुत्तरित प्रश्न

64. यदि बहुपद $6x^2 + 37x - (k - 2)$ का एक शून्यक दूसरे शून्यक का व्युत्क्रम है, तो k का मान क्या है ?

- (1) -6 (2) 6
(3) 4 (4) -4
(5) अनुत्तरित प्रश्न

$6x^2 + 37x - (k - 2)$
 $6 \times 6 + 37 \times$

65. यदि $(x^4 + x^3 + ax^2 + x + b)$, $(x^2 + 1)$ से पूर्णतया विभाजित होता है, तो $(a - b)$ का मान है

- (1) 1 (2) -1
(3) 2 (4) 0
(5) अनुत्तरित प्रश्न

$x^4 + 37x - 4 - 2 =$
 $-2 \quad 3 \quad 5 \quad 2 \quad 4$

61. A cuboid is formed by joining three equal cubes end to end. The ratio of surface areas of the resulting cuboid to a single cube is

- (1) 7 : 3 (2) 9 : 1
(3) 9 : 7 (4) 3 : 1
(5) Question not attempted

62. If the surface area of a solid sphere is increased by 44%, then percentage increase in its volume will be

- (1) 66% (2) 72.8%
(3) 78.2% (4) 44%
(5) Question not attempted

63. A tent is in the shape of a cylinder surmounted by a conical top. If volume of tent is three times the volume of its conical top, then ratio of heights of cone and cylinder is

- (1) 2 : 3 (2) 3 : 2
(3) 3 : 5 (4) 1 : 1
(5) Question not attempted

64. If one zero of the polynomial $6x^2 + 37x - (k - 2)$ is reciprocal of the other, then what is the value of k ?

- (1) -6 (2) 6
(3) 4 (4) -4
(5) Question not attempted

65. If $(x^4 + x^3 + ax^2 + x + b)$ is completely divisible by $(x^2 + 1)$, then value of $(a - b)$ is

- (1) 1 (2) -1
(3) 2 (4) 0
(5) Question not attempted

22
 $\frac{1}{3} 5x^2 + 2x + a$
 $2x^3 + 2x^2 + a$
 $2x^2 + 2x$

Test

Prime

By Adda247

Previous Year Papers PDF

PRACTICE MORE, SCORE HIGHER!



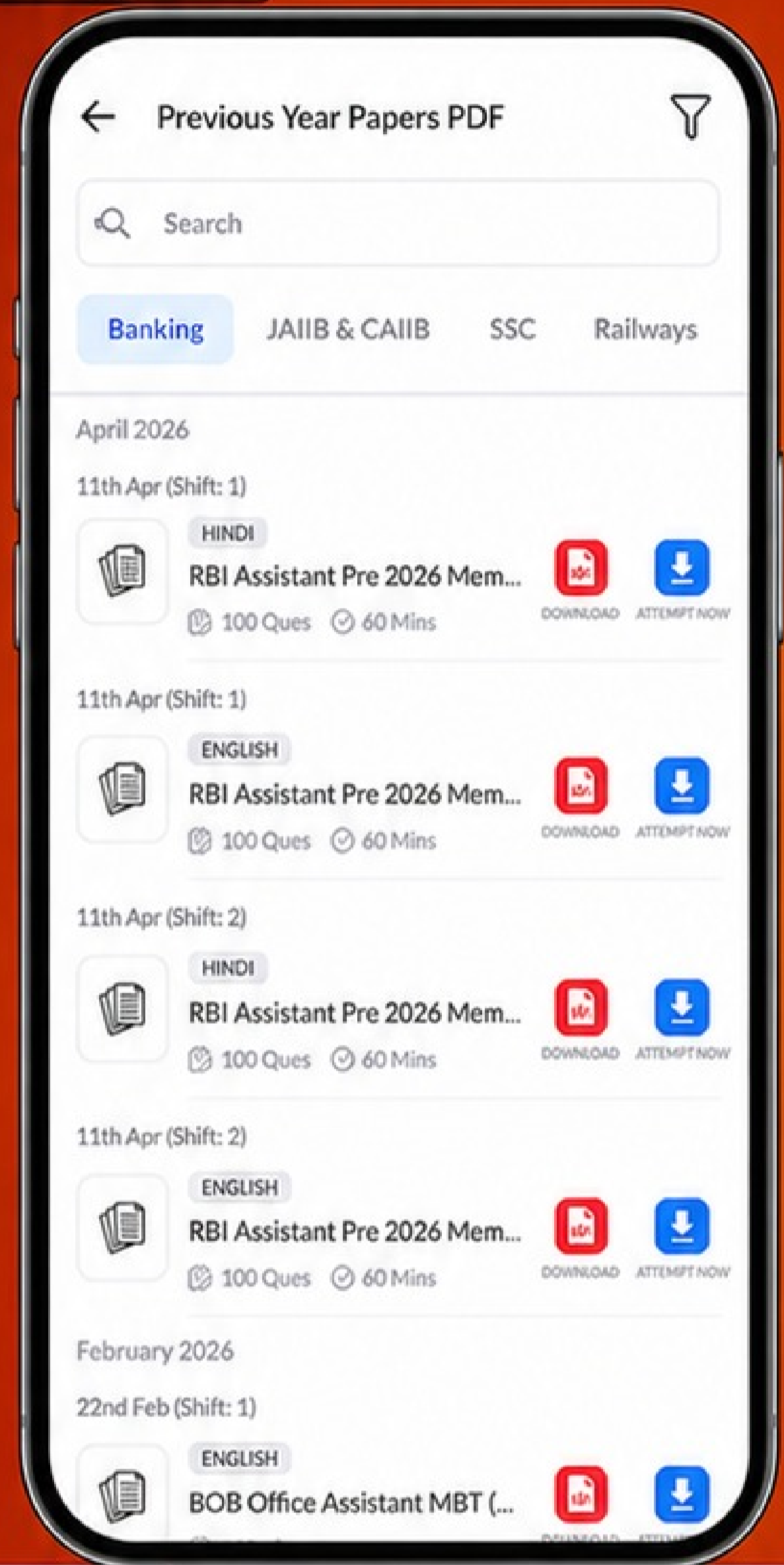
Free 25,000+ PDF's

High-Quality | Exam-Wise | Updated Regularly

ATTEMPT AS MOCK



Turn PDFs into real exam experience.
Analyze. Improve. Succeed.



Topic-wise & Exam-wise PDFs



Download & Study Offline



Attempt as Mock & Track Score



Smart Analysis & Performance

AVAILABLE IN



Banking



SSC



Railway



Teaching



UGC



Agriculture



Nursing



Bihar



UP



Punjab



WB



Odisha



TN



AP & Telangana



Haryana



DOWNLOAD THE APP



66. 'ग्राह्य' का विलोम शब्द है -

- (1) मुक्त (2) ग्रस्त
(3) प्रकट (4) त्याज्य
(5) अनुत्तरित प्रश्न

67. अशुद्ध वाक्य नहीं है - 25 ए

- (1) अध्यापक को निवेदन करना चाहता हूँ।
(2) यह दवा रोग को समूल से नष्ट कर देगी।
(3) इसी बहाने हमें दर्शन हो गए।
(4) उसको काम करने की इच्छा नहीं है।
(5) अनुत्तरित प्रश्न

68. 'BANKRUPT' के लिए समानार्थक हिन्दी शब्द है -

- (1) बैंकिंग (2) दिवालिया
(3) दिवाला (4) बैंकर बंधक
(5) अनुत्तरित प्रश्न

69. किस विकल्प में सही संधि-विच्छेद है ?

- (1) मात्रानंद = मात्र + आनंद
(2) अन्वेषण = अनु + ईषण
(3) प्रत्येक = प्रति + एक
(4) महेन्द्र = मही + इन्द्र
(5) अनुत्तरित प्रश्न

70. 'सु' उपसर्ग से निर्मित शब्द नहीं है -

- (1) सुन्दर (2) सुरभि
(3) सूक्ति (4) स्वल्प
(5) अनुत्तरित प्रश्न

71. Fill in the blanks with the appropriate articles.

If oil supplies run out, The man may have to fall back on a horse.

- (1) zero article, the
(2) a, a
(3) the, zero article
(4) the, the
(5) Question not attempted

72. Choose the appropriate antonym of "diligent" :

- (1) easy (2) soft
(3) sufficient (4) idle
(5) Question not attempted

73. Match the following often confused words with their appropriate meanings.

- i. Breach A. a piece of jewellery with a pin on the back.
ii. Breech B. failure to do something that must be done.
iii. Broach C. talking about a subject that is embarrassing.
iv. Brooch D. The part of a gun where bullets are loaded.

- | | | | | |
|-----|---|----|-----|----|
| | i | ii | iii | iv |
| (1) | B | D | C | A |
| (2) | B | D | A | C |
| (3) | B | A | C | D |
| (4) | D | B | A | C |

(5) Question not attempted

74. Fill in the blank with the correct form of Tense.

I'm assuming that you have time to do a lot of research.

- (1) assume (2) assumed
(3) shall assume (4) assuming
(5) Question not attempted

75. Choose the correct passive voice of the following sentence :

He decided to sell the house.

- (1) He decided that the house should be sold.
(2) To sale the house, he decided.
(3) He decided to sale the house.
(4) He decided to sold out the house.
(5) Question not attempted