

RSSB LAB Assistant Science Question Paper held on 10 May 2026-exam

1 सूची I को सूची II से सुमेलित करें :

सूची I (फसल)	सूची II (प्रकार)
a. चाय	I. रेसीय/रेशा फसल
b. सोयाबीन	II. रोपण फसल
c. कपास और जूट	III. नकदी फसल
d. मक्का	IV. खाद्य फसल

नीचे दिए गए विकल्पों में से सबसे उपयुक्त उत्तर चुनें:

- (A) a-II, b-I, c-III, d-IV
 (B) a-I, b-IV, c-II, d-III
 (C) a-II, b-III, c-I, d-IV
 (D) a-I, b-IV, c-III, d-II
 (E) अनुत्तरित प्रश्न

2 निम्नलिखित घटनाओं को कालक्रमानुसार व्यवस्थित करें:

- a. रौलेट सत्याग्रह 1919
 b. असहयोग और खिलाफत आंदोलन
 c. भारत छोड़ो आंदोलन की शुरुआत
 d. चंपारण आंदोलन

नीचे दिए गए विकल्पों में से सबसे उपयुक्त उत्तर चुनें:

- (A) a, d, b, c (B) b, d, c, a
 (C) d, b, c, a (D) d, a, b, c
 (E) अनुत्तरित प्रश्न

3 निम्नलिखित को कोयले में नियत कार्बन की बढ़ती मात्रा के अनुसार व्यवस्थित करें:

- a. बिटुमेनी कोयला b. ऐन्थ्रासाइट कोयला
 c. लिग्नाइट कोयला d. पीट कोयला

नीचे दिए गए विकल्पों में से सबसे उपयुक्त उत्तर चुनें:

- (A) b, c, a, d (B) d, c, a, b
 (C) a, b, d, c (D) d, b, c, a
 (E) अनुत्तरित प्रश्न

4 भारत की निम्नलिखित प्रमुख नदियों को उनकी लंबाई के बढ़ते क्रम में व्यवस्थित करें:

- a. यमुना नदी b. तापी नदी
 c. गोदावरी नदी d. कृष्णा नदी

नीचे दिए गए विकल्पों में से सबसे उपयुक्त उत्तर चुनें:

- (A) c, d, a, b (B) d, b, c, a
 (C) b, d, a, c (D) b, a, d, c
 (E) अनुत्तरित प्रश्न

5 निम्नलिखित में से कौन सा भारत का सबसे बड़ा सौर पार्क है?

- (A) कुरनूल अल्ट्रा मेगा सौर पार्क, आंध्र प्रदेश
 (B) रीवा अल्ट्रा मेगा सौर पार्क, मध्य प्रदेश
 (C) भादला सौर पार्क, राजस्थान
 (D) पावागड़ा सौर पार्क, कर्नाटक
 (E) अनुत्तरित प्रश्न

1 Match List I with List II :
List I (Crops)

- a. Tea
 b. Soyabean
 c. Cotton and Jute
 d. Maize

List II (Types)

- I. Fibrous Crop
 II. Plantation Crop
 III. Cash Crop
 IV. Food Crop

Choose the most appropriate answer from the options given below:

- (A) a-II, b-I, c-III, d-IV
 (B) a-I, b-IV, c-II, d-III
 (C) a-II, b-III, c-I, d-IV
 (D) a-I, b-IV, c-III, d-II
 (E) Question not attempted

2 Arrange the following events in a chronological order:

- a. Rowlatt Satyagraha
 b. Non-cooperation and Khilafat movements
 c. Quit India movement begins
 d. Champaran movement

Choose the most appropriate answer from the options given below:

- (A) a, d, b, c (B) b, d, c, a
 (C) d, b, c, a (D) d, a, b, c
 (E) Question not attempted

3 Arrange the following in increasing amount of fixed carbon in the coal:

- a. Bituminous coal
 b. Anthracite coal
 c. Lignite coal
 d. Peat coal

Choose the most appropriate answer from the options given below:

- (A) b, c, a, d (B) d, c, a, b
 (C) a, b, d, c (D) d, b, c, a
 (E) Question not attempted

4 Arrange the following major rivers of India in increasing order of their lengths:

- a. Yamuna River
 b. Tapi River
 c. Godavari River
 d. Krishna River

Choose the most appropriate answer from the options given below:

- (A) c, d, a, b (B) d, b, c, a
 (C) b, d, a, c (D) b, a, d, c
 (E) Question not attempted

5 Which of the following is the largest Solar Park in India?

- (A) Kurnool Ultra Mega Solar Park, Andhra Pradesh
 (B) Rewa Ultra Mega Solar Park, Madhya Pradesh
 (C) Bhadla Solar Park, Rajasthan
 (D) Pavagada Solar Park, Karnataka
 (E) Question not attempted

Test Prime
By Adda247


ALL EXAMS, ONE SUBSCRIPTION


 **Test. Analyze. Improve. Repeat.**

 **Don't just *prepare*. *Perform*.**
Test Prime — built only for mock tests. 

 **1,50,000+**
Mock Tests

 **25,000+**
Previous Year Papers

 **800+**
Exam Covered

 **500% Refund**
on Selection

 **5 lakh+** Free Quizzes |  **Daily** Free PDFs |  **Job Alerts** Stay Updated

- Multilingual
- Detailed Solution
- Strong and Weak Areas

 **All India Rankings**
Compete with lakhs.
Rank. Improve. Repeat. 



»»» DOWNLOAD THE APP «««

6 भारत में निम्नलिखित में से किस राज्य में कोयला भंडारों का उच्चतम अनुमानित निक्षेप है?

- (A) झारखण्ड (B) मध्य प्रदेश
(C) उत्तर प्रदेश (D) आंध्र प्रदेश-तेलंगाना
(E) अनुत्तरित प्रश्न

7 निम्नलिखित में कौनसा महासागरीय जल में पाये जाने वाले लवणों में उच्चतम मात्रा में पाया जाने वाला लवण है?

- (A) कैल्सियम कार्बोनेट
(B) मैग्नीशियम क्लोराइड
(C) सोडियम क्लोराइड
(D) कैल्सियम सल्फेट
(E) अनुत्तरित प्रश्न

8 निम्नलिखित में से कौनसा भारत का पूर्वी तट है?

- (A) सौराष्ट्र तट (B) कोरोमंडल तट
(C) मालाबार तट (D) कोंकण तट
(E) अनुत्तरित प्रश्न

9 अजंता-एलोरा गुफाएं भारत के किस राज्य में स्थित हैं?

- (A) राजस्थान (B) झारखण्ड
(C) मध्य प्रदेश (D) महाराष्ट्र
(E) अनुत्तरित प्रश्न

10 शंकराचार्य का निम्नलिखित में से कौनसा मठ पुरी में स्थित है?

- (A) गोवर्धन मठ (B) शारदा मठ
(C) ज्योतिर्मठ (D) श्रंगेरी मठ
(E) अनुत्तरित प्रश्न

11 सूची I को सूची II से सुमेलित करें :

सूची I (बाँध)	सूची II (स्थान/ज़िला)
a. राणा प्रताप सागर बाँध	I. बोरावास गाँव
b. जवाहर सागर बाँध	II. रावतभाटा
c. कोटा बैराज	III. बोखेड़ा गाँव
d. माही बजाज सागर बाँध	IV. कोटा

नीचे दिए गए विकल्पों में से सबसे उपयुक्त उत्तर चुनें:

- (A) a-I, b-IV, c-II, d-III
(B) a-III, b-II, c-IV, d-I
(C) a-II, b-III, c-IV, d-I
(D) a-II, b-I, c-IV, d-III
(E) अनुत्तरित प्रश्न

6 Which of the following states in India has highest estimated deposits of coal reserves?

- (A) Jharkhand
(B) Madhya Pradesh
(C) Uttar Pradesh
(D) Andhra Pradesh-Telangana
(E) Question not attempted

7 Which of the following salt is highest amongst the salts found in ocean water?

- (A) Calcium Carbonate
(B) Magnesium Chloride
(C) Sodium Chloride
(D) Calcium Sulphate
(E) Question not attempted

8 Which of the following is an eastern coast of India?

- (A) Saurashtra Coast
(B) Coromandel Coast
(C) Malabar Coast
(D) Konkan Coast
(E) Question not attempted

9 Ajanta- Ellora caves are located in which state of India?

- (A) Rajasthan
(B) Jharkhand
(C) Madhya Pradesh
(D) Maharashtra
(E) Question not attempted

10 Which of the following seats (Math) of Shankaracharya is located in Puri?

- (A) Gowardhan Math
(B) Sharda Math
(C) Jyotirmath
(D) Shringeri Math
(E) Question not attempted

11 Match List I with List II :

List I (Dams)	List II (Places/District)
a. Rana Pratap Sagar Dam	I. Boravas Village
b. Jawahar Sagar Dam	II. Rawatbhata
c. Kota Barrage	III. Borkhera Village
d. Mahi Bajaj Sagar Dam	IV. Kota

Choose the most appropriate answer from the options given below:

- (A) a-I, b-IV, c-II, d-III
(B) a-III, b-II, c-IV, d-I
(C) a-II, b-III, c-IV, d-I
(D) a-II, b-I, c-IV, d-III
(E) Question not attempted

- 12 सूची I को सूची II से सुमेलित करें :
- | | |
|--------------|-----------------|
| सूची I (झील) | सूची II (ज़िला) |
| a. सिलिसेढ़ | I. अजमेर |
| b. पुष्कर | II. नागौर |
| c. डीडवाना | III. अलवर |
| d. लूणकरणसर | IV. बीकानेर |
- नीचे दिए गए विकल्पों में से सबसे उपयुक्त उत्तर चुनें:
- (A) a-III, b-I, c-II, d-IV
 (B) a-II, b-I, c-IV, d-III
 (C) a-IV, b-I, c-II, d-III
 (D) a-III, b-II, c-IV, d-I
 (E) अनुत्तरित प्रश्न

- 13 राजस्थान के निम्नलिखित जिलों को पश्चिम से पूर्व दिशा में व्यवस्थित करें :
- a. धौलपुर (3) b. जोधपुर (2)
 c. जैसलमेर (1) d. दौसा (4)
 e. अजमेर (5)
- नीचे दिए गए विकल्पों में से सबसे उपयुक्त उत्तर चुनें:
- (A) c, b, e, d, a (B) c, b, d, e, a
 (C) b, c, a, d, e (D) d, b, c, a, e
 (E) अनुत्तरित प्रश्न

- 14 अरावली की निम्नलिखित चोटियों को ऊँचाई के बढ़ते क्रम में व्यवस्थित करें:
- a. कुम्भलगढ़ b. दिलवाड़ा (2)
 c. जरगा d. रघुनाथगढ़ (1)
 e. अचलगढ़
- नीचे दिए गए विकल्पों में से सबसे उपयुक्त उत्तर चुनें:
- (A) d, b, e, a, c (B) a, b, e, d, c
 (C) d, a, e, c, b (D) b, a, c, d, e
 (E) अनुत्तरित प्रश्न

- 15 राजस्थान के कुल सिंचित क्षेत्र में से प्रतिशत सिंचित क्षेत्र के बढ़ते क्रम में सिंचाई के निम्नलिखित स्रोतों को व्यवस्थित करें:
- a. नहरें b. तालाब
 c. कुएँ और नलकूप d. अन्य स्रोत
- नीचे दिए गए विकल्पों में से सबसे उपयुक्त उत्तर चुनें:
- (A) d, b, c, a (B) c, a, b, d
 (C) d, b, a, c (D) b, a, c, d
 (E) अनुत्तरित प्रश्न

265MN]

- 12 Match List I with List II :
- | | |
|----------------|---------------------|
| List I (Lakes) | List II (Districts) |
| a. Silised | I. Ajmer |
| b. Pushkar | II. Nagaur |
| c. Deedwana | III. Alwar |
| d. Lunkaransar | IV. Bikaner |
- Choose the most appropriate answer from the options given below:
- (A) a-III, b-I, c-II, d-IV
 (B) a-II, b-I, c-IV, d-III
 (C) a-IV, b-I, c-II, d-III
 (D) a-III, b-II, c-IV, d-I
 (E) Question not attempted

- 13 Arrange the following districts of Rajasthan from west to east directions:
- a. Dholpur b. Jodhpur
 c. Jaisalmer d. Dausa
 e. Ajmer
- Choose the most appropriate answer from the options given below:
- (A) c, b, e, d, a (B) c, b, d, e, a
 (C) b, c, a, d, e (D) d, b, c, a, e
 (E) Question not attempted

- 14 Arrange the following peaks of Aravalli in increasing order of height:
- a. Kumbhalgarh b. Dilwara
 c. Jarga d. Raghunathgarh
 e. Achalgarh
- Choose the most appropriate answer from the options given below:
- (A) d, b, e, a, c (B) a, b, e, d, c
 (C) d, a, e, c, b (D) b, a, c, d, e
 (E) Question not attempted

- 15 Arrange the following sources of irrigation in increasing order of percentage area irrigated out of the total irrigated area of Rajasthan:
- a. Canals
 b. Ponds
 c. Wells and Tubewells
 d. Other sources
- Choose the most appropriate answer from the options given below:
- (A) d, b, c, a (B) c, a, b, d
 (C) d, b, a, c (D) b, a, c, d
 (E) Question not attempted

[Contd...

265MN]

16 इंदिरा गांधी नहर परियोजना की निम्नलिखित लिफ्ट नहर को उत्तर से दक्षिण के क्रम में व्यवस्थित करें:

- गुरु जम्भेश्वर लिफ्ट नहर
- जय नारायण व्यास लिफ्ट नहर (जे.एन.वी.)
- वीर तेजाजी लिफ्ट नहर (वी.टी.जी.)
- कंवर सेन लिफ्ट नहर (के.एस.एल.)

नीचे दिए गए विकल्पों में से सबसे उपयुक्त उत्तर चुनें:

- (A) d, b, c, a (B) a, b, d, c
(C) b, c, d, a (D) d, c, a, b
(E) अनुत्तरित प्रश्न

17 निम्नलिखित राजस्थान की ताँबा खदानों को उत्तर से दक्षिण के क्रम में व्यवस्थित करें:

- गुलाबपुरा
- रेल मगरा
- खेतड़ी-सिंघाना
- खो-दरीबा

नीचे दिए गए विकल्पों में से सबसे उपयुक्त उत्तर चुनें:

- (A) c, d, a, b (B) d, c, a, b
(C) c, b, a, d (D) d, b, c, a
(E) अनुत्तरित प्रश्न

18 निम्नलिखित वन्यजीव अभयारण्यों को उत्तर से दक्षिण के क्रम में व्यवस्थित करें:

- सीतामाता अभयारण्य
- शेरगढ़ अभयारण्य (शे.ग.)
- धवा (दोली) वन्यजीव अभयारण्य
- ताल छाप अभयारण्य (त.छ.)

नीचे दिए गए विकल्पों में से सबसे उपयुक्त उत्तर चुनें:

- (A) b, d, a, c (B) d, c, b, a
(C) b, c, d, a (D) c, b, d, a
(E) अनुत्तरित प्रश्न

19 राजस्थान से गुजरने वाला राष्ट्रीय राजमार्ग जिसकी लंबाई राजस्थान में सबसे अधिक है - (नए राष्ट्रीय राजमार्ग क्रमांक के अनुसार) :

- राष्ट्रीय राजमार्ग क्रमांक-23
- राष्ट्रीय राजमार्ग क्रमांक-25
- राष्ट्रीय राजमार्ग क्रमांक-11
- राष्ट्रीय राजमार्ग क्रमांक-21
- अनुत्तरित प्रश्न

16 Arrange the following lift canal of Indira Gandhi Canal Project from north to south:

- Guru Jambheshwar lift canal
- Jai Narain Vyas lift canal
- Veer Tejaji lift canal
- Kanwar Sen lift canal

Choose the most appropriate answer from the options given below:

- (A) d, b, c, a (B) a, b, d, c
(C) b, c, d, a (D) d, c, a, b
(E) Question not attempted

17 Arrange the following copper mines of Rajasthan from north to south:

- Gulabpura
- Rail Magara
- Khetri-Singhana
- Kho-Dariba

Choose the most appropriate answer from the options given below:

- (A) c, d, a, b (B) d, c, a, b
(C) c, b, a, d (D) d, b, c, a
(E) Question not attempted

18 Arrange the following wildlife sanctuaries from north to south:

- Sitamata sanctuary
- Shergarh sanctuary
- Dhawa (Doli) wildlife sanctuary
- Tal Chhapar sanctuary

Choose the most appropriate answer from the options given below:

- (A) b, d, a, c (B) d, c, b, a
(C) b, c, d, a (D) c, b, d, a
(E) Question not attempted

19 National Highway passing through Rajasthan having longest length in Rajasthan - (as per New NH Number) :

- National Highway No.23
- National Highway No.25
- National Highway No.11
- National Highway No.21
- Question not attempted

20 निम्नलिखित में से कौनसी विदेशी नस्ल की गाय है? (निम्न में से सबसे उपयुक्त विकल्प चुनें)

- (A) जर्सी (B) कांकरेज
(C) नागौरी (D) मेवाती
(E) अनुत्तरित प्रश्न

21 निम्नलिखित में से कौनसी नदियां कोटा में त्रिकोणीय जलोढ मैदान निर्मित करती हैं? (निम्न में से सबसे उपयुक्त विकल्प चुनें)

- (A) बेड़च, मानसी और मोरेल
(B) कांतली, साबी और काकनी
(C) सोम और जाखम
(D) चंबल, कोली सिंध और पार्वती
(E) अनुत्तरित प्रश्न

22 महाराणा प्रताप के जीवन से संबंधित निम्नलिखित घटनाओं को कालक्रमानुसार व्यवस्थित करें:

- a. हल्दीघाटी का युद्ध (A)
b. मेवाड़ का शासक बनना
c. अपनी सैन्य तैयारियों को मुगलों की वृष्टि/नजर से बचने के लिए अपनी रिहाइश को गोगुन्दा से कुंभलगढ़ हस्तांतरित करना
d. दिवेर की विजय (B)

नीचे दिए गए विकल्पों में से सबसे उपयुक्त उत्तर चुनें:
(A) b, c, a, d (B) d, b, c, a
(C) b, c, d, a (D) b, d, c, a
(E) अनुत्तरित प्रश्न

23 जयपुर प्रजा मंडल के 1944 के अधिवेशन का अध्यक्ष किसे चुना गया?

- (A) रमा देवी (B) किशोरी देवी
(C) अंजना देवी चौधरी (D) जानकी देवी बजाज
(E) अनुत्तरित प्रश्न

24 सूची I को सूची II से सुमेलित करें:

सूची I (पर्यटन स्थल) सूची II (स्थान)

- a. चित्रा महल I. कोटा
b. विजय स्तंभ II. बूंदी
c. अभेदा महल III. टोंक
d. सुनेहरी कोठी IV. चित्तोड़गढ़

नीचे दिए गए विकल्पों में से सबसे उपयुक्त उत्तर चुनें:
(A) a-III, b-II, c-IV, d-I
(B) a-I, b-IV, c-II, d-III
(C) a-II, b-IV, c-I, d-III
(D) a-II, b-I, c-IV, d-III
(E) अनुत्तरित प्रश्न

265MN]

20 Which of the following is a Foreign Breed Cow? (Choose the most appropriate option from below)

- (A) Jersey (B) Kankrej
(C) Nagauri (D) Mewati
(E) Question not attempted

21 Which of the following Rivers form triangular alluvial plain in Kota? (Choose the most appropriate option from below)

- (A) Berach, Mansi and Morel
(B) Kantli, Sabi and Kakni
(C) Som and Jakham
(D) Chambal, Kali Sindh and Parvati
(E) Question not attempted

22 Arrange the following events of Maharana Pratap's life in chronological order:

- a. Battle of Haldighati
b. Became ruler of Mewar
c. Shifted residence from Gogunda to Kumbhalgarh to avoid the Mughal gaze on his military preparations
d. Conquest of Dewair

Choose the most appropriate answer from the options given below:

- (A) b, c, a, d (B) d, b, c, a
(C) b, c, d, a (D) b, d, c, a
(E) Question not attempted

23 Who was elected President of the 1944 session of the Jaipur Praja Mandal?

- (A) Rama Devi
(B) Kishori Devi
(C) Anjana Devi Chaudhari
(D) Janki Devi Bajaj
(E) Question not attempted

24 Match List I with List II :
List I (Tourist Attractions)

List II (Places)

- a. Chitra Mahal I. Kota
b. Vijaya Stambh II. Bundi
c. Abhedha Mahal III. Tonk
d. Sunehri Kothi IV. Chittorgarh

Choose the most appropriate answer from the options given below:

- (A) a-III, b-II, c-IV, d-I
(B) a-I, b-IV, c-II, d-III
(C) a-II, b-IV, c-I, d-III
(D) a-II, b-I, c-IV, d-III
(E) Question not attempted

[Contd...

25 राजस्थान के निम्नलिखित महत्वपूर्ण व्यक्तित्वों को उनके जन्म वर्ष के अनुसार कालक्रम में व्यवस्थित करें:

- गौरी शंकर हीराचंद ओझा
- बावजी चतुरसिंह
- दयालदास
- कविराज श्यामल दास

नीचे दिए गए विकल्पों में से सबसे उपयुक्त उत्तर चुनें:

- (A) c, d, a, b (B) d, b, c, a
(C) c, b, a, d (D) b, c, d, a
(E) अनुत्तरित प्रश्न

26 राजस्थान के एकीकरण के संदर्भ में निम्नलिखित घटनाओं को कालक्रमानुसार व्यवस्थित करें:

- मत्स्य संघ का निर्माण (1)
- संयुक्त राज्य राजस्थान का निर्माण (4)
- राजस्थान संघ का निर्माण (2)
- वृहत राजस्थान का निर्माण (3)

नीचे दिए गए विकल्पों में से सबसे उपयुक्त उत्तर चुनें:

- (A) d, a, c, b (B) a, d, c, b
(C) d, b, c, a (D) a, c, b, d
(E) अनुत्तरित प्रश्न

27 निम्नलिखित कृषक आंदोलनों को उनके घटित होने के कालक्रम के अनुसार व्यवस्थित करें:

- बिजौलिया कृषक आंदोलन चरण-1
- मेव कृषक आंदोलन
- भरतपुर कृषक आंदोलन
- अलवर कृषक आंदोलन

नीचे दिए गए विकल्पों में से सबसे उपयुक्त उत्तर चुनें:

- (A) b, a, c, d (B) c, d, a, b
(C) a, d, c, b (D) a, b, d, c
(E) अनुत्तरित प्रश्न

28 निम्नलिखित में से कौनसे कथन नसीराबाद क्रांति के संबंध में सत्य हैं?

- भारतीय सिपाहियों को नियंत्रित करने के लिए यूरोपीय सेना और बाहर से कुछ तोपें मंगवाई गई थीं।
- 15 वीं बंगाल नैटिव इंफैन्ट्री की टुकड़ी को संदेह के कारण नसीराबाद भेजा गया था।
- चर्च और अधिकारियों के बंगले में आग लगा दी गई थी।
- 28 मई, 1857 को बंगाल नैटिव इंफैन्ट्री के सैनिकों ने तोपखाने पर नियंत्रण कर लिया।

नीचे दिए गए विकल्पों में से सबसे उपयुक्त उत्तर चुनें:

- (A) a, d और b (B) a, b, c और d
(C) b, c और d (D) a, b और c
(E) अनुत्तरित प्रश्न

25 Arrange the following important personalities of Rajasthan in chronological order of their birth year:

- Gauri Shankar Heerachand Ojha
- Bavji Chatur Singh
- Dayaldas
- Kaviraj Shyamal Das

Choose the most appropriate answer from the options given below:

- (A) c, d, a, b (B) d, b, c, a
(C) c, b, a, d (D) b, c, d, a
(E) Question not attempted

26 Arrange the following events in chronological order with reference to integration of Rajasthan:

- Formation of Matasya Union/Sangh.
- Formation of United States of Rajasthan.
- Formation of Rajasthan Union.
- Formation of Greater Rajasthan.

Choose the most appropriate answer from the options given below:

- (A) d, a, c, b (B) a, d, c, b
(C) d, b, c, a (D) a, c, b, d
(E) Question not attempted

27 Arrange the following peasant movements in chronological order of occurrence:

- Bijoliya peasant movement phase-1
- Meo peasant movement
- Bharatpur peasant movement
- Alwar peasant movement

Choose the most appropriate answer from the options given below:

- (A) b, a, c, d (B) c, d, a, b
(C) a, d, c, b (D) a, b, d, c
(E) Question not attempted

28 Which of the following statements are correct with respect to Nasirabad Revolution?

- European Army and some Cannons were called from outside to control Indian troops.
- A contingent of the 15th Bengal Native Infantry was sent to Nasirabad due to doubt.
- The church and the officers bungalows were set on fire.
- On 28th May, 1857 the troops of Bengal Native infantry took over the artillery.

Choose the most appropriate answer from the options given below:

- (A) a, d and b (B) a, b, c and d
(C) b, c and d (D) a, b and c
(E) Question not attempted

[Contd...

29 "अग्नि नृत्य" के संदर्भ में निम्नलिखित में से कौनसे कथन सत्य हैं?

- राग और फार्म के साथ अग्नि का मिश्रण इस नृत्य की दुर्लभ और अनूठी विशेषता है
- महिला और पुरुष, दोनों इस नृत्य में भाग लेते हैं
- इस नृत्य की उत्पत्ति बीकानेर के कतरियासर गांव में हुई थी।
- अंगारों का ढेर "धूणा" कहलाता है।

नीचे दिए गए विकल्पों में से सबसे उपयुक्त उत्तर चुनें:

- (A) a, c और d (B) a, b, c और d
(C) a, b और c (D) b, c और d
(E) अनुत्तरित प्रश्न

30 तारागढ़ (अजमेर) दुर्ग के संबंध में निम्नलिखित में से कौनसे कथन सत्य हैं?

- इसे गढ़ बीठली और अजयमेरू भी कहा जाता है।
- कर्नल टोड के अनुसार, यह दुर्ग चौहान शासक पृथ्वीराज-III द्वारा निर्मित किया गया था।
- शाहजहां के शासनकाल के दौरान इस दुर्ग का संरक्षक विठ्ठलदास घोड़े था।
- दुर्ग की प्राचीर में 14 बड़े निगरानी टावर लगे हुए हैं।

नीचे दिए गए विकल्पों में से सबसे उपयुक्त उत्तर चुनें:

- (A) b, c और d (B) a, b और d
(C) a, c और d (D) a, b और c
(E) अनुत्तरित प्रश्न

31 राजस्थान की कालीबंगा सभ्यता के संदर्भ में निम्नलिखित में से कौनसे कथन सत्य हैं?

- सर्वप्रथम 1952 में अमलानंद घोष ने इस स्थल के बारे में जानकारी दी थी।
- यहां जुता हुआ खेत भी मिला है।
- यहां छह छेदों के साथ बालक की खोपड़ी भी मिली है।
- यहां पाये गये मृदभाण्ड और खपरा हल्के, पतले हैं तथा सुनिर्मित नहीं हैं।

नीचे दिए गए विकल्पों में से सबसे उपयुक्त उत्तर चुनें:

- (A) a, b और c (B) a, b, c और d
(C) b, c और d (D) c और b
(E) अनुत्तरित प्रश्न

265MN]

8

29 Which of the following statements are correct with reference to "Agni Dance"?

- The Blend of fire with raag and faag is rare and unique feature of this dance.
- Both male and female take part in this dance.
- This dance originated in Katriyasar village of Bikaner.
- The pile of embers is called "Dhuna".

Choose the most appropriate answer from the options given below:

- (A) a, c and d (B) a, b, c and d
(C) a, b and c (D) b, c and d
(E) Question not attempted

30 Which of the following statements regarding Taragarh (Ajmer) fort are correct?

- It is also called Garh Bithali and Ajaymeru.
- According to Col. Tod, this fort was built by the Chauhan ruler Prithviraj-III.
- During the reign of Shah Jahan, Vitthaldas Gaur was the custodian of the fort.
- The ramparts of the fort are studded with 14 big watch towers.

Choose the most appropriate answer from the options given below:

- (A) b, c and d (B) a, b and d
(C) a, c and d (D) a, b and c
(E) Question not attempted

31 Which of the following statements are correct with reference to Kalibangan Civilisation of Rajasthan?

- Amalanand Ghose was first to report this site in 1952.
- A ploughed field has also been found here.
- A skull of a child with six holes has also been found here.
- The earthen pots and potsherds found here are light, thin and not well-made.

Choose the most appropriate answer from the options given below:

- (A) a, b and c (B) a, b, c and d
(C) b, c and d (D) c and b
(E) Question not attempted

[Contd.

265MN]

32 चांद बावड़ी - आभानेरी के संबंध में निम्नलिखित में से कौनसे कथन सत्य हैं?

- यह राजा चन्द्र द्वारा स्थापित की गई थी।
- इसका वास्तविक नाम शोभा नगरी है।
- पर्यटन विभाग द्वारा प्रति वर्ष मार्च-अप्रैल महीने में यहां आभानेरी महोत्सव आयोजित किया जाता है।
- महोत्सव 2 दिनों तक आयोजित किया जाता है तथा राजस्थानी व्यंजन प्रस्तुत किए जाते हैं एवं नृत्य किये जाते हैं।

नीचे दिए गए विकल्पों में से सबसे उपयुक्त उत्तर चुनें:

- (A) a, b और d (B) a और d
(C) a और b (D) a और c
(E) अनुत्तरित प्रश्न

33 सूची I को सूची II से सुमेलित करें:

सूची I (आभूषण)	सूची II (पहनने का स्थान)
a. कंडोरा/कन्दोरा	I. हाथ
b. नोगरी	II. नाक
c. भंवरकड़ी	III. कमर
d. पीपलपत्रा	IV. कान

नीचे दिए गए विकल्पों में से सबसे उपयुक्त उत्तर चुनें:

- (A) a-I, b-IV, c-III, d-II
(B) a-II, b-III, c-I, d-IV
(C) a-II, b-I, c-III, d-IV
(D) a-III, b-I, c-II, d-IV
(E) अनुत्तरित प्रश्न

34 राजस्थान की भौतिक/प्राकृतिक विशेषताओं के संबंध में निम्नलिखित में से कौनसे कथन सत्य हैं?

- अधिकांश पश्चिमी और उत्तर-पश्चिमी राजस्थान टेथिस सागर का अवशेष है।
- राजस्थान की अरावली, गोंडवानालैंड का भाग है।
- सांभर, डीडवाना, पचपद्रा जैसी राजस्थान की लवणीय झीलें टेथिस सागर का अवशेष हैं।
- अरावली प्रमुख जल-विभाजक के रूप में कार्य करती है, जो राज्य को दो भागों में बांटती है।

नीचे दिए गए विकल्पों में से सबसे उपयुक्त उत्तर चुनें:

- (A) a, b और c
(B) a, b, c और d
(C) a और c
(D) b, c और d
(E) अनुत्तरित प्रश्न

32 Which of the following statements are correct with reference to Chand Baori-Abhaneri?

- It was established by Raja Chandra.
- Its real name is Sobha Nagri.
- The Abhaneri festival is organised by the Tourism Department here every year in the months of March-April.
- The festival is organised for 2 days and Rajasthani cuisine is offered and dances are performed.

Choose the most appropriate answer from the options given below:

- (A) a, b and d (B) a and d
(C) a and b (D) a and c
(E) Question not attempted

33 Match List I with List II:

List I (Jewellery)	List II (Worn around/in/on)
a. Kandora	I. Hands
b. Nogri	II. Nose
c. Bhanwarkadi	III. Waist
d. Peepalpatra	IV. Ears

Choose the most appropriate answer from the options given below:

- (A) a-I, b-IV, c-III, d-II
(B) a-II, b-III, c-I, d-IV
(C) a-II, b-I, c-III, d-IV
(D) a-III, b-I, c-II, d-IV
(E) Question not attempted

34 Which of the following statements are correct with reference to physical features of Rajasthan?

- Most of the western and north-western Rajasthan is the residue of Tethys Sea.
- Aravallis of Rajasthan is part of Gondwanaland.
- Salt lakes of Rajasthan like Sambhar, Deedwana, Pachpadra etc. are the remains of Tethys Sea.
- Aravallis act as the major water-divide making two divisions of the state.

Choose the most appropriate answer from the options given below:

- (A) a, b and c
(B) a, b, c and d
(C) a and c
(D) b, c and d
(E) Question not attempted

[Contd...

35 राजस्थान के पश्चिमी मरुस्थली क्षेत्र के संबंध में निम्नलिखित कथनों पर विचार करें। सही कथनों का चयन करें:

- यह अरावली के उत्तर-पश्चिम और पश्चिम में विस्तारित है।
- इसकी औसत ऊँचाई समुद्र तल से 30 से 50 मीटर तक है।
- यह गंगानगर, हनुमानगढ़, झुंझुनू, सीकर, चुरू, बीकानेर, जैसलमेर, बाड़मेर, जालौर, नागौर, जोधपुर और सिरोही जिलों में विस्तृत है।
- यह क्षेत्र बालू से आच्छादित है।

नीचे दिए गए विकल्पों में से सबसे उपयुक्त उत्तर चुनें:

- a, c और d
- a, b और d
- a और d
- b, c और d
- अनुत्तरित प्रश्न

36 राजस्थान की अपवाह प्रणाली के संबंध में निम्नलिखित कथनों पर विचार करें। सही कथनों का चयन करें:

- राजस्थान की अपवाह प्रणाली अरावली श्रृंखला द्वारा निर्धारित होती है।
- भारत की महान जल विभाजक रेखा राजस्थान की नदियों को दो भागों में बांटती है।
- जल विभाजक के पूर्व में, बनास और इसकी सहायक नदियां चंबल में मिलती हैं।
- जल विभाजक के पश्चिम और दक्षिण में नदियां बंगाल की खाड़ी में प्रवाहित होती हैं।

नीचे दिए गए विकल्पों में से सबसे उपयुक्त उत्तर चुनें:

- a, b और d
- a, b और c
- a और d
- b और d
- अनुत्तरित प्रश्न

37 राजस्थान की जलवायु विशेषताओं के संबंध में निम्नलिखित कथनों पर विचार करें। सही कथनों का चयन करें:

- बालू की प्रचुरता के कारण तापमान की दैनिक और वार्षिक रेंज उच्च रहती है।
- शीत ऋतु में कुछ स्थानों पर तमामान जमाव बिंदु (हिमांक) तक गिरता है।
- राजस्थान में शुष्क और उप-आर्द्र मानसून प्रकार की जलवायु विद्यमान है।
- वर्षा की मात्रा पूर्व से पश्चिम तथा दक्षिण से उत्तर की ओर बढ़ती है।

नीचे दिए गए विकल्पों में से सबसे उपयुक्त उत्तर चुनें:

- a, b और d
- c और d
- a, b और c
- b और d
- अनुत्तरित प्रश्न

265MN |

10

35 Consider the following statements regarding western desert region of Rajasthan. Choose the correct statements:

- It extends towards north-west and west of Aravallis.
- Its average elevation ranges from 30 to 50 meters above sea level.
- It extends over the districts of Ganganagar, Hanumangarh, Jhunjhunu, Sikar, Churu, Bikaner, Jaisalmer, Barmer, Jalore, Nagaur, Jodhpur and Sirohi.
- This area is covered with sand.

Choose the most appropriate answer from the options given below:

- a, c and d
- a, b and d
- a and d
- b, c and d
- Question not attempted

36 Consider the following statements with reference to the drainage system of Rajasthan. Choose the correct statements:

- The drainage system of Rajasthan is determined by Aravalli Ranges.
- The great water divide line of Bharat bifurcates the rivers of Rajasthan into two parts.
- To the east of water divide, Banas and its tributaries join Chambal.
- The rivers to the west and the south of the water divide drain into Bay of Bengal.

Choose the most appropriate answer from the options given below:

- a, b and d
- a, b and c
- a and d
- b and d
- Question not attempted

37 Consider the following statements with reference to climate characteristics of Rajasthan. Choose the correct statements:

- The daily and annual range of temperature remain high due to abundance of sand.
- At some places temperature falls to freezing point in winter season.
- Rajasthan enjoys dry and sub-humid monsoon type of climate.
- The quantity of rainfall increases from east to west and south to north.

Choose the most appropriate answer from the options given below:

- a, b and d
- c and d
- a, b and c
- b and d
- Question not attempted

[Contd...

38 राज

कथ

a.

b.

c.

d.

नीचे दि

(A)

(C)

(E)

39

राजस्थान

विचार क

a.

b.

c.

d.

इन

खि

नीचे दिए ग

(A) b, c

(B) b और

(C) a, c

(D) a, b

(E) अनुत्

40 राजस्थान के उ

विचार करें। स

a. उत्तरी उ

सीकर उ

b. मध्य अ

है।

c. भोराट क

गोगुन्दा के

d. इस पहाड़ी

नीचे दिए गए विक

(A) b और d

(B) a, b और c

(C) a, b और c

(D) a, c और d

(E) अनुत्तरित प्रश्न

265MN |

38 राजस्थान की लाल-पीली मृदा के संदर्भ में निम्नलिखित कथनों पर विचार करें। सही कथनों का चयन करें:

- यह मिट्टी सवाई माधोपुर, सिरोंही, राजसमंद, उदयपुर और भीलवाड़ा जिलों के पश्चिमी भागों में पाई जाती है।
- यह मिट्टी मंगफली और कपास की खेती के लिए उचित नहीं है।
- इसमें कैल्शियम और नाइट्रोजन की कमी होती है।
- इस मिट्टी का लाल और पीला रंग इसकी लौह धारिता के कारण होता है।

नीचे दिए गए विकल्पों में से सबसे उपयुक्त उत्तर चुनें:

- (A) a, c और d (B) b, a और d
(C) a, b और c (D) b, c और d
(E) अनुत्तरित प्रश्न

39 राजस्थान में धोकड़ा वनों के बारे में निम्नलिखित कथनों पर विचार करें। सही कथनों का चयन करें:

- ये वन राज्य की मुख्य वन संपदा में शामिल हैं।
- ये वन कोटा, बूंदी, सवाई माधोपुर, जयपुर, अलवर, अजमेर, उदयपुर आदि जिलों में अधिक पाए जाते हैं।
- ये वन राजस्थान में 50 से 90 मीटर की ऊँचाई तक अधिक पाए जाते हैं।
- इन वनों में धोक पेड़ों के अतिरिक्त अरंज, खैर, खिरनी, सालार, गोडल के पेड़ भी पाए जाते हैं।

नीचे दिए गए विकल्पों में से सबसे उपयुक्त उत्तर चुनें:

- (A) b, c और d
(B) b और c (B) (B)
(C) a, c और d
(D) a, b और d
(E) अनुत्तरित प्रश्न

40 राजस्थान के अरावली क्षेत्र के बारे में निम्नलिखित कथनों पर विचार करें। सही कथनों का चयन करें:

- उत्तरी अरावली का विस्तार जयपुर, दौसा, अलवर, सीकर और झुंझुनू जिलों में है।
- मध्य अरावली अजमेर और जयपुर के बीच विस्तृत है।
- भोरत का पठार उदयपुर के उत्तर में कुंभलगढ़ और गोगुन्दा के बीच स्थित है।
- इस पहाड़ी क्षेत्र की औसत ऊँचाई 500 मीटर है।

नीचे दिए गए विकल्पों में से सबसे उपयुक्त उत्तर चुनें:

- (A) b और d
(B) a, b और c
(C) a, b और d
(D) a, c और d
(E) अनुत्तरित प्रश्न

265MN]

38 Consider the following statements with reference to Red-Yellow soil of Rajasthan. Choose the correct statements:

- This soil is found in the western parts of Sawai Madhopur, Sirohi, Rajsamand, Udaipur and Bhilwara districts.
- This soil is not suitable for groundnut and cotton cultivation.
- It lacks calcium and nitrogen.
- Red and Yellow colour of this soil is due to its iron content.

Choose the most appropriate answer from the options given below:

- (A) a, c and d (B) b, a and d
(C) a, b and c (D) b, c and d
(E) Question not attempted

39 Consider the following statements with reference to Dhokra forests in Rajasthan. Choose the correct statements:

- These forests are included in the Chief Forest Wealth of the state.
- These forests are more prevalent in the districts of Kota, Bundi, Sawai-Madhopur, Jaipur, Alwar, Ajmer, Udaipur etc.
- These forests are more prominent at the height ranging from 50 to 90 meters in Rajasthan.
- The trees of Arunj, Kher, Khirni, Salar, Godal are also found in addition to Dhok trees in these forests.

Choose the most appropriate answer from the options given below:

- (A) b, c and d (B) b and c
(C) a, c and d (D) a, b and d
(E) Question not attempted

40 Consider the following statements about Aravalli region of Rajasthan. Choose the correct statements:

- Northern Aravalli extends in the districts of Jaipur, Dausa, Alwar, Sikar and Jhunjhunu.
- Central Aravalli extends between Ajmer and Jaipur.
- Bhorat plateau is situated between Kumbhalgarh and Gogunda to the north of Udaipur.
- The average height of this hilly region is 500 meters.

Choose the most appropriate answer from the options given below:

- (A) b and d (B) a, b and c
(C) a, b and d (D) a, c and d
(E) Question not attempted

- 41 सूची I को सूची II से सुमेलित करें :
- | सूची I
(गाय की नस्ल) | सूची II
(मुख्य क्षेत्र) |
|-------------------------|--|
| a. राठी | I. अजमेर, पाली, भीलवाड़ा और चित्तौड़गढ़ |
| b. गिर | II. बाड़मेर, सांचौर, नेहड़ और जोधपुर के भाग |
| c. कांकरेज | III. जालौर, सिरोही और उदयपुर |
| d. सांचोरी | IV. बीकानेर, श्रीगंगानगर, जैसलमेर और चुरू के भाग |

नीचे दिए गए विकल्पों में से सबसे उपयुक्त उत्तर चुनें:

- (A) a-IV, b-I, c-III, d-II
(B) a-I, b-II, c-III, d-IV
(C) a-IV, b-I, c-II, d-III
(D) a-II, b-I, c-III, d-IV
(E) अनुत्तरित प्रश्न

- 42 सूची I (भारतीय पारंपरिक ऋतुएँ) को सूची II (उन ऋतुओं के दौरान पड़ने वाले त्योहार) से सुमेलित करें :

- | सूची I | सूची II |
|------------|--------------------------|
| a. वसंत | I. कार्तिक पूर्णिमा |
| b. ग्रीष्म | II. मकर संक्रांति, पोंगल |
| c. हेमंत | III. बैशाखी, उगादी |
| d. शिशिर | IV. गुरु पूर्णिमा |

नीचे दिए गए विकल्पों में से सबसे उपयुक्त उत्तर चुनें:

- (A) a-III, b-IV, c-I, d-II
(B) a-IV, b-III, c-I, d-II
(C) a-I, b-II, c-III, d-IV
(D) a-II, b-IV, c-I, d-III
(E) अनुत्तरित प्रश्न

- 43 सूची I को सूची II से सुमेलित करें :

- | सूची I (नदी) | सूची II (सहायक नदियाँ) |
|------------------|------------------------|
| a. बनास नदी | I. परवण |
| b. काली सिंध नदी | II. सूकड़ी |
| c. लूणी नदी | III. जाखम |
| d. माही नदी | IV. कोठारी, मेनाल |

नीचे दिए गए विकल्पों में से सबसे उपयुक्त उत्तर चुनें:

- (A) a-IV, b-I, c-II, d-III
(B) a-IV, b-III, c-I, d-II
(C) a-IV, b-II, c-I, d-III
(D) a-III, b-I, c-II, d-IV
(E) अनुत्तरित प्रश्न

265MN |

- 41 Match List I with List II :

- | List I
(Cow Breeds) | List II
(Main Areas) |
|------------------------|--|
| a. Rathi | I. Ajmer, Pali, Bhilwara and Chittorgarh |
| b. Gir | II. Barmer, Sanchore, Nehar and parts of Jodhpur |
| c. Kankrej | III. Jalore, Sirohi and Udaipur |
| d. Sanchori | IV. Bikaner, Sriganganagar, Jaisalmer and parts of Churu |

Choose the most appropriate answer from the options given below:

- (A) a-IV, b-I, c-III, d-II
(B) a-I, b-II, c-III, d-IV
(C) a-IV, b-I, c-II, d-III
(D) a-II, b-I, c-III, d-IV
(E) Question not attempted

- 42 Match List I (Indian Traditional Seasons) with List II (Festivals falls during the seasons):

- | List I | List II |
|-------------|------------------------------|
| a. Vasant | I. Kartik Purnima |
| b. Grishma | II. Makar Shankranti, Pongal |
| c. Hemaanta | III. Baishakhi, Ugadi |
| d. Shishira | IV. Guru Purnima |

Choose the most appropriate answer from the options given below:

- (A) a-III, b-IV, c-I, d-II
(B) a-IV, b-III, c-I, d-II
(C) a-I, b-II, c-III, d-IV
(D) a-II, b-IV, c-I, d-III
(E) Question not attempted

- 43 Match List I with List II :

- | List I (Rivers) | List II (Tributaries) |
|---------------------|-----------------------|
| a. Banas River | I. Parvan |
| b. Kali Sindh River | II. Sukari |
| c. Luni River | III. Jakhm |
| d. Mahi River | IV. Kothari, Menal |

Choose the most appropriate answer from the options given below:

- (A) a-IV, b-I, c-II, d-III
(B) a-IV, b-III, c-I, d-II
(C) a-IV, b-II, c-I, d-III
(D) a-III, b-I, c-II, d-IV
(E) Question not attempted

[Contd...

- 44 सूची I को सूची II से सुमेलित करें :

- | सूची I (मृदा) | सूची II (मुख्य क्षेत्र) |
|---------------|------------------------------------|
| a. काली | I. राजस्थान, गुजरात, मध्य प्रदेश |
| b. लैटेराइट | II. असम, तमिलनाडु, कर्नाटक |
| c. मरुस्थलीय | III. राजस्थान, गुजरात, मध्य प्रदेश |
| d. जलोढ | IV. राजस्थान, गुजरात, मध्य प्रदेश |

नीचे दिए गए विकल्पों में से सबसे उपयुक्त उत्तर चुनें:

- (A) a-III, b-II, c-I, d-IV
(B) a-II, b-I, c-III, d-IV
(C) a-II, b-I, c-III, d-IV
(D) a-I, b-II, c-III, d-IV
(E) अनुत्तरित प्रश्न

- 45 सूची I को सूची II से सुमेलित करें :

- | सूची I (खनिज) | सूची II (मुख्य क्षेत्र) |
|---------------|------------------------------------|
| a. ताँबा | I. राजस्थान, गुजरात, मध्य प्रदेश |
| b. सीसा-जस्ता | II. असम, तमिलनाडु, कर्नाटक |
| c. टंगस्टन | III. राजस्थान, गुजरात, मध्य प्रदेश |
| d. संगमरमर | IV. राजस्थान, गुजरात, मध्य प्रदेश |

नीचे दिए गए विकल्पों में से सबसे उपयुक्त उत्तर चुनें:

- (A) a-I, b-IV, c-II, d-III
(B) a-IV, b-I, c-III, d-II
(C) a-IV, b-I, c-II, d-III
(D) a-III, b-II, c-I, d-IV
(E) अनुत्तरित प्रश्न

- 46 सूची I को सूची II से सुमेलित करें :

- | सूची I (जनजातियाँ) | सूची II (मुख्य क्षेत्र) |
|----------------------|------------------------------------|
| a. एस्किमो, सैमोये | I. राजस्थान, गुजरात, मध्य प्रदेश |
| b. पिग्मी, सीमांग, स | II. असम, तमिलनाडु, कर्नाटक |
| c. बुशमैन | III. राजस्थान, गुजरात, मध्य प्रदेश |
| d. भील, गोंड, मीणा, | IV. राजस्थान, गुजरात, मध्य प्रदेश |

नीचे दिए गए विकल्पों में से सबसे उपयुक्त उत्तर चुनें:

- (A) a-I, b-IV, c-II, d-III
(B) a-II, b-IV, c-I, d-III
(C) a-IV, b-I, c-II, d-III
(D) a-II, b-I, c-IV, d-III
(E) अनुत्तरित प्रश्न

265MN |

44 सूची I को सूची II से सुमेलित करें :

सूची I (मृदाएं)

सूची II (विशेषताएं)

- | | |
|--------------------|---|
| a. काली मिट्टी | I. नाइट्रोजन, फास्फोरस, ह्यूमस आदि की कमी |
| b. लैटेराइट मिट्टी | II. उच्चतर मृत्तिका सामग्री के साथ लोमी मृदा |
| c. मरुस्थली मिट्टी | III. कैल्शियम, फास्फोरस, पोटैश और लौह सामग्री की प्रचुरता |
| d. जलोढ मिट्टी | IV. निम्न उर्वरता और उच्च लवणता |

नीचे दिए गए विकल्पों में से सबसे उपयुक्त उत्तर चुनें:

- (A) a-III, b-I, c-II, d-IV
 (B) a-II, b-I, c-IV, d-III
 (C) a-II, b-IV, c-I, d-III
 (D) a-I, b-IV, c-II, d-III
 (E) अनुत्तरित प्रश्न

45 सूची I को सूची II से सुमेलित करें :

सूची I (खनिज)

सूची II (स्थान)

- | | |
|---------------|------------------------|
| a. ताँबा | I. जावर, राजपुरा-दरीबा |
| b. सीसा-जस्ता | II. रेवत और भाकरी |
| c. टंगस्टन | III. मकराना |
| d. संगमरमर | IV. खेतड़ी-सिंघाना |

नीचे दिए गए विकल्पों में से सबसे उपयुक्त उत्तर चुनें:

- (A) a-I, b-IV, c-II, d-III
 (B) a-IV, b-I, c-II, d-III
 (C) a-IV, b-II, c-I, d-III
 (D) a-III, b-II, c-IV, d-I
 (E) अनुत्तरित प्रश्न

46 सूची I को सूची II से सुमेलित करें :

सूची I (जनजातियां)

सूची II (क्षेत्र)

- | | |
|--------------------------|-------------------------------------|
| a. एस्किमो, सेमोयेड | I. भूमध्यरेखीय सघन वन |
| b. पिग्मी, सीमांग, साकाई | II. ध्रुवीय और उंडे क्षेत्र |
| c. बुशमैन | III. दुर्गम पहाड़ी और पठारी क्षेत्र |
| d. भील, गोंड, मीणा, नागा | IV. शुष्क और गर्म मरुस्थल |

नीचे दिए गए विकल्पों में से सबसे उपयुक्त उत्तर चुनें:

- (A) a-I, b-IV, c-II, d-III
 (B) a-II, b-IV, c-I, d-III
 (C) a-IV, b-I, c-II, d-III
 (D) a-II, b-I, c-IV, d-III
 (E) अनुत्तरित प्रश्न

44 Match List I with List II :

List I (Soils)

List II (Characteristics)

- | | |
|------------------|--|
| a. Black soil | I. Lacks nitrogen, phosphorous, humus contents etc. |
| b. Laterite soil | II. Loamy soil with higher clay content. |
| c. Desert soil | III. Rich in calcium, phosphorous, potash and iron contents. |
| d. Alluvial soil | IV. Low fertility and high salinity |

Choose the most appropriate answer from the options given below:

- (A) a-III, b-I, c-II, d-IV
 (B) a-II, b-I, c-IV, d-III
 (C) a-II, b-IV, c-I, d-III
 (D) a-I, b-IV, c-II, d-III
 (E) Question not attempted

45 Match List I with List II :

List I (Minerals)

List II (Places)

- | | |
|--------------|--------------------------|
| a. Copper | I. Jawar, Rajpura-Dariba |
| b. Lead-Zinc | II. Rewat and Bhakri |
| c. Tungsten | III. Makrana |
| d. Marble | IV. Khetri-Singhana |

Choose the most appropriate answer from the options given below:

- (A) a-I, b-IV, c-II, d-III
 (B) a-IV, b-I, c-II, d-III
 (C) a-IV, b-II, c-I, d-III
 (D) a-III, b-II, c-IV, d-I
 (E) Question not attempted

46 Match List I with List II :

List I (Tribes)

List II (Regions)

- | | |
|-----------------------------|--|
| a. Eskimos, Samoyeds | I. Equatorial dense forest |
| b. Pigmy, Semang, Sakai | II. Polar and cold regions |
| c. Bushmen | III. Inaccessible mountainous and plateau region |
| d. Bhil, Gonds, Meena, Naga | IV. Dry and hot desert |

Choose the most appropriate answer from the options given below:

- (A) a-I, b-IV, c-II, d-III
 (B) a-II, b-IV, c-I, d-III
 (C) a-IV, b-I, c-II, d-III
 (D) a-II, b-I, c-IV, d-III
 (E) Question not attempted

47 विंबलडन टेनिस टूर्नामेंट निम्नलिखित में से किस शहर में आयोजित होता है?

- (A) न्यूयॉर्क
(B) लंदन
(C) सिडनी ✗
(D) पेरिस
(E) अनुत्तरित प्रश्न

48 निम्नलिखित घटनाओं को कालक्रमानुसार व्यवस्थित करें:

- a. अरब स्प्रिंग
b. फ्रांसीसी क्रांति
c. रूस की क्रांति
d. द्वितीय विश्व युद्ध

नीचे दिए गए विकल्पों में से सबसे उपयुक्त उत्तर चुनें:

- (A) c, a, b, d
(B) d, b, c, a
(C) b, c, d, a
(D) b, a, d, c
(E) अनुत्तरित प्रश्न

49 सुमात्रा के बारे में निम्नलिखित कथनों पर विचार करें:

- a. इसका वर्तमान नाम इंडोनेशिया है।
b. पुराने समय में इस द्वीप को स्वर्णिम द्वीप के रूप में जाना जाता था।
c. दक्षिण भारत के राजेन्द्र चोल-1 ने भी यहां प्रभुत्व कायम रखा था।
d. यहां विजय राजवंश का शासन 4 से 7वीं शताब्दी के बीच कायम रहा था।

नीचे दिए गए विकल्पों में से सबसे उपयुक्त उत्तर चुनें:

- (A) a, b, c और d
(B) b और d
(C) b और c
(D) b, c और d
(E) अनुत्तरित प्रश्न

265MN | 

14

47 Wimbledon Tennis Tournament is held in which of the following city?

- (A) New York
(B) London
(C) Sydney
(D) Paris
(E) Question not attempted

48 Arrange the following events in the chronological order:

- a. Arab Spring
b. French Revolution
c. The Revolution of Russia
d. The Second World War

Choose the most appropriate answer from the options given below:

- (A) c, a, b, d
(B) d, b, c, a
(C) b, c, d, a
(D) b, a, d, c
(E) Question not attempted

49 Consider the following statements regarding Sumatra:

- a. Its current name is Indonesia.
b. In olden times, this island was known as Golden Island.
c. Rajendra Chola-1 of South India also held the Supremacy here.
d. The rule of Vijaya dynasty lasted here between 4th to 7th century.

Choose the most appropriate answer from the options given below:

- (A) a, b, c and d
(B) b and d
(C) b and c
(D) b, c and d
(E) Question not attempted

[Contd...

265MN |

50 लेखांकन में दोहरी प्रविष्टि प्रणाली की उत्पत्ति और विकास के संबंध में निम्नलिखित कथनों पर विचार करें। सही कथनों का चयन करें:

- यह इटली में विकसित हुई थी।
- 1494 में लुकास पैसोलो ने अपनी पुस्तक में इस विधि के सिद्धांत का वर्णन किया था।
- 1795 में एडवर्ड जोन्स ने इस विधि संबंधी एक पुस्तक लिखी थी।
- यह भारत में ब्रिटिश अवधि के दौरान प्रयुक्त की गई थी।

नीचे दिए गए विकल्पों में से सबसे उपयुक्त उत्तर चुनें:

- ~~c और d~~
- a, b, c और d
- a और b
- a, b और d
- अनुत्तरित प्रश्न

51 विस्तारशील ब्रह्माण्ड परिकल्पना के अनुसार, किसने इस बारे में साक्ष्य प्रदान किया था कि ब्रह्माण्ड विस्तारशील है?

- ओटो श्मिड्ट
- कार्ल वैइजास्कर
- लाप्लास
- एडविन हबबल
- अनुत्तरित प्रश्न

52 दक्कन पठार की उत्पत्ति के संबंध में निम्नलिखित कथनों पर विचार करें। सही कथनों का चयन करें:

- लाखों वर्ष पूर्व यह टेथिस सागर के दक्षिण में स्थित गोंडवानालैंड का भाग था।
- भूवैज्ञानिक इतिहास के कालक्रम में, गोंडवानालैंड का विखंडन और विभाजन हुआ।
- प्रायद्वीपीय भारत, विखंडित गोंडवानालैंड से उत्तर-पूर्व दिशा में विस्थापित होकर अपनी वर्तमान स्थिति में आया था।

नीचे दिए गए विकल्पों में से सबसे उपयुक्त उत्तर चुनें:

- a और c
- ~~a, b और c~~
- a और b
- b और c
- अनुत्तरित प्रश्न

265MN]

50 Consider the following statements regarding the origin and development of double entry system in accounting. Choose the correct statements:

- It was developed in Italy.
- In 1494 Luca Pacioli described the principle of this method in his book.
- In 1795 Edward Jones wrote a book on this method.
- It was used during British period in India.

Choose the most appropriate answer from the options given below:

- c and d
- a, b, c and d
- a and b
- a, b and d
- Question not attempted

51 According to expanding universe hypothesis, who provided evidence that the universe is expanding?

- Otto Schmidt
- Carl Weizascar
- Laplace
- Edwin Hubble
- Question not attempted

52 Consider the following statements with in reference to the origin of Deccan plateau. Choose the correct statements:

- Millions of years ago, it was a part of Gondwana land lying south to Tethys Sea.
- In course of geological history, Gondwana land was fractured and fragmented.
- Peninsular Bharat came in its present situation by drifting north-eastwards from the fragmented Gondwana land.

Choose the most appropriate answer from the options given below:

- a and c
- a, b and c
- a and b
- b and c
- Question not attempted

[Contd...

53 थार मरुस्थल के महत्व के संबंध में निम्नलिखित कथनों पर विचार करें। सही कथनों का चयन करें:

- मरुस्थल के शुष्क भागों में पशुपालन और पशुचारण मुख्य पेशा है। ✓
- पाकिस्तान के साथ अंतर्राष्ट्रीय सीमा पर स्थित होने के कारण इस क्षेत्र का रणनीतिक महत्व है। ✓
- इस क्षेत्र में, विभिन्न खनिज जैसे कोयला, ताँबा, रॉक फॉस्फेट, खनिज तेल, प्राकृतिक गैस आदि पाये जाते हैं। ✓
- यह अपनी भू-आकृतिक विशिष्टताओं के कारण पर्यटकों को आकर्षित करता है। ✓

नीचे दिए गए विकल्पों में से सबसे उपयुक्त उत्तर चुनें:

- a, b, c और d
- c और d
- a, b और c
- b, c और d
- अनुत्तरित प्रश्न

54 "हड़प्पा सभ्यता" के संदर्भ में निम्नलिखित कथनों पर विचार करें। सही कथनों का चयन करें:

- इस सिंधु घाटी सभ्यता के रूप में भी जाना जाता है। ✓
- शब्द हड़प्पा की व्युत्पत्ति उस स्थान से हुई है, जहाँ सभ्यता को पहचाना गया था। ✓
- सभ्यता का कुल काल विस्तार 6000 BCE से 1300 BCE तक है। ✓
- सभ्यता का पतन लगभग 1900 BCE के आसपास आरंभ हुआ था। ✓

नीचे दिए गए विकल्पों में से सबसे उपयुक्त उत्तर चुनें:

- c और d
- a, b, c और d
- a, b और c
- b और d
- अनुत्तरित प्रश्न

265MN]

16

53 Consider the following statements regarding the importance of Thar desert. Choose the correct statements:

- Cattle rearing and herding is the main occupation in the drier parts of the desert.
- The region has strategic importance due to its location on the international border with Pakistan.
- Various minerals like coal, copper, rock phosphate, mineral oil, natural gas etc. are found in this region.
- It attracts tourists due to its physiographic peculiarities.

Choose the most appropriate answer from the options given below:

- a, b, c and d
- c and d
- a, b and c
- b, c and d
- Question not attempted

54 Consider the following statements with reference to the Harappan civilization. Choose the correct statements:

- It is also known as the Indus Valley Civilisation.
- The term Harappa is derived from the place where the civilisation was identified.
- The total time span of the civilisation ranges from 6000 BCE to 1300 BCE.
- The decline of the civilisation started around 1900 BCE.

Choose the most appropriate answer from the options given below:

- c and d
- a, b, c and d
- a, b and c
- b and d
- Question not attempted

[Contd...

265MN]

55 मौर्य साम्राज्य के संबंध में निम्नलिखित कथनों पर विचार करें। सही कथनों का चयन करें:

- मौर्यों का उल्लेख उत्तर बौद्ध, जैन और पुराण साहित्य में हुआ है।
 - अशोक प्रथम शासक था जिसने अपनी प्रजा और अधिकारियों के लिए प्रस्तर सतहों पर अपने संदेश उत्कीर्णित करवाए थे।
 - अशोक ने अभिलेखों का उपयोग धम्म की अपनी अवधारणा की उद्घोषणा करने में किया था।
 - चन्द्रगुप्त मौर्य ने इस साम्राज्य की स्थापना की थी।
- नीचे दिए गए विकल्पों में से सबसे उपयुक्त उत्तर चुनें:

- (A) c और d
(B) b और d
 (C) a, b, c और d
 (D) b, c और d
(E) अनुत्तरित प्रश्न

56 सूची I को सूची II से सुमेलित करें :

सूची I (विद्रोह का स्थान) सूची II (नेता)

- | | |
|-----------|----------------------|
| a. झांसी | I. नाना साहिब |
| b. अवध | II. बहादुर शाह |
| c. कानपुर | III. ब्रिजिस कादर |
| d. दिल्ली | IV. रानी लक्ष्मी बाई |

नीचे दिए गए विकल्पों में से सबसे उपयुक्त उत्तर चुनें:

- (A) a-II, b-I, c-III, d-IV
(B) a-IV, b-III, c-I, d-II
 (C) a-IV, b-II, c-III, d-I
 (D) a-I, b-IV, c-III, d-II
(E) अनुत्तरित प्रश्न

55 Consider the following statements regarding Mauryan Empire. Choose the correct statements:

- The Mauryas are mentioned in later Buddhist, Jaina and Puranic literature.
- Ashoka was the first ruler who inscribed his messages to his subjects and officials on stone surfaces.
- Ashoka used the inscriptions to proclaim what he understood to be Dhamma.
- Chandragupta Maurya founded this empire.

Choose the most appropriate answer from the options given below:

- (A) c and d
(B) b and d
(C) a, b, c and d
(D) b, c and d
(E) Question not attempted

56 Match List I with List II :

List I (Places of Revolt) List II (Leaders)

- | | |
|------------|--------------------|
| a. Jhanshi | I. Nana Sahib |
| b. Awadh | II. Bahadur Shah |
| c. Kanpur | III. Birjis Qadr |
| d. Delhi | IV. Rani Laxmi Bai |

Choose the most appropriate answer from the options given below:

- (A) a-II, b-I, c-III, d-IV
(B) a-IV, b-III, c-I, d-II
(C) a-IV, b-II, c-III, d-I
(D) a-I, b-IV, c-III, d-II
(E) Question not attempted

57 सूची I को सूची II से सुमेलित करें :

सूची I (कोप्पेन सूची II (विशेषताएं)

द्वारा जलवायु का वर्गीकरण)

- | | | |
|-----------------|------|--|
| a. उष्णकटिबंधीय | I. | संभावित वाष्पीकरण वर्षा से अधिक होता है। |
| b. शुष्क जलवायु | II. | सबसे ठंडे महीने का औसत तापमान -3°C से अधिक लेकिन 18°C से कम होता है। |
| c. गर्म जलवायु | III. | सभी महीनों का औसत तापमान 10°C से कम होता है। |
| d. ठंडी जलवायु | IV. | सबसे ठंडे महीने का औसत तापमान 18°C या उससे अधिक होता है। |

नीचे दिए गए विकल्पों में से सबसे उपयुक्त उत्तर चुनें:

- (A) a-IV, b-I, c-II, d-III
(B) a-IV, b-II, c-III, d-I
(C) a-IV, b-I, c-III, d-II
(D) a-I, b-II, c-III, d-IV
(E) अनुत्तरित प्रश्न

58 सूची I को सूची II से सुमेलित करें -

सूची I (नाम) सूची II (प्रकार)

- | | | |
|----------------------------|------|---------------|
| a. व्हीलर द्वीप | I. | प्रवाल द्वीप |
| b. बूचर द्वीप | II. | पर्वतीय द्वीप |
| c. अंडमान और निकोबार द्वीप | III. | चट्टानी द्वीप |
| d. लक्षद्वीप समूह | IV. | जलोढ़ द्वीप |

नीचे दिए गए विकल्पों में से सबसे उपयुक्त उत्तर चुनें:

- (A) a-II, b-I, c-III, d-IV
(B) a-I, b-IV, c-II, d-III
(C) a-IV, b-III, c-II, d-I
(D) a-IV, b-II, c-I, d-III
(E) अनुत्तरित प्रश्न

265MN]

18

57 Match List I with List II :

List I (Classification of Climate by Koppen) List II (Characteristics)

- | | | |
|-----------------|------|---|
| a. Tropical | I. | Potential evaporation exceeds precipitation |
| b. Dry Climate | II. | Average temperature of the coldest month is higher than -3°C but below 18°C |
| c. Warm Climate | III. | Average temperature for all months is below 10°C |
| d. Cold Climate | IV. | Average temperature of the coldest month is 18°C or higher |

Choose the most appropriate answer from the options given below:

- (A) a-IV, b-I, c-II, d-III
(B) a-IV, b-II, c-III, d-I
(C) a-IV, b-I, c-III, d-II
(D) a-I, b-II, c-III, d-IV
(E) Question not attempted

58 Match List I with List II :

List I (Names) List II (Types)

- | | | |
|--------------------------------|------|------------------|
| a. Wheeler Island | I. | Coral Islands |
| b. Boocher Island | II. | Hilly Islands |
| c. Andaman and Nicobar Islands | III. | Rocky Islands |
| d. Lakshadweep Islands | IV. | Alluvial Islands |

Choose the most appropriate answer from the options given below:

- (A) a-II, b-I, c-III, d-IV
(B) a-I, b-IV, c-II, d-III
(C) a-IV, b-III, c-II, d-I
(D) a-IV, b-II, c-I, d-III
(E) Question not attempted

[Contd...

265MN]

59 सूची I को सूची II से सुमेलित करें :

सूची I (त्व

- a. तीज
b. होली
c. अक्षय
d. गणगौर
नीचे दिए गए विकल्पों में से स
(A) a-II,
(B) a-IV,
(C) a-III,
(D) a-IV,
(E) अनुत्तरित प्रश्न

60 सूची I को सूची II से सुमेलित करें :

सूची I (दुर्ग)

- a. जैसलमेर दुर्ग
b. सिवाणा दुर्ग
c. गागरोण दुर्ग
d. जालौर दुर्ग

नीचे दिए गए विकल्पों में से स

- (A) a-III, b-II,
(B) a-IV, b-I,
(C) a-II, b-I, c-III,
(D) a-II, b-III,
(E) अनुत्तरित प्रश्न

61 सूची I को सूची II से सुमेलित करें :

सूची I (जन आंदोलन)

- a. हाड़ौती प्रजामंडल
b. मेवाड़ प्रजामंडल
c. जयपुर प्रजामंडल
d. धौलपुर प्रजामंडल

नीचे दिए गए विकल्पों में से स

- (A) a-III, b-II, c-I, d-IV
(B) a-I, b-II, c-III, d-IV
(C) a-IV, b-III, c-II, d-I
(D) a-III, b-I, c-II, d-IV
(E) अनुत्तरित प्रश्न

atics)
al evaporation
s precipitation
ge temperature
coldest month
er than - 3°C
low 18°C
ge temperature
months is
10°C
ge temperature
coldest month
°C or higher
te answer from

- 59 सूची I को सूची II से सुमेलित करें :
- | | |
|-------------------------|----------------------|
| सूची I (त्योहार) | सूची II (माह) |
| a. तीज | I. फाल्गुन |
| b. होली | II. वैशाख |
| c. अक्षय तृतीया | III. चैत्र |
| d. गणगौर | IV. श्रावण |
- नीचे दिए गए विकल्पों में से सबसे उपयुक्त उत्तर चुनें:
- (A) a-II, b-I, c-IV, d-III ✓
 (B) a-IV, b-I, c-II, d-III ✓
 (C) a-III, b-I, c-II, d-IV ✓
 (D) a-IV, b-II, c-I, d-III ✓
 (E) अनुत्तरित प्रश्न

- 60 सूची I को सूची II से सुमेलित करें :
- | | |
|-----------------------|-------------------------|
| सूची I (दुर्ग) | सूची II (प्रकार) |
| a. जैसलमेर दुर्ग | I. वन दुर्ग |
| b. सिवाणा दुर्ग | II. धान्वन दुर्ग |
| c. गागरोण दुर्ग | III. ऐरण दुर्ग |
| d. जालौर दुर्ग | IV. औदुक दुर्ग |
- नीचे दिए गए विकल्पों में से सबसे उपयुक्त उत्तर चुनें:
- (A) a-III, b-II, c-I, d-IV ✓
 (B) a-IV, b-I, c-II, d-III ✓
 (C) a-II, b-I, c-IV, d-III ✓
 (D) a-II, b-III, c-IV, d-I ✓
 (E) अनुत्तरित प्रश्न

- 61 सूची I को सूची II से सुमेलित करें :
- | | |
|---------------------------|-----------------------------|
| सूची I (जन आंदोलन) | सूची II (व्यक्तित्व) |
| a. हाड़ौती प्रजामंडल | I. माणिक्य लाल वर्मा |
| b. मेवाड़ प्रजामंडल | II. कर्पूरचंद पाटनी |
| c. जयपुर प्रजामंडल | III. पंडित नयनूराम शर्मा |
| d. धौलपुर प्रजामंडल | IV. कृष्ण दत्त पालीवाल |
- नीचे दिए गए विकल्पों में से सबसे उपयुक्त उत्तर चुनें:
- (A) a-III, b-II, c-I, d-IV ✓
 (B) a-I, b-II, c-III, d-IV ✓
 (C) a-IV, b-III, c-II, d-I ✓
 (D) a-III, b-I, c-II, d-IV ✓
 (E) अनुत्तरित प्रश्न

- 59 Match List I with List II :
- | | |
|---------------------------|-------------------------|
| List I (Festivals) | List II (Months) |
| a. Teej | I. Phalgun |
| b. Holi | II. Vaishakh |
| c. Akshaya Tritiya | III. Chaitra |
| d. Gangaur | IV. Shraavan |
- Choose the most appropriate answer from the options given below:
- (A) a-II, b-I, c-IV, d-III ✓
 (B) a-IV, b-I, c-II, d-III ✓
 (C) a-III, b-I, c-II, d-IV ✓
 (D) a-IV, b-II, c-I, d-III ✓
 (E) Question not attempted
- 60 Match List I with List II :
- | | |
|-----------------------|------------------------|
| List I (Forts) | List II (Types) |
| a. Jaisalmer Fort | I. Van Durg |
| b. Siwana Fort | II. Dhanvan Durg |
| c. Gagron Fort | III. Airan Durg |
| d. Jalore Fort | IV. Auduk Durg |
- Choose the most appropriate answer from the options given below:
- (A) a-III, b-II, c-I, d-IV ✓
 (B) a-IV, b-I, c-II, d-III ✓
 (C) a-II, b-I, c-IV, d-III ✓
 (D) a-II, b-III, c-IV, d-I ✓
 (E) Question not attempted

- 61 Match List I with List II :
- | | |
|--------------------------------|--------------------------------|
| List I (Mass Movements) | List II (Personalities) |
| a. Hadauti Prajamandal | I. Manikya Lal Verma |
| b. Mewar Prajamandal | II. Karpurchand Patani |
| c. Jaipur Prajamandal | III. Pandit Nayanuram Sharma |
| d. Dholpur Prajamandal | IV. Krishna Dutt Paliwal |
- Choose the most appropriate answer from the options given below:
- (A) a-III, b-II, c-I, d-IV ✓
 (B) a-I, b-II, c-III, d-IV ✓
 (C) a-IV, b-III, c-II, d-I ✓
 (D) a-III, b-I, c-II, d-IV ✓
 (E) Question not attempted

- 62 सूची I को सूची II से सुमेलित करें :
- | सूची I (मेला) | सूची II (स्थान) |
|---------------------|----------------------|
| a. खाटूश्यामजी मेला | I. अलवर जिला |
| b. भर्तृहरि मेला | II. देशानोक, बीकानेर |
| c. करणीमाता मेला | III. सीकर जिला |
| d. शीतलामाता मेला | IV. चाकसू, जयपुर |
- नीचे दिए गए विकल्पों में से सबसे उपयुक्त उत्तर चुनें:
- (A) a-II, b-III, c-IV, d-I
(B) a-I, b-IV, c-II, d-III
(C) a-III, b-I, c-II, d-IV
(D) a-III, b-II, c-I, d-IV
(E) अनुत्तरित प्रश्न
- 63 निम्नलिखित में से किसने कहा था कि राजपूत शक अथवा सीथियन के वंशज हैं?
- (A) गौरीशंकर हीराचंद ओझा
(B) चन्द्र बरदाई
(C) डॉ. बी. आर. भंडारकर
(D) जेम्स टॉड
(E) अनुत्तरित प्रश्न
- 64 निम्नलिखित में से किसे मेवाड़ क्षेत्र में चार-भुजाओं वाला लोक देवता माना जाता है?
- (A) रामदेवजी (B) कल्लाजी
(C) हड़बूजी (D) मल्लीनाथजी
(E) अनुत्तरित प्रश्न
- 65 निम्नलिखित में से किसे अबुल फजल द्वारा सशस्त्र दुर्ग (बख्तरबंद दुर्ग) कहा गया था?
- (A) रणथम्भौर दुर्ग (B) तारामढ़ दुर्ग
(C) चित्तौड़गढ़ दुर्ग (D) सिवाणा दुर्ग
(E) अनुत्तरित प्रश्न
- 66 निम्नलिखित में से किसने दिल्ली प्रस्थान कर रहे महाराणा फतेह सिंह के समक्ष "चेतावनी रा चूगटियां" रचना प्रस्तुत की थी?
- (A) केसरी सिंह बारहठ
(B) स्वामी विवेकानंद
(C) सज्जन कीर्ति सुधाकर
(D) बंकिम चन्द्र चटर्जी
(E) अनुत्तरित प्रश्न

265MN]

- 62 Match List I with List II :
- | List I (Fairs) | List II (Places) |
|-----------------------|-----------------------|
| a. Khatu Shyamji Fair | I. Alwar District |
| b. Bhartrhari Fair | II. Deshnook, Bikaner |
| c. Karni Mata Fair | III. Sikar District |
| d. Sheetla Mata Fair | IV. Chaksu, Jaipur |

Choose the most appropriate the options given below:

- (A) a-II, b-III, c-IV, d-I
(B) a-I, b-IV, c-II, d-III
(C) a-III, b-I, c-II, d-IV
(D) a-III, b-II, c-I, d-IV
(E) Question not attempted

- 63 Who among the following said that Rajputs are descendants of the Scythians?
- (A) Gaurishankar Hirachand Ojha
(B) Chandra Bardai
(C) Dr. B. R. Bhandarkar
(D) James Tod
(E) Question not attempted
- 64 Who among the following is known as handed folk deity in Mewar region?
- (A) Ramdevji (B) Kallaji
(C) Harbuji (D) Mallinathji
(E) Question not attempted
- 65 Which of the following was called armoured fort (Bakhtarband durg) by Fazl?
- (A) Ranthambhor fort
(B) Taragarh fort
(C) Chittorgarh fort
(D) Siwana fort
(E) Question not attempted
- 66 Who among the following presented composition called "Chetavani Choogtiyan" in front of Maharana Singh on his way to Delhi?
- (A) Kesari Singh Barbath
(B) Swami Vivekanand
(C) Sajjan Kirti Sudhakar
(D) Bankim Chandra Chatterjee
(E) Question not attempted

20

st II (Places)

Alwar

District

Deshnok,

Bikaner

I. Sikar

District

V. Chaksu,

Jaipur

ate answer from

sted

ing said that the
s of the Sakas

chand Ojha

kar

ntped

ing is known as four
ewar region?

) Kallaji

) Mallinathji

empted

ing was called as
arband durg) by Abu

ort

t

tttempted

following presented
led "Chetavani

ont of Maharana Fateh

o Delhi?

Barhath

kanand

Sudhakar

ndra Chatterjee

t attempted

[Contd.

67 राजस्थान में 1857 की क्रांति के दौरान कोटा राज्य का ब्रिटिश पॉलीटिकल एजेंट कौन था?

- (A) शॉवर्स और (B) मेजर बर्टन
(C) मैक मेसन (D) मॉरिसन
(E) अनुत्तरित प्रश्न

68 गुहिल राजवंश में से किसने चण्डीशतक, गीत गोविन्द और संगीत रत्नाकर पर टीकाएं लिखी थीं?

- (A) राणा सांगा (B) राणा हम्मीर
(C) महाराणा मोकल (D) महाराणा कुम्भा
(E) अनुत्तरित प्रश्न

69 निम्नलिखित में से कौनसी राजस्थान की मरुस्थली मृदा की विशेषता है? (निम्न में से सबसे उपयुक्त विकल्प चुनें)

- (A) निम्न लवणता और उच्च उर्वरता ✗
(B) निम्न उर्वरता और उच्च लवणता
(C) इसमें उच्च उर्वरता और उच्च लवणता होती है। ✗
(D) जल धारण क्षमता उच्च होती है। ✗
(E) अनुत्तरित प्रश्न

70 राजस्थान के किस प्रकार के वनों में खेजड़ी, रोहिड़ा, बेर, कैर, थोर पेड़ पाये जाते हैं?

- (A) सालार वन
(B) धोकड़ा वन
(C) उष्णकटिबंधीय कंटीले वन
(D) शुष्क सागौन वन
(E) अनुत्तरित प्रश्न

71 निम्नलिखित में से कौनसी राजस्थान की खारे पानी की झील नहीं है?

- (A) कोलायत झील (B) पचपदरा झील
(C) कुचामन झील (D) डीडवाना झील ✗
(E) अनुत्तरित प्रश्न

265MN]



67 Who was the British Political Agent of Kota State during 1857 revolution in Rajasthan?

- (A) Showers ore (B) Major Burton
(C) Mac Mason (D) Morrison
(E) Question not attempted

68 Who is believed to have written commentaries on Chandishataka, Gita Govinda and Sangita Ratnakar from Guhil dynasty?

- (A) Rana Sanga
(B) Rana Hammir
(C) Maharana Mokal
(D) Maharana Kumbha
(E) Question not attempted

69 Which of the following is a characteristic of desert soil of Rajasthan? (Choose the most appropriate option from below)

- (A) Low salinity and high fertility.
(B) Low fertility and high salinity.
(C) It has high fertility and high salinity.
(D) Water holding capacity is high.
(E) Question not attempted

70 Khejari, Rohida, Ber, Ker, Thor trees are found in which of the forests in Rajasthan?

- (A) Salar forests
(B) Dhokra forests
(C) Tropical Thorny forests
(D) Dry Teak forests
(E) Question not attempted

71 Which of the following is not a salt water lake of Rajasthan?

- (A) Kolayat lake
(B) Pachpadra lake
(C) Kuchaman lake
(D) Deedwana lake
(E) Question not attempted

[Contd...

72. "कृषि-जलवायु प्रदेश IV B: राजस्थान का आर्द्र दक्षिणी मैदान" के संबंध में निम्नलिखित में से कौनसा कथन सत्य है? (निम्न में से सबसे उपयुक्त विकल्प चुनें)

- (A) यहां रक्ताभ मध्यम और कैल्शियम युक्त मृदा पाई जाती है।
 (B) जालौर, पाली और सिरोही के भाग इस क्षेत्र में सम्मिलित हैं।
 (C) औसत वर्षा - 20 से 30 सेमी
 (D) अधिकतम तापमान : 52°C और न्यूनतम तापमान : -2°C .
 (E) अनुत्तरित प्रश्न

73. राजस्थान की बाणगंगा नदी का उद्गम कहाँ से होता है?

- (A) खमनौर पहाड़ियां (B) नाग पहाड़
 (C) जानापाव पहाड़ियां (D) जयपुर का विराटनगर
 (E) अनुत्तरित प्रश्न

74. राजस्थान की "कालीबाई भील उद्दान योजना" के संदर्भ में निम्नलिखित कथनों पर विचार करें। सही कथनों का चयन करें:

- a. योजना के अंतर्गत राजस्थान में 10 से 45 आयु वर्ग की लड़कियों और महिलाओं को निःशुल्क सैनिटरी नैपकिन प्रदान की जाती है।
 b. मासिक धर्म स्वास्थ्य, गरिमा और सुरक्षा को बढ़ावा देना।
 c. राजस्थान चिकित्सा सेवाएं निगम और राजीविका सैनिटरी नैपकिन क्रय करेंगी।
 d. यह निःशुल्क नैपकिन आंगनवाड़ी केन्द्रों और विद्यालयों सहित विभिन्न संस्थानों को प्रदान की जाएंगी।

नीचे दिए गए विकल्पों में से सबसे उपयुक्त उत्तर चुनें:

- (A) a, b और d (B) a, b, c और d
 (C) a, c और d (D) b, c और d
 (E) अनुत्तरित प्रश्न

72. Which of the following statements is correct regarding "Agro-climatic region IV B: Humid southern plain of Rajasthan" (Choose the most appropriate option below)

- (A) Reddish medium and calcareous soils are found here.
 (B) Jalore, Pali and parts of Sirohi are included in this region.
 (C) Average Rainfall - 20 to 30 cm
 (D) Maximum temperature : 52°C and minimum temperature : -2°C .
 (E) Question not attempted

73. Banganga river of Rajasthan originates from:

- (A) Khamnor Hills
 (B) Nag Pahar
 (C) Janapao Hills
 (D) Viratnagar of Jaipur
 (E) Question not attempted

74. Consider the following statements in reference to "Kalibai Bheel Udaan Yojana of Rajasthan". Choose the correct statements:

- a. The scheme provides free sanitary napkins to women and girls aged 10 to 45 years in Rajasthan.
 b. To promote menstrual health, dignity and safety.
 c. Rajasthan Medical Services Corporation and Rajeevika Corporation will procure the sanitary napkins.
 d. These free napkins will be supplied to various institutions including Anganwadi centres and schools.

Choose the most appropriate answer from the options given below:

- (A) a, b and d (B) a, b, c and d
 (C) a, c and d (D) b, c and d

75 "डॉ. सविता बेन अंबेडकर अंतर जातीय विवाह प्रोत्साहन योजना" के संबंध में निम्नलिखित कथनों पर विचार करें। सही कथनों का चयन करें:

- a. राज्य सरकार सवर्ण हिन्दुओं और अनुसूचित जाति के व्यक्तियों के बीच अंतरजातीय विवाहों को बढ़ावा देती है।
- b. 31 मार्च, 2023 तक पंजीकृत विवाहों के लिए प्रति युगल ₹ 5 लाख का प्रोत्साहन प्रदान किया जाता है।
- c. वर्ष 2025-26 के दौरान (दिसंबर तक) ₹ 14.70 करोड़ की राशि व्यय हो चुकी है।
- d. 1 अप्रैल 2023 के पश्चात् पंजीकृत विवाहों के लिए प्रोत्साहन बढ़ाकर ₹ 50 लाख प्रति युगल कर दिया गया है।

नीचे दिए गए विकल्पों में से सबसे उपयुक्त उत्तर चुनें:

- (A) a, b और c
- (B) b, c और d
- (C) c और d
- (D) a, b और d
- (E) अनुत्तरित प्रश्न

76 राजस्थान लॉजिस्टिक्स नीति 2025 के बारे में निम्नलिखित कथनों पर विचार करें। सही कथनों का चयन करें:

- a. विद्युत शुल्क और मंडी शुल्क में 7 वर्षों तक 100% छूट
- b. 7 वर्षों की अवधि के लिए 7% की दर पर ब्याज सब्सिडी, वार्षिक ₹ 50 लाख तक
- c. ₹ 50 लाख तक अग्नि जांच/पहचान प्रणालियों की लागत के 20% का एकमुश्त पुनर्भुगतान
- d. इसके प्रोत्साहन और लाभ, राजस्थान निवेश प्रोत्साहन योजना-2024 के प्रावधानों के साथ संरेखित/सुसंगत हैं।

नीचे दिए गए विकल्पों में से सबसे उपयुक्त उत्तर चुनें:

- (A) b, c और d
- (B) c और d
- (C) a, b और c
- (D) a, b और d
- (E) अनुत्तरित प्रश्न

265MN]

75 Consider the following statements with reference to "Dr. Savita Ben Ambedkar Inter Caste Marriage Incentive Scheme". Choose the correct statements:

- a. The State Govt. promotes inter-caste marriages between Sawarna Hindu and scheduled caste individuals.
- b. For marriages registered upto 31st March 2023, an incentive of ₹ 5 lakh per couple is provided.
- c. During the year 2025-26 (upto December), an amount of ₹ 14.70 crore has been incurred.
- d. For marriages registered after 1 April 2023, the incentive has been enhanced to ₹ 50 lakh per couple.

Choose the most appropriate answer from the options given below:

- (A) a, b and c
- (B) b, c and d
- (C) c and d
- (D) a, b and d
- (E) Question not attempted

76 Consider the following statements regarding Rajasthan Logistics Policy 2025. Choose the correct statements:

- a. 100% exemption from electricity duty and mandi fee for 7 years.
- b. Interest subsidy at the rate of 7% for a period of 7 years, upto ₹ 50 lakhs per annum.
- c. One-time reimbursement of 20% of the cost of fire detection system upto ₹ 50 lakhs.
- d. Its incentives and benefits are aligned with the provisions of the Rajasthan Investment Promotion Scheme 2024.

Choose the most appropriate answer from the options given below:

- (A) b, c and d
- (B) c and d
- (C) a, b and c
- (D) a, b and d
- (E) Question not attempted

[Contd...

77 जोधपुर - पाली - मारवाड़ औद्योगिक क्षेत्र (जेपीएमआईए) के संबंध में निम्नलिखित कथनों पर विचार करें। सही कथनों का चयन करें:

- जोधपुर - पाली - मारवाड़ औद्योगिक नोड को विशेष निवेश क्षेत्र के रूप में अधिसूचित किया गया है।
- जेपीएमआईए का उत्तरदायित्व रिफो को दिया गया है।
- चरण-A ₹ 921.66 करोड़ की अनुमानित परियोजना लागत के साथ 1,577.69 एकड़ के कुल क्षेत्र को आच्छादित (कवर) करता है।
- जेपीएमआईए में पाली ज़िले के 90 गांव शामिल हैं।

नीचे दिए गए विकल्पों में से सबसे उपयुक्त उत्तर चुनें:

- a और b
- a, b और c
- a और d
- b, c और d
- अनुत्तरित प्रश्न

78 सूची I को सूची II से सुमेलित करें :

सूची I (केन्द्र/बाज़ार)	सूची II (ज़िला)
a. जैविक खाद्य बाज़ार	I. बांसवाड़ा
b. किन्नू उत्कृष्टता केन्द्र	II. अलवर
c. प्याज और सब्जियां उत्कृष्टता केन्द्र	III. श्रीगंगानगर
d. आम उत्कृष्टता केन्द्र	IV. जोधपुर, कोटा और उदयपुर

नीचे दिए गए विकल्पों में से सबसे उपयुक्त उत्तर चुनें:

- a-III, b-I, c-II, d-IV
- a-III, b-II, c-IV, d-I
- a-IV, b-III, c-II, d-I
- a-IV, b-II, c-I, d-III
- अनुत्तरित प्रश्न

77 Consider the following statements regarding Jodhpur-Pali-Marwar Industrial Area (JPMIA). Choose the correct statements:

- Jodhpur-Pali-Marwar Industrial Node has been notified as a special investment region.
- RIICO has been entrusted with the responsibility of JPMIA.
- Phase-A covers a total area of 1,577.69 acres with an estimated project cost of ₹ 921.66 crore.
- JPMIA encompasses 90 villages of Pali district.

Choose the most appropriate answer from the options given below:

- a and b
- a, b and c
- a and d
- b, c and d
- Question not attempted

78 Match List I with List II :

List I (Centres/ Markets)	List II (Districts)
a. Organic Food Market	I. Banswara
b. Centre of excellence for Kinnow	II. Alwar
c. Centre of excellence for Onion and vegetables	III. Sriganganagar
d. Centre of excellence for Mango	IV. Jodhpur, Kota and Udaipur

Choose the most appropriate answer from the options given below:

- a-III, b-I, c-II, d-IV
- a-III, b-II, c-IV, d-I
- a-IV, b-III, c-II, d-I
- a-IV, b-II, c-I, d-III
- Question not attempted

79 सूची I को सूची II से सुमेलित करें :
सूची I (विरासत स्थल) सूची II (ज़िला)

- | | |
|-----------------------------|--------------|
| a. केवलादेव राष्ट्रीय पार्क | I. राजसमंद |
| b. कुंभलगढ़ दुर्ग | II. भरतपुर |
| c. गगरोण दुर्ग | III. जयपुर |
| d. जंतर मंतर | IV. झालावाड़ |

नीचे दिए गए विकल्पों में से सबसे उपयुक्त उत्तर चुनें:

- (A) a-III, b-II, c-I, d-IV
(B) a-I, b-IV, c-II, d-III
(C) a-II, b-I, c-IV, d-III
(D) a-II, b-III, c-I, d-IV
(E) अनुत्तरित प्रश्न

80 निम्नलिखित में से कौनसी हवा दक्षिण भारत में आम्र बौछार के नाम से जानी जाती है?

- (A) भूमि से सागर की ओर प्रवाहित होने वाली हवाएं
(B) शुष्क हवाएं
(C) गर्म और शुष्क हवाएं
(D) तटवर्ती क्षेत्रों में सागर से भूमि की ओर प्रवाहित होने वाली हवाएं
(E) अनुत्तरित प्रश्न

81 निम्नलिखित में से कौनसी विधि कारण-प्रभाव संबंध स्थापित करने के लिए उचित है?

- (A) सर्वेक्षण विधि (B) व्यक्ति-अध्ययन विधि
(C) प्रयोगमूलक विधि (D) प्रेक्षणमूलक विधि
(E) अनुत्तरित प्रश्न

82 "अव्यक्त अधिगम" से कौन संबद्ध है?

- (A) टोलमेन (B) कोहलर
(C) आई. वी. पैवलॉव (D) थॉर्नडाइक
(E) अनुत्तरित प्रश्न

79 Match List I with List II :

- | | |
|-----------------------------------|-------------------------------|
| List I
(Heritage Sites) | List II
(Districts) |
| a. Keoladeo National Park | I. Rajsamand |
| b. Kumbhalgarh Fort | II. Bharatpur |
| c. Gagron Fort | III. Jaipur |
| d. Jantar Mantar | IV. Jhalawar |

Choose the most appropriate answer from the options given below:

- (A) a-III, b-II, c-I, d-IV
(B) a-I, b-IV, c-II, d-III
(C) a-II, b-I, c-IV, d-III
(D) a-II, b-III, c-I, d-IV
(E) Question not attempted

80 Which of the following winds is known as mango showers in southern Bharat?

- (A) Winds blowing from land to sea
(B) Dry winds
(C) Hot and dry winds
(D) Winds blowing from sea to land in coastal regions
(E) Question not attempted

81 Which of the following methods is suitable for establishing cause-effect relationship?

- (A) Survey Method
(B) Case-Study Method
(C) Experimental Method
(D) Observational Method
(E) Question not attempted

82 Who is associated with 'Latent learning'?

- (A) Tolman (B) Kohler
(C) I. V. Pavlov (D) Thorndike
(E) Question not attempted

83 बुद्धि लब्धि (आई क्यू) की निम्नलिखित में से कौनसी रेंज बुद्धिमत्ता दिव्यांगता की मध्यम स्तर श्रेणी के अंतर्गत रखी जाती है? (निम्न में से सबसे उपयुक्त विकल्प चुनें)

- (A) आईक्यू 20-25 से लगभग 35-40
(B) आईक्यू 20-25 से कम
(C) आईक्यू 55 से लगभग 70
(D) आईक्यू 35-40 से लगभग 50-55
(E) अनुत्तरित प्रश्न

84 15 वर्ष की मानसिक आयु के 12 वर्षीय बालक की बुद्धि लब्धि (आईक्यू) क्या होगी? (निम्न में से सबसे उपयुक्त विकल्प चुनें)

- (A) 125 (B) 130
(C) 80 (D) 100
(E) अनुत्तरित प्रश्न

85 निम्नलिखित सोपान रचनात्मक चिंतन की प्रक्रिया से संबंधित हैं। इन्हें सही अनुक्रम में व्यवस्थित करें:

- a. प्रतिदीप्ति b. सत्यापन
c. तैयारी d. उद्भवन

नीचे दिए गए विकल्पों में से सबसे उपयुक्त उत्तर चुनें:

- (A) a, d, b, c (B) d, a, c, b
(C) b, c, a, d (D) c, d, a, b
(E) अनुत्तरित प्रश्न

86 मनोलैंगिक विकास के फ्रॉयड के पाँच सोपानों/चरणों को सही अनुक्रम में व्यवस्थित करें:

- a. लैंगिक चरण b. गुदीय चरण
c. सुषुप्त चरण d. मौखिक चरण
e. जननांग चरण

नीचे दिए गए विकल्पों में से सबसे उपयुक्त उत्तर चुनें:

- (A) d, b, a, c, e (B) b, d, a, c, e
(C) b, d, e, a, c (D) c, b, d, e, a
(E) अनुत्तरित प्रश्न

83 Which of the following range of Intelligence Quotient (IQ) is kept under the category of moderate level of intellectual disability? (Choose the most appropriate option from below)

- (A) IQs 20-25 to approximately 35-40
(B) IQs below 20-25
(C) IQs 55 to approximately 70
(D) IQs 35-40 to approximately 50-55
(E) Question not attempted

84 What would be the Intelligence Quotient (IQ) of a 12 year old child with a mental age of 15 years? (Choose the most appropriate option from below)

- (A) 125 (B) 130
(C) 80 (D) 100
(E) Question not attempted

85 Following stages are related to the process of creative thinking. Arrange them in the correct sequence:

- a. Illumination b. Verification
c. Preparation d. Incubation

Choose the most appropriate answer from the options given below:

- (A) a, d, b, c (B) d, a, c, b
(C) b, c, a, d (D) c, d, a, b
(E) Question not attempted

86 Arrange the Freud's five stages of psychosexual development in their correct sequence:

- a. Phallic stage b. Anal stage
c. Latency stage d. Oral stage
e. Genital stage

Choose the most appropriate answer from the options given below:

- (A) d, b, a, c, e (B) b, d, a, c, e
(C) b, d, e, a, c (D) c, b, d, e, a
(E) Question not attempted

- 87 एंडरसन ने अधिगम की विश्लेषणात्मक और संबंधात्मक शैलियों के बीच विभेद किया है। अधिगम की विश्लेषणात्मक शैली द्वारा प्रदर्शित विशेषताओं से संबंधित कथनों की पहचान करें:
- अमूर्त विचारों के लिए बेहतर स्मृति होना
 - अनुक्रमात्मक और संरचनात्मक चिंतन दर्शाना
 - अंतःप्रज्ञात्मक चिंतन दर्शाना
 - पूर्ण चित्र/आयाम के भाग के रूप में सूचना का बोध करना
 - पूर्ण चित्र/आयाम से सूचना को अलग/पृथक् करना
- नीचे दिए गए विकल्पों में से सबसे उपयुक्त उत्तर चुनें:

- (A) c और d
(B) a, b और e
(C) a, c और d
(D) a और d
(E) अनुत्तरित प्रश्न

- 88 व्यक्तित्व के बृहत पाँच कारक मॉडल (कोस्टा और मैकक्रै) में सम्मिलित कारकों की पहचान करें:
- सहमतिपरकता
 - मनस्तापिता (साइकोटिसिज्म)
 - अंतरात्मपरकता
 - अनुभव के प्रति खुलापन
 - मेसोमोर्फिक

नीचे दिए गए विकल्पों में से सबसे उपयुक्त उत्तर चुनें:

- (A) a, b और e
(B) a, b, d और e
(C) a, c और d
(D) b, c और d
(E) अनुत्तरित प्रश्न

265MN]

- 87 Anderson has differentiated between analytical and relational styles of learning. Identify the statements pertaining to the characteristics exhibited by Analytical style of learning:
- Have a good memory for abstract ideas
 - Exhibit sequential and structural thinking
 - Exhibit intuitive thinking
 - Perceive information as part of total picture
 - Able to disembed information from total picture

Choose the most appropriate answer from the options given below:

- (A) c and d
(B) a, b and e
(C) a, c and d
(D) a and d
(E) Question not attempted

- 88 Identify the factors which have been included in Big five factor model of Personality (Costa & McCrae):

- Agreeableness
- Psychoticism
- Conscientiousness
- Openness to experience
- Mesomorphic

Choose the most appropriate answer from the options given below:

- (A) a, b and e
(B) a, b, d and e
(C) a, c and d
(D) b, c and d
(E) Question not attempted

27

89 सूची I को सूची II से सुमेलित करें -

सूची I	सूची II
a. अधिग्रहण	I. एक अभिधारणा (सीआर) को सीएस और यूसीएस की निरंतर युग्मन शृंखला द्वारा प्राप्त किया जाता है।
b. समवर्ती अनुबंधन	II. सीएस और यूसीएस को एक ही समय पर प्रस्तुत किया जाता है।
c. अनुगामी अनुबंधन	III. सीएस को पहले प्रस्तुत किया जाता है और थोड़े समय के अंतराल के बाद यूसीएस प्रस्तुत किया जाता है।
d. पश्चगामी अनुबंधन	IV. यूसीएस को सीएस से पहले प्रस्तुत किया जाता है।

नीचे दिए गए विकल्पों में से सबसे उपयुक्त उत्तर चुनें:

- (A) a-III, b-IV, c-I, d-II
 (B) a-IV, b-III, c-I, d-II
 (C) a-I, b-II, c-III, d-IV
 (D) a-II, b-IV, c-I, d-III
 (E) अनुत्तरित प्रश्न

90 सूची I को सूची II से सुमेलित करें :

सूची I	सूची II
a. इंद्रियगतिकी चरण	I. 2-7 वर्ष
b. औपचारिक प्रचालन चरण	II. 7-11 वर्ष
c. पूर्व-प्रचालन चरण	III. 0-2 वर्ष
d. ठोस-प्रचालन चरण	IV. 11-15 वर्ष

नीचे दिए गए विकल्पों में से सबसे उपयुक्त उत्तर चुनें:

- (A) a-III, b-IV, c-I, d-II
 (B) a-I, b-II, c-III, d-IV
 (C) a-I, b-IV, c-III, d-II
 (D) a-II, b-I, c-III, d-IV
 (E) अनुत्तरित प्रश्न

89 Match List I with List II :

List I	List II
a. Acquisition	I. A CR is acquired by a series of continuous pairing of CS and UCS.
b. Simultaneous conditioning	II. CS and UCS presented at the same time.
c. Trace conditioning	III. CS is presented first and after a brief delay UCS follows.
d. Backward conditioning	IV. UCS is presented before CS.

Choose the most appropriate answer from the options given below:

- (A) a-III, b-IV, c-I, d-II
 (B) a-IV, b-III, c-I, d-II
 (C) a-I, b-II, c-III, d-IV
 (D) a-II, b-IV, c-I, d-III
 (E) Question not attempted

90 Match List I with List II :

List I	List II
a. Sensorimotor stage	I. 2-7 years
b. Formal operational stage	II. 7-11 years
c. Preoperational stage	III. 0-2 years
d. Concrete operational stage	IV. 11-15 years

Choose the most appropriate answer from the options given below:

- (A) a-III, b-IV, c-I, d-II
 (B) a-I, b-II, c-III, d-IV
 (C) a-I, b-IV, c-III, d-II
 (D) a-II, b-I, c-III, d-IV
 (E) Question not attempted

91 सूची I को सूची II से सुमेलित करें :

सूची I

सूची II

- | | |
|-------------------------------|----------------------|
| a. फिनटेक पार्क | I. बालोतरा, बाड़मेर |
| b. मेडटेक मेडिकल डिवाइस पार्क | II. जयपुर |
| c. राजस्थान पेट्रो जोन | III. बोरनादा, जोधपुर |

नीचे दिए गए विकल्पों में से सबसे उपयुक्त उत्तर चुनें:

- (A) a-III, b-I, c-II (B) a-II, b-I, c-III
 (C) a-I, b-II, c-III (D) a-II, b-III, c-I
 (E) अनुत्तरित प्रश्न

92 सूची I को सूची II से सुमेलित करें :

सूची I (पार्क/क्षेत्र)

सूची II (स्थान)

- | | |
|-----------------------------------|-----------------|
| a. सोनियाना सिरामिक और ग्लास जोन | I. बीकानेर |
| b. हैन्डिक्राफ्ट और फर्नीचर पार्क | II. चित्तौड़गढ़ |
| c. स्टोन पार्क | III. जोधपुर |
| d. गजनेर सिरामिक और ग्लास जोन | IV. कोटा |

नीचे दिए गए विकल्पों में से सबसे उपयुक्त उत्तर चुनें:

- (A) a-II, b-III, c-IV, d-I
 (B) a-I, b-IV, c-III, d-II
 (C) a-III, b-II, c-I, d-IV
 (D) a-IV, b-III, c-II, d-I
 (E) अनुत्तरित प्रश्न

93 राजस्थान के बजट 2026-27 के संदर्भ में निम्नलिखित को बढ़ते क्रम में व्यवस्थित करें:

- राज्य माल और सेवा कर से प्राप्तियां
- राज्य उत्पाद शुल्क प्राप्तियां
- भूमि राजस्व प्राप्तियां
- स्टाम्प और पंजीकरण प्राप्तियां

नीचे दिए गए विकल्पों में से सबसे उपयुक्त उत्तर चुनें:

- (A) a, b, d, c (B) b, c, d, a
 (C) c, d, b, a (D) c, d, a, b
 (E) अनुत्तरित प्रश्न

91 Match List I with List II :

List I

List II

- | | |
|--------------------------------|------------------------|
| a. Fintech Park | I. Balotra, Barmer |
| b. Medtech Medical Device Park | II. Jaipur |
| c. Rajasthan Petro Zone | III. Boranada, Jodhpur |

Choose the most appropriate answer from the options given below:

- (A) a-III, b-I, c-II (B) a-II, b-I, c-III
 (C) a-I, b-II, c-III (D) a-II, b-III, c-I
 (E) Question not attempted

92 Match List I with List II :

List I (Parks/Zones)

List II (Places)

- | | |
|-----------------------------------|-----------------|
| a. Soniana Ceramic and Glass Zone | I. Bikaner |
| b. Handicraft and Furniture Park | II. Chittorgarh |
| c. Stone Park | III. Jodhpur |
| d. Gajner Ceramic and Glass Zone | IV. Kota |

Choose the most appropriate answer from the options given below:

- (A) a-II, b-III, c-IV, d-I
 (B) a-I, b-IV, c-III, d-II
 (C) a-III, b-II, c-I, d-IV
 (D) a-IV, b-III, c-II, d-I
 (E) Question not attempted

93 Arrange the following in increasing order with reference to Budget 2026-27 of Rajasthan:

- Receipts from state goods and service tax
- State excise duty receipts
- Land revenue receipts
- Stamps and registration receipts

Choose the most appropriate answer from the options given below:

- (A) a, b, d, c (B) b, c, d, a
 (C) c, d, b, a (D) c, d, a, b
 (E) Question not attempted

[Contd..]

94 ✓ स्वर्णगिरि राजस्थान के किस शहर का प्राचीन नाम है?

- (A) उदयपुर
(B) बांसवाड़ा
(C) जालौर
(D) जयपुर
(E) अनुत्तरित प्रश्न

95 सूची I (राजस्थान के खेल व्यक्तित्व) को सूची II (उनसे संबंधित खेल) से सुमेलित करें :

सूची I	सूची II
a. कृष्णा पूनिया	I. भाला फेंक खिलाड़ी
b. अवनी लेखारा	II. स्कवैश खिलाड़ी
c. देवेन्द्र झांझरिया	III. पैरालिंपिक शूटर
d. भुवनेश्वरी कुमारी	IV. डिस्कस थ्रो

नीचे दिए गए विकल्पों में से सबसे उपयुक्त उत्तर चुनें:

- (A) a-III, b-I, c-IV, d-II
(B) a-IV, b-III, c-I, d-II
(C) a-I, b-II, c-III, d-IV
(D) a-III, b-IV, c-I, d-II
(E) अनुत्तरित प्रश्न

96 ✓ देश में राजस्थान के खनिज स्रोतों के योगदान को बढ़ते क्रम में व्यवस्थित करें:

- a. पोटेश b. जिप्सम
c. ताम्र अयस्क d. टंगस्टन

नीचे दिए गए विकल्पों में से सबसे उपयुक्त उत्तर चुनें:

- (A) b, d, c, a
(B) c, d, a, b
(C) a, c, b, d
(D) d, c, b, a
(E) अनुत्तरित प्रश्न

265MN | ✎

94 Swarnigiri is the ancient name of which city in Rajasthan?

- (A) Udaipur
(B) Banswara
(C) Jalore
(D) Jaipur
(E) Question not attempted

95 Match List I (Sports personalities from Rajasthan) with List II (Sports associated with) :

List I	List II
a. Krishna Poonia	I. Javellin Thrower
b. Avani Lekhara	II. Squash Player
c. Devendra Jhanjhanria	III. Shooter, Paralympic
d. Bhuvenshwari Kumari	IV. Discuss Throw

Choose the most appropriate answer from the options given below:

- (A) a-III, b-I, c-IV, d-II
(B) a-IV, b-III, c-I, d-II
(C) a-I, b-II, c-III, d-IV
(D) a-III, b-IV, c-I, d-II
(E) Question not attempted

96 Arrange Rajasthan's mineral resources contribution in the country in an increasing order:

- a. Potash b. Gypsum
c. Copper ore d. Tungsten

Choose the most appropriate answer from the options given below:

- (A) b, d, c, a
(B) c, d, a, b
(C) a, c, b, d
(D) d, c, b, a
(E) Question not attempted

30

[Contd.

Test

Prime

By Adda247

Previous Year Papers PDF

PRACTICE MORE, SCORE HIGHER!



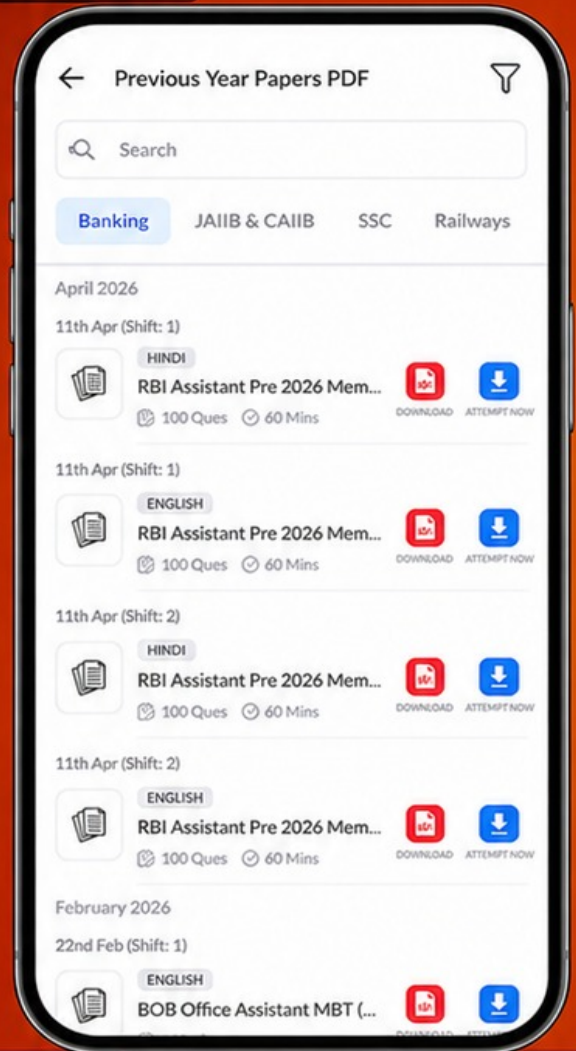
Free 25,000+ PDF's

High-Quality | Exam-Wise | Updated Regularly

ATTEMPT AS MOCK



Turn PDFs into real exam experience.
Analyze. Improve. Succeed.



Topic-wise &
Exam-wise PDFs



Download &
Study Offline



Attempt as Mock
& Track Score



Smart Analysis
& Performance

AVAILABLE IN



Banking



SSC



Railway



Teaching



UGC



Agriculture



Nursing



Bihar



UP



Punjab



WB



Odisha



TN



AP & Telangana



Haryana



DOWNLOAD THE APP



97 "पालनहार योजना" के अंतर्गत 0-6 वर्ष के आयु वर्ग के अनाथ बालकों को विद्यालय में नामांकित होने पर कितनी धनराशि मिलती है? (निम्न में से सबसे उपयुक्त विकल्प चुनें)

- (A) प्रति माह ₹ 1,500
(B) प्रति माह ₹ 6,000
(C) प्रति माह ₹ 5,000
(D) प्रति माह ₹ 3,000
(E) अनुत्तरित प्रश्न

98 वाद्य यंत्र "अलगोजा" बजाने वाले निम्नलिखित में से किस व्यक्ति को वर्ष 2026 में पद्मश्री प्राप्त हुआ था?

- (A) ब्रह्मदेवजी महाराज
(B) तागराम भील
(C) मेवाती जोगी
(D) गवरी देवी
(E) अनुत्तरित प्रश्न

99 मुख्यमंत्री कन्यादान योजना के अंतर्गत अन्त्योदय परिवारों, आस्था कार्ड धारकों और अन्य श्रेणियों के बीपीएल परिवारों की बेटियों के विवाह के लिए कितनी धनराशि प्रदान की जाती है?

- (A) ₹ 21,000 (B) ₹ 11,000
(C) ₹ 51,000 (D) ₹ 41,000
(E) अनुत्तरित प्रश्न

100 नासा द्वारा पूर्ण किए गए नवीनतम चंद्र मिशन का नाम है -

- (A) आर्टेमिस II (B) अपोलो X
(C) आर्टेमिस I (D) एसएलएस
(E) अनुत्तरित प्रश्न

97 Under the "Palanhar Yojana" orphaned children aged 0-6 years receive how much money if enrolled in school: (Choose the most appropriate option from below)

- (A) ₹ 1,500 per month
(B) ₹ 6,000 per month
(C) ₹ 5,000 per month
(D) ₹ 3,000 per month
(E) Question not attempted

98 Which of the following person who plays music instrument "Algoza" received Padam Shri for the year 2026?

- (A) Bhrmdevji Maharaj
(B) Tagaram Bheel
(C) Mewati Jogi
(D) Gavari Devi
(E) Question not attempted

99 What amount is given for the marriage of a daughter for BPL families of other categories, Antyodaya families, Astha card holders under the "Mukhyamantri Kanyadan Yojana"?

- (A) ₹ 21,000 (B) ₹ 11,000
(C) ₹ 51,000 (D) ₹ 41,000
(E) Question not attempted

100 Name of the latest Lunar Mission completed by NASA.

- (A) Artemis II (B) Apollo
(C) Artemis I (D) SLS
(E) Question not attempted

[Contd...