

EMRS PGT

**Previous Year Paper
(History)**

16 Dec, 2023

Adda247

Test Prime

ALL EXAMS, ONE SUBSCRIPTION



1,00,000+
Mock Tests



**Personalised
Report Card**



**Unlimited
Re-Attempt**



600+
Exam Covered



25,000+ Previous
Year Papers



500%
Refund



ATTEMPT FREE MOCK NOW

PART - I / भाग - I
GENERAL AWARENESS / सामान्य जागरूकता

1. Johann Gutenberg developed the first-known printing press in Germany. Which was the first book he published in that press ?
 - (1) The Republic
 - (2) The Bible
 - (3) The Odyssey
 - (4) The Magna Carta
2. What do we call the process through which bacterial and fungal enzymes degrade detritus into simpler inorganic substances ?
 - (1) Catabolism
 - (2) Humification
 - (3) Fragmentation
 - (4) Leaching
3. Students' and Teachers' Holistic Advancement through Quality Education (SARTHAQ) is an _____.
 - (1) Indicative and suggestive NEP implementation plan for Higher Education
 - (2) Indicative and suggestive NEP implementation plan for School Education
 - (3) Indicative and suggestive NEP implementation plan for Technical Education
 - (4) Indicative and suggestive NEP implementation plan for Legal Education
1. जोहन गुटेनबर्ग ने सर्वप्रथम ज्ञात प्रिंटिंग प्रेस (मुद्रणालय) जर्मनी में बनाया। उनके द्वारा उस प्रेस से प्रकाशित पहली पुस्तक कौन सी थी ?
 - (1) द रिपब्लिक
 - ~~(2) द बाइबल~~
 - (3) द ओडिसी
 - (4) द मैग्ना कार्टा
2. उस प्रक्रम को क्या कहा जाता है जिसके माध्यम से जीवाणु और कवक के एंजाइम अपरद को अधिक सरल अकार्बनिक पदार्थ में अवक्रमित करते हैं ?
 - (1) अपचय
 - ~~(2) ह्यूमसीयन~~
 - (3) खंडीभवन
 - (4) निक्षालन
3. गुणवत्तापरक शिक्षा के माध्यम से विद्यार्थियों और अध्यापकों की सर्वांगीण प्रगति (सार्थक) _____ है।
 - (1) उच्चतर शिक्षा के लिए राष्ट्रीय शिक्षा नीति कार्यान्वयन योजना का द्योतक और निरूपक
 - ~~(2) स्कूली शिक्षा के लिए राष्ट्रीय शिक्षा नीति कार्यान्वयन योजना का द्योतक और निरूपक~~
 - (3) तकनीकी शिक्षा के लिए राष्ट्रीय शिक्षा नीति कार्यान्वयन योजना का द्योतक और निरूपक
 - (4) विधिक शिक्षा के लिए राष्ट्रीय शिक्षा नीति कार्यान्वयन योजना का द्योतक और निरूपक



- 3

7. Who was awarded the Sahitya Akademi Bhasha Samman 2022 ?

- (1) Chungkhan Yashawanta Singh
- (2) Shashi Nath
- (3) Uday Nath Jha
- (4) Krishna Bhattacharya

8. Assertion (A) :

Both India and the USA have bicameral legislature.

Reason (R) :

The upper house of the legislature in both the countries has an equal number of seats reserved for different states.

Choose the correct answer from the codes below :

- (1) Both (A) and (R) are correct
- (2) Neither (A) nor (R) is correct
- (3) (A) is correct but (R) is wrong
- (4) (A) is wrong but (R) is correct

HIS-2023



7. वर्ष 2022 का साहित्य अकादमी भाषा सम्मान किन्हें दिया गया ?

- (1) चुंगखान यशवंत सिंह
- (2) शशि नाथ
- (3) उदय नाथ झा
- (4) कृष्णा भट्टाचार्य

8. अभिकथन (A) :

भारत और सं.रा. अमेरिका दोनों में द्विसदनीय विधानमंडल है।

कारण (R) :

दोनों देशों के विधानमंडल के उच्च सदन में अलग-अलग राज्यों के लिए आरक्षित सीटों की संख्या एक समान है।

नीचे दिए गए कूट में से सही उत्तर चुनिए :

- (1) (A) और (R) दोनों सही हैं।
- (2) न तो (A) ना ही (R) सही है।
- (3) (A) सही है किन्तु (R) गलत है।
- (4) (A) गलत है किन्तु (R) सही है।

9. Assertion (A) :

As part of the major reforms to Union Budget, the date of budget was advanced to 1 February for the first time from the Budget for Financial year 2020.

Reason (R) :

The advancement of Budget date has been done to enable early completion of the Budget cycle.

Choose the correct answer from the codes below :

- (1) Both (A) and (R) are correct and (R) explains (A).
- (2) Neither (A) nor (R) is correct.
- (3) (A) is correct but (R) is wrong.
- (4) (A) is wrong but (R) is correct.

10. Which of the following statement(s) is/are correct about 'India State of the Forest Report' (ISFR) ?

- (A) The first State of the Forest Report was published in 1947.
- (B) The report is based on the biennial assessment of India's forests carried out by Forest Survey of India (FSI).
- (C) Based on the ISFR 2021 report the total forest cover of the country is 21.71% of the total geographical area of the country.
- (D) The ISFR 2021 report shows a decrease of forest cover as compared to the previous assessment.

Choose the correct answer using the codes below :

- (1) Only (C) and (D) are correct
- (2) Only (B) and (C) are correct
- (3) Only (A), (B) and (C) are correct
- (4) Only (B), (C) and (D) are correct

9. अभिकथन (A) :

केन्द्रीय बजट में बड़े सुधार किए जाने के क्रम में वित्तीय वर्ष 2020 के बजट प्रस्तुतीकरण के समय से पहली बार बजट प्रस्तुत किए जाने की तारीख 1 फरवरी निर्धारित की गई।

कारण (R) :

बजट प्रस्तुति की तारीख बजट चक्र को शीघ्र पूरा करने के लिए परंपरागत तारीख से पूर्व निर्धारित की गई है।

नीचे दिए गए कूट में से सही उत्तर चुनिए :

- (1) (A) और (R) दोनों सही हैं और (R) से (A) की व्याख्या होती है।
- (2) न तो (A) ना ही (R) सही है।
- (3) (A) सही है किन्तु (R) गलत है।
- (4) (A) गलत है किन्तु (R) सही है।

13/2/21

10. 'इंडिया स्टेट ऑफ द फॉरेस्ट रिपोर्ट' (आई.एस.एफ.आर.) के बारे में निम्नांकित में से कौन सा/से कथन सही है/हैं ?

- (A) पहली स्टेट ऑफ द फॉरेस्ट रिपोर्ट वर्ष 1947 में प्रकाशित हुई थी।
- (B) यह रिपोर्ट भारतीय वन सर्वेक्षण (एफ.एस.आई.) द्वारा किए गए भारतीय वनों की द्वैवार्षिक मूल्यांकन पर आधारित है।
- (C) आई.एस.एफ.आर. के वर्ष 2021 की रिपोर्ट के आधार पर देश के कुल भौगोलिक क्षेत्र का 21.71% वनाच्छादित है।
- (D) आई.एस.एफ.आर. 2021 के प्रतिवेदन में पिछले मूल्यांकन की तुलना में वनाच्छादित क्षेत्र में ह्रास दर्शाया गया है। ✗

नीचे दिए गए कूट में से सही विकल्प चुनिए :

- (1) केवल (C) और (D) सही हैं। ✗
- (2) केवल (B) और (C) सही हैं। ✗
- (3) केवल (A), (B) और (C) सही हैं। ✗
- (4) केवल (B), (C) और (D) सही हैं। ✗



PART - II / भाग - II
REASONING ABILITY / तर्क क्षमता

11. Three statements are given followed by two conclusions I and II. Assuming the statements to be true decide which of the conclusions is/are definitely true.


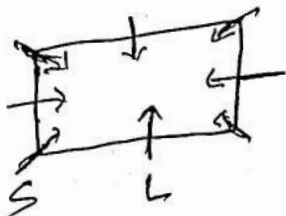
Statements :

1. $M > Q$
2. $P \geq M$
3. $N \leq M$

Conclusions :

- I. $Q = N$
- II. $Q < P$

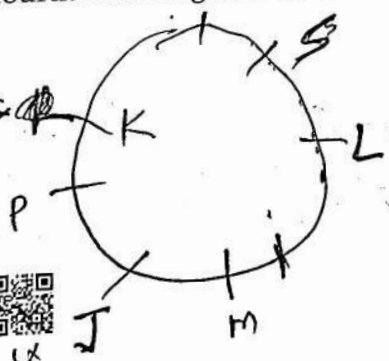
- (1) Both conclusions I and II are true.
- (2) Neither conclusion I nor II is true.
- (3) Only conclusion I is true.
- (4) Only conclusion II is true.



12. Eight friends J, K, L, M, P, Q, R and S are sitting around a square table in such a way that all are facing towards the centre of the table. 'L' sits in the middle of the side. 'P' is second to the left of 'M'. 'Q' is exact right of 'K' and is sitting in the middle of the side. 'P' doesn't sit with 'L'. 'M' sits exact right of 'J'. Two friends are sitting in between 'M' and 'S'. 'R' is second to the left of 'J'. 'S' is exact left of 'L'. 'K' is third to the left of 'L'.

Who sits fourth to the right of 'K' ?

- (1) R
- (2) S
- (3) J
- (4) P



11. तीन कथन दिए गए हैं जिनके बाद दो निष्कर्ष I और II दिए गए हैं। कथनों को सत्य मानते हुए यह निर्णय कीजिए कि दोनों निष्कर्षों में से कौन सा/से निश्चित रूप से सत्य है/हैं?

कथन :

1. $M > Q$
2. $P \geq M$
3. $N \leq M$

निष्कर्ष :

- I. $Q = N$
- II. $Q < P$

- (1) निष्कर्ष I और II दोनों सत्य हैं।
- (2) न तो निष्कर्ष I सत्य है और न ही निष्कर्ष II।
- (3) केवल निष्कर्ष I सत्य है।
- (4) केवल निष्कर्ष II सत्य है।

$$P \geq M > Q$$

$$N \leq M$$

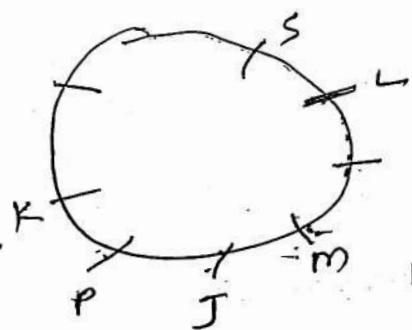
$$P > Q$$

$$N \leq M > Q$$

12. आठ मित्र J, K, L, M, P, Q, R और S एक वर्गाकार मेज के चारों ओर इस प्रकार से बैठे हैं कि सभी का मुँह मेज के केन्द्र की ओर है। 'L' भुजा के बीच में बैठा हुआ है। 'P', 'M' के बायीं ओर दूसरे स्थान पर बैठा है। 'Q', 'K' के एकदम दायीं ओर है और भुजा के बीच में बैठा हुआ है। 'P', 'L' के साथ नहीं बैठा है। 'M', 'J' के एकदम दायीं ओर बैठा है। 'M' और 'S' के बीच दो मित्र बैठे हैं। 'R', 'J' के बायीं ओर दूसरे स्थान पर बैठा है। 'S', 'L' के एकदम बायीं ओर बैठा है। 'K', 'L' के बायीं ओर तीसरे स्थान पर बैठा है।

'K' के दायीं ओर चौथे स्थान पर कौन बैठा है?

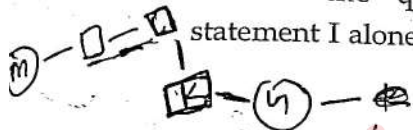
- (1) R
- (2) S
- (3) J
- (4) P



13. Given below is a question, followed by two statements I and II, each containing some information. Decide which of the statements is/are sufficient to answer the question. How is Kushal related to Meenakshi?

Statements :

- I. Kushal is only son of Meenakshi's brother-in-law.
II. Garvita is Kushal's only sister.
(1) Both statements I and II together are necessary to answer the question.
(2) Both the statements I and II together are not sufficient to answer the question.
(3) The statement I alone is sufficient to answer the question while the statement II alone is not sufficient.
(4) The statement II alone is sufficient to answer the question while the statement I alone is not sufficient.



14. Refer to the following letter sequence and answer the question :

(Left) S B T M R E S I C Z Y O W A P D F H
G U L (Right)

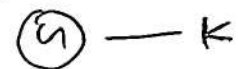
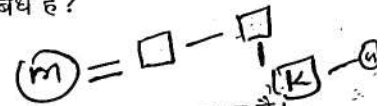
Which letter is fifth to the right of the twelfth letter from your right end of the given sequence?

- (1) P
(2) W
(3) R
(4) X

13. नीचे एक प्रश्न दिया गया है जिसके बाद दो कथन I और II दिए गए हैं। जिनमें प्रत्येक में कुछ जानकारी दी गई है। यह निर्णय कीजिए कि कौन सा/से कथन प्रश्न का उत्तर देने के लिए पर्याप्त है/हैं?
कुशल का मीनाक्षी से क्या संबंध है?

कथन :

- I. कुशल, मीनाक्षी के जेठ/देवर का एकमात्र पुत्र है।
II. गर्विता, कुशल की एकमात्र बहन है।
(1) कथन I और कथन II दोनों मिलकर प्रश्न का उत्तर देने के लिए आवश्यक हैं।
(2) कथन I और कथन II दोनों मिलकर भी प्रश्न का उत्तर देने के लिए पर्याप्त नहीं हैं।
(3) कथन I अकेले प्रश्न का उत्तर देने के लिए पर्याप्त है जबकि कथन II अकेले प्रश्न का उत्तर देने के लिए पर्याप्त नहीं है।
(4) कथन II अकेले प्रश्न का उत्तर देने के लिए पर्याप्त है जबकि कथन I अकेले प्रश्न का उत्तर देने के लिए पर्याप्त नहीं है।



14. निम्नलिखित अक्षरक्रम का अवलोकन करें और प्रश्न का उत्तर दीजिए :

(बाएँ) S B T M R E S I C Z Y O W A P D F H G
U L (दाएँ)

दिए गए क्रम में आपकी दाएँ ओर से बारहवें अक्षर के दायीं ओर पाँचवाँ अक्षर कौन सा है?



- (1) P
(2) W
(3) R
(4) X



15. Given below is a question, followed by two statements I and II, each containing some information. Decide which of the statements is/are sufficient to answer the question.

Who is to the immediate right of 'J' among five friends J, K, L, M and N, facing the North?

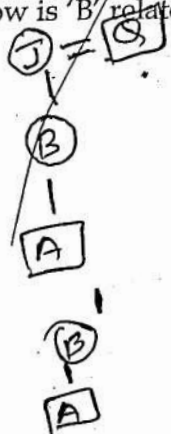
- I. 'L' is third to the left of 'K' and 'J' is second to the right of 'L'.
II. 'K' is to the immediate left of 'N' who is second to the right of 'J'.

- (1) Both statements I and II together are necessary to answer the question.
(2) Either statement I alone or statement II alone is sufficient to answer the question.
(3) The statement I alone is sufficient to answer the question while the statement II alone is not sufficient.
(4) The statement II alone is sufficient to answer the question while the statement I alone is not sufficient.

16. 'M+Q' means 'M' is the wife of 'Q';
'M-Q' means 'M' is the father of 'Q';
'M×Q' means 'M' is the daughter of 'Q';
'M÷Q' means 'M' is the son of 'Q'.

If $A \div B \times J + U - D$, how is 'B' related to 'D'?

- (1) Sister
(2) Aunt
(3) Mother
(4) Brother



15. नीचे एक प्रश्न दिया गया है जिसके बाद दो कथन I और II दिए गए हैं। जिनमें प्रत्येक में कुछ जानकारी दी गई है। यह निर्णय कीजिए कि कौन सा/से कथन प्रश्न का उत्तर देने के लिए पर्याप्त है/हैं?

पाँच मित्रों J, K, L, M और N, जो उत्तर की ओर मुंह करके बैठे हैं, में से 'J' के एकदम दायीं ओर कौन बैठा है?

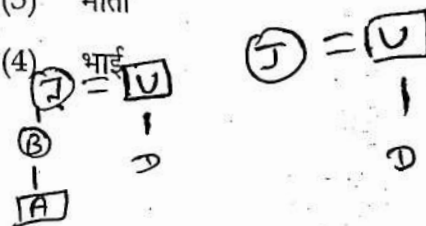
- I. 'L', 'K' के बायीं ओर तीसरे स्थान पर है और 'J', 'L' के दायीं ओर दूसरे स्थान पर है।
II. 'K', 'N' के एकदम बायीं ओर है जो 'J' के दायीं ओर दूसरे स्थान पर है।

- (1) कथन-I और कथन-II दोनों, मिलकर प्रश्न का उत्तर देने के लिए आवश्यक हैं।
(2) या तो कथन-I अकेले अथवा कथन-II अकेले प्रश्न का उत्तर देने के लिए पर्याप्त है।
(3) कथन-I अकेले प्रश्न का उत्तर देने के लिए पर्याप्त है जबकि कथन-II अकेले प्रश्न का उत्तर देने के लिए पर्याप्त नहीं है।
(4) कथन II, अकेले प्रश्न का उत्तर देने के लिए पर्याप्त है जबकि कथन-I अकेले प्रश्न का उत्तर देने के लिए पर्याप्त नहीं है।

16. 'M+Q' का अर्थ है कि 'M', 'Q' की पत्नी है;
'M-Q' का अर्थ है कि 'M', 'Q' का पिता है;
'M×Q' का अर्थ है कि 'M', 'Q' की पुत्री है;
'M÷Q' का अर्थ है कि 'M', 'Q' का पुत्र है।

यदि $A \div B \times J + U - D$ है तो 'B' का 'D' से क्या संबंध है?

- (1) बहन
(2) चाची
(3) माता
(4) भाई



17. Two statements labelled as Assertion (A) and Reason (R) are given. Consider both the statements carefully.

Assertion (A) : Fake news spread in world has become a serious problem.

Reason (R) : The internet is source of all fake news.

Select correct answer with the help of code.

- (1) (A) is false but (R) is true.
- (2) (A) is true but (R) is false.
- (3) Both (A) and (R) are true and (R) is the correct explanation of (A).
- (4) Both (A) and (R) are true but (R) is not the correct explanation of (A).

18. Three statements are given, followed by three conclusions numbered I, II and III. Assuming the statements to be true, even if they seem to be at variance with commonly known facts, decide which of the conclusions logically follow(s) from the statements.

Statements :

1. All pinks are scarlets.
2. Some scarlets are blues.
3. No blue is brown.

Conclusions :

- I. Some browns are blues.
 - II. No pink is brown.
 - III. Some scarlets are pinks.
- (1) Only conclusion I follows.
 - (2) Only conclusion III follows.
 - (3) Only conclusions I and II follow.
 - (4) Only conclusions II and III follow.

17. नीचे दो कथन दिए गए हैं और उन्हें अभिकथन (A) और तर्क (R) के रूप में दर्शाया गया है। दोनों कथनों पर ध्यान से विचार कीजिए।

अभिकथन (A) : विश्व में झूठी खबर फैलना एक गंभीर समस्या बन गई है।

तर्क (R) : इंटरनेट सभी झूठी खबरों का स्रोत है।

नीचे दिए गए कूट की सहायता से सही उत्तर का चयन करें।

- (1) (A) गलत है किन्तु (R) सही है।
- (2) (A) सही है किन्तु (R) गलत है।
- (3) (A) और (R) दोनों सही हैं और (R), (A) की सही व्याख्या है।
- (4) (A) और (R) दोनों सही हैं किन्तु (R), (A) की सही व्याख्या नहीं है।

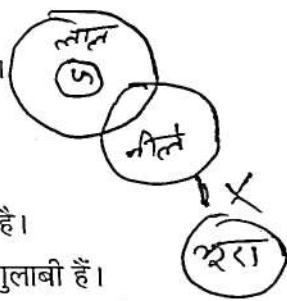
18. नीचे तीन कथन दिए गए हैं जिनके बाद तीन निष्कर्ष I, II और III दिए गए हैं। आपको दिए गए कथनों को सही मानना है चाहे वे सामान्य ज्ञात तथ्यों से भिन्न क्यों न हों। आप निर्णय कीजिए कि दिए गए निष्कर्षों में से कौन सा/से कथनों से तार्किक रूप से निकलता है/हैं?

कथन :

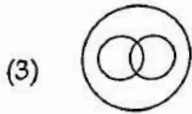
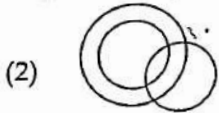
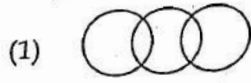
1. सभी गुलाबी, लाल रंग (लोहित) हैं।
2. कुछ लाल रंग, नीले हैं।
3. कोई भी नीला भूरा नहीं है।

निष्कर्ष :

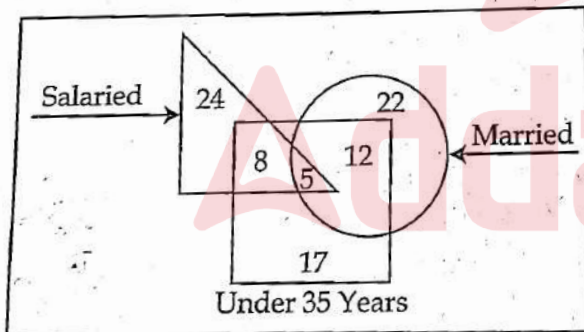
- I. कुछ भूरे नीले हैं।
 - II. कोई भी गुलाबी भूरा नहीं है।
 - III. कुछ लाल रंग (लोहित) गुलाबी हैं।
- (1) केवल निष्कर्ष I निकलता है।
 - (2) केवल निष्कर्ष III निकलता है।
 - (3) केवल निष्कर्ष I और II निकलते हैं।
 - (4) केवल निष्कर्ष II और III निकलते हैं।



19. Which of the following Venn diagram represents the best relationship between Teachers, Sisters, Females ?



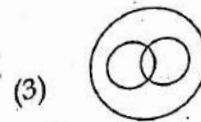
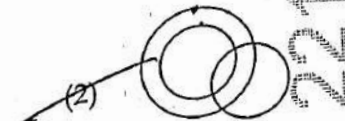
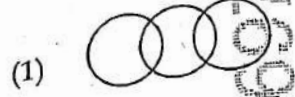
20. Study the given diagram carefully and answer the question. The numbers in different sections indicate the number of persons.



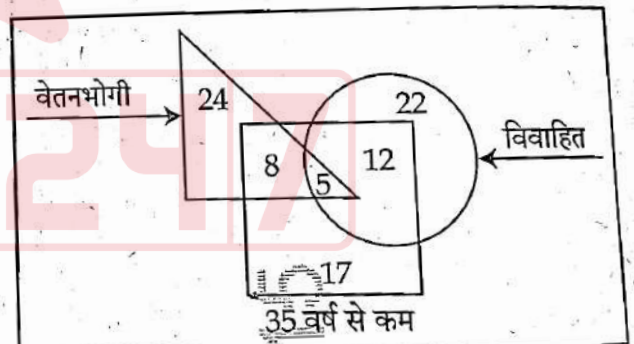
How many 'Under 35 years' people are 'Salaried' but not 'Married' ?

- (1) 12
(2) 13
(3) 5
(4) 8

19. निम्नलिखित में से कौन सा वेन आरेख निम्नलिखित के बीच सर्वोत्तम संबंध को निरूपित करता है ?
अध्यापक, बहनें, महिलाएं



20. नीचे दिए गए आरेख का ध्यानपूर्वक अध्ययन करें और प्रश्न का उत्तर दें। विभिन्न खंडों में दी गई संख्या व्यक्तियों की संख्या को इंगित करती हैं।



'35 वर्ष से कम' ऐसे कितने व्यक्ति हैं जो 'वेतनभोगी' तो हैं किंतु 'विवाहित' नहीं हैं ?

- (1) 12
(2) 13
(3) 5
(4) 8



21. A statement is given followed by four conclusions numbered I, II, III and IV. Assuming the statement to be true, decide which of the conclusions is/are definitely true.

Statement : $C = R > D \leq E = K > P$

Conclusions :

I. $C > D$

II. $K \leq D$

III. $P < E$

IV. $E \geq R$

- (1) Only conclusions II and IV are true.
- (2) Only conclusion IV is true.
- (3) Only conclusions I and II are true.
- (4) Only conclusions I and III are true.

22. There is a family of six members D, K, L, M, N and P. They are Lecturer, Artist, Businessman, Executive, NGO worker and Singer but not necessarily in the same order. There are two married couples. 'N', a Lecturer, is married to the Artist who is the mother of 'L' and 'P'. 'P' is pursuing singing. 'D' has one son and one grandson who is an Executive. 'K', the Businessman, is married to 'D'. Of the two married ladies, one is a NGO worker.

Which of the following statements is true?

- (1) 'M' is the Artist.
- (2) 'L' is son of 'D' and 'K'.
- (3) 'K' is the wife of 'D'.
- (4) 'M' is the Executive.

21. एक कथन दिया गया है जिसके बाद चार निष्कर्ष I, II, III और IV दिए गए हैं। कथन को सत्य मानते हुए यह निर्णय कीजिए कि दिए गए निष्कर्षों में से कौन सा/से निष्कर्ष निश्चित रूप से सत्य है/हैं?

कथन : $C = R > D \leq E = K > P$

निष्कर्ष :

I. $C > D$

II. $K \leq D$

III. $P < E$

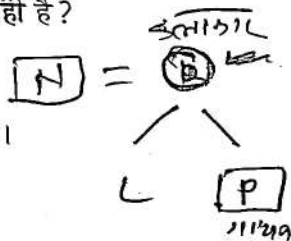
IV. $E \geq R$

- (1) केवल निष्कर्ष II और IV सत्य हैं।
- (2) केवल निष्कर्ष IV सत्य है।
- (3) केवल निष्कर्ष I और II सत्य हैं।
- (4) केवल निष्कर्ष I और III सत्य हैं।

22. छह सदस्यों D, K, L, M, N और P वाला एक परिवार है। वे व्याख्याता, कलाकार, कारोबारी, प्रशासक, एनजीओ कार्यकर्ता और गायक हैं किंतु वे इसी क्रम में हो ऐसा आवश्यक नहीं है। दो विवाहित जोड़े हैं। व्याख्याता 'N' की शादी एक कलाकार से हुई है जो 'L' और 'P' की माता है। 'P' गायन की पढ़ाई कर रहा है। 'D' का एक पुत्र और एक पोता है जो एक प्रशासक है। 'K' एक कारोबारी है जिसका विवाह 'D' से हुआ है। दो विवाहित महिलाओं में से एक एनजीओ कार्यकर्ता है।

निम्नलिखित में से कौन सा कथन सही है?

- (1) 'M' एक कलाकार है।
- (2) 'L', 'D' तथा 'K' का पुत्र है।
- (3) 'K', 'D' की पत्नी है।
- (4) 'M' एक प्रशासक है।

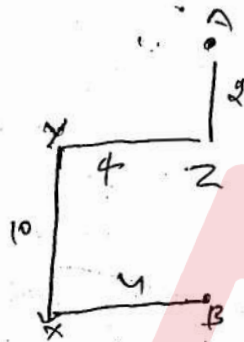


$K = D$



23. Lakshmi starts from point 'A' and travels 2 km Southwards to a point 'Z' and then turns right and travels twice that distance to reach 'Y'. She then turns left and travels five times the distance she covered between point 'A' and 'Z' and reaches point 'X'. From there she turns left and travels 4 km to reach destination 'B'. What is the shortest distance between the points 'A' and 'B' and what is B's direction with respect to 'A'?

- (1) 8 km, North
(2) 8 km, South
(3) 12 km, North
(4) 12 km, South



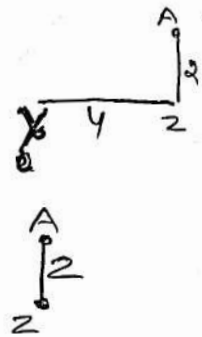
24. Seven children K, L, P, R, T, X and Y are sitting on a straight bench facing towards North. 'X' is sitting immediately left of 'Y'. 'T' is the immediate neighbour of 'R' and 'P'. Neither 'X' nor 'Y' are the immediate neighbours of 'L'. 'P' is sitting second to the left of 'L'.

Who is sitting at the second position from the right end?

- (1) K
(2) P
(3) R
(4) T

23. लक्ष्मी 'A' बिन्दु से चलना शुरू करती है और दक्षिण की ओर 2 कि.मी. चलकर 'Z' बिन्दु पर पहुँचती है और फिर दायीं ओर घूमती है तथा पहली बार चली गयी दूरी को दोगुनी दूरी तय करके 'Y' बिन्दु पर पहुँचती है। इसके बाद वह बायीं ओर घूमती है तथा 'A' और 'Z' बिन्दु के बीच तय की गई दूरी की पाँच गुना दूरी तय करके 'X' बिन्दु पर पहुँचती है। वहाँ से वह बायीं ओर घूमती है और 4 कि.मी. चलकर 'B' गन्तव्य तक पहुँचती है। 'A' और 'B' बिन्दुओं के बीच न्यूनतम दूरी कितनी है तथा 'A' से 'B' किस दिशा में है?


- (1) 8 कि.मी., उत्तर
(2) 8 कि.मी., दक्षिण
(3) 12 कि.मी., उत्तर
(4) 12 कि.मी., दक्षिण



24. सात बालक K, L, P, R, T, X और Y एक सीधी बेंच पर उत्तर की ओर मुँह करके बैठे हैं। 'X', 'Y' के एकदम बायीं ओर बैठा है। 'T', 'R' और 'P' का निकटतम पड़ोसी है। 'X' और 'Y' 'L' के एक निकटतम पड़ोसी नहीं हैं। 'P', 'L' के बायीं ओर दूसरे स्थान पर बैठा है।

दायीं ओर से दूसरे स्थान पर कौन बैठा है?

- (1) K
(2) P
(3) R
(4) T



22169715

25. Three statements are given, followed by four conclusions numbered I, II, III and IV. Assuming the statements to be true, even if they seem to be at variance with commonly known facts, decide which of the conclusions logically follow(s) from the statements ?

Statements :

1. All boats are fishes.
2. Some fishes are rivers.
3. Some rivers are sailors.

Conclusions :

- I. Some sailors are fishes.
 - II. Some boats are sailors.
 - III. Some rivers are boats.
 - IV. Some fishes are boats.
- (1) Only conclusion IV follows.
 - (2) Only conclusions I, II and IV follow.
 - (3) Only conclusions I and II follow.
 - (4) Only conclusions II and III follow.

26. If North becomes South-West, then what will West become ?

- (1) North-West
- (2) South-East
- (3) East
- (4) North-East

25. नीचे तीन कथन दिए गए हैं जिनके बाद चार निष्कर्ष I, II, III और IV दिए गए हैं। आपको कथनों को सही मानना है चाहे वे सामान्य ज्ञात तथ्यों से भिन्न क्यों न हों। और अब निर्णय कीजिए कि दिए गए निष्कर्षों में से कौन सा/से कथनों से तार्किक रूप से निकलता है/हैं ?

कथन :


1. सभी नावें मछलियाँ हैं।
2. कुछ मछलियाँ नदियाँ हैं।
3. कुछ नदियाँ नाविक हैं।

निष्कर्ष :

- I. कुछ नाविक मछलियाँ हैं।
 - II. कुछ नावें नाविक हैं। ✗
 - III. कुछ नदियाँ नावें हैं। ✗
 - IV. कुछ मछलियाँ नावें हैं।
- (1) केवल निष्कर्ष IV निकलता है।
 - (2) केवल निष्कर्ष I, II और IV निकलते हैं।
 - (3) केवल निष्कर्ष I और II निकलते हैं ✗
 - (4) केवल निष्कर्ष II और III निकलते हैं। ✗

26. यदि 'उत्तर', 'दक्षिण-पश्चिम' हो जाता है तो 'पश्चिम' क्या हो जाएगा ?

- (1) उत्तर-पश्चिम
- (2) दक्षिण-पूर्व
- (3) पूर्व
- (4) उत्तर-पूर्व



27. Two statements labelled as Assertion (A) and Reason (R) are given. Consider both the statements carefully.

Assertion (A) : India has the potential to make its Handicrafts industry a very flourishing sector.

Reason (R) : India is a home to a very large number of craft forms including textiles.

Select correct answer with the help of code.

- (1) (A) is false but (R) is true.
- (2) (A) is true but (R) is false.
- (3) Both (A) and (R) are true and (R) is the correct explanation of (A).
- (4) Both (A) and (R) are true but (R) is not the correct explanation of (A).

28. A patient has been given a medicine schedule. There are eight medicine capsules. S, T, U, V, W, X, Y and Z. Which have to be taken each day based on the following conditions :

- (i) Capsule 'S' must be taken sometimes before 'T' and 'W'.
- (ii) 'T' must be taken immediately before 'V'.
- (iii) Fourth capsule must be 'U'.
- (iv) 'Y' must be taken immediately before 'X'.
- (v) 'Z' must be taken immediately after 'W'.
- (vi) 'Y' is the first capsule to be taken.

Which of the following statements is false ?

- (1) The sixth capsule must be 'V'.
- (2) 'T' is taken immediately after 'S'.
- (3) 'X' is taken before 'S'.
- (4) 'U' must be taken between 'S' and 'T'.

27.

नीचे दो कथन दिए गए हैं जिन्हें अभिकथन (A) और तर्क (R) के रूप में दर्शाया गया है। दोनों कथनों पर ध्यान से विचार कीजिए।

अभिकथन (A) : भारत के पास अपने हस्तशिल्प उद्योग को एक उन्नतिशील क्षेत्र बनाने की क्षमता है।

तर्क (R) : भारत में वस्त्र निर्माण सहित बहुत बड़ी संख्या में शिल्प उद्योग हैं।

नीचे दिए गए कूट की सहायता से सही उत्तर का चयन करें।

- (1) (A) गलत है परन्तु (R) सही है।
- (2) (A) सही है परन्तु (R) गलत है।
- (3) (A) और (R) दोनों सही हैं और (R), (A) की सही व्याख्या है।
- (4) (A) और (R) दोनों सही हैं किन्तु (R), (A) की सही व्याख्या नहीं है।

28.

एक मरीज को एक दवा तालिका दी गई। इसमें आठ दवा कैप्सूल - S, T, U, V, W, X, Y और Z हैं। जो निम्नलिखित शर्तों के आधार पर प्रत्येक दिन लिए जाने हैं :

- (i) कैप्सूल 'S' को 'T' और 'W' से पहले कभी भी लिया जाए;
- (ii) 'T' को 'V' से तत्काल पहले लिया जाए;
- (iii) चौथा कैप्सूल 'U' होना चाहिए;
- (iv) 'Y' को 'X' के तत्काल पहले लिया जाए;
- (v) 'Z' को 'W' के तत्काल बाद लिया जाए;
- (vi) 'Y' कैप्सूल सबसे पहले लिया जाए।

निम्नलिखित में से कौन सा कथन गलत है?

- (1) छठा कैप्सूल 'V' होना चाहिए
- (2) 'T' को 'S' के तत्काल बाद लिया जाता है
- (3) 'X' को 'S' से पहले लिया जाता है
- (4) 'U' को 'S' और 'T' के बीच लिया जाना चाहिए



Y
U S T W X Z
C T W S C

29. Sudha is the wife of Anand. Kavita is the mother of Gaurav. Anu is the daughter of Ravi, who is the brother of Aryan. Anu's mother Kavita is the daughter-in-law of Anand. How is Sudha related to Aryan?

- (1) Paternal grandmother
- (2) Maternal grandmother
- (3) Sister
- (4) Mother

30. Select the letter cluster that will replace the question mark (?) in the following series

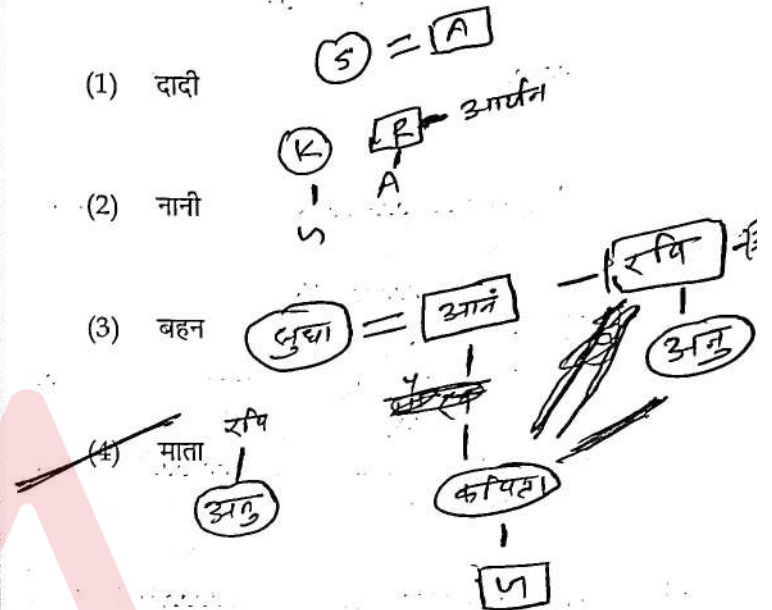
BVU, ZXQ, XZM, VBI, TDE, ?

- (1) FAR
- (2) FRA
- (3) RAF
- (4) RFA

26
24
18
17
2
22
21
45
26

29. सुधा, आनंद की पत्नी है। कविता, गौरव की माता है। अनु, रवि की पुत्री है जो आर्यन का भाई है। अनु की माता कविता, आनंद की पुत्रवधू है। सुधा का आर्यन से क्या संबंध है?

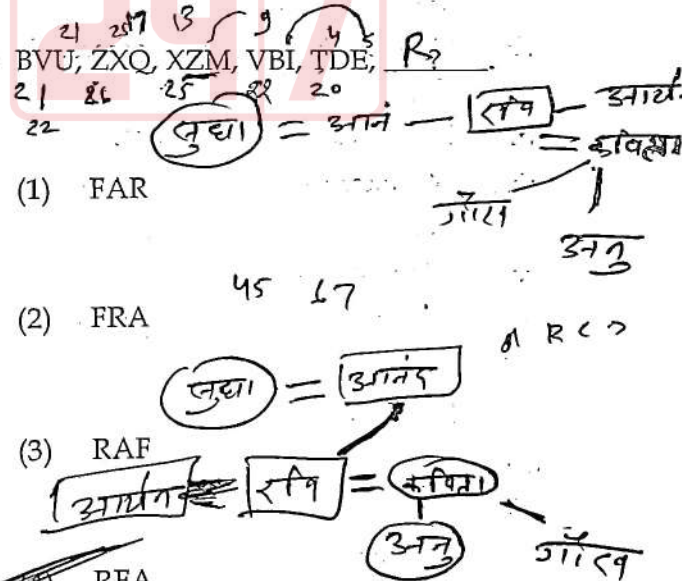
- (1) दादी
- (2) नानी
- (3) बहन
- (4) माता



30. निम्नलिखित श्रृंखला में प्रश्न चिह्न (?) के स्थान पर आने वाले अक्षर समूह का चयन करें।

BVU, ZXQ, XZM, VBI, TDE, ?

- (1) FAR
- (2) FRA
- (3) RAF
- (4) RFA



PART - III / भाग - III
KNOWLEDGE OF ICT / ICT का ज्ञान

31. McAfee Plus is an example of :

- (1) Open source software
- (2) Programming Language
- (3) Anti-virus
- (4) Application software

32. Which of the following software you preferred most to design an animated multimedia presentation on the topic 'Benefits of Renewable Energies' ?

- (1) Microsoft Excel
- (2) Microsoft PowerPoint
- (3) Microsoft Edge
- (4) Microsoft Word

33. Which of the following cloud storage service owned by Microsoft ?

- (1) Floppy Drive
- (2) Google Drive
- (3) iCloud
- (4) One Drive

31. मैकैफी प्लस (McAfee Plus) किसका एक उदाहरण है ?

- (1) ओपन सोर्स सॉफ्टवेयर (Open source software)
- (2) प्रोग्रामिंग लैंग्वेज (Programming Language)
- (3) एंटी वायरस (Anti-virus)
- (4) एप्लीकेशन सॉफ्टवेयर (Application software)

32. 'बेनिफिट्स ऑफ रिन्यूएबल एनर्जीज' विषय पर एक एनीमेटेड मल्टीमीडिया प्रेजेंटेशन डिजाइन करने के लिए आप निम्नलिखित में से कौन से सॉफ्टवेयर को सर्वाधिक प्राथमिकता देंगे ?

- (1) माइक्रोसॉफ्ट एक्सेल (Microsoft Excel)
- (2) माइक्रोसॉफ्ट पावरप्वॉइंट (Microsoft PowerPoint)
- (3) माइक्रोसॉफ्ट एज (Microsoft Edge)
- (4) माइक्रोसॉफ्ट वर्ड (Microsoft Word)

33. माइक्रोसॉफ्ट के स्वामित्व वाली क्लाउड स्टोरेज सर्विस निम्नलिखित में से कौन सी है ?

- (1) Floppy Drive
- (2) Google Drive
- (3) iCloud
- (4) One Drive



34. Out of the following options, the most popular combination of shortcut keys to Copy Some selected text in most of the MS windows applications is :
- (1) Ctrl + P
 - (2) Ctrl + X
 - (3) Ctrl + C
 - (4) Ctrl + O
35. The power backup device, UPS, stands for :
- (1) Uninterruptible Power Supply
 - (2) Uninterruptible Power System
 - (3) Under-control Power System
 - (4) Under-controlled Power Supply
36. Which of the following is not a source of the virus entering your system ?
- (1) Pen drive
 - (2) Printouts
 - (3) Email attachment
 - (4) Hard Disk
37. Which of the following does not come under cyber-crime under IT Act 2000 ?
- (1) Misusing personal information over internet
 - (2) Using fake email messages to get personal information
 - (3) Stealing monitor from a store
 - (4) Distributing child pornography over internet
34. अधिकांश एम एस विंडोज (MS windows) एप्लीकेशन में कुछ सेलेक्टेड टेक्स्ट को 'कापी' करने के लिए निम्नलिखित विकल्पों में से सर्वाधिक लोकप्रिय 'शार्ट-कट की' संयोजन कौन-सा है ?
- (1) Ctrl + P
 - (2) Ctrl + X
 - ~~(3)~~ Ctrl + C
 - (4) Ctrl + O
35. पावर बैकअप उपकरण यूपीएस (UPS) का अर्थ है :
- (1) Uninterruptible Power Supply
 - (2) Uninterruptible Power System
 - (3) Under-control Power System
 - ~~(4)~~ Under-controlled Power Supply
36. निम्नलिखित में से कौन सा हमारे सिस्टम में वायरस के आने का एक स्रोत नहीं है ?
- (1) पेन ड्राइव (Pen drive)
 - ~~(2)~~ प्रिंटआउट्स (Printouts)
 - (3) ई-मेल अटैचमेंट (Email attachment)
 - (4) हार्ड डिस्क (Hard Disk)
37. निम्नलिखित में से कौन सा आई टी एक्ट-2000 के अंतर्गत एक साइबर अपराध नहीं है ?
- (1) इंटरनेट पर व्यक्तिगत जानकारी का दुरुपयोग करना
 - ~~(2)~~ व्यक्तिगत जानकारी प्राप्त करने के लिए नकली ई-मेल (fake email) मैसेज का प्रयोग करना
 - (3) किसी स्टोर से मॉनीटर चुराना
 - (4) इंटरनेट पर बाल अश्लील साहित्य (pornography) वितरित करना



38. Which of the following groups of devices are only input devices ?

- (1) Keyboard, Printer, Light Pen
- (2) Joystick, Microphone, Scanner
- (3) Mouse, Monitor, Joystick
- (4) Mouse, Microphone, Speaker

39. Which type of network we create when we connect two smartphones to transfer some photos through Bluetooth ?

- (1) PAN
- (2) LAN
- (3) MAN
- (4) WAN

40. Which of the following is an example of an Operating System ?

- (1) Word
- (2) Windows
- (3) Bing
- (4) Edge

38. निम्नलिखित में से उपकरणों का कौन सा समूह केवल इनपुट डिवाइस (उपकरण) है ?

- (1) की-बोर्ड, प्रिन्टर, लाइट पेन (Keyboard, Printer, Light Pen)
- (2) जॉयस्टिक, माइक्रोफोन, स्कैनर (Joystick, Microphone, Scanner)
- (3) माउस, मॉनीटर, जॉयस्टिक (Mouse, Monitor, Joystick)
- (4) माउस, माइक्रोफोन, स्पीकर (Mouse, Microphone, Speaker)

39. जब हम ब्लूटूथ (Bluetooth) के माध्यम से कुछ फोटों भेजने के लिए दो स्मार्टफोन को आपस में कनेक्ट करते हैं तो किस प्रकार के नेटवर्क को बनाते हैं ?

- (1) पी ए एन (PAN)
- (2) एल ए एन (LAN)
- (3) एम ए एन (MAN)
- (4) डब्ल्यू ए एन (WAN)

40. निम्नलिखित में से कौन सा ऑपरेटिंग सिस्टम (Operating System) का एक उदाहरण है ?

- (1) वर्ड (Word)
- (2) विंडोज (Windows)
- (3) बिंग (Bing)
- (4) एज (Edge)



PART - IV / भाग - IV
TEACHING APTITUDE / शिक्षण अभिवृत्ति

41. Effective teaching, by and large, is a function of :
- (1) teacher's positive attitude towards teaching.
 - (2) teacher's ability to make students learn.
 - (3) teacher's honesty.
 - (4) teacher's scholarship.
42. Which of the following is not an example of 'Assessment of Learning' ?
- (1) Scholarship Examination
 - (2) Anecdotal Records
 - (3) Annual Examination
 - (4) Assessment of Homework
43. If students are not taking interest in their studies, the teacher should :
- (1) file a complaint with the principal and parents and seek their indulgence.
 - (2) find out causes for lack of interest and take corrective measures.
 - (3) ask them as to why are they not taking interest in their studies.
 - (4) tell them that taking interest in their studies would lead to good result.
44. Which one of the following is not associated with a unit test ?
- (1) Totally controlled by the teacher
 - (2) Used for Remedial purpose
 - (3) Standardized Achievement Tests
 - (4) Confined to limited number of competencies
41. मुख्यतः प्रभावी शिक्षण किसका प्रकार्य है ?
- (1) शिक्षक की शिक्षण के प्रति सकारात्मक अभिवृत्ति
 - (2) विद्यार्थियों में अधिगम करा पाने की योग्यता
 - (3) शिक्षक की निष्ठा ×
 - (4) शिक्षक का पांडित्य ×
42. निम्नांकित में से कौनसा 'अधिगम के आकलन' का उदाहरण नहीं है ?
- (1) छात्रवृत्ति परीक्षण
 - (2) संचयी अभिलेख
 - (3) वार्षिक परीक्षा
 - (4) गृहकार्य का आकलन
43. यदि विद्यार्थी अपनी पढ़ाई में रुचि नहीं ले रहे हैं तो शिक्षक को :
- (1) प्राचार्य और उनके माता-पिता से शिकायत करें और उनकी मध्यस्थता की मांग करें।
 - (2) उनकी पढ़ाई में रुचि न लेने के कारणों का पता लगाकर सुधारात्मक कार्रवाई करें।
 - (3) उनसे पूछना चाहिए कि वे पढ़ाई में रुचि क्यों नहीं ले रहे हैं।
 - (4) उन्हें समझाना चाहिए कि पढ़ाई में ध्यान देने से अच्छे परिणाम प्राप्त होंगे।
44. निम्नांकित में से कौन सा एक इकाई परीक्षण से संबंधित नहीं है ?
- (1) शिक्षक द्वारा पूर्णतः नियंत्रित
 - (2) उपचारात्मक कार्य हेतु प्रयुक्त
 - (3) मानकीकृत संप्राप्ति परीक्षण
 - (4) दक्षताओं की सीमित संख्या तक परिरोधन



45. Which one of the following is not a characteristic of teacher centred approach ?

- (1) Enough scope for discussion and debate is available.
- (2) Courses prescribed can be completed in time.
- (3) Large sized classes are handled very well.
- (4) Unfamiliar or abstract concepts are directly explained by the teacher.

46. Mohan can now think in terms of propositions and deal with propositions instead of objects. He deals with sum total of possibilities rather than empirical situation. He takes final steps towards versatility in thought.

Mohan is at which stage of Piaget's model ?

- (1) Concrete operations stage
- (2) Formal operations stage
- (3) Pre-operational stage
- (4) Sensory-motor stage

47. The ASSURE model of integration of ICT in the learning process has the components :

- (1) Analyse the content, state the aim, select method and materials and evaluate.
- (2) Analyse the learners, state the aim, select the method and materials and extend.
- (3) Analyse learners, state the objectives, select the media and materials and evaluate.
- (4) Activity, state the objectives, support and extend.

45. शिक्षक केन्द्रित उपागम की निम्नलिखित में से कौन सी विशेषता नहीं है ?

- (1) चर्चा और वाद-विवाद का पर्याप्त अवसर होता है।
- (2) विहित पाठ्यवस्तुओं को समय पर पूरा किया जा सकता है।
- (3) बड़े आकार की कक्षाएँ अच्छी प्रकार संचालित हो जाती हैं।
- (4) अपरिचित और अमूर्त प्रत्यय शिक्षक द्वारा सीधे-सीधे व्याख्यायित किए जाते हैं।

46. मोहन अब योजनाओं के बारे में सोच सकता है और वस्तुओं की अपेक्षा योजनाओं से व्यवहार कर सकता है। वह प्रयोगों पर आधारित के बजाय संभावनाओं के समुच्चय से व्यवहार करता है। वह विचार में उत्कृष्टता की ओर कदम उठाता है।

मोहन, पियाजे के प्रतिमान के आधार पर किस स्तर पर है ?

- (1) मूर्त संक्रियात्मक अवस्था
- (2) अमूर्त संक्रियात्मक अवस्था
- (3) पूर्व-संक्रियात्मक अवस्था
- (4) इन्द्रिय-जनित गामक अवस्था

47. अधिगम प्रक्रिया में सूचना और संप्रेषण प्रौद्योगिकी के समन्वय के ASSURE प्रतिमान के अवयव हैं :

- (1) विषयवस्तु का विश्लेषण, लक्ष्य निर्धारण, विधि और सामग्री का चयन और मूल्यांकन।
- (2) अधिगमकर्त्ताओं का विश्लेषण, लक्ष्य निर्धारण, विधि और सामग्री का चयन और विस्तार।
- (3) अधिगमकर्त्ताओं का विश्लेषण, उद्देश्यों का निरूपण, माध्यम और सामग्री का चयन और मूल्यांकन।
- (4) क्रिया, उद्देश्यों का निरूपण, प्रोत्साहन और विस्तार।



48. Which characteristic does not belong to Adolescence stage ?
- (1) A period of intense emotions
 - (2) Highly critical of social evils and injustice
 - (3) Pronounced group loyalty
 - (4) Forming groups among members of same sex
49. What should not be a role of a teacher in the construction of knowledge by students ?
- (1) Focussing on realistic approaches to solve real world problems
 - (2) Discouraging self analysis and self assessment
 - (3) Being sensitive to the previous experience of each and every student in the class
 - (4) Supporting cooperative and collaborative learning in the classroom
50. What is not an advantage of Discovery method ?
- (1) It provides training to prepare students for life.
 - (2) It develops self confidence and self reliance.
 - (3) This method is suitable for the students of lower classes.
 - (4) It develops scientific and critical attitude among students.
48. किशोरों में कौन सी विशेषता नहीं पाई जाती है ?
- (1) तीव्र संवेगों का समय ✓
 - (2) सामाजिक बुराइयों व अन्याय के प्रति विशेष रूप से दोष दर्शन ✓
 - (3) उत्कृष्ट समूह प्रतिबद्धता
 - ~~(4) समान लिंग के व्यक्तियों के साथ समूहन~~
49. विद्यार्थियों द्वारा ज्ञान की संरचना कराने में शिक्षक की कौन सी भूमिका नहीं होनी चाहिए ?
- (1) वास्तविक विश्व की समस्याओं के समाधान हेतु वास्तविक उपागमों पर केन्द्रीकरण
 - ~~(2) स्वविश्लेषण व स्वआकलन को हतोत्साहित करना~~
 - (3) कक्षा के प्रत्येक विद्यार्थी के पूर्वानुभव के प्रति संवेदनशीलता
 - (4) कक्षा-कक्ष में सहयोगी एवं सहभागितापूर्ण अधिगम को संबल प्रदान करना
50. खोज विधि से कौन सा लाभ नहीं होता है ?
- (1) यह विद्यार्थियों को जीवन के लिए तैयार होने की प्रशिक्षण प्रदान करती है।
 - (2) इसके द्वारा आत्मविश्वास और आत्मनिर्भरता का विकास होता है।
 - ~~(3) यह विधि छोटी कक्षाओं के विद्यार्थियों के लिए उपयोगी है।~~
 - (4) इसके द्वारा विद्यार्थियों में वैज्ञानिक और समालोचनात्मक अभिवृत्ति का विकास होता है।



PART - V / भाग - V
HISTORY / इतिहास

51. Which one of the following was not an officially maintained record of the British ?
- (1) Gazetteers
 - (2) Constituent Assembly Debates Records
 - (3) Census Records
 - (4) Report on the Native Newspapers
52. Given below are two statements one labelled as Assertion (A) and the other labelled as Reason (R).
- Assertion (A) :**
Ghiyasuddin Tughlaq granted exemptions to Khots and Muqaddams in the land revenue.
- Reason (R) :**
Ghiyasuddin Tughlaq wanted an active support of the Hindu aristocrats to curb the power of the old Muslim elite.
- In the context of the above statements which of the following is correct ?
- (1) (A) is correct but (R) is not correct.
 - (2) (A) is not correct but (R) is correct.
 - (3) Both (A) and (R) are correct and (R) is the correct explanation of (A).
 - (4) Both (A) and (R) are correct but (R) is not the correct explanation of (A).
3. Related to textile craft, was the indigo crop and the extraction of the dye from the stalk and leaves of the plant. Who describes the earliest method of indigo extraction ?
- (1) Isami
 - (2) Barani
 - (3) Ibn Battuta
 - (4) Marco Polo
51. निम्नलिखित में से कौन सा ब्रिटिशों द्वारा अनुरक्षित एक सरकारी रिकार्ड नहीं था ?
- (1) गजटियर्स
 - (2) कॉन्स्टिट्यूटेंट असेम्बली डिबेट्स रिकार्ड्स
 - (3) सेंसस रिकार्ड्स
 - (4) रिपोर्ट ऑन दि नेटिव न्यूजपेपर्स
52. नीचे दिये दो वक्तव्य में से एक को कथन (A) तथा दूसरे को कारण (R) कहा गया है।
- कथन (A) :**
✓ गियासुद्दीन तुगलक ने खोत तथा मुकदमों को भू-राजस्व में रियायतें दीं।
- कारण (R) :**
गियासुद्दीन तुगलक पुराने मुस्लिम कुलीन वर्ग की शक्ति पर अंकुश लगाने के लिये हिन्दु कुलीन वर्ग का सक्रिय समर्थन चाहता था।
- उपर्युक्त वक्तव्यों के संदर्भ में निम्नलिखित में से कौन सा सही है ?
- (1) (A) सही है परन्तु (R) गलत है।
 - (2) (A) गलत है परन्तु (R) सही है।
 - (3) (A) और (R) दोनों सही हैं और (R), (A) का सही स्पष्टीकरण है।
 - (4) (A) और (R) दोनों सही हैं परन्तु (R), (A) का सही स्पष्टीकरण नहीं है।
53. कपड़ा शिल्प का सम्बन्ध नील की फसल से था और नील के पौधे के डंढलों और पत्तों से नील का निष्कर्षण होता था। किसने इस निष्कर्षण की प्रारंभिक विधि का वर्णन किया है ?
- (1) इसामी
 - (2) बरनी
 - (3) इब्न बतूता
 - (4) मार्को पोलो



54. Match List-I with List-II and find the correct answer from the code given below.

List-I (Rebellion)	List-II (Year(s))
(a) Ahom	(i) 1831-32
(b) Kol	(ii) 1855-56
(c) Santhal	(iii) 1921
(d) Moplah	(iv) 1828

Code :

(a)	(b)	(c)	(d)
(1) (ii) (iii) (iv) (i)			
(2) (i) (iv) (iii) (ii)			
(3) (iii) (ii) (i) (iv)			
(4) (iv) (i) (ii) (iii)			

54. सूची-I को सूची-II से सुमेलित कीजिए तथा नीचे दिये गये कूट से सही उत्तर का चयन कीजिये।

सूची-I (विद्रोह)	सूची-II (वर्ष)
(a) अहोम	(i) 1831-32
(b) कोल	(ii) 1855-56
(c) संथाल	(iii) 1921
(d) मोपलाह	(iv) 1828

कूट :

(a)	(b)	(c)	(d)
(1) (ii) (iii) (iv) (i)			
(2) (i) (iv) (iii) (ii)			
(3) (iii) (ii) (i) (iv)			
(4) (iv) (i) (ii) (iii)			

55. In his 'Account of the Twelve Provinces' Abul Fazl provides detailed area statistics of all North Indian provinces. The record of which among the following provinces is/are not recorded by Abul Fazl in this ?

- (i) Bengal
- (ii) Thatta
- (iii) Kashmir
- (iv) Lahore

Choose the correct answer from the code given below :

- (1) (iii) and (iv) only
- (2) (i), (ii) and (iii) only
- (3) (iv) only
- (4) (i) and (iv) only

55. अबुल फजल ने अपने 'बारह-प्रांतों का वृत्तांत', में सभी उत्तर भारतीय प्रांतों का विस्तृत क्षेत्रीय सांख्यिकीय व्यौरा दिया है। इसमें अबुल फजल द्वारा कौन से प्रांत/प्रांतों का रिकार्ड शामिल नहीं किया गया है ?

- (i) बंगाल
- (ii) थट्टा
- (iii) कश्मीर
- (iv) लाहौर

नीचे दिए गए कूट से सही उत्तर का चयन कीजिए :

- (1) केवल (iii) और (iv)
- (2) केवल (i), (ii) और (iii)
- (3) केवल (iv)
- (4) केवल (i) और (iv)



56. Who introduced the permanent settlement in Bengal ?

- (1) Lord Charles Cornwallis
- (2) Lord Richard Wellesley
- (3) Warren Hastings
- (4) Sir John Shore

57. Match the following List-I with List-II.

List-I (Authors)	List-II (Their Works)
(a) Margaret Chatterjee	(i) <i>Gandhi's Political Philosophy</i>
(b) Gangeya Mukherji	(ii) <i>Gandhi's Truth</i>
(c) Bhikhu Parekh	(iii) <i>Gandhi and Tagore : Politics, Truth and Conscience</i>
(d) Eric H. Erickson	(iv) <i>Gandhi and His Jewish Friends</i>

Choose the correct answer from the options given below :

- | | | | |
|-----------|-------|------|-------|
| (a) | (b) | (c) | (d) |
| (1) (iii) | (iv) | (ii) | (i) |
| (2) (ii) | (iii) | (i) | (iv) |
| (3) (ii) | (i) | (iv) | (iii) |
| (4) (iv) | (iii) | (i) | (ii) |

58. Which book was smuggled into India wrapped in a cover labelled *Random Papers of the Pickwick Club* ?

- (1) Edward J. Thompson's *The Other Side of the Medal*
- (2) S.B. Chaudhari's *Civil Rebellion in the Indian Mutinies*
- (3) V.D. Savarkar's *The Indian War of Independence*
- (4) M.N. Roy's *India in Transition Stage*

56. बंगाल में स्थायी बंदोबस्त की शुरुआत किसने की थी ?

- (1) लार्ड चार्ल्स कॉर्नवालिस
- (2) लार्ड रिचर्ड वेल्लेसली
- (3) वॉरेन हेस्टिंग्स
- (4) सर जॉन शोर

57. निम्नलिखित सूची-I का सूची-II से मिलान कीजिए।

सूची-I (लेखक)	सूची-II (उनकी कृतियाँ)
(a) मारगरेट चटर्जी	(i) गांधीज पॉलिटिकल फिलोसफी
(b) गंगेय मुखर्जी	(ii) गांधीज टुथ
(c) भीखू पारीख	(iii) गांधी एंड टैगोर : पॉलिटिक्स, टुथ एंड कन्साइंस
(d) एरिक एच. एरिकसन	(iv) गांधी एंड हिज ज्यूइश फ्रेंड्स

नीचे दिए गए विकल्पों में से सही उत्तर का चयन कीजिए :

- | | | | |
|-----------|-------|------|-------|
| (a) | (b) | (c) | (d) |
| (1) (iii) | (iv) | (ii) | (i) |
| (2) (ii) | (iii) | (i) | (iv) |
| (3) (ii) | (i) | (iv) | (iii) |
| (4) (iv) | (iii) | (i) | (ii) |

58. किस पुस्तक को 'रेन्डम पेपर्स ऑफ दि पिकविक क्लब' के लेबल वाले कवर में लपेटकर भारत में चोरी से लाया गया था ?

- (1) एडवर्ड जे. थॉमपसन की दि अदर साइड ऑफ दि मेडल
- (2) एस.बी. चौधरी की सिविल रिबेलियन इन दि इंडियन म्युटिनीज
- (3) वी.डी. सावरकर की दि इंडियन वॉर ऑफ इंडिपेंडेंस
- (4) एम.एन. राय की इंडिया इन ट्रांजिशन स्टेज



59. Match the following List-I with List-II.

List-I	List-II
(Author)	(Work)
(a) Joyce Lebra-Chapman	(i) Veer Kuer Singh : The Great Warrior of 1857
(b) Henry Scholberg	(ii) The Rani of Jhansi : A Study in Female Heroism
(c) S.K. Sinha	(iii) Indian Mutiny and the British Imagination
(d) Gautam Chakravarty	(iv) The Indian Literature of the Great Rebellion

Choose the correct answer from the options given below :

- (a) (b) (c) (d)
- (1) (iii) (ii) (iv) (i)
- (2) (ii) (iv) (i) (iii)
- (3) (i) (ii) (iii) (iv)
- (4) (ii) (iv) (iii) (i)

59. निम्नलिखित सूची-I का सूची-II के साथ मिलान कीजिए।

सूची-I	सूची-II
(लेखक)	(कृति)
(a) जॉयसी लेब्रा चैपमेन	(i) वीर कुंवर सिंह : दि ग्रेट वॉरियर ऑफ 1857
(b) हेनरी शोलबर्ग	(ii) दि रानी ऑफ झाँसी : ए स्टडी इन फीमेल हीरोइज़्म
(c) एस.के. सिन्हा	(iii) इंडियन म्युटिनी एंड दि ब्रिटिश इमेजिनेशन
(d) गौतम चक्रवर्ती	(iv) दि इंडियन लिटरेचर ऑफ दि ग्रेट रिबेलियन

नीचे दिए गए विकल्पों में से सही उत्तर का चयन कीजिए :

- (a) (b) (c) (d)
- (1) (iii) (ii) (iv) (i)
- (2) (ii) (iv) (i) (iii)
- (3) (i) (ii) (iii) (iv)
- (4) (ii) (iv) (iii) (i)



60. Match the following List-I with List-II.

List-I (Author)	List-II (Their Work)
(a) Sir Collin Campbell	(i) <i>On the Face of the Waters</i>
(b) Flora Ann Steel	(ii) <i>Lakslumi Bai : The Rani of Jhansi</i>
(c) Sir T. Metcalf	(iii) <i>Two Narratives of the Mutiny at Delhi</i>
(d) Michael White	(iv) <i>Narratives of Indian Revolt from its outbreak to the capture of Lucknow</i>

Choose the correct answer from the options given below :

	(a)	(b)	(c)	(d)
(1)	(iii)	(iv)	(i)	(ii)
(2)	(iv)	(i)	(iii)	(ii)
(3)	(ii)	(i)	(iv)	(iii)
(4)	(i)	(iii)	(ii)	(iv)

61. Given below are the two statements : One is labelled as Assertion (A) and the other is labelled as Reason (R).

Assertion (A) :

Gandhi's critique of science emanates from his dissatisfaction with the divorce of science and progress from morality.

Reason (R) :

Gandhi argued that the advance of science had added 'not an inch to the moral status of Europe'.

In the context of the above statements which of the following is correct ?

- (1) (A) is true but (R) is false
- (2) (A) is false but (R) is true
- (3) Both (A) and (R) are true and (R) is the correct explanation of (A)
- (4) Both (A) and (R) are true but (R) is not the correct explanation of (A)

60. निम्नलिखित सूची-I का सूची-II से मिलान कीजिए।

सूची-I (लेखक)	सूची-II (उनकी कृतियाँ)
(a) सर कोलिन कैम्पबेल	(i) ऑन दि फेस ऑफ द वॉटर्स
(b) फ्लोरा एन स्टील	(ii) लक्ष्मी बाई : दि रानी ऑफ झाँसी
(c) सर टी. मेटकॉफ	(iii) टू नरेटिव्स ऑफ दि म्युटिनी एट दिल्ली
(d) माइकल व्हाइट	(iv) नरेटिव्स ऑफ इंडियन रिबोल्ट फ्रॉम इट्स आउटब्रेक टू दि कैप्चर ऑफ लखनऊ

नीचे दिए गए विकल्पों में से सही उत्तर का चयन कीजिए :

	(a)	(b)	(c)	(d)
(1)	(iii)	(iv)	(i)	(ii)
(2)	(iv)	(i)	(iii)	(ii)
(3)	(ii)	(i)	(iv)	(iii)
(4)	(i)	(iii)	(ii)	(iv)

61. नीचे दो कथन दिए गए हैं जिन्हें अभिकथन (A) और तर्क (R) के रूप में दर्शाया गया है।

अभिकथन (A) :

गांधीजी की विज्ञान के प्रति आलोचना विज्ञान का नैतिकता से अलगाव के कारण उनकी असंतुष्टता से उत्पन्न होती है।

तर्क (R) :

गांधी का यह तर्क है कि विज्ञान में प्रगति ने 'यूरोप की नैतिक स्थिति में एक भी इंच' की वृद्धि नहीं की है।

उपर्युक्त वक्तव्यों के संदर्भ में निम्नलिखित में से कौन सा सही है ?

- (1) (A) सही है, परन्तु (R) गलत है।
- (2) (A) गलत है, परन्तु (R) सही है।
- (3) (A) और (R) दोनों सही हैं और (R), (A) की सही व्याख्या है।
- (4) (A) और (R) दोनों सही हैं परन्तु (R), (A) की सही व्याख्या नहीं है।



62. From among the following statements regarding Canadian (North American) history, choose the correct answer from the code given below :

- (a) The war of 1812 became a popular vehicle for the emerging Canadian nationalism.
- (b) More than any other war before or since, the war of 1812 was useful for highlighting English and French divide in Canada.
- (c) The war of 1812 ended the effective resistance of Aboriginal people against the tide of white settlement.
- (d) The war of 1812 nurtured Anti-American sentiment.

Code :

- (1) (a) and (d) only
- (2) (a), (c) and (d) only
- (3) (b) and (c) only
- (4) (a), (b) and (c) only

63. Which one of the following years Queen Victoria assumed the title of the Empress of India ?

- (1) 1876
- (2) 1911
- (3) 1792
- (4) 1858

64. Who persuaded Gandhiji to come to Champaran to investigate the problem of Indigo workers ?

- (1) Rajendra Prasad
- (2) Acharya J.B. Krupalani
- (3) Brij Kishore
- (4) Raj Kumar Shukla

62. कनाडा (उत्तरी अमेरिकन) के इतिहास के संबंध में निम्नलिखित कथनों में से नीचे दिए गए कूट से सही उत्तर का चयन कीजिए :

- (a) 1812 का युद्ध उभरते कनाडाई राष्ट्रवाद के लिए एक लोकप्रिय माध्यम बना।
- (b) पहले या अभी तक के अन्य किसी युद्ध से अधिक, 1812 का युद्ध कनाडा में ब्रिटिश और फ्रेंच विभाजन को रेखांकित करने के लिए उपयोगी था।
- (c) 1812 के युद्ध ने आदिवासी लोगों के श्वेत लोगों के औपनिवेशीकरण की लहर के प्रति प्रभावी विरोध को समाप्त कर दिया था।
- (d) 1812 के युद्ध ने अमेरिका विरोधी विचारों को पोषित किया।

कूट :

- (1) केवल (a) और (d)
- (2) केवल (a), (c) और (d)
- (3) केवल (b) और (c)
- (4) केवल (a), (b) और (c)

63. निम्न में से किस वर्ष में महारानी विक्टोरिया ने भारत की साम्राज्ञी की उपाधि धारण की थी ?

- ~~(1)~~ 1876
- (2) 1911
- (3) 1792
- ~~(4)~~ 1858

64. नील कामगारों की समस्या की जाँच-पड़ताल करने हेतु गांधीजी को चंपारण आने के लिए किसने राजी किया था ?

- (1) राजेन्द्र प्रसाद
- (2) आचार्य जे.बी. कृपलानी
- (3) ब्रिज किशोर
- ~~(4)~~ राज कुमार शुक्ला



65. Commenting on Gopal Krishna Gokhale's death in 1915, who said; "Truth was the spring of all his actions" ?

- (1) M.K. Gandhi
- (2) Shishir Kumar Ghosh
- (3) Rabindranath Tagore
- (4) C.R. Das

66. From the following statements regarding Non-Cooperation movement, which one is correct ?

- (a) Under Non-Cooperation, Gandhiji urged the people not to cooperate with unjust evil system.
- (b) By describing the British Indian administrative system as an evil, Gandhiji removed the spell of fear of the 'Terror of Law'.
- (c) Under Non-Cooperation Gandhiji urged the people to break criminal laws.
- (d) Gandhiji termed prisons as 'His Majesty's Hotels'.

Choose the appropriate answer from the options given below :

- (1) (b), (c) and (d) only
- (2) (c) and (d) only
- (3) (a) and (c) only
- (4) (a), (b) and (c) only

67. The basic philosophy of the Indian Constitution is to be found in the Preamble. On which date was it adopted ?

- (1) 22 January 1947
- (2) 26 January 1951
- (3) 13 December 1946
- (4) 15 August 1947

65. वर्ष 1915 में गोपाल कृष्ण गोखले की मृत्यु पर टिप्पणी करते हुए किसने यह कहा था कि; "सत्य उनके सभी कार्यों का स्रोत था?"

- (1) एम.के. गांधी
- (2) शिशिर कुमार घोष
- (3) रविन्द्रनाथ टैगोर
- (4) सी.आर. दास

66. असहयोग आंदोलन के बारे में निम्नलिखित में से कौन सा कथन सही है ?

- (a) असहयोग आंदोलन के अंतर्गत गांधीजी ने लोगों से अन्यायपूर्ण बुरी प्रणाली के साथ सहयोग न करने का अनुरोध किया।
- (b) ब्रिटिश भारतीय प्रशासनिक प्रणाली को बुरा कहते हुए गांधीजी ने 'कानून के आतंक' के भय को दूर कर दिया था।

- (c) असहयोग आंदोलन के तहत गांधीजी ने लोगों से आपराधिक कानून को तोड़ने का अनुरोध किया।
- (d) गांधीजी ने जेलों को 'महामहिम का होटल' की संज्ञा दी।

नीचे दिए गए विकल्पों में से सही उत्तर का चयन कीजिए।

- (1) केवल (b); (c) और (d)
- (2) केवल (c) और (d)
- (3) केवल (a) और (c)
- (4) केवल (a), (b) और (c)

67. भारतीय संविधान का मूल तत्व ज्ञान उसकी उद्देशिका (Preamble) में मिलता है। इसे कब अंगीकार किया गया था ?

- (1) 22 जनवरी, 1947
- (2) 26 जनवरी, 1951
- (3) 13 दिसम्बर, 1946
- (4) 15 अगस्त, 1947



68. Which of the following about Azamgarh Proclamation is not correct ?

- (1) Appeals to different sections of society were made under five separate sections.
- (2) It was a response to the Queen's Proclamation.
- (3) It was issued as an Ishtahar on 25 August 1857.
- (4) It was issued in the name of Bahadur Shah.

69. Match List-I with List-II and find the correct answer from the code given below.

List-I

(Author)

- (a) Dadabhai Naoroji
- (b) J.L. Nehru
- (c) Maulana Azad
- (d) R.C. Dutt

List-II

(Book)

- (i) Discovery of India
- (ii) India wins Freedom
- (iii) Poverty and the Unbritish rule in India
- (iv) Economic History of India

Code :

- | | | | | |
|-----|-------|-------|-------|-------|
| | (a) | (b) | (c) | (d) |
| (1) | (i) | (ii) | (iii) | (iv) |
| (2) | (iv) | (i) | (ii) | (iii) |
| (3) | (ii) | (iii) | (i) | (iv) |
| (4) | (iii) | (i) | (ii) | (iv) |

68. आजमगढ़ घोषणा के बारे में निम्न में से कौन सा वक्तव्य सही नहीं है ?

- (1) पाँच विभिन्न भागों में समाज के अलग-अलग समुदायों से अपील की गयी।
- (2) यह महारानी की घोषणा का प्रत्युत्तर था।
- (3) इश्तिहार के तौर पर इसको 25 अगस्त 1857 को जारी किया गया।
- (4) इसे बहादुर शाह ने नाम से जारी किया गया।

69. सूची-I को सूची-II से सुमेलित करें तथा नीचे दिये गये कूट से सही उत्तर का चयन करें।

सूची-I

(लेखक)

- (a) दादाभाई नौरोजी
- (b) जवाहर लाल नेहरू
- (c) मौलाना आजाद
- (d) रमेश चन्द्र दत्त

सूची-II

(पुस्तक)

- (i) डिस्कवरी ऑफ इण्डिया
- (ii) इण्डिया विन्स फ्रीडम
- (iii) पावर्टी एण्ड द अनब्रिटिश रूल इन इण्डिया
- (iv) इकॉनॉमिक हिस्ट्री ऑफ इण्डिया

कूट :

- | | | | | |
|-----|-------|-------|-------|-------|
| | (a) | (b) | (c) | (d) |
| (1) | (i) | (ii) | (iii) | (iv) |
| (2) | (iv) | (i) | (ii) | (iii) |
| (3) | (ii) | (iii) | (i) | (iv) |
| (4) | (iii) | (i) | (ii) | (iv) |



70. Mahatma Gandhi transformed the character of Indian National Movement by doing which of the following ?

- (1) He brought in vast stratas of society into it and made it a mass movement.
- (2) He kept the Zamindars and big businessmen outside the movement.
- (3) He ousted elitist leaders from the movement.
- (4) He made compromises with the revolutionary leaders.

71. Which of the following is the key message of the 'Monroe Doctrine' ?

- (1) It warned the European powers against any attempt to extend their power in the western hemisphere.
- (2) A blueprint of Dollar diplomacy.
- (3) It abolished slavery from America.
- (4) It was a doctrine of economic assistance to countries of Latin America.

70. महात्मा गांधी ने निम्न में से कौन सा ऐसा काम किया जिसने राष्ट्रीय आन्दोलन का स्वरूप बदल दिया ?

- (1) उन्होंने समाज के सभी वर्गों को आन्दोलन की ओर आकर्षित किया तथा इसे जन आन्दोलन का स्वरूप प्रदान किया।
- (2) उन्होंने जमींदारों तथा बड़े व्यवसायों को आन्दोलन से दूर रखा।
- (3) उन्होंने अभिजात वर्ग के नेताओं को आन्दोलन से बाहर कर दिया।
- (4) उन्होंने क्रान्तिकारी नेतृत्व से समझौता किया।

71. निम्नलिखित में से 'मुनरो सिद्धान्त' का प्रमुख संदेश क्या है ?

- (1) इसके द्वारा यूरोपीय शक्तियों को पश्चिमी गोलार्ध से दूर रहने की चेतावनी दी गयी।
- (2) डॉलर कूटनीति की कार्य योजना।
- (3) इसने अमेरिका से दास प्रथा की समाप्ति की।
- (4) लेटिन अमेरिकी देशों को आर्थिक सहायता प्रदान करने का सिद्धान्त।



... and find the correct code given below.

List-I

(Name of Chinese Leader)

- (a) Mao Zedong
(b) Sun Yat-Sen
(c) Deng Zio Ping
(d) Chiang Kai-Shek

List-II

(Association with)

- (i) Founder of Kuomintang
(ii) Market based economic reforms
(iii) Chairman of Communist Party Executive and founder of Red Army
(iv) Persecutor of Communists

Code :

- | | | | |
|-----------|-------|-------|-------|
| (a) | (b) | (c) | (d) |
| (1) (ii) | (iii) | (i) | (iv) |
| (2) (iv) | (ii) | (iii) | (i) |
| (3) (iii) | (i) | (ii) | (iv) |
| (4) (i) | (ii) | (iv) | (iii) |

73. When did Japan resorted to force and occupied Manchuria ?

- (1) 1934
(2) 1937
(3) 1929
(4) 1931

72.

सूची-I को सूची-II से सुमेलित करें तथा नीचे दिये गये कूट से सही उत्तर का चयन करें।

सूची-I

(चीनी नेताओं के नाम)

सूची-II

(संलग्नता)

- | | | |
|-----------------------------------|-------|---|
| (a) माओ ज़ेडांग
(माओत्से तुंग) | (i) | कुओमिन्तांग का संस्थापक |
| (b) सन यात-सेन | (ii) | बाज़ार आधारित आर्थिक सुधार |
| (c) डेंग ज़िआओ पिंग | (iii) | कम्युनिस्ट पार्टी की कार्यकारी के अध्यक्ष तथा रेड आर्मी के संस्थापक |
| (d) चियांग काई-शेक | (iv) | साम्यवादी लोगों का उत्पीड़क |

कूट :

- | | | | |
|-----------|-------|-------|-------|
| (a) | (b) | (c) | (d) |
| (1) (ii) | (iii) | (i) | (iv) |
| (2) (iv) | (ii) | (iii) | (i) |
| (3) (iii) | (i) | (ii) | (iv) |
| (4) (i) | (ii) | (iv) | (iii) |

73. जापान ने किस वर्ष बल प्रयोग करके मन्चूरिया पर कब्जा किया था ?

- (1) 1934
(2) 1937
(3) 1929
(4) 1931



74. Which of the following statements regarding Feudal structure in Europe is/are TRUE ?

- (a) The feudal society in Western Europe developed into a hierarchical form, each person was assigned a place according to graded order.
- (b) With the passage of time, feudalism developed into a form of government in which absolute monarchs emerged.
- (c) Feudal grants were unconditional and were given to nearest Kin.
- (d) The relationship of duties and obligations of the serfs for their master constituted the most important aspect.

Code :

- (1) (a) and (d) only
- (2) (b) and (c) only
- (3) (a) and (b) only
- (4) (a), (b) and (c) only

75. Where was the first major public appearance of Gandhi after his return from South Africa in India in which he charged Indian elite of neglecting the labouring poor ?

- (1) Champaran campaign in 1917.
- (2) In Kheda demanding remission in taxes for the peasants.
- (3) The opening ceremony of the B.H.U. in February 1916.
- (4) Talking about the labour dispute in Ahmadabad in 1918.

74.

यूरोप में सामंतवादी ढांचे के बारे में निम्नलिखित में से कौन सा/से कथन सही है/हैं ?

- (a) पश्चिमी यूरोप में सामंतवादी समाज एक श्रेणीबद्ध रूप में विकसित हुआ जिसमें प्रत्येक व्यक्ति को एक क्रमिक व्यवस्था के अनुसार स्थान दिया गया।
- (b) समय बीतने के साथ-साथ सामंतवाद एक प्रकार की सरकार के रूप में विकसित हुआ जिसमें निरंकुश राजाओं का आविर्भाव हुआ।
- (c) सामंतवादी अनुदान अप्रतिबंधित (unconditional) था और नजदीकी रिश्तेदार को दिया जाता था।
- (d) दासों का अपने मालिकों के प्रति कर्तव्य और दायित्वों के प्रति संबंध सर्वाधिक महत्वपूर्ण पहलू था।

कूट :

- (1) केवल (a) और (d) —
- (2) केवल (b) और (c)
- (3) केवल (a) और (b)
- (4) केवल (a), (b) और (c)

75. महात्मा गांधी के दक्षिण अफ्रीका से भारत लौटने के बाद निम्न में से किस प्रमुख सार्वजनिक कार्यक्रम में हिस्सा लिया जिसमें उन्होंने संभ्रांत वर्ग पर मेहनतकश लोगों की उपेक्षा का आरोप लगाया ?

- (1) 1917 में चम्पारन अभियान में।
- (2) खेड़ा में किसानों के लिए करों में छूट की मांग करते समय।
- (3) फरवरी 1916 में बनारस हिन्दू विश्व विद्यालय के शुभारम्भ के अवसर पर।
- (4) 1918 में अहमदाबाद के मजदूर विवाद पर चर्चा करते हुए।



What significant change took place in political and social structure in the late fifteenth century Europe ?

- The growth of cities created lesser demand for foodstuff.
- With the expansion of trade and growing monetary transactions, began to break the old structure of feudalism.
- Resulted in the rise of absolute monarchies.
- The institution of serfdom became more rigid.

Choose the correct answer from the code given below.

- (a) and (d) only
- (c) and (d) only
- (a), (b) and (d) only
- (b) and (c) only

77. From among the following statements regarding Renaissance movement, which is/are correct ?

- The scholars of the Renaissance were critical of Scholasticism.
- Scholasticism laid great emphasis on the rational justification of religious beliefs.
- The Enlightenment writers believed that liberty discouraged commerce that in turn discouraged culture.
- The Renaissance as a movement was the product of an rural movement.

Choose the appropriate answer from the code given below.

- (a), (c) and (d) only
- (b), (c) and (d) only
- (a) and (d) only
- (a) and (b) only

76. पन्द्रहवीं शताब्दी के उत्तरार्ध में यूरोप के राजनैतिक और सामाजिक ढांचे में क्या महत्वपूर्ण बदलाव हुए ?

- शहरों के विकास से खाद्य पदार्थ की कम मांग उत्पन्न हुई।
- व्यापार में विस्तार और बढ़ते मौद्रिक विनिमय से पुराने सामंतवादी ढांचे के टूटने की शुरुआत हुई।
- इसके फलस्वरूप निरंकुश राजशाही का उदय हुआ।
- अर्द्धदास (serfdom) प्रथा और अधिक कठोर हुई।

नीचे दिए गए कूट से सही उत्तर का चयन कीजिए।

- केवल (a) और (d)
- केवल (c) और (d)
- केवल (a), (b) और (d)
- केवल (b) और (c)

77. पुनर्जागरण आंदोलन के बारे में निम्नलिखित में से कौन सा/से कथन सही है/हैं ?

- पुनर्जागरण के विद्वान शास्त्रीय रूढ़िवाद के आलोचक थे।
- शास्त्रीय रूढ़िवाद धार्मिक विश्वास के तार्किक स्पष्टीकरण पर अत्यधिक बल देता था।
- ज्ञान प्रबोधन लेखक यह मानते थे कि स्वतंत्रता वाणिज्य को हतोत्साहित करती है जो इसके बदले में संस्कृति को हतोत्साहित करता है।
- एक आंदोलन के रूप में पुनर्जागरण एक ग्रामीण आंदोलन का परिणाम था।

नीचे दिए गए कूट से सही उत्तर का चयन कीजिए।

- केवल (a), (c) और (d)
- केवल (b), (c) और (d)
- केवल (a) और (d)
- केवल (a) और (b)



78. Given below are the two statements : One labelled as **Assertion (A)** and the other labelled as **Reason (R)**.

Assertion (A) :

Though the Seven years' war (1756-1763) was essentially a war of Austrian succession, it profoundly altered the balance of power in North America.

Reason (R) :

The Seven years' war marked the end of the French Empire in North America.

In the context of the above statements which of the following is correct ?

- (1) (A) is true but (R) is false
 - (2) (A) is false but (R) is true
 - (3) Both (A) and (R) are true and (R) is the correct explanation of (A)
 - (4) Both (A) and (R) are true but (R) is not the correct explanation of (A)
79. In which year Vancouver Island was declared a crown colony with its capital at Victoria ?
- (1) 1853
 - (2) 1854
 - (3) 1849
 - (4) 1851
80. Against which powers Japan scored remarkable military victories in 1894-95 and 1904-05 ?
- (1) China and England
 - (2) China and Russia
 - (3) Korea and China
 - (4) England and France

78. नीचे दो कथन दिए गए हैं जिन्हें कथन (A) और कारण (R) के रूप में दर्शाया गया है :

कथन (A) :

यद्यपि सात वर्षीय युद्ध (1756-1763) मुख्यतः आस्ट्रियाई उत्तराधिकार का युद्ध था, इसने उत्तरी अमेरिका में शक्ति संतुलन को पूरी तरह से बदल दिया था।

कारण (R) :

सात वर्षीय युद्ध ने उत्तरी अमेरिका में फ्रांसीसी साम्राज्य का अंत कर दिया।

उपर्युक्त वक्तव्यों के संदर्भ में निम्नलिखित में से कौन सा सही है ?

- (1) (A) सही है, परन्तु (R) गलत है।
 - (2) (A) गलत है, परन्तु (R) सही है।
 - (3) (A) और (R) दोनों सही हैं और (R), (A) की सही व्याख्या है।
 - (4) (A) और (R) दोनों सही हैं परन्तु (R), (A) की सही व्याख्या नहीं है।
79. किस वर्ष में वैंकूवर द्वीप को एक क्राउन कालोनी के रूप में घोषित किया गया था जिसकी राजधानी विक्टोरिया थी ?
- (1) 1853
 - (2) 1854
 - (3) 1849
 - (4) 1851

80. 1894-95 और 1904-05 में जापान को किन शक्तियों के खिलाफ उल्लेखनीय सैन्य विजयें प्राप्त हुई थीं ?

- (1) चीन और इंग्लैंड
- (2) चीन और रूस
- (3) कोरिया और चीन
- (4) इंग्लैंड और फ्रांस



Given below are two statements : One is labelled as Assertion (A) and the other as Reason (R).

Assertion (A) :

The effect of the discovery of goldfields in Victoria, in 1852 was that a great stream of free non-convicts from Europe began to flow into Australia.

Reason (R) :

To prevent any further introduction of undesirable convict immigrants, the Legislature passed Convicts Prevention Act in 1852, in Victoria.

In the context of the above statements which of the following is correct ?

- (1) (A) is true but (R) is false
- (2) (A) is false but (R) is true
- (3) Both (A) and (R) are true and (R) is the correct explanation of (A)
- (4) Both (A) and (R) are true but (R) is not the correct explanation of (A)

In which year the Meiji Restoration or Meiji Revolution took place in Japan ?

- (1) 1868
- (2) 1871
- (3) 1854
- (4) 1862

81. नीचे दो कथन दिए गए हैं, जिन्हें कथन (A) और कारण (R) के रूप में दर्शाया गया है।

कथन (A) :

वर्ष 1852 में विक्टोरिया में सोने की खदानों की खोज का प्रभाव यह था कि यूरोप से बहुत संख्या में असिद्धदोष (non-convicts) व्यक्ति ऑस्ट्रेलिया चले गए।

कारण (R) :

अवांछनीय सिद्धदोष आप्रवासियों के और अधिक प्रवेश को रोकने के लिए लेजिस्लेचर (विधान-सभा) ने विक्टोरिया में 1852 में कनविक्ट्स प्रिवेंशन एक्ट पारित किया।

उपर्युक्त वक्तव्यों के संदर्भ में निम्नलिखित में से कौन सा सही है ?

- (1) (A) सही है, परन्तु (R) गलत है।
- (2) (A) गलत है, परन्तु (R) सही है।
- (3) (A) और (R) दोनों सही हैं और (R), (A) की सही व्याख्या है।
- (4) (A) और (R) दोनों सही हैं परन्तु (R), (A) की सही व्याख्या नहीं है।

82. जापान में किस वर्ष में मेजी पुनःस्थापन अथवा मेजी क्रांति हुई ?

- ~~(1)~~ 1868
- (2) 1871
- (3) 1854
- (4) 1862

83. 'In Harappan Civilization exchanges were regulated by a precise system of weights, usually made of a stone called chert and generally cubical, with no markings.' In the light of the above statement what do the Harappan weights indicate ?

- (a) Lower denominations of weights were binary.
- (b) Higher denominations followed the decimal system.
- (c) Smaller weights were probably used for weighing jewellery and beads.
- (d) Metal scale-pans are missing from Harappan sites.

Choose the correct answer from the code given below :

- (1) (a), (b) and (c)
- (2) (b), (c) and (d)
- (3) (a) and (b) only
- (4) (a) and (c) only

84. Consider the following statements about the revolt of 1857 :

Assertion (A) :

Bahadur Shah was recognised as the Emperor by all rebel leaders. Coins were struck and orders were issued in his name.

Reason (R) :

The merchants, intelligentsia and Indian rulers mostly not only kept aloof, but actively supported the British.

Select the correct answer from the code given below :

- (1) (A) is true and (R) is false.
- (2) (A) is false and (R) is true.
- (3) Both (A) and (R) are true, and (R) explains (A).
- (4) Both (A) and (R) are true, but (R) does not explain (A).

83.

'हड़प्पा सभ्यता में विनिमय बाटों की एक परिशुद्ध प्रणाली द्वारा नियंत्रित थे, जो सामान्यतः चर्ट नामक पत्थर से बनाए जाते थे और आमतौर पर किसी भी तरह के चिह्न रहित घनाकार होते थे।'

उपर्युक्त कथन के परिप्रेक्ष्य में, हड़प्पाई बाट क्या दर्शाते हैं ?

- (a) बाटों के निचले मानदंड द्वि-आधारी थे।
- (b) ऊपरी मानदंड दशमलव प्रणाली का अनुसरण करते थे।
- (c) छोटे बाटों का प्रयोग संभवतः आभूषणों और मनकों को तौलने के लिए किया जाता था।
- (d) हड़प्पाई स्थलों से धातु से बने तराजू के पलड़े नहीं मिलते हैं।

नीचे दिए गए कूट से सही उत्तर का चयन कीजिए :

- (1) (a), (b) और (c)
- (2) (b), (c) और (d)
- (3) केवल (a) और (b)
- (4) केवल (a) और (c)

84.

1857 के विद्रोह के बारे में निम्नलिखित कथनों पर विचार कीजिए :

अभिकथन (A) :

सभी विद्रोही नेताओं ने बहादुर शाह को अपना सम्राट माना। उनके नाम से सिक्के ढाले गए और आदेश जारी किए गए।

तर्क (R) :

अधिकतर व्यापारी, विद्वानों और भारतीय शासकों ने न केवल अपने को अलग रखा, अपितु उन्होंने ब्रिटिशों का सक्रिय रूप से सहयोग किया।

नीचे दिए गए कूट से सही उत्तर का चयन कीजिए :

- (1) (A) सही है और (R) गलत है।
- (2) (A) गलत है और (R) सही है।
- (3) (A) और (R) दोनों सही हैं और (R), (A) की व्याख्या करता है।
- (4) (A) और (R) दोनों सही हैं किंतु (R), (A) की व्याख्या नहीं करता है।



85. In NEP 2020 in new pedagogical structure which of the following years/age are identified in the category of foundational years/levels ?

- (a) 2 - 4 years old (Balvatika)
- (b) 3 - 6 years old (Anganvadi/Pre-School/Balvatika)
- (c) 4 - 8 years old (Class 1 and 2)
- (d) 6 - 8 years old (Class 1 and 2)

Select the correct answer from the code given below :

- (1) (b) and (c)
- (2) (b) and (d)
- (3) (a) and (b)
- (4) (a) and (c)

86. In NEP 2020 the responsibility of Early Childhood Care and Education shall be delivered through which of the following Early Childhood Education institutions ?

- (a) Stand-alone Anganwadis
- (b) Anganwadis co-located with primary schools
- (c) Pre-primary schools/sections co-located with existing primary schools
- (d) Stand-alone pre-schools

Select the correct answer from the code given below :

- (1) (b), (c) and (d) only
- (2) (a), (b), (c), (d)
- (3) (a) and (b) only
- (4) (a), (b) and (d) only

85. राष्ट्रीय शिक्षा नीति, 2020 में नए शैक्षणिक ढांचे में, किन वर्षों/उम्र की फाउंडेशन वर्षों/स्तरों की श्रेणी के रूप में पहचान की गई है ?

- (a) 2 - 4 वर्ष की उम्र (बालवाटिका)
- (b) 3 - 6 वर्ष की उम्र (आंगनवाड़ी/प्री-स्कूल/बालवाटिका)
- (c) 4 - 8 वर्ष की उम्र (कक्षा 1 और 2)
- (d) 6 - 8 वर्ष की उम्र (कक्षा 1 और 2)

नीचे दिए गए कूट से सही उत्तर का चयन कीजिए :

- (1) (b) और (c)
- (2) (b) और (d)
- (3) (a) और (b)
- (4) (a) और (c)

86. राष्ट्रीय शिक्षा नीति, 2020 में प्रारंभिक बाल्यावस्था देखभाल और शिक्षा प्रदान करने की जिम्मेदारी निम्नलिखित में से किस प्रारंभिक बाल्यावस्था शिक्षा संस्थान के माध्यम से दी गई है ?

- (a) अकेले चल रही आंगनवाड़ियाँ
- (b) प्राथमिक विद्यालयों के साथ स्थित आंगनवाड़ियाँ
- (c) पूर्व-प्राथमिक विद्यालयों/वर्तमान प्राथमिक विद्यालयों के साथ स्थित आंगनवाड़ियाँ
- (d) अकेले चल रहे पूर्व-प्राथमिक विद्यालय

नीचे दिए गए कूट से सही उत्तर का चयन कीजिए :

- (1) केवल (b), (c) और (d)
- (2) (a), (b), (c), (d)
- (3) केवल (a) और (b)
- (4) केवल (a), (b) और (d)

87. Consider the following statements :

Assertion (A) :

The *amara-nayaka* system was a major political innovation of the Vijayanagara empire. The *amara-nayakas* were military commanders who were given territories to govern by the *raya*.

Reason (R) :

The contingents of the *amara-nayaka* provided the Vijayanagara Kings with an effective fighting force.

Choose the correct answer from the code given below :

- (1) (A) is true, but (R) is false.
- (2) (A) is false, but (R) is true.
- (3) Both (A) and (R) are true, and (R) explains (A).
- (4) Both (A) and (R) are true, but (R) does not explain (A).

88. Consider the following statements :

Assertion (A) :

The Civil rebellions began as British rule was established in Bengal and Bihar. From 1763-1856 there were more than forty major rebellions apart from hundreds of minor ones. Sanyasi rebellion was the first to rise up.

Reason (R) :

These almost continuous rebellions were massive in their totality, but were wholly local in their spread and isolated from each other.

Select the correct answer from the code given below :

- (1) (A) is true and (R) is false.
- (2) (A) is false and (R) is true.
- (3) Both (A) and (R) are true, and (R) explains (A).
- (4) Both (A) and (R) are true, but (R) does not explain (A).

87. निम्नलिखित कथनों पर विचार कीजिए :

अभिकथन (A) :

अमर-नायक प्रणाली विजयनगर साम्राज्य की एक प्रमुख राजनीतिक खोज थी। अमर-नायक सैनिक कमांडर थे जिन्हें राया द्वारा प्रशासन के लिए राज्य क्षेत्र दिए जाते थे।

तर्क (R) :

अमर-नायकों के ये दल विजयनगर शासकों को एक प्रभावी सैनिक शक्ति प्रदान करते थे।

नीचे दिए गए कूट से सही उत्तर का चयन कीजिए :

- (1) (A) सही है किंतु (R) गलत है।
- (2) (A) गलत है किंतु (R) सही है।
- (3) (A) और (R) दोनों सही हैं और (R), (A) की व्याख्या करता है।
- (4) (A) और (R) दोनों सही हैं किंतु (R), (A) की व्याख्या नहीं करता है।

88. निम्नलिखित कथनों पर विचार कीजिए :

अभिकथन (A) :

बंगाल और बिहार में ब्रिटिश शासन लागू होने के साथ ही जन विद्रोह शुरू हो गए। 1763-1856 तक सैकड़ों छोटे-छोटे विद्रोहों के अलावा चालीस से अधिक बड़े विद्रोह हुए। सर्वप्रथम संन्यासी विद्रोह हुआ।

तर्क (R) :

ये लगातार होने वाले विद्रोह हालांकि अत्यन्त व्यापक थे, परन्तु उनका फैलाव स्थानीय था और वे एक-दूसरे से पृथक् थे।

नीचे दिए गए कूट से सही उत्तर का चयन कीजिए :

- (1) (A) सही है और (R) गलत है।
- (2) (A) गलत है और (R) सही है।
- (3) (A) और (R) दोनों सही हैं और (R), (A) की व्याख्या करता है।
- (4) (A) और (R) दोनों सही हैं किंतु (R), (A) की व्याख्या नहीं करता है।



Ancient inscriptions are usually dated in regnal years or eras. Many different eras were used in ancient and early medieval India.

In the light of the above statements which of the following statements are correct ?

- The Kalachuri - Chedi era starts from 248 CE.
- The Gupta era starts from 319-20 CE.
- The Chalukya - Vikram era of 1076 was used in the inscriptions of Karnataka and adjoining areas.
- The Kollar era of 824 was used in the inscriptions of Kerala and adjoining parts of Tamil Nadu.

Choose the correct answer from the code given below :

- (a), (b) and (c) only
- (a), (b), (c) and (d)
- (b) only
- (a) and (b) only

90. The planning and implementation of Early Childhood Care and Education curriculum in NEP 2020 will be carried out by which of the following Ministries/departments ?

- Ministry of Education (erstwhile HRD)
- Women and Child Development
- Health and Family Welfare
- Tribal Affairs

Select the correct answer from the code given below :

- (a), (b) and (c) only
- (a), (b), (c), (d)
- (a) only
- (a) and (b) only

89. प्राचीन अभिलेखों में आमतौर पर शासकीय वर्ष या संवत् अंकित होता था। प्राचीन और आरंभिक मध्यकालीन भारत में कई भिन्न-भिन्न संवत्तों का प्रयोग किया गया था। उपर्युक्त कथनों के परिप्रेक्ष्य में, निम्नलिखित में से कौन सा/से कथन सही है/हैं ?

- कालाचूरी-चेदी संवत् 248 सी.ई. से आरंभ होता है।
- गुप्त काल संवत् 319-20 सी.ई. से आरंभ होता है।
- 1076 के चालुक्य-विक्रम संवत् का प्रयोग कर्नाटक और आसपास के क्षेत्रों के अभिलेखों में किया गया।
- 824 के कोल्लार संवत् का प्रयोग केरल और तमिलनाडु के आसपास के क्षेत्रों के अभिलेखों में किया गया था।

नीचे दिए गए कूट से सही उत्तर का चयन कीजिए :

- केवल (a), (b) और (c)
- (a), (b), (c) और (d)
- केवल (b)
- केवल (a) और (b)

90. राष्ट्रीय शिक्षा नीति, 2020 में प्रारंभिक बाल्यावस्था देखभाल और शिक्षा की आयोजना और कार्यान्वयन का कार्य निम्नलिखित में से किन मंत्रालयों/विभागों द्वारा किया जाएगा ?

- शिक्षा मंत्रालय (पूर्व में मानव संसाधन विकास मंत्रालय)
- महिला और बाल विकास
- स्वास्थ्य और परिवार कल्याण
- जनजातीय कार्य

नीचे दिए गए कूट से सही उत्तर का चयन कीजिए :

- केवल (a), (b) और (c)
- (a), (b), (c), (d)
- केवल (a)
- केवल (a) और (b)



91. NEP 2020 aims to achieve universal foundational literacy and numeracy in primary schools by :

- (1) 2028
- (2) 2030
- (3) 2024
- (4) 2025

92. Which of the following National Assessment Centres for school education is proposed to be established as a standard-setting body under Ministry of Education (Former MHRD) by NEP 2020 ?

- (1) NAS
- (2) NTA
- (3) PARAKH
- (4) SAS

93. The decline and the fall of the Roman empire in 1776 was written by :

- (1) Edward Gibbon
- (2) Voltaire
- (3) David Hume
- (4) William Robertson

94. Which of the following sites is known with first ever evidence of canal irrigation ?

- (1) Dholavira
- (2) Shortughai
- (3) Harappa
- (4) Mohenjodaro

91. राष्ट्रीय शिक्षा नीति, 2020 का लक्ष्य किस वर्ष तक सार्वभौमिक मूलभूत साक्षरता और संख्या ज्ञान प्राप्त करने का है?

- (1) 2028
- ~~(2) 2030~~
- (3) 2024
- (4) 2025

92. राष्ट्रीय शिक्षा नीति, 2020 द्वारा शिक्षा मंत्रालय (पूर्व में मानव संसाधन विकास मंत्रालय) के अंतर्गत स्कूली शिक्षा के लिए एक मानक-निर्धारक निकाय के रूप में किस राष्ट्रीय मूल्यांकन केन्द्र की स्थापना करने का प्रस्ताव है?

- (1) एन ए एस
- (2) एन टी ए
- ~~(3) परख~~
- (4) एस-ए एस

93. दी डिक्लाइन एण्ड द फॉल ऑफ दी रोमन एम्पायर को 1776 में लिखने वाले थे :

- (1) एडवर्ड गिबबन
- (2) वोल्टेयर
- (3) डेविड ह्यूम
- (4) विलियम राबर्टसन

94. निम्नलिखित में से कौन सा स्थल नहर सिंचाई के प्रथम प्रमाण वाला जाना जाता है?

- (1) धोलावीरा
- ~~(2) शोतुघई~~
- (3) हड़प्पा
- (4) मोहनजोदाड़ो



Arrange the following stages of the Roman empire in chronological order :

- (i) Principate
- (ii) Republic
- (iii) Late empire
- (iv) Kingdom

Choose the correct answer from the code given below :

- (1) (iii), (i), (ii), (iv)
- (2) (i), (iii), (iv), (ii)
- (3) (iv), (ii), (i), (iii)
- (4) (ii), (iv), (iii), (i)

96. Nineveh was a city of ancient Assyria is located on the

- (1) Eastern bank of Euphrates River
- (2) Western bank of Euphrates River
- (3) Eastern bank of Tigris River
- (4) Western bank of Tigris River

97. The inscriptions with evidence of Indo-European language from Roman areas belong to which of the following century ?

- (1) 1600 BCE
- (2) 1400 BCE
- (3) 2100 BCE
- (4) 1900 BCE

95. रोमन साम्राज्य की निम्नलिखित अवस्थाओं को कालक्रमानुसार व्यवस्थित कीजिए :

- (i) प्रीसीपेट
- (ii) गणतन्त्र
- (iii) उत्तरवर्ती साम्राज्य
- (iv) बादशाही राज्य

नीचे दिए गए कूट से सही उत्तर का चयन कीजिए :

- (1) (iii), (i), (ii), (iv)
- (2) (i), (iii), (iv), (ii)
- (3) (iv), (ii), (i), (iii)
- (4) (ii), (iv), (iii), (i)

96. निन्वेह प्राचीन असीरिया का एक नगर था, जो स्थित है :

- (1) यूफ्रेट्स नदी के पूर्वी तट पर।
- (2) यूफ्रेट्स नदी के पश्चिमी तट पर।
- (3) टाइग्रिस नदी के पूर्वी तट पर।
- (4) टाइग्रिस नदी के पश्चिमी तट पर।

97. रोम के क्षेत्रों से हिन्द-यूरोपीय भाषायी प्रमाण वाले अभिलेख निम्नलिखित में से किस सदी से सम्बन्धित हैं ?

- (1) 1600 बी सी ई
- (2) 1400 बी सी ई
- (3) 2100 बी सी ई
- (4) 1900 बी सी ई

98. Arrange the following Harappan sites in order of their beginning of excavations.

- (i) Lothal
- (ii) Kalibanga
- (iii) Dholavira
- (iv) Harappa

Choose the correct answer from the code given below :

- (1) (iv), (i), (ii), (iii)
- (2) (ii), (iii), (iv), (i)
- (3) (ii), (iv), (i), (iii)
- (4) (iv), (ii), (iii), (i)

99. In which of the following millennium BCE agriculture became a common knowledge for food in Mesopotamia ?

- (1) 8000 BCE
- (2) 7000 BCE
- (3) 10000 BCE
- (4) 9000 BCE

100. "There is nothing that we know in pre-historic Egypt or Mesopotamia or anywhere else in Western Asia to compare with the well built baths and commodious houses of the citizens of Mohenjodaro".

Who made this statement ?

- (1) B.B. Lal
- (2) M.S. Vats
- (3) John Marshall
- (4) R.D. Banerji

98. निम्नलिखित हड़प्पीय पुरास्थलों को उनके उत्खनन के क्रम में व्यवस्थित कीजिए।

- (i) लोथल
- (ii) कालीबंगा
- (iii) धोलावीरा
- (iv) हड़प्पा

नीचे दिए गए कूट से सही उत्तर का चयन कीजिए :

- (1) (iv), (i), (ii), (iii)
- (2) (ii), (iii), (iv), (i)
- (3) (ii), (iv), (i), (iii)
- (4) (iv), (ii), (iii), (i)

99. निम्नलिखित में से किस सहस्राब्दी बी सी ई में मेसोपोटामिया में भोजन के लिए कृषि एक सर्वसाधारण ज्ञान बन गई ?

- (1) 8000 बी सी ई
- (2) 7000 बी सी ई
- (3) 10000 बी सी ई
- (4) 9000 बी सी ई

100. "प्रागैतिहासिक मिस्र अथवा मेसोपोटामिया या पश्चि एशिया में कहीं से भी प्राप्त वास्तु की तुलना हम मोहनजोद के निवासियों के विशाल आवासों एवं सुनिर्मित स्नाना से नहीं कर सकते।"

यह कथन किसका है ?

- (1) बी.बी. लाल
- (2) एम.एस. वत्स
- (3) जान मार्शल
- (4) आर.डी. बनर्जी



101. According to Jain tradition who among the following Kings, renounced the world and followed Acharya Bhadrabahu to a place in Karnataka ?

- (1) Chandragupta Maurya
- (2) Bindusara
- (3) Bimbisara
- (4) Ajatasatru

102. During Saka-Satavahana period exchange rate of Suvarna to Silver Karshapana in Deccan was :

- (1) 1 : 30
- (2) 1 : 35
- (3) 1 : 15
- (4) 1 : 20

103. Which one of the following statements regarding the Gupta queen Dhruvadevi is not correct ?

- (1) She was the mother of Kumaragupta
- (2) She was the mother of Prabhawati - gupta
- (3) She was the wife of Ramagupta
- (4) She was the wife of Chandragupta-II

104. Which of the following sites has produced evidence of horse from the first half of the second millennium BCE ?

- (1) Banawali
- (2) Piraq
- (3) Harappa
- (4) Mohenjodaro

101. जैन परम्परानुसार निम्नलिखित में से किस राजा ने संसार त्याग (राज-पाट छोड़कर) दिया एवं आचार्य भद्रबाहु का अनुकरण करते हुए कर्नाटक के एक स्थल पर चला गया ?

- (1) चन्द्रगुप्त मौर्य
- (2) बिन्दुसार
- (3) बिम्बिसार
- (4) अजातशत्रु

102. शक-सातवाहन काल में दक्कन में सुवर्ण का रजत कार्षापण से विनिमय दर निम्नवत् थी :

- (1) 1 : 30
- (2) 1 : 35
- (3) 1 : 15
- (4) 1 : 20

103. गुप्त रानी ध्रुवदेवी के संदर्भ में निम्नलिखित में से कौन-सा कथन सही नहीं है ?

- (1) वह कुमारगुप्त की माता थी।
- (2) वह प्रभावती गुप्ता की माता थी।
- (3) वह रामगुप्त की पत्नी थी।
- (4) वह चन्द्रगुप्त द्वितीय की पत्नी थी।

104. निम्नलिखित में से किस स्थल से दूसरी सहस्राब्दी बी सी ई के पूर्वार्द्ध से घोड़े के प्रमाण मिले हैं ?

- (1) बनावली
- (2) पिराक
- (3) हड़प्पा
- (4) मोहनजोदड़ो



105. On which of the following Asokan inscriptions his personal name Asoka occurs ?

- (i) Gujarrā
- (ii) Maski
- (iii) Nittur
- (iv) Udegolam

Select the correct answer from the code given below.

- (1) (i), (ii) and (iii) only
- (2) (i), (ii), (iii) and (iv)
- (3) (ii) only
- (4) (i) and (ii) only

106. In the Allahabad Stone Pillar Inscription who among the following is/are mentioned as "Mahadandanayaka".

- (i) Dhruvabhuti
- (ii) Hastivarman
- (iii) Tilabhāta
- (iv) Vyaghraraja

Choose the correct answer from the code given below.

- (1) (ii) and (iii) only
- (2) (i) and (iv) only
- (3) (i) only
- (4) (i) and (iii) only

107. The Brahmayajna included in the list of five Mahayajnas signifies :

- (1) The study of Vedic lore
- (2) Giving fruits, roots and food to Brahmanas everyday
- (3) Sacrifice in favour of Brahma
- (4) Meditation on Brahma, the ultimate reality

105. अशोक के निम्नलिखित अभिलेखों में से किसमें उसका व्यक्तिगत नाम अशोक प्राप्त होता है ?

- (i) गुजरा
- (ii) मस्की
- (iii) नितूर
- (iv) उदेगोलम्

नीचे दिये गये कूट की सहायता से सही उत्तर का चयन कीजिए।

- (1) केवल (i), (ii) और (iii)
- (2) (i), (ii), (iii) और (iv)
- (3) केवल (ii)
- (4) केवल (i) और (ii)

106. निम्नलिखित में से कौन-इलाहाबाद प्रस्तर स्तंभ लेख में 'महादण्डनायक' के रूप में वर्णित है/हैं।

- (i) ध्रुवभूति
- (ii) हस्तिवर्मन
- (iii) तिलभट्ट
- (iv) व्याघ्रराज

नीचे दिये गए कूट की सहायता से सही उत्तर का चयन कीजिए।

- (1) केवल (ii) और (iii)
- (2) केवल (i) और (iv)
- (3) केवल (i)
- (4) केवल (i) और (iii)

107. पंच महायज्ञों में सम्मिलित ब्रह्मयज्ञ का तात्पर्य है :

- (1) वेदिक ग्रंथों का स्वाध्याय
- (2) प्रतिदिन ब्राह्मणों को फल-मूल एवं भोजन
- (3) ब्रह्मा के लिए यज्ञ
- (4) परमतत्त्व ब्रह्म का ध्यान



108. ...on, the Mahabharata was recited in public for the first time at the occasion of great sacrifice held by :

- (1) King Janamejaya
- (2) King Bharata
- (3) King Yuddhisthira
- (4) King Parikshita

109. Buddha spent his maximum rainy seasons in which place ?

- (1) Vaishali
- (2) Sravasti
- (3) Varanasi
- (4) Kapilavastu

110. Which of the following texts gives evidence of the prevalence of polyandry in early societies ?

- (i) Ramayana
- (ii) Mahabharata
- (iii) Buddhacharita
- (iv) Divyavadana

Choose the correct answer from the code given below :

- (1) (i), (ii) and (iii) only
- (2) (i), (ii), (iii) and (iv)
- (3) (i) only
- (4) (ii) only

108. परम्परानुसार महाभारत का सार्वजनिक पाठ एक महान यज्ञ के अवसर पर प्रथम बार किया गया था, इस यज्ञ के आयोजनकर्ता थे :

- (1) राजा जनमेजय
- (2) राजा भरत
- (3) राजा युधिष्ठिर
- (4) राजा परीक्षित

109. बुद्ध ने अपना सर्वाधिक वर्षावास निम्नलिखित में से किस स्थल पर व्यतीत किया था ?

- (1) वैशाली
- (2) श्रावस्ती
- (3) वाराणसी
- (4) कपिलवस्तु

110. निम्नलिखित ग्रंथों में से किसमें प्रारम्भिक समाजों में बहुपति प्रथा का प्रमाण प्राप्त होता है ?

- (i) रामायण
- (ii) महाभारत
- (iii) बुद्धचरित
- (iv) दिव्यावदान

नीचे दिये गये कूट की सहायता से सही उत्तर का चयन कीजिए :

- (1) केवल (i), (ii) और (iii)
- (2) (i), (ii), (iii) और (iv)
- (3) केवल (i)
- (4) केवल (ii)

111. Which of the following inscriptions mentions the Mahabharata as a Satasahasri Samhita ?

- (1) Khoh Copper-plate of Maharaja Sankshobha, Year 209
- (2) Khoh Copper-plate of Maharaja Jayanatha, Year 177
- (3) Khoh Copper-plate of Maharaja Sarvanatha, Year 214
- (4) Khoh Copper-plate of Maharaja Hastin, Year 163

112. The relics of Sariputra and Mahamoggallana, the disciples of the Buddha, are said to have been placed in :

- (1) Amaravati Stupa
- (2) Bharahut Stupa
- (3) Sanchi Stupa No. 1
- (4) Sanchi Stupa No. 3

113. Who among the following expounded the concept of Wahdat al-Wujud (Unity of Being) ?

- (1) Al-Junaid
- (2) Al-Ghazali
- (3) Ibn al-Arabi
- (4) Al-Mamun

114. Which of the following are Jain sects ?

- (i) Mahisasaka
- (ii) Vatsiputriya
- (iii) Kurchaka
- (iv) Yapaniya

Select the correct answer from the code given below :

- (1) (i) and (ii) only
- (2) (iii) and (iv) only
- (3) (i) and (iii) only
- (4) (ii) and (iii) only

111. निम्नलिखित अभिलेखों में से कौन-सा महाभारत को शतसाहस्री संहिता के रूप में वर्णित करता है?

- (1) महाराज संक्षोभ का खोह ताम्रपत्र, वर्ष 209
- (2) महाराज जयनाथ का खोह ताम्रपत्र, वर्ष 177
- (3) महाराज सर्वनाथ का खोह ताम्रलेख, वर्ष 214
- (4) महाराज हस्तिन का खोह ताम्रपत्र, वर्ष 163

112. बुद्ध के शिष्यों सारिपुत्र एवं महामोगल्लान के शरीरधातु (relics) निम्नलिखित में से कहाँ प्रतिष्ठित माने जाते हैं?

- (1) अमरावती स्तूप
- (2) भरहुत स्तूप
- (3) सांची स्तूप संख्या 1
- (4) सांची स्तूप संख्या 3

113. वहदत अल-वुजूद (एकत्व) की अवधारणा के प्रतिपादक कौन थे ?

- (1) अल-जुनैद
- (2) अल-गज़ाली
- (3) इब्न अल-अरबी
- (4) अल-मामून

114. निम्नलिखित में से कौन जैन सम्प्रदाय हैं ?

- (i) महीशासक
- (ii) वात्सीपुत्रीय
- (iii) कूर्चक
- (iv) यापनीय

नीचे दिये गये कूट की सहायता से सही उत्तर का चयन कीजिए :

- (1) केवल (i) और (ii)
- (2) केवल (iii) और (iv)
- (3) केवल (i) और (iii)
- (4) केवल (ii) और (iii)



15. Which of the following sources indicates the early worship of both Vasudeva and Samkarshana ?

- (i) Buddhist text Niddesa
- (ii) Ghosundi inscription of King Sarvatata
- (iii) Nanaghat cave inscription of Naganika
- (iv) Coins of Agathoclese

Choose the correct answer from the code given below :

- (1) (ii), (iii) and (iv) only
- (2) (i), (ii), (iii) and (iv)
- (3) (i) and (ii) only
- (4) (ii) and (iii) only

6. Match List-I with List-II and select correct answer from the code given below.

List-I (Inscription)	List-II (Religion)
(a) Mathura Pillar Inscription of Chandragupta-II	(i) Jaina
(b) Sanchi Inscription of Chandragupta-II	(ii) Baudha
(c) Mandasor Inscription of Kumaragupta-I	(iii) Pasupata
(d) Kahauma Inscription of Skandagupta	(iv) Saura

Code :

- | | | | | |
|-----|-------|------|-------|-------|
| | (a) | (b) | (c) | (d) |
| (1) | (iii) | (ii) | (iv) | (i) |
| (2) | (ii) | (i) | (iv) | (iii) |
| (3) | (i) | (ii) | (iii) | (iv) |
| (4) | (iii) | (i) | (ii) | (iv) |

115. निम्नलिखित में से किन स्रोतों से वासुदेव एवं संकर्षण दोनों की प्रारम्भिक उपासना प्रतिबिम्बित होती है ?

- (i) बौद्ध ग्रंथ निद्देस
- (ii) राजा सर्वतात का घोषुण्डी अभिलेख
- (iii) नगनिका का नानाघाट गुहा लेख
- (iv) अगाथोकलीज के सिक्के

नीचे दिए गये कूट की सहायता से सही उत्तर का चयन कीजिए :

- (1) केवल (ii), (iii) और (iv)
- (2) (i), (ii), (iii) और (iv)
- (3) केवल (i) और (ii)
- (4) केवल (ii) और (iii)

116. सूची-I को सूची-II से सुमेलित कीजिए तथा नीचे दिये गए कूट की सहायता से सही उत्तर का चयन कीजिए।

सूची-I (अभिलेख)	सूची-II (धर्म)
(a) चन्द्रगुप्त-द्वितीय कालीन मथुरा स्तंभ लेख	(i) जैन
(b) चन्द्रगुप्त-द्वितीय कालीन सांची अभिलेख	(ii) बौद्ध
(c) कुमारगुप्त-प्रथम कालीन मंदसोर अभिलेख	(iii) पाशुपत
(d) स्कंदगुप्त कालीन कहौम अभिलेख	(iv) सौर

कूट :

- | | | | | |
|-----|-------|------|-------|-------|
| | (a) | (b) | (c) | (d) |
| (1) | (iii) | (ii) | (iv) | (i) |
| (2) | (ii) | (i) | (iv) | (iii) |
| (3) | (i) | (ii) | (iii) | (iv) |
| (4) | (iii) | (i) | (ii) | (iv) |

117. Who among the following was the earliest woman sufi in India mentioned in Akhabar al-Akhyar ?

- (1) Bibi Sara
- (2) Bibi Rasti
- (3) Bibi Fatima Sam
- (4) Bibi Sharifa

118. Match List-I with List-II and select the correct answer from the code given below :

List-I (Writer)	List-II (Sufi Work)
(a) Abdul Haqq Muhaddis Dehlawi	(i) Fawaid al-Fuad
(b) Amir Hasan Sijzi	(ii) Siyar al-Awliya
(c) Hamid Qalandar	(iii) Khair al-Majalis
(d) Amir Khwurd	(iv) Akhabar al-Akhyar

Code :

- | | | | |
|-----|-------|-------|-------|
| (a) | (b) | (c) | (d) |
| (1) | (iv) | (iii) | (i) |
| (2) | (iii) | (ii) | (iv) |
| (3) | (iv) | (i) | (iii) |
| (4) | (i) | (ii) | (iii) |

117. अखबार अल-अख्यार में उल्लिखित भारत में पहली सूफी महिला निम्नलिखित में से कौन सी थीं ?

- (1) बीबी सारा
- (2) बीबी रस्ती
- (3) बीबी फातिमा साम
- (4) बीबी शरीफा

118. सूची-I को सूची-II से सुमेलित कीजिए एवं नीचे दिए कूट से सही उत्तर का चयन कीजिये।

सूची-I (लेखक)	सूची-II (सूफी ग्रंथ)
(a) अब्दुल हक मुहम्मदिस देहलवी	(i) फवायद अल-फुआद
(b) अमीर हसन सिज्जी	(ii) सियार अल-औलिया
(c) हमीद कलंदर	(iii) खैर अल-मजालिस
(d) अमीर खुर्द	(iv) अखबार अल-अख्यार

कूट :

- | | | | |
|-----|-------|-------|-------|
| (a) | (b) | (c) | (d) |
| (1) | (iv) | (iii) | (i) |
| (2) | (iii) | (ii) | (iv) |
| (3) | (iv) | (i) | (iii) |
| (4) | (i) | (ii) | (iii) |



119. Match term Zamindari replacing or alternating the local terms in the seventeenth century given in List-I with their respective regions given in List-II and choose the correct answer from the code given below the lists :

List-I (Local Terms)	List-II (Region)
(a) Khots and Muqaddams	(i) Rajasthan
(b) Satarahi and Biswi	(ii) Gujarat
(c) Bhoni/Bhumia	(iii) Doab
(d) Bant/Vanth	(iv) Awadh

Code :

(a)	(b)	(c)	(d)
(1) (iii) (iv) (i) (ii)			
(2) (iv) (iii) (ii) (i)			
(3) (iv) (i) (ii) (iii)			
(4) (ii) (iii) (iv) (i)			

120. A rapid courier system established by Chengiz Khan was known as :

- Qubcur
- Yam
- Gerege
- Anda

121. Who among the following compiled Dadu's hymns and poems known as *Banis* ?

- Tila Jat
- Mohan Daftari
- Rajjab Das
- Sundar Das the younger

Choose the correct answer from the code given below :

- (iii) and (iv) only
- (i), (ii), (iii) and (iv)
- (iii) only
- (iv) only

119. सूची-I में जमींदारी शब्द को सत्रहवीं शताब्दी में स्थानीय शब्दों से बदलने या प्रतिस्थापित करने का सूची-II में दिए गए उनके संबंधित क्षेत्रों से मिलान कीजिए और नीचे दिए गए कूट में से सही उत्तर का चयन कीजिए।

सूची-I (स्थानीय शब्द)	सूची-II (क्षेत्र)
(a) खोत और मुकदम	(i) राजस्थान
(b) सतराही और बिस्वी	(ii) गुजरात
(c) भोमि/भोमिया	(iii) दोआब
(d) बंठ/वंठ	(iv) अवध

कूट

(a)	(b)	(c)	(d)
(1) (iii) (iv) (i) (ii)			
(2) (iv) (iii) (ii) (i)			
(3) (iv) (i) (ii) (iii)			
(4) (ii) (iii) (iv) (i)			

120. चंगेज खान द्वारा स्थापित द्रुत हरकारा पद्धति को कहा जाता था :

- कुबकुर
- यम
- जेरेज
- अंद

121. निम्नलिखित में से किसने दादू के भजनों और कविताओं, जिन्हें *बानी* कहा जाता है, को संकलित किया ?

- तिला जाट
- मोहन दफ्तरी
- रज्जब दास
- सुंदर दास दि यंगर

नीचे दिए गए कूट से सही उत्तर का चयन कीजिए :

- केवल (iii) और (iv)
- (i), (ii), (iii) और (iv)
- केवल (iii)
- केवल (iv)



122. Which one of the following statements about Vallabha sampradaya in the Mathura region is NOT correct ?

- (1) Radha was made predominant in Vallabha system by Vitthalnath
- (2) Vallabha established a centre at Gokul where he gathered a group of singers and poets known as *Asht-chhap*
- (3) Vallabha established Srinath temple at Govardhan Hill
- (4) Vallabha almost ignored Radha

123. Who among the following was the first Mongol Il-Khanid ruler to convert to Islam ?

- (1) Jochi
- (2) Guyuk
- (3) Ghazan Khan
- (4) Qublai Khan

124. Assembly by Mongol chieftains was known as :

- (1) Ulus
- (2) Tama
- (3) Quriltai
- (4) Qa'an

125. Who among the following travellers mentions 'Mahanavami Dibba' as 'House of Victory' ?

- (1) Nicolo Conti
- (2) Fernao Nuniz
- (3) Domingo Paes
- (4) Abdur Razzaq

122. मथुरा क्षेत्र में वल्लभ संप्रदाय के बारे में निम्नलिखित में से कौन सा कथन सही नहीं है ?

- (1) विठ्ठलनाथ ने वल्लभ सम्प्रदाय में राधा को प्रमुखता प्रदान की।
- (2) वल्लभ ने गोकुल में एक केन्द्र की स्थापना की जहाँ उन्होंने अष्ट छाप के नाम से प्रसिद्ध गायकों और कवियों का एक समूह एकत्र किया।
- (3) वल्लभ ने गोवर्धन पर्वत पर श्रीनाथ मंदिर की स्थापना की थी।
- ~~(4)~~ वल्लभ ने राधा की प्रायः उपेक्षा की।

123. निम्नलिखित में से इस्लाम धर्म को अपनाने वाला पहला मंगोल इल-खानी शासक कौन था ?

- (1) जोची
- (2) गुयुक
- ~~(3)~~ गज़न खान
- (4) कुबलई खान

124. मंगोल सरदारों की परिषद् को क्या कहा जाता था ?

- (1) उलूस
- (2) तामा
- ~~(3)~~ कुरिलताई
- (4) काआन

125. निम्नलिखित में से किस यात्री ने 'महानवमी डिब्बा' को 'विजय का भवन' कहा है ?

- (1) निकोलो कोन्टी
- (2) फर्नाओ नूनिज़
- ~~(3)~~ डोमिंगो पायस
- (4) अब्दुर रज़्ज़ाक



6. "In India the postal system is of two kinds. The horse-post called uluq, is run by royal horses stationed at a distance of every four miles. The foot-post has three stations per mile, it is called dawa, that is one third of a mile".

Identify the narrator traveller.

- (1) Francois Bernier
- (2) Duarte Barbosa
- (3) Al-Biruni
- (4) Ibn Battuta

7. Consider the following statements :

- (i) Hampi is the tiny hamlet grew around the Pampapati temple on the southern bank of Tungabhadra.
- (ii) The town of Anegundi formed the northern outpost of the city of Vijayanagara while Kampli was its easternmost outpost.
- (iii) The town of Hospet was built by Krishnadevaraya in honour of Nagala Devi and named after her Nagalapura which remained his favourite residence all through.
- (iv) About the roadway between the inner citadel at Hampi and the suburb of Nagalapura, Domingo Paes records that it was 'a street as wide as a place of tourney with both sides lined rows of houses and shops.'

Choose the **correct** answer from the code given below :

- (1) (ii), (iii) and (iv) only
- (2) (i), (ii), (iii) and (iv)
- (3) (iv) only
- (4) (iii) and (iv) only

126. "भारत में दो प्रकार की डाक व्यवस्था है। अश्व डाक व्यवस्था जिसे उलुक कहा जाता है, यह चार मील की दूरी पर स्थापित राजकीय घोड़ों द्वारा चालित होती थी। पैदल डाक व्यवस्था के प्रति मील तीन अवस्थान होते हैं, इसे दावा कहा जाता है और यह मील का एक-तिहाई होता है।"

वर्णनकर्ता यात्री की पहचान कीजिए।

- (1) फ्राँस्वा बर्नियर
- (2) दुआर्त बारबोसा
- (3) अल-बरुनी
- (4) इब्न बतूता

127. निम्नलिखित कथनों पर विचार कीजिए :

- (i) हम्पी तुंगभद्रा नदी के दक्षिणी किनारे पर पम्पापति मंदिर के आसपास बसी एक छोटी सी बस्ती है।
- (ii) अनेगुंडी शहर विजयनगर शहर की उत्तरी सीमा चौकी थी जबकि कांपली इसकी पूर्वी सीमा चौकी थी।
- (iii) होस्पेट शहर का निर्माण कृष्णदेवराय ने नागला देवी के सम्मान में कराया था और उसका नाम नागलापुर रखा था जो सदैव उनका पसंदीदा निवास स्थान रहा।
- (iv) हम्पी में आंतरिक किले और नागलापुर उपनगर के बीच सड़क मार्ग के बारे में डोमिंगो पायस यह वर्णन करता है कि "यह सैनिक अभ्यास प्रशिक्षण जैसे स्थान की तरह एक चौड़ी सड़क थी जिसके दोनों ओर मकानों और दुकानों की पंक्तिबद्ध कतारें थी।"

नीचे दिए गए कूट से सही उत्तर का चयन कीजिए :

- (1) केवल (ii), (iii) और (iv)
- (2) (i), (ii), (iii) और (iv)
- (3) केवल (iv)
- (4) केवल (iii) और (iv)



128. "In India a village must be very small indeed if it has not a money changer called a shroff". Identify the narrator-traveller.

- (1) Jean Baptiste Tavernier
- (2) Sir Thomas Roe
- (3) Duarte Barbosa
- (4) Ralph Fitch

129. Shah Jahan openly favoured his eldest son Dara Shukoh. At the cost of 32 lakh rupees more than the Mughals had ever spent on a wedding the royal family put on such spectacle. According to European observer, the awe inspiring firework display stretched half a mile across the Agra sky. Identify the observer.

- (1) Peter Mundy
- (2) Jean Baptiste Tavernier
- (3) Francois Bernier
- (4) Jean de Thevenot

130. Which one of the following missionaries was sent by the Portuguese to propagate Christianity in Bengal ?

- (1) Sebastian Manrique
- (2) Father Thomas Stephens
- (3) Rudolph Acquaviva
- (4) John Mildenhall

128. "भारत में वे गाँव बहुत ही छोटे कहे जायेंगे जिनमें मुद्रा को फेरबदल करनेवाले, जिन्हें सर्राफ कहा जाता है, न हों।" वर्णनकर्ता यात्री की पहचान करें।

- ☒ (1) जाँ बैप्टिस्ट टैवर्नियर
- (2) सर थॉमस रो
- (3) दुआर्त बारबोसा
- (4) राल्फ फिच

129. शाहजहाँ ने खुलकर अपने ज्येष्ठ पुत्र को अनुग्रहित किया था। 32 लाख रुपया से अधिक रुपया जो इससे पहले किसी भी मुगल खानदान के शाही विवाह के विशाल समारोह में खर्च नहीं हुआ था, पहली बार खर्च किया गया था। एक यूरोपीय प्रेक्षक का कहना था कि करीब आधी मील दूर तक आगरा के आसमान में आतिशबाजी का भव्य प्रदर्शन लोगों ने देखा। इस प्रेक्षक का नाम बताएँ।

- (1) पीटर मण्डी
- ☒ (2) जाँ बैप्टिस्ट टैवर्नियर
- ☒ (3) फ्राँस्वा बर्नियर
- (4) जाँ दे थीवनो

130. निम्नलिखित में से किस मिशनरी को पुर्तगालियों द्वारा बंगाल में ईसाई धर्म का प्रसार करने हेतु भेजा गया था?

- (1) सेबेस्टियन मेनरीक्र
- (2) फादर थॉमस स्टीफन्स
- (3) रुडोल्फ एक्वाविवा
- ☒ (4) जॉन मिल्डेनहाल



PART - VI
GENERAL ENGLISH

131. Fill in the blank in the following sentence with the help of given options.
The train was about to leave the station when we _____ there.

- (1) reached
- (2) have reached
- ~~(3) had reached~~
- (4) would reach

132. Choose the option in which the following sentence has been changed into passive voice.
His attitude vexes me sometimes.

- (1) I am vexed at his attitude. ✓
- (2) I am sometimes vexed at his attitude. ✓
- ~~(3) I am vexed by his attitude.~~
- ~~(4) I am vexed by his attitude sometimes.~~

Directions for question number 133 to 135 :

Fill in the blank in each of the following sentences with the help of given options.

133. Nitin as well as his friend Ramesh _____ coming to the party.

- (1) were
- (2) have been
- ~~(3) is~~
- (4) are

134. Today, the need of common man _____ just bread and butter.

- (1) was
- (2) were
- ~~(3) is~~
- (4) are

135. Mrs. Kanwal is _____ Principal of this school.

- ~~(1) the~~
- (2) no article
- (3) a
- (4) an

136. Choose the option in which the following words/phrases have been rearranged to form a correct sentence.

- (A) people gave him support *from him*
- (B) President
- (C) him support
- (D) him
- (E) having elected

- (1) (C), (B), (A), (D), (E) ✓
- ~~(2) (E), (D), (B), (A), (C)~~
- (3) (A), (C), (B), (E), (D)
- (4) (B), (D), (C), (E), (A) ✗

Directions for question number 137 and 138 :

Fill in the blanks in the following sentences with the help of options that follow each of them.

137. Can you tell me how the accident _____ ?

- (1) came up
- (2) came by
- ~~(3) came down~~
- (4) came about

138. The witness will _____ what I have said.

- (1) bear out
- (2) bear with
- (3) bear on
- ~~(4) bear up~~

139. The troops were ordered to mobilise.

Choose the word which is nearly opposite in meaning to the underlined word.

- (1) convene
- (2) line up
- (3) retreat
- ~~(4) dismiss~~

140. He delivered the speech with great aplomb.

Which of the following words can correctly replace the underlined word in the above sentence ?

- (1) apprehension
- (2) disquiet
- (3) diffidence
- ~~(4) confidence~~



PART - VI GENERAL HINDI

प्रश्न संख्या 141 से 143 के लिये निर्देश :

निम्नलिखित गद्यांश को ध्यानपूर्वक पढ़कर उसपर आधारित प्रश्न के सटीक उत्तर दीजिए :

करुणा अपना बीज अपने ओलंबन या पात्र में नहीं फेंकती है अर्थात् जिस पर करुणा की जाती है वह बदले में करुणा करनेवाले पर भी करुणा नहीं करता-जैसा कि क्रोध और प्रेम में होता है - बल्कि कृतज्ञ होता है अथवा श्रद्धा या प्रीति करता है। बहुत सी औपन्यासिक कथाओं में यह बात दिखाई गई है कि युवतियाँ दुष्टों के हाथ से अपना उद्धार करनेवाले युवकों के प्रेम में फँस गई हैं। कोमल भावों की परिकल्पना करना सदैव सहज और सरल नहीं होता है।

141. किसकी परिकल्पना करना सदैव सहज और सरल नहीं होता है?

- (1) श्रेष्ठ अनुभवों की
- (2) सहज अनुभूतियों की
- (3) भविष्य में उन्नति की
- (4) कोमल भावों की

142. जिस पर करुणा की जाती है वह करुणा पाकर :

- (1) लाचार होता है।
- (2) प्रीतिकर नहीं होता है।
- (3) कृतज्ञ होता है।
- (4) निराश होता है।

143. करुणा करने वाले पर भी करुणा कौन नहीं करता है?

- (1) जिस पर करुणा की जाती है
- (2) प्रेमी
- (3) श्रद्धालु
- (4) दयालु

144. 'अक्ल का दुश्मन' मुहावरे का सटीक अर्थ है :

- (1) बुरा व्यक्ति
- (2) विद्वान का दुश्मन
- (3) मूर्ख व्यक्ति
- (4) ईर्ष्यालु व्यक्ति

145. निम्नलिखित में से द्वन्द्व समास वाला शब्द नहीं है :

- (1) कामकाज
- (2) ध्यानमग्न
- (3) घासफूस
- (4) लुटमार

146. निम्नलिखित विलोमार्थी शब्द-युग्मों में असंगत है :

- (1) हास-वृद्धि
- (2) लुप्त-स्पष्ट
- (3) हार-जीत
- (4) हर्ष-विषाद

147. 'सप्ताह में एक बार प्रकाशित होने वाला' के लिए एक शब्द है :

- (1) मासिक
- (2) अर्द्ध मासिक
- (3) साप्ताहिक
- (4) पाक्षिक

148. निम्नलिखित में वर्तनी की दृष्टि से अशुद्ध शब्द है :

- (1) बाण
- (2) यजमान
- (3) बनस्पति
- (4) बाह्य

149. निम्नलिखित में विसर्ग संधि वाला शब्द है :

- (1) सज्जन
- (2) उच्चारण
- (3) तुल्लीन
- (4) निष्फल

150. निम्नलिखित में पक्षी का पर्यायवाची नहीं है :

- (1) नभचर
- (2) निशिचर
- (3) अंडज
- (4) पखेरू

- o o o -

